

اختبار الشهر الأول لمادة الرياضيات الصف الأول  
لعام 2022/2021

اسم الطالب/ة: \_\_\_\_\_

10 علامات

السؤال الأول : جد ناتج يلي:

$$78 - 32 =$$

$$22 + 15 =$$

$$51 + 46 =$$

$$90 - 40 =$$

28

31 +

57

--21

94

2 +

77

11 +

68

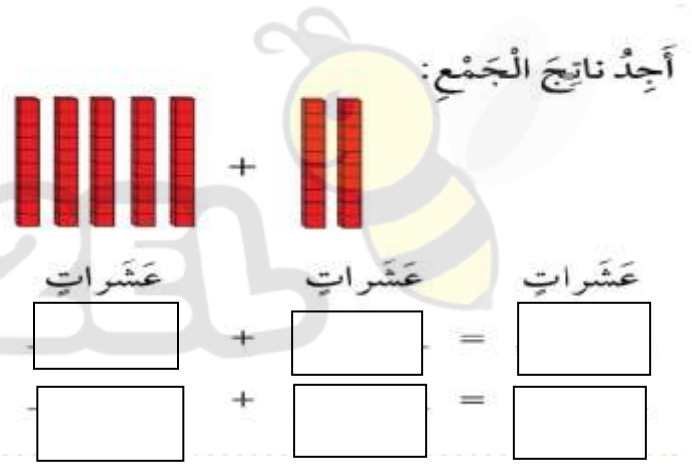
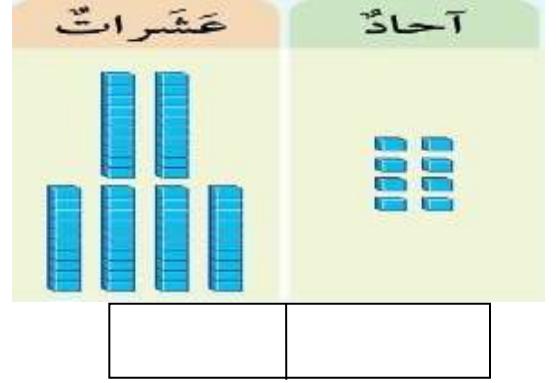
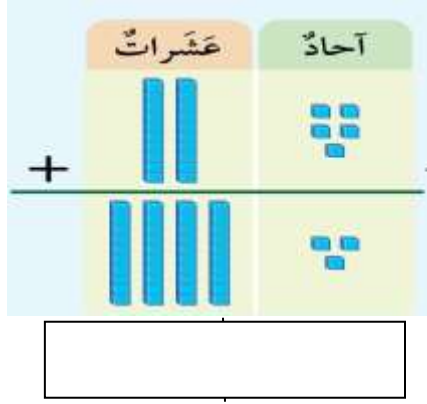
--47

02

07 +

4 علامات

السؤال الثاني :- اجب عما يلي :-



السؤال الثالث: اكتب الصورة التحليلية للعدد التالي: علامة

$$84 = \underline{\quad} + \underline{\quad}$$

السؤال الرابع :- ضع اشارة ( > ) او ( < ) او ( = ) 5 علامات

50

54

85

67

19

21

47

47