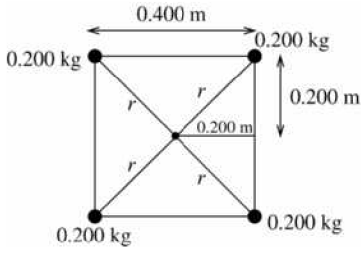
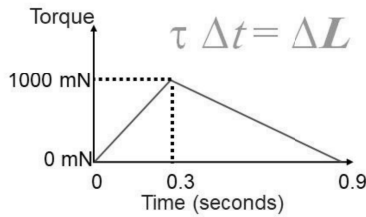


ورقة العمل رقم (1)



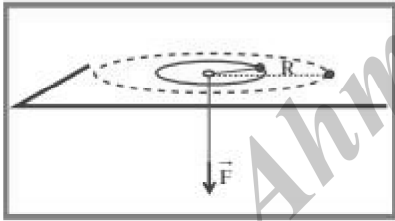
- (1) في الشكل التالي وضعت أربعة كتل متماثلة على رؤوس مربع الموضحة ابعاده في الشكل ؟
1-جد عزم القصور الذاتي حول محور يمر في المركز
2-جد عزم القصور الذاتي حول محور يمر في كتلتين من الكتل .

- (2) الشكل التالي يمثل منحني العزم و الزمن بالاستعانة به جد مقدار التغير في الزخم الزاوي في الفترات التالية :



- 3-0 -1
9-3 -2
9-0 -3
4- جد العزم المتوسط

- (3) تدور كرة صغيرة كتلتها 100g مربوطة بخيط مهمل الكتلة، يمرّ طرفه الآخر في ثقب، على سطح أفقي أملس في مسار دائري نصف قطره $r = (60)\text{cm}$ بسرعة مماسية ثابتة المقدار $v = (2.8)\text{m/s}$ (شكل 1). خلال لحظة t ، يُشدّ بالخيط ليصبح نصف قطر المسار الدائري $r' = (30)\text{cm}$.
أحسب مقدار السرعة الزاوية النهائية للكرة بعد شد الخيط .



- (4) كتلتان لهما القصور الذاتي الدوراني نفسه $I = (4 \times 10^{-3})\text{kg.m}^2$ تدوران حول محور، تدور الأولى بسرعة زاوية تساوي $(5)\text{rad/s}$ بالاتجاه الموجب، بينما تدور الثانية بالاتجاه المعاكس بسرعة زاوية تساوي $(8)\text{rad/s}$. أحسب:
(أ) كمية الحركة الزاوية لكل من الكتلتين.
(ب) كمية الحركة الزاوية للنظام .

- (5) (أ) أحسب كمية الحركة الزاوية لكرة من الحديد كتلتها $(5)\text{kg}$ تتأرجح في دائرة أفقيًا بسرعة $(3)\text{m/s}$ عند نهاية حبل طوله $(4)\text{m}$.
(ب) ما مقدار كمية الحركة الزاوية عند مضاعفة كل من السرعة وطول الخيط ؟