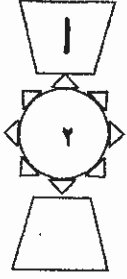
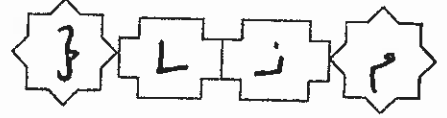


بِسْمِ اللَّهِ الرَّحْمَنِ الرَّحِيمِ



المملكة الأردنية الهاشمية  
وزارة التربية والتعليم  
إدارة الامتحانات والاختبارات  
قسم الامتحانات العامة



## امتحان شهادة الدراسة الثانوية العامة لعام ٢٠١٥ / الدورة الصيفية

(وثيقة عمية/محدود)

مدة الامتحان : ٣٠ : ١

اليوم والتاريخ : الخميس ٢٥/٦/٢٠١٥

المبحث : الجغرافيا / المستوى الثالث + الجغرافيا الإضافية  
الفرع : الأدبي + الفندقية والسياحي (نفس الورقة الامتحانية)

ملحوظة : أجب عن الأسئلة الآتية جميعها وعددها (٥)، علماً بأن عدد الصفحات (٣).

السؤال الأول : (١٦ علامة)

عرّف المفاهيم والمصطلحات الآتية:

١- الخرائط الطبوغرافية.

٢- درجة الانحدار.

٣- النهر.

٤- المراوح الفيضية.

٥- الأمن القومي العربي.

٦- مستلزمات الإنتاج.

٧- صناعات قادة التوطن.

٨- ارسابات اللوس.

السؤال الثاني : (١٥ علامة)

فستر ما يأتي:

١- تُعد الحدود السياسية ظاهرة بشرية.

٢- تتغير أحجام الصخور بتعاقب الحرارة والبرودة.

٣- اختيار الأنهار كمؤشر على شدة تقطع سطح الأرض.

٤- نشأة الحماد في المناطق الجافة ذات السطح المنبسط.

(٤ علامات)

(٤ علامات)

(٣ علامات)

(٤ علامات)

يتبع الصفحة الثانية/ !!!

## الصفحة الثالثة

السؤال الثالث : ( ٢٠ علامة)

(١٠ علامات)

(أ) أعطِ مثالاً لكل مما يأتي:



١- منظمة عالمية سياسية.

٢- منظمة إقليمية.

٣- صناعات تحويلية عربية.

٤- دولة تحتوي على توازن عرقي بين مجموعتين عرقيتين.

٥- أحواض نفطية عربية.

(ب) انقل إلى دفتر إجابتك الجدول أدناه، ثم صنّف ما يأتي بما يناسبه في الجدول ( إقليم الغابات المطيرة، نפט، فحم حجري، أراضي ما بين الأودية، الولايات المتحدة الأمريكية، الحافلات الصاعدة للحتية ). (١٠ علامات)

إقليم سياسي	إقليم جغرافي	مصادر طاقة غير متجددة	أشكال أرضية متبقية	أشكال أرضية ناتجة عن عاملين

السؤال الرابع : ( ١٨ علامة)

(أ) انكر:

(٤ علامات)

١- أربعا من سبل تحقيق الأمن المائي العربي.

(٤ علامات)

٢- أشكال الإرساب النهري.

(٣ علامات)

(ب) ما أبرز إنجازات ابن سينا في الفكر الجيومورفولوجي ؟

(ج) وضّح:

١- أثر انخفاض نسبة الاكتفاء الذاتي من المواد الغذائية الرئيسة على الأمن الخارجي للوطن العربي.

(٤ علامات)

(٣ علامات)

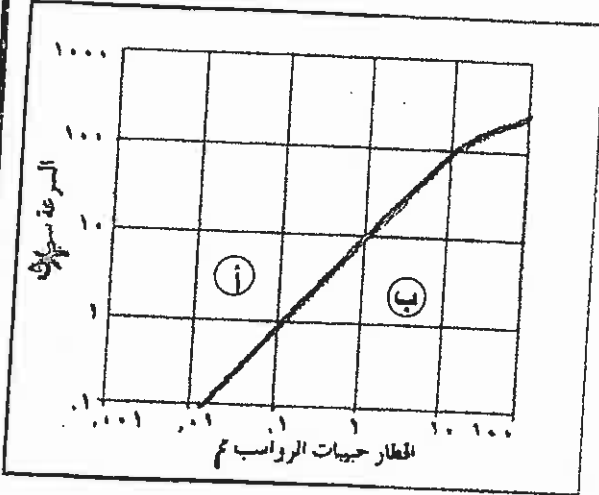
٢- العلاقة بين علم الجيومورفولوجيا والخرائط الطبوغرافية.

يتبع الصفحة الثالثة / ،،،،

الصفحة الثالثة

السؤال الخامس: (١١ علامة)

(٣ علامات)



أ) ادرس الشكل المجاور، ثم أجب عن الأسئلة التي تليه:

١- ماذا تسمى العملية المشار إليها بالرمز (أ).

٢- ماذا تسمى العملية المشار إليها بالرمز (ب).

٣- ما مقدار السرعة الحرجة لراسب حجمه ١ ملم.



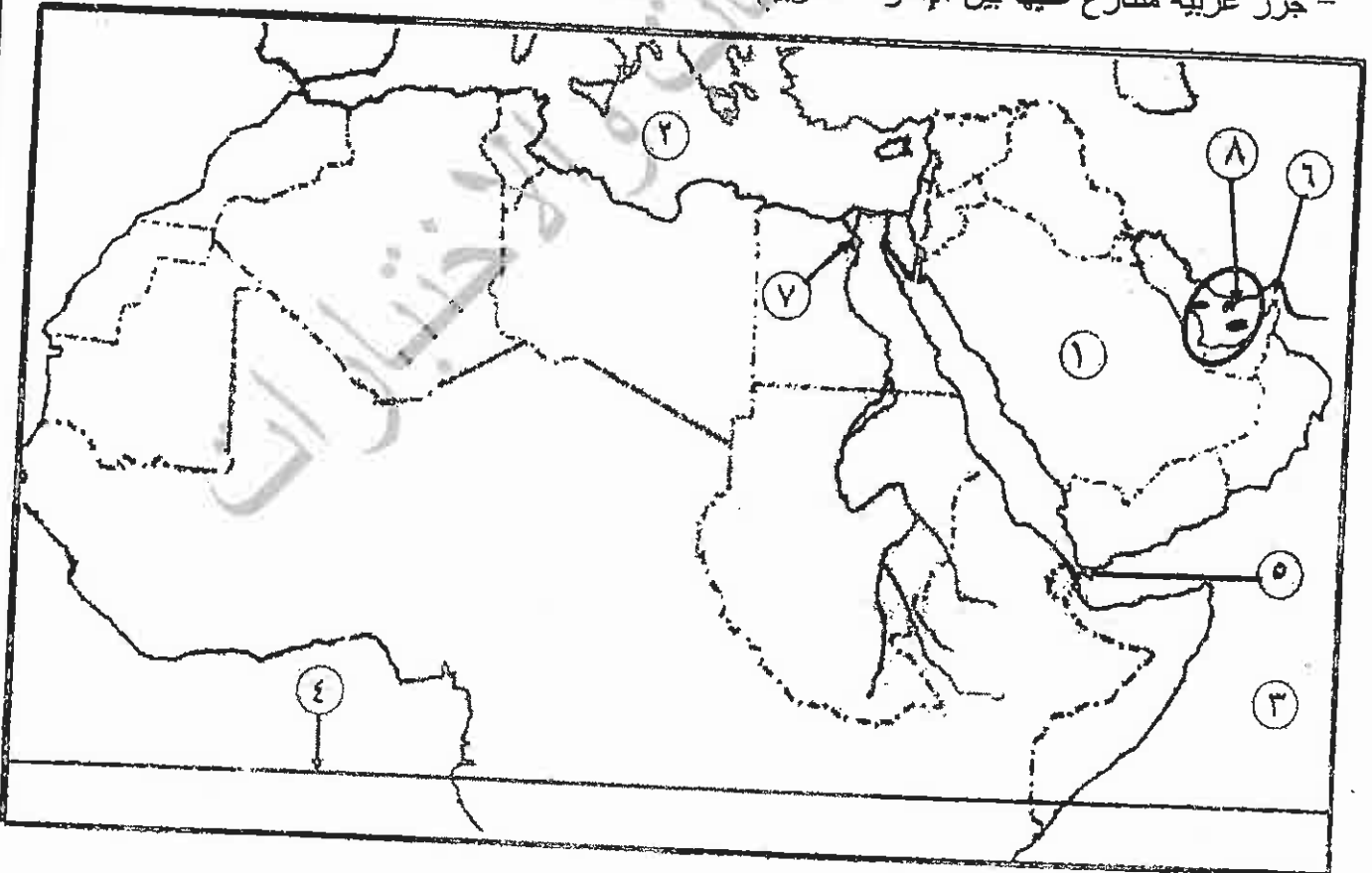
(٨ علامات)

ب) ادرس خريطة العالم أدناه، ثم اكتب في دفتر إجابتك ما تشير إليه الأرقام الآتية:

- دولة عكلت حدودها مع الأردن (١). - مسطحات مائية (٢، ٣). - دائرة عرض رئيسة (٤).

- مضائق وممرات (٥، ٦). - مدينة عربية فيها مقر جامعة الدول العربية (٧).

- جزر عربية متنازع عليها بين الإمارات العربية المتحدة وإيران (٨).



﴿ انتهت الأسئلة ﴾



المبحث: الجغرافيا المستوية الثالث  
القرع: الأدوية والفندقي والسيهي

مدة الامتحان: ٣٠  
التاريخ: ١٦/٥/١٤

الإجابة النموذجية:



الأمثلة الأربعة (١٦ علامة)

عرف المصاهم والمصطفي الأربعة  
المنازل الطبيعية هي ما نشأ عن قوى طبيعية  
من طهرت على سطح الأرض الطبيعية والشيء وفقد قابلية  
كيميائية تقابل بيدها من حيث الأسماء والأشياء  
مما يجعلها المدة التي يسبق إلى جانبها فاصلة تنفرد عن غيرها  
وهي التي هي الثالث أو غيرها الأربعة. (٥ علامة)

١- دقة الاختيار الزاوية التي يصدر عن الجغرافيا والحق.  
٢- الميزان المائي الجغرافي في جريان فيودر سوانس  
الجغرافية والحق أو ضلالتاً. (٥)

٣- الموضع الطبيعي هو أيام إحصائية تأخذ من  
المروحة اليومية وتتكرر هذه المراتج مما أدى إلى  
والثقافة من مناطق لطيفة الاختيار الممكنة في العالم  
أو المفضلة. (٥ علامة)

٤- الأسماء القديمة العربية في فترة الألفية العربية  
جميع المعارف والمخاطر التي تحدثها، ومنها ما هو الحيوي  
والخطأ لا كيميائي وكيميائي. (٥)

٥- التغيرات الجغرافية: التغيرات الجغرافية والتغيرات  
والجغرافية والمجتمعات والبيئات الجغرافية. (٥ علامة)  
٦- ضلالت تارة في المنطقة أو ضلالت تميزت استناداً إلى  
منهج تخطيطهم بدلاً من ذلك من حيث الأسماء الجغرافية.  
٧- أهمية الدراسة هو المراد الدقيقة التي تتناولها  
في ذلك الصدد وهو السواء بالعلماء والبيانات (البيانات)

رقم الصفحة  
في الكتاب



السؤال الثاني: ( ١٥ علامة )

قسطاً -

٨٤ - تعد الحدود السياسية ظاهرة طبيعية وليست اجتماعية كما هو  
الذي يقيم يخطئ تماماً لأنها الاقتصادية والسياسية  
والسياسية كما اني قدما تفصل مضموناً تماماً بين الشعب  
الذي يكتسب لاصلا عرفيه متقلنة وذلك لبيته الاقلام  
والتناقض بين سكان الدول المتجاورة . ٤ علامات

٣١

تتغير احوال الهواء بتجاوب الحرارة والبرودة  
؛ يؤدي الاضطراب في درجات الحرارة بين رطباً وصحراً وتعد  
الحدود الجوية وتقلصها ، منتقلاً من الهواء رديئة الكيف  
للجوية لايام الاضمار لم اصبه للسطح التي تتعرض للشمس  
ثم القدر فهدفاً للاضمار السطحي ، مما يؤدي الى الاضرار  
الجزيء المتعدد للهواء الاثمن ، وسياسه في هرو عليه  
اقتداف مما لا يحد من قدره في العوز الى جانب الاضطراب  
الدائم معاد الهواء . ٤ علامات

٥٣

- اختيار الاجزى ككثر في حدة تقطع سطح ارضه بل انه  
كل حده من كانه ضلماً ثم دائمة الجريان ، لا يراهم بعد في نظري  
وام في ابعاد متناسية صفره وطاقتهم من زخمه لتقريبات  
العوز الى جانب عمر الصلابة . ٣ علامات

٦١

- مؤامرات الحماره طائفة احكامه ذات السطح المنسطح ؛  
سببه زوايا المثلثات الخوية ، على كذا ثلثية التي تقبل  
تعليم المثلثات الخوية السطحية ، ثم قيام السطح بتبديده  
المكرنات الرشيقة لتختلف في السطح المتروكات ، كجوه المثلثية  
٤ علامات ( ذاك الحرف اكانه )





رقم الصفحة  
في الكتاب

### النوع الرابع: (١٨) علامتها

٤ أدنى

١٩١-١٩٠

١- اسمها من سبيل قصبة الرضف الجاهلي العربي

٢- حل الخلافات العربية حول تقسيم الجاهل وصد الحركات

المعتادة باقتسام ملكه والامر التوريثي

٣- العمل على تحسين احوال الرضف الجاهلي الجاهل

٤- العمل على توحيد طائفة جديدة من خلال اجراءات

واستحداثها في الاجراءات مبادءه هو عليه

٥- اعتبار مسائل وتقنيات الاستغاثة من سبيل الاطراف

فذلك الاضطرار والحصار المائي

٥- العمل على نقل الامور السلطانية من الرضف الجاهلي

الملك الجاهلي به تقسيم جديد كدرك الخليفة العربي

٥- اقتداء بالاسباب النورية - السبب ليقضي المصالح النورية

٥- الدلائل في الارواح الظلمية

(ب) ما أبرزنا الخبايا التي ابيه سينا في الفكر الجاهلي

تقريب اقتداء الاقارب اهل الرضف الجاهلي

يا ظلمة الجاهلية والاشعة التي في الرضف الجاهلي

كما اورد له ابيه سينا اصبغ الالوان النظرية ليطرح في فهمه

٣ علامات



(ج) وضع

١٢٨ اسم الرضف الجاهلي ودفعه فبالرصد الجاهلي

الطباخة التي تارة تارة السبب والاشعة من الجاهل

٥- من قسده اظلم له صامته ويبدو ذلك ويصعب من السبب

٥- الجاهل في الرضف الجاهلي وهو قسده

٣ علامات

رقم الصفحة  
في الكتاب

### المدال الخامس :- العلامه

٤- ادرك الرقص في اجبه عن الاكسمة للادب  
تليو :-

- ماذا تسمى العليمه لهد اليه بالرمز م - نقل

- ماذا تسمى العليمه لهد اليه بالرمز ن - انا

- ماذا تسمى العليمه لهد اليه بالرمز هـ - انا

٣ علامه

٥) ادرك فاعله العالم ادناه ثم اكتبه فاعله

اليه الامام

٨٧ دولة حدثت مذبحة في ارضها

١- العراق المنزلي

٢- ماليه

٢- المحيط الهندي

٣- مدار البستار



٤- دارا عرفه رئيسية

٥- باب الهند

٥- مصانعة وكرات

٦- هرمز

٧- مدينة عربية بنيت باسم لؤلؤة البحر

٨- طين الكوي لسوق البوكاري

٩- مدينة عربية بنيت في خليج

بين لؤلؤة والافران

٨ علامه