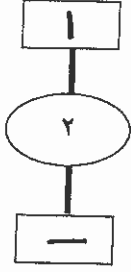
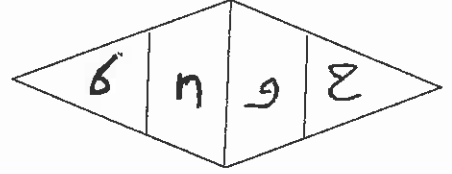


بسم الله الرحمن الرحيم



المملكة الأردنية الهاشمية  
وزارة التربية والتعليم  
إدارة الامتحانات والاختبارات  
قسم الامتحانات العامة



## امتحان شهادة الدراسة الثانوية العامة لعام ٢٠١٦ / الدورة الشتوية

(وثيقة محمية/محدود)

مدة الامتحان : ٣٠ د  
اليوم والتاريخ : الثلاثاء ١٢/١/٢٠١٦

المبحث : الجغرافيا / المستوى الرابع  
الفرع : الأدبي

ملحوظة : أجب عن الأسئلة الآتية جميعها وعددها ( ٥ ) ، علماً بأن عدد الصفحات ( ٣ ) .

السؤال الأول : (١٩ علامة)

(١٦ علامة)

أ - عرف المفاهيم والمصطلحات الآتية:

- ١- الموقع الجغرافي النسبي.
- ٢- المياه الإقليمية.
- ٣- الحراثة الكنتورية.
- ٤- مساحة الدولة.
- ٥- مكافحة التصحر.
- ٦- الكائنات والأغذية المعدلة وراثيًا.
- ٧- النباتات الطبيعي.
- ٨- القطب.

ب- كوّن تعميماً تربط فيه العلاقة بين كل من درجات الحرارة ودوائر العرض للتعرف على الحالة المناخية للدولة. (٣ علامات)



السؤال الثاني : (١٨ علامة)

أ - وضّح ما يأتي:

- ١- المضائق والممرات المائية التي يشرف عليها الوطن العربي أكثر المضائق العالمية أهمية. (٤ علامات)
- ٢- تعطي المساحة الكبيرة للدولة ميزة الدفاع في العمق. (٣ علامات)
- ٣- أهمية التوزيع الجغرافي للثروة المعدنية بالتكوين الجيولوجي في قوة الدولة. (٤ علامات)
- ٤- تعدّ المناطق السهلية الأفضل لممارسة الزراعة. (٣ علامات)

(٤ علامات)

ب- عدد أربعة من الأصناف الرئيسية لأشكال الدول.

## الصفحة الثانية

### السؤال الثالث : (١٧ علامة)

(١٠ علامات)

- أ - أعطِ مثالاً لكل مما يأتي:
- ١- دولة تُعدّ نموذجاً لتكامل التنوع المناخي فيها.
  - ٢- تربة تنتشر في المناطق الاستوائية.
  - ٣- معادن تنتج عن تفتت الصخور.
  - ٤- مشكلة تعاني منها الغابات في أنحاء العالم.
  - ٥- المناخ السائد في فيتنام وكان سبباً في هزيمة أمريكا.

ب- انكسر:

(٤ علامات)

- ١- العوامل الطبيعية التي ساهمت في تغيير مكونات الغلاف الجوي.
- ٢- العوامل الجغرافية المؤثرة في توزيع الجفاف في العالم.

(٣ علامات)



### السؤال الرابع : (١٤ علامة)

انكسر :

(٤ علامات)

(٤ علامات)

(٣ علامات)

(٣ علامات)

- ١- أربعة عوامل بشرية مسببة للتصحّر.
- ٢- أربعة عوامل جغرافية طبيعية مؤثرة في خصائص المبيدات.
- ٣- ثلاثة أسباب أدت إلى تملح التربة في الأردن.
- ٤- أهداف تشجير الأراضي التي يهددها التصحّر.

الصفحة الثالثة

السؤال الخامس : ( ١٢ علامة )

ادرس خريطة حوض وادي النيل أدناه، ثم اكتب في دفتر إجابتك ما تشير إليه الأرقام الآتية:

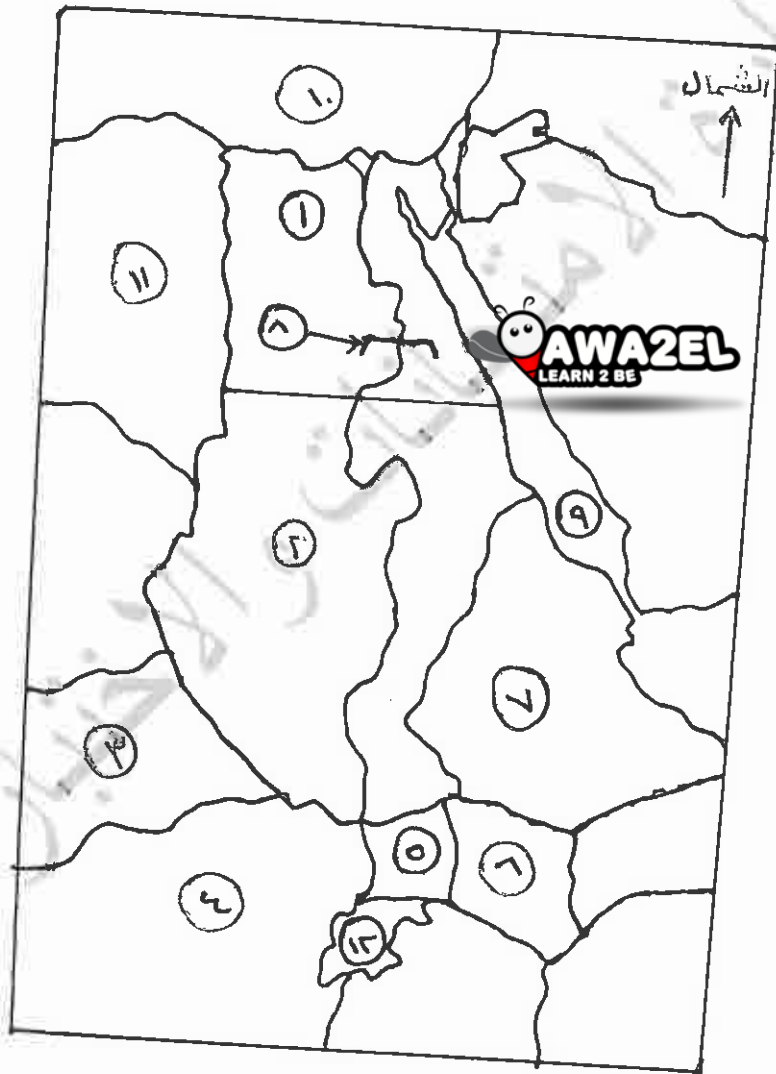
- دول مشتركة بحوض نهر النيل ( ١ ، ٢ ، ٣ ، ٤ ، ٥ ، ٦ ، ٧ ) .

- سد مائي ( ٨ ) .

- مسطحات مائية ( ٩ ، ١٠ ) .

- دولة عربية إفريقية ( ١١ ) .

- البحيرة التي ينبع منها نهر النيل ( ١٢ ) .



﴿ انتهت الأسئلة ﴾



امتحان شهادة الدراسة الثانوية العامة لعام ٢٠١٦ / الدورة الشتوية

وزارة التربية والتعليم  
إدارة الامتحانات والاختبارات  
قسم الامتحانات العامة

صفحة رقم ( ١ )

المبحث : الجبر أيضا م/ع  
الفرع : الرياضيات

مدة الامتحان : ٢٠ دقيقة  
التاريخ : ٢٠١٦

الإجابة النموذجية :

رقم الصفحة  
في الكتاب

السؤال الأول :- ١٩ علامة

عرف المفاهيم والمصطلحات الآتية :-

١٦٦ داء الممتنع الجبرالي النسبي هو قيم الدولة بالنسبة للدولة والمطارات  
المالية المتحاربة ، هو قدر بالنسبة للدين والمطارات ، هو قدر

٢٤٩ (٤) الكفاءة الاقتصادية : هي قدرة المؤسسة الاقتصادية على التعامل مع الموارد المتاحة على  
السيار والمطارات ، وتعد الدولة حينها ملكية وتسمى على قوانينها  
وسيادة تلك الدول



٢٩٢ (٣) الحرية الاقتصادية : هي الحرية التي تتمتع بها المواطنة الاقتصادية في  
الاحتجاج المساوية .

١٨٨ (٤) صناعة الدولة : هي صناعة الأعمال التي تديرها الدولة كصناعة  
توريد سياسية واقتصادية للعالم ، وتعرف بـ دولاً صناعية

٢١٢ (٥) اتفاقية التجارة الحرة من شأنها التخلي عن القيود التجارية  
الزراعية والغابات والاعتمادية .

٢٤٠ (٦) التكتلات الاقتصادية الحديثة : هي تكتلات اقتصادية حديثة  
تتكون من عدة صناعات حديثة حيث يتم تجميع صناعاتها  
والعمل على صناعات ورفيعة .

٢٥٠ (٧) النبات الطبيعي : النبات الذي ينمو طبيعياً في المنطقة الجغرافية  
دون تدخل الإنسان أو الحيوان ، وتسمى بالنبات الطبيعي للنباتات  
التي تنمو في المنطقة الجغرافية دون تدخل الإنسان أو الحيوان .

٢٧٩ (٨) القطر : هو خط مستقيم يربط بين نقطتين في  
المنطقة الجغرافية من حيثها الرئيسية .

١٦٢ (٩) كونه نصيباً : هو خط مستقيم يربط بين نقطتين في  
المنطقة الجغرافية من حيثها الرئيسية .

وذلك لأنه نصيباً : هو خط مستقيم يربط بين نقطتين في  
المنطقة الجغرافية من حيثها الرئيسية .

رقم الصفحة  
في الكتاب

### الجواب الثاني :- ١٨ علامة

١٨٢

١١ وضع :- المصنوعات والمعدات الإلكترونية التي تصنع في  
الشرق الأوسط أكثر المصنوعات العالمية أهمية

١١ أسباب اقتصادية وسياسية على طرق النقل البرية بين مصادر النفط في الخليج والشرق  
والمرکز الصناعي في أوروبا الغربية والشرق الشمالية واليابان والهند

١١ تعلق وصل بين العالم العربي وثالثات العالم القديم أوروبا وآسيا وإفريقيا  
وتتأثر ما به من طرق العالم الذي يفتقر للتوقف للاختار فذلك يستقر



١٨٨

١٢ تقبل المساهمة الجديدة للدولة في الدفاع والعمل

١٢ حيث تتخذ القدرات الخاصة من استبدال الدول فقط للدفاع والتوسع  
في إطارها الداخلي بالدولة، بهدف كسب الدول للامانة تنظيم قدراتها  
في عصر العنصرية، ومثال ذلك نصيب الاتحاد السوفيتي من الحرب العالمية الثانية.

٣ علامات

٢٠٦

١٣ أصعب التوزيع الجغرافي للدولة الحديثة بالتكوين الجغرافي

١٣ في قوة الدولة :- تتخذ الدولة العلم ثورات حديثة في كسب الدول  
عبر دقل حال، وفرضه لسياسة منج، تتولى اتقنا دقا  
مخاطرة الدولة السياسية

٤ علامات

٢٠٦

١٤ بعد المناقشة السهلة الأفضل لما في الاعتراف

١٤ لتدارف الظروف المتغيرة، التي، كخطية والسوية، توافر لها  
مناخية استخدام الآلة لأن الزيادة، والرافعة، يدين

٢٠٦

١٥ عند الرجوع من الامارات العربية المتحدة الى الدول

١٥ الشكل المتأصل المستطيل

١٥ الشكل المثلث أو المستطيل

١٥ الشكل المستطيل

١٥ الشكل غير المستطيل

١٥ الشكل المثلث

٤ علامات

رقم الصفحة في الكتاب	السؤال الثالث :- ١٧ علامة
	١- اكتب صلاتاً لكل مما يأتي :-
٢٢٨	١- دولة تعد كوداً قانونياً للتفويض المناطقي لري الدراريات بالمساحة الامرسية. ⑤ علامة
٢٢٥	٢- حرية تنقل ٥ المناطج الاستوائية الاتراية الحراري. ⑤ علامة
٢٤٢	٣- معادله تنبع من تفتت العزل الماليوم ⑤ ، المقيسوم ⑤ بين
٢٥٢	٤- شكله تقائي من الفئات في انما العالم ، النظم المصيري ⑤ ، المراسمة الآفات والآراض
٢٣١	٥- المناطج لاسر من نظام ولا تشبهه وحرية امريكا (المركب) من اذكر ١١ علامة
٢٦٨	٦- المراسل الطبيعية التي ساهمت في تغير كومات الفلان الحوي ؟
١	١- شجرة كيز نامي الكيد الكبروني في الحوي ① ٢- تغير مساحة الغابات ٢- زيادة رقعة الغابات ① ٣- نقل مساهمة جليد في المناطج ٤- نقل مساهمة قاهرة القوية ① ٥- علامات
٢٧٢	٧- المراسل المرافية ، المؤثرة في توسيع الجفاف في العالم ١- الترتيب ارا لبعده عن طبقات الغاشية ①
١	٢- سرعة الرياح والجليد ① ٣- وجود سلك جليدي صافية ①
١	٣ علامات

رقم الصفحة في الكتاب	السؤال الرابع - ١٤ علامته
	p- اذكر -
٢٠٧	<p>١- اشرح من العوامل البشرية المسببة لانهيار                  ١- سوء ادارة الاطراف ١- ضعف العمالي ١- الرعي الجائر ١                  ٢- على التربة ١- تدهور انتاجية الاراضي نتيجة للاساليب الخاطئة ١                  ٣- القطع الجذري للنباتات كجذوع النخيل ١- الضغط الجانبي للمزارع العشوية ١                  ٤- قطع اشجار النباتات والاشجار المرحبة ١                  ٣ علامات</p>
٢٠٤	<p>١- العوامل المفضلة الطبيعية المؤثرة في صفات طينيات                  الحماة والطلاء الجوفات                  ١- ارتفاع الحرارة بعمق و سرعتها اختصار طينيات                  ٢- وجود الفتور والبناء بعمق و سرعة استمرارية تقا الطينيات تحت سطح التربة                  ٣- استمرارية حركة المياه فوق التربة و دافقت بعمق اختصار الطينيات                  ٤- الماء والمطر مما يولد هاما لانه الطينيات الغراف الجوفية                  ٣ علامات</p>
ca7	<p>١- لماذا لم يسبب على التربة في الارض ؟                  ١- نوعية مياه برك التربة في المحاصيل الزراعية ١                  ٢- استخدام التربة المحمية للزراعة ١                  ٣- الادوية البيئية عند                  ٤- ارتفاع معدلات التربة                  ٥- ارتفاع معدلات التربة في الزراعة ١                  ٣ علامات</p>
٢١٦	<p>١- اهداف تسيير الاراضي المرادها لتسيير                  ١- احياها من ناحية خصوبة التربة                  ٢- حماية المراعي من الاخطار ومنه فلاك تربة الاراضي المرادها                  ٣- زيادة انتاج عينة من الغابات للحصول للمصنع                  للوقود.                  ٣ علامات</p>



رقم الصفحة في الكتاب	السؤال الخامس « ١٢ علامة » (تسبب نقطة علامة) ارسم خريطة مصر وادرس النيل اذناه ثم اكتب عن الأسئلة التي تليه .
٢٧	- دول شريكه بحوض نهر النيل ① مصر ② السودان
١٥	- دول شريك بحوض النيل ② أفريقيا ③ اللونغو ④ اوجندا
٢٤	⑤ كينيا ⑥ ليبيا
١٦	⑦ السودان ⑧ السودان ⑨ الجزائر ⑩ ليبيا ⑪ ليبيا ⑫ ليبيا
	- دولة عربية الجمهورية العربية السورية السنت اصابه