



الجمهورية العربية السعودية

وزارة التربية والتعليم
إدارة الامتحانات والاختبارات
قسم الامتحانات العامة



امتحان شهادة الدراسة الثانوية العام لعام ٢٠١١ / الدورة الشتوية

(وثيقة محمية / محدود)

مدة الامتحان : ٣٠ : ١

اليوم والتاريخ : الثلاثاء ٢٥ / ١ / ٢٠١١

المبحث : الجغرافيا/المستوى الثالث + الجغرافيا الإضافية

الفرع : الأدبي + الفندقي والسياحي (نفس الورقة الامتحانية)

ملحوظة : أجب عن الأسئلة الآتية جميعها وعددها (٥)، علماً بأن عدد الصفحات (٣).



السؤال الأول : (١٦ علامة)

عرّف المفاهيم والمصطلحات الآتية :

- ١- الارتفاع النسبي.
- ٢- العوامل الجيومورفولوجية.
- ٣- التجوية الميكانيكية.
- ٤- الوادي النهري.
- ٥- القومية.
- ٦- الفجوة الغذائية.
- ٧- الأمن الطاقوي العربي.
- ٨- النهر.

السؤال الثاني : (١٥ علامة)

من خلال دراستك لوحدة الجيومورفولوجيا أجب عن الأسئلة الآتية :

- أ) اذكر ثلاثاً من مميزات نموذج ارتفاع الأرض الآلي. (٣ علامات)
- ب) ما هي العمليات التي تقوم بها الأنهار وتؤدي إلى تشكل سطح الأرض؟ (٣ علامات)
- ج) وضّح العلاقة بين انحدار سطح الأرض من جهة وكل من التجوية الميكانيكية والكيميائية من جهة أخرى. (٤ علامات)
- د) أعط أمثلة لكل مما يأتي :
 - ١- شكلين أرضيين من المرتبة الأولى. (علمتان)
 - ٢- ثلاثة أشكال أرضية ناتجة عن الإرساب الريحي. (٣ علامات)

يتبع الصفحة الثانية ...

الصفحة الثانية

السؤال الثالث : (١٨ علامة)

يتكون هذا السؤال من (٩) فقرات، لكل فقرة أربع إجابات واحدة منها فقط صحيحة. انقل إلى دفتر إجابتك رقم



الفقرة ورمز الإجابة الصحيحة لها على الترتيب :

(١) تنشيط عمليات التجوية الكيميائية في المناطق :

أ (الحارة الجافة ب) الحارة الرطبة ج) الباردة الرطبة د (الباردة الجافة

٢) أكثر العوامل الجيومورفولوجية شيوعاً وانتشاراً في تشكيل أشكال سطح الأرض غير الأصلية هي :

أ (الأنهار ب) البحيرات ج) المحيطات د (الجليد

٣) الشكل الأرضي الذي يتكون عند مصاب الأنهار في البحار والمحيطات هو :

أ (الحماد ب) الكهوف ج) الرق د (الدلتا

٤) انغلاق خطوط الكنتور وتناقص قيمها نحو الداخل يدل على :

أ (سهل ب) جبل ج) منخفض د (تل

٥) الحمولة النهرية التي تشكل ما نسبته ٩٠٪ من حمولة النهر هي :

أ (المذابة ب) العالقة ج) المجرورة د (المترسبة

٦) تقع الجزر العربية الثلاث (أبو موسى، طناب الكبرى، طناب الصغرى) التي تحتلها إيران في :

أ (خليج عدن ب) البحر المتوسط ج) خليج عُمان د (الخليج العربي

٧) يُعد استخدام عملة واحدة (اليورو) من أهداف الاتحاد الأوروبي :

أ (السياسية ب) الزراعية ج) الاقتصادية د (الاجتماعية

٨) محدودية مصادر المياه المستخدمة في الري من أسباب انخفاض الإنتاجية الزراعية وتُعد من المعوقات :

أ (التكنولوجيا ب) الطبيعية ج) الاجتماعية د (الاقتصادية

٩) تهدف منظمة التجارة العالمية إلى :

أ (مراقبة أسعار النفط ب) عدم التدخل في الشؤون الداخلية للدول

ج) مناقشة قوانين التجارة الحالية والمستقبلية د (المساواة بين الدول الأعضاء والحفاظ على سيادتها

السؤال الرابع : (١٥ علامة)

اذكر :

(١) أربعة مقترحات للحفاظ على النفط العربي وإطالة عمره. (٤ علامات)

(٢) ثلاثة أساليب لترشيد استهلاك الموارد المائية لتحقيق الأمن المائي العربي. (٣ علامات)

(٣) أسباب عدم إمكانية الجامعة العربية من تحقيق أهدافها. (٤ علامات)

(٤) العوامل التي تعتمد عليها مساحة الدلتا لأي نهر. (٤ علامات)

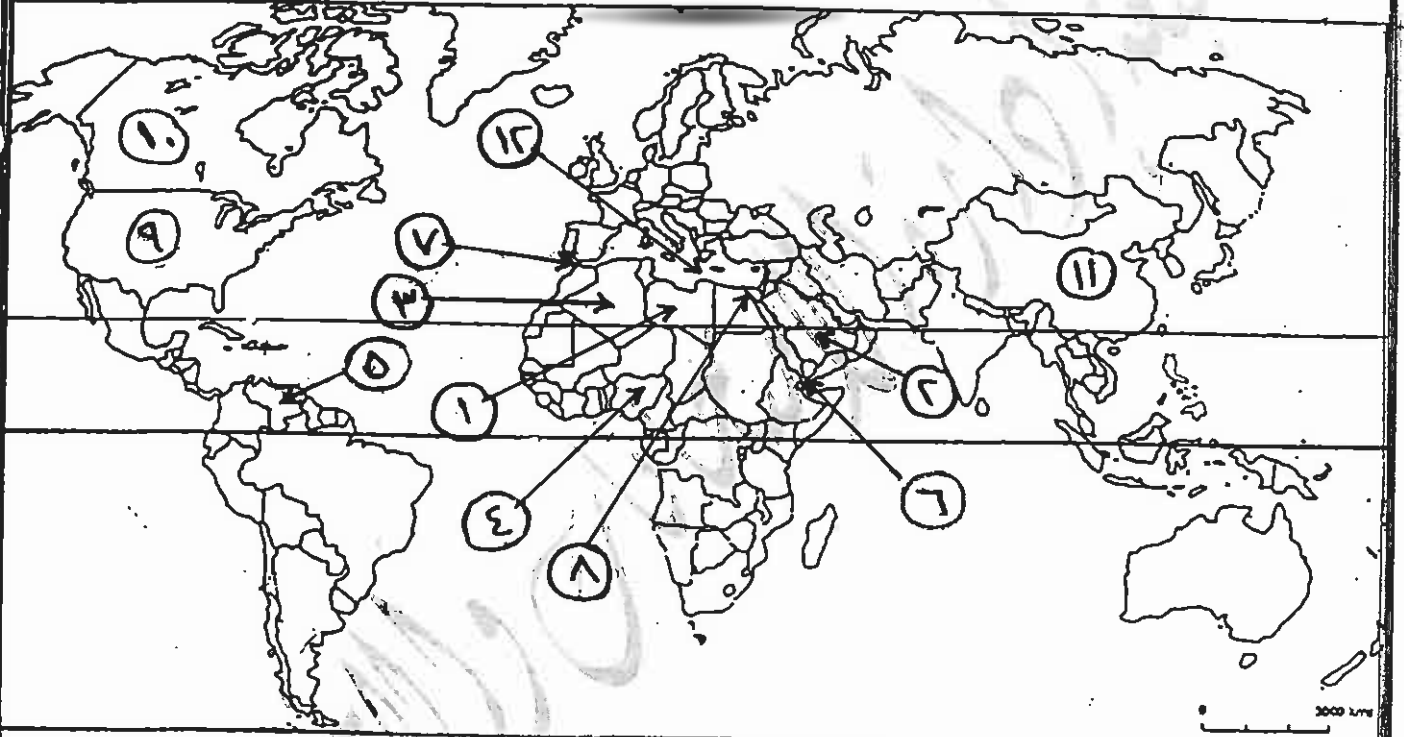
يتبع الصفحة الثالثة ...

السؤال الخامس : (١٦ علامة)

أ) انظر خريطة العالم الصماء أمامك ثم انقل إلى دفتر إجابتك ما تشير إليه الأرقام المبينة على الخريطة كما يأتي :

(١٢ علامة)

- دول أعضاء في منظمة الأوبك (١ ، ٢ ، ٣).
- دول أعضاء في منظمة الأوبك (٤ ، ٥).
- مضائق وممرات مائية (٦ ، ٧ ، ٨).
- دول أعضاء في حلف شمال الأطلسي (٩ ، ١٠).
- دولة تعيش فيها أقلية الكازاخ (١١).
- بحر (١٢).



ب) وضح كيف يمكن استغلال الأراضي الصالحة للزراعة في الوطن العربي بالتوسع الرأسي والأفقي.


(٤ علامات)

(انتهى الأسئلة)



وزارة التربية والتعليم
 إدارة الامتحانات والاختبارات
 قسم الامتحانات العامة
 المبحث : الجغرافيا / الجغرافيا البشرية
 الفرع : الاقليمي + الجغرافيا البشرية

مدة الامتحان : ٣٠
 التاريخ : ٢٥ / ١ / ٢٠١١



الإجابة النموذجية :

رقم الصفحة في الكتاب	الإجابة النموذجية
١٦	السؤال الأول : عرف : ١. الارتفاع النسبي : الفرق الارتفاع بين قمة الجبل وبين منسوب مياه البحر
١٦	٢. العوامل الجيومورفولوجية : هي العوامل الخارجية التي تؤثر في الصخور على اختلاف أنواعها وتعرف كذلك بالعوامل التآكلية وسداتها الأنواع : والأنواع البحرية ، والرياح ، والجليدية (تآكل) وتآكلية واضحة
٣٠	٣. التآكل المطاني : يمكن تحطيم الصخور المتآكلة على الصخور الجوفية ، بفعل العوامل الطبيعية / وذلك ان يعرف اي تغير على الجوفية المعدني للصخور
٥٢	٤. الرمادي الجوفي : متخلف متقارب مفتوح على بيئته المصب / ويشأ الرمادي عادة عند عمليات التآكل واتجاهات نشاطها
١١٨	٥. العمودية : مصطلح يصف مجموعة من الجبال / لتشكلها في تقاطع رافعة ومنحدراتها وتاريخ مشرقها
١٤٨	٦. العمودية القذائية : الفرق بين الطبقات والانتاج الحيواني عند التآكل مصب / والتي تقاسم بالبناء المسوددة أو لقيمة التآكل (العمودية)
١٤٣	٧. الامة لطاخي العربي : انتاج الدول العربية اذ هو على مصطلح الطامة اللازمة للمحولة صياغتها / والحائفة على هذه المصادر من الاعضاء / واتباع صياغة ترميز الاسماء (بديل)
٤٠	٨ - النهر : الماء الجاري في مجرى محدد / سواء كان هذا الجريان دائما ام فصليا

رقم الصفحة في الكتاب	السؤال الثاني : معدلة
	من خلال دراستك لوحدات الجيومورفولوجيا ، اكتب عن الارتفاع الآتي :
٢٧/٢٦	١. اذكر ثلاثاً من مخزانات نموذج ارتفاع الارض الآتي : - تقسيم رؤبة الشكل الارض ، كما هو على ارضه بسهولة هذا ما نلاحظه
	- التوزيع التي تعتمد على الارض المسببة
	- امكانية الرسم الآتي للقاطع لخطار لينة
	- الحسابات الآلية لدرجات الانحدار واتجاهها
	- الحسابات الآلية للمخاطر
	٢. ماهي العمليات التي تقوم بالارتفاع وتؤدي الى تشكيل سطح الارض
٤٥/٤٤	- الحث - التعديل - الارسان
	٣. وضح المعدلة بين اخذ سطح الارض من جهة ، وكل من التحوط
٣.٧	المعانيه والعمليه من جهة اخرى
	اذا كان سطح الارض منحرفاً فانه ما يتسبب عنه التحوط المعانيه
	من نظام صخري ، يستمر الى افضل من نوعاً بكوني مجازية
	او بعد ثم يتلف جزئياً بعد التحوط المعانيه
	نفس العمليات
	اذا كان سطح منبسطاً او قليل الانحدار ، طانه ذلك يؤدي
	الى زيادة نشاط الجيومورفولوجيا / تبعاً للاختلاف في الماء على
	السطح وبالتالي تراكم قاعليه
	اي انه حثه الانحدار تعمل على تراكم الجيومورفولوجيا المعانيه
	تبعاً لعمل صفت الانحدار على نشاط الجيومورفولوجيا المعانيه
	٤. اعط أمثلة لكل مما يأتي :
	١. قسمة ارضيه من الرتبة الاولى
١٥	- قسمة القاعات - قسمة المنحدرات (ازانته)
	اي لتقسيم البيريه للكرة الارضية وهما : اليابس والماء
٦٧-٦٤	٢. ثلاثة اشكال ارضيه لا حثه بخارج حولة الرياح
	١- صحاري لغويه ارفقيه - ٢- للبيان ارفقيه (هياليه و ارفقيه)
	٣- التباين - ٤- ارضيات اللوح (اي التباين)

بالتوازي مع

رقم الصفحة
في الكتاب

١٨ عدد

السؤال الثالث : اختار من متعدد

الرقم	الترتيب	الإجابة الصحيحة	العدد	الصفحة
١	ب	الحارة الرطبة	٢	٢٥
٢	د	الانزها	٢	٤٠
٣	س	الدنيا	٢	٥٨
٤	د	مخفف	٢	٢٣
٥	ب	المالقة	٢	٤٦
٦	س	الخلي العربي	٢	٨٩
٧	د	الاستعدادية	٢	١٠٦
٨	ب	الطبيعية	٢	١٤٠
٩	د	مناقشة مؤسسية لعمارة العالم كالتالي	٢	١٠١

عذر متابعي لكل نقص



إعداد

السؤال الرابع : اذكر

رقم الصفحة في الكتاب	
	١) اربعة قصر حان للحفاظ على النطق العربي وإطالة عمره .
١٥/١٤٩	١. تنوع مصادر الدخل القومي لئلا يهدد اقتصاده وسياسته .
	٢. الانتقاء بين منجز النطق في مرحلة التعليم والتربية .
	٣. الصيانة المطلقة له نطق العرب للعرب .
	٤. إطالة عمر التربة لغربية وخلق أسرار النطق منه هناك زرع
	إنتاجه ، وإقامة الصناعات على مستغلاته في مواضع تعرف
	صناعات مادة التوضيح .
	٥. استبدال النطق الحديث الآلة العربية ، وتغيير وزن الترتيب
	في مختلف المجالات الاقتصادية والعربية وبناء قواعد لغوية
	٦. أهمية لغته في التعليم العربي ، وتفصيل دور الجامعة العربية
	في خصص لغات الذي جعل للدول العربية الحفاظ على هذا المصدر
	الحقوي اللغوي العربي .
	٢) ثلاثة أسباب لتربية استبدال الموارد الملائمة لتخصها
١٢	الملائم العربي .
	١. منع قنطرة وصيانة وتطور وسائل نقل وتوسيع المياه .
	٢. تطوير نظم الري .
	٣. استنساخ مجالات وإحداث جديد من الحاصل لتسهيل
	كثبات أمن من المياه ، وتعمل درجات أعلى من الملوحة
	٣) أسباب عدم إمكانية الجامعة العربية من خصص هذا
١٠٤	١. عدم وجود آليات لتخص العرايات
	٢. غياب المصالح القومية ، وتفرض المصلحة العربية
	على المصلحة القومية العامة .
	٣. الإهمال في التعاون الشجاعة للدول الأعضاء
	٤. عدم إعطاء الجامعة أي أهمية تذكر في الحفاظ
	التقوية السياسية للبلد

إعداد

إعداد

إعداد

إعداد

رقم الصفحة
في الكتاب

تابع اسوال المراجع

٤. عوامل التي تصعد عليها مساحه ولنا اي نهر :

٥٨

١. وكية الرواسب التي تنصب الى الوسط الملايكي والتي



تتأثر بدورها لعوامل عديدة منج :
طامة النهر ، وكية تصريفه من الماء ، بعداية هنا مرادوة

تعدلان


٢. هدرء البحر وخصف البئارات البحرية في منقعر البصت :

اذا انه شدة البئارات تعمل على تشييد الرواسب

٣. استقر ارتفاع الوسط الملايكي الذي يتصور فيه لولنا :

اذا انه الضعفاء التي تتعرض للهبوط لا تساعد على
لغور الذلقات

٤. عدم تغير النهر لتفقد مسبه في الوسط الملايكي

رقم الصفحة في الكتاب	العنوان
١٦٤	السؤال الخامس :
١٢٤	P - الخزفة :
	
١٠٧	- دول أعضاء في منظمة الإرابك : (١) ليبيا (٢) السعودية (٣) الجزائر
١٠١	- دول أعضاء في منظمة الأوسلا : (٤) نيجيريا (٥) فنزويلا
١٠٤	- مضائق وعمارات مائية : (٦) باب المندب (٧) مضيق جبل طارق (٨) السويس
١٠٩	- دول أعضاء في حلف شمال الأطلسي : USA → (٩) الولايات المتحدة (١٠) كينيا
١١٥	- دولة كينيا من أقلية الكازاخ (١١) الصين - بحر (١٢) البحر المتوسط
١٢٥	د - وضع كيف يمكن اعتماد الاراضي الصحاح للزراعة في الوطن العربي بالتوسع الرأسي والافقي
	لا بد من اعتماد الاراضي الصحاح للزراعة في الوطن العربي ، سواء بالتوسع الرأسي أي زيادة كمية انتاج الدوغم الواحد ، وتكون ذلك زراعة الاراضي بدون (١٣) أكثر من مرة في السنة أو باحتلال الاراضي المتبسطة الحرية ، أو بالتوسع الافقي الذي يكون زياده مساحة الاراضي المزروعة (١٤)

١٢٤

امريكا

١٢٤