



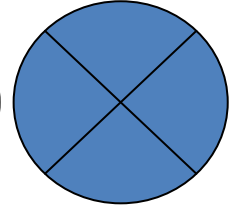
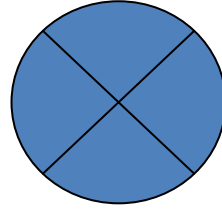

الأهداف : ١- يكتب العدد الكسري بالأرقام والكلمات

٢- يظل ما يلزم من الأشكال ليمثل العدد الكسري

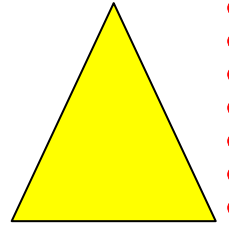


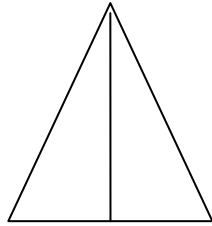
٣- يمثل العدد الكسري بالشكل المناسب

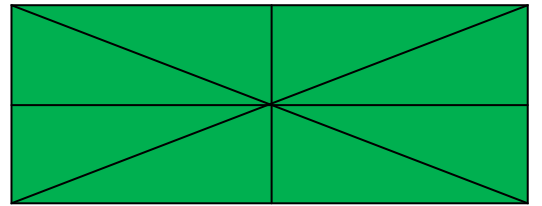
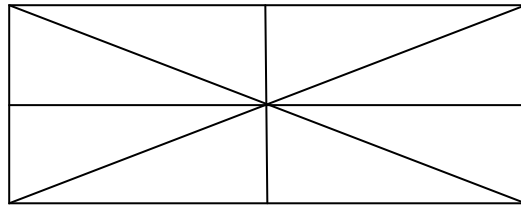
• اكتب العدد الكسري الدال على الأشكال الآتية بالأرقام والكلمات :

.....



.....





.....

• يلعب احمد يوم الجمعة خمس ساعات وثلث ، عبر عن عدد الساعات التي

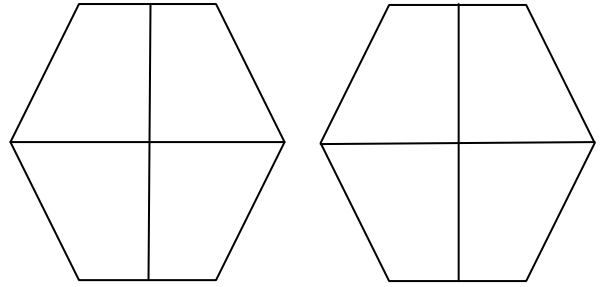
يلعبها احمد بعدد كسري ؟

ضع دائرة على العدد الكسري :


$$\frac{2}{4} \quad 1 \frac{3}{5} \quad \frac{1}{7} \quad 2 \frac{5}{6}$$

• ظل ما يلزم من الأشكال الآتية ليمثل العدد الكسري لكل منها:


$$1 \frac{3}{4}$$



$$\frac{1}{2}$$



• أنا عدد كسري جزئي الصحيح ٨ ومقامي ٦ وبسطي نصف مقامي فمن أنا؟



• ارسم شكلا يمثل العدد الكسري $1 \frac{2}{5}$