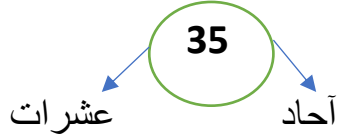


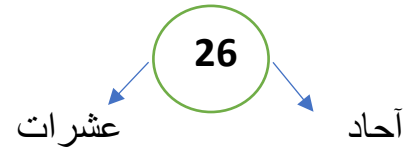

Taqarob schools		مدارس تقارب					
الفصل الدراسي الأول 2022/2021 التاريخ : 2021 / 11 /		الرياضيات الصف الأول الأساسي		تقييم الشهر الثاني الإسم : .....		الزمن : حصة صفية	
أجب عن جميع الأسئلة عددها 6 علماً بأن عدد الصفحات 3							
المجموع	السادس	الخامس	الرابع	الثالث	الثاني	الأول	رقم السؤال
25	5	4	4	4	4	3	علامة السؤال
							علامة الطالب

### السؤال الأول :- أكمل كتابة الأعداد

38			41				45	
----	--	--	----	--	--	--	----	--

### السؤال الثاني : أمثل العدد بـ ثم أكتب الأحاد و العشرات



السؤال الثالث: أستمع الى معلمي يقرأ الأعداد الآتية المكتوبة بالكلمات ثم أكتبها بالأرقام .

واحد و عشرون

ثلاثة و خمسون

أربعة عشر

تسعة و سبعون

السؤال الرابع : أضع دائرة حول رمز الأجابة الصحيحة

1- أحوط القيمة المنزلية لرقم العشرات في العدد 65

50

60

6

2-أحوط عدد الأحاد في العدد 78

80

70

8

3-أكتب العدد 29 بالصورة التحليلية

$8+60$

$20+9$

$50+6$

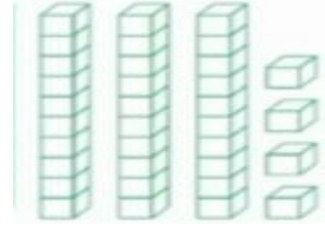
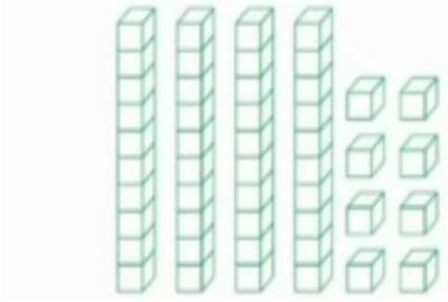
4-كم عشرة في العدد 41

40

4

4 عشرات

السؤال الخامس : أكتب العدد الممثل ضمن مزلتين بالرسم



السؤال السادس : الأعداد الفردية باللون الأحمر و الأعداد الزوجية باللون الأزرق

