

المملكة الأردنية الهاشمية
وزارة التربية و التعليم
مديرية التربية و التعليم لمنطقة لواء سحاب
مدرسة المعمورة الاساسية المختلطة
الاختبار الاول الفصل الدراسي الثاني لمادة الكيمياء
للعام الدراسي 2021-2022

تاريخ الاختبار:
مدة الاختبار : حصة

الصف : العاشر
الشعبة :

الاسم :

أجيب عن الاسئلة الاتية اذا علمت أن عددها (4) علما بأن عدد الصفحات 2 والعلامة الكلية من 20

السؤال الأول : (3 علامات)

السؤال الأول : وضح المقصود بكل من :

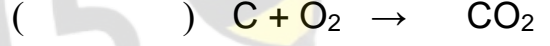
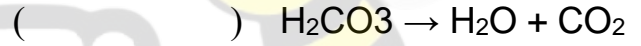
1 - التفاعل الكيميائي.....

2 - المعادلة الكيميائية الموزونة.....

3- نص قانون حفظ الكتلة.....

السؤال الثاني : (3 علامات)

حدد نوع التفاعلات الكيميائية التالية ؟



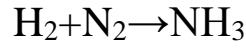


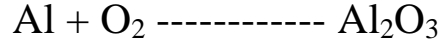
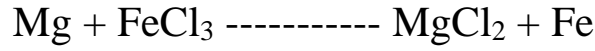
السؤال الثالث : (5 علامات)

أكتب معادلة لفظية ، وأخرى بالرموز والصيغ تمثل التفاعل بين عنصر الحديد الصلب (Fe)
مع غاز الأوكسجين (O₂) لانتاج أكسيد الحديد (Fe₂O₃)



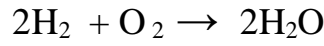
السؤال الرابع: (6 علامات)

وازن المعادلات الكيميائية التالية:



السؤال الخامس: (3 علامة)

عبر عن المعادلة الكيميائية الآتية بالرسم بالنماذج؟



انتهت الأسئلة
مع تمنياتي لکن بالنجاح
معلمة المادة: أحلام عبد الحفيظ