

مدرسة نافع الشرقي الثانوية المختلطة

دفتر الرياضيات

للصف الأول الأساسي

إعداد المعلمة : رهام أبو عروق

AWAZEL
LEARN 2 BE



الاسم:



العدد واحد


لون سيارة واحدة:



اكتب:

واحد	واحد	1	1	1

احصر فراشة واحدة:



ارسم وردة واحدة والونها:

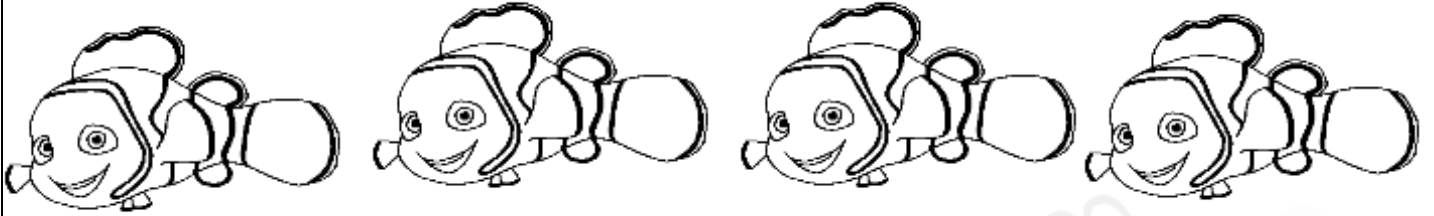
التاريخ.....

الكتيب الإثرائي لمادة الرياضيات
الأول الأساسي

اليوم.....

العدد اثنان

لون سمكتين:

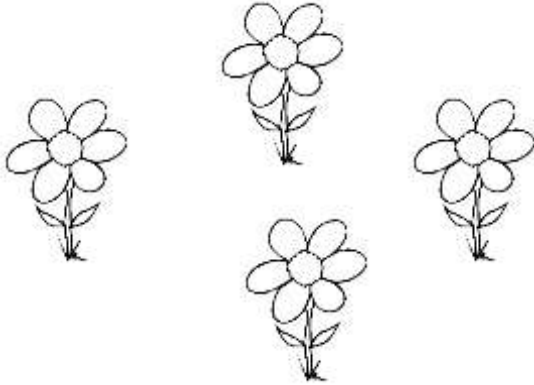


اكتب:

إثنان	إثنان	2	2	2

احصر وردتين:

ارسم شجرتين والونهما:



العدد ثلاثة

لون ثلاثة قوارب:

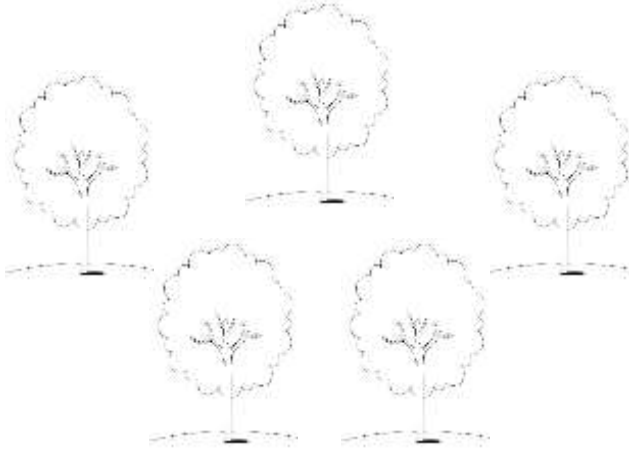


اكتب:

ثلاثة	ثلاثة	3	3	3

ارسم ثلاثة كرات:

احصر ثلاثة اشجار:



العدد أربعة

لون أربعة كتب:

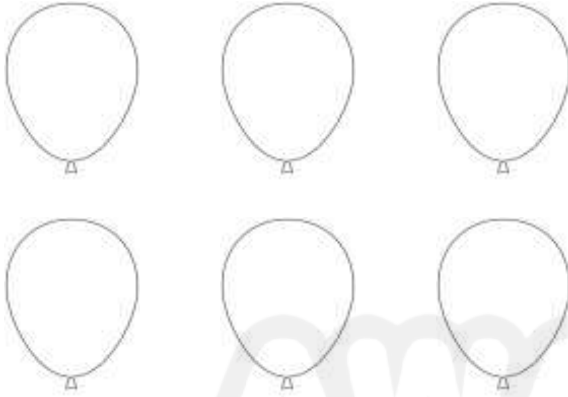


اكتب:

أربعة	أربعة	4	4	4

--	--	--	--	--

احصر اربعة بالونات:



ارسم اربعة مثلثات:

AWAZEL
LEARN 2



العدد خمسة

لون خمسة تفاحات:



اكتب:

خمسة	خمسة	5	5	5

--	--	--	--	--


ارسم خمسة موزات:

احصر خمسة نجوم:




مراجعة

اكتب العدد المناسب:



احصر العدد المطلوب:



اليوم.....

الكتيب الإثرائي لمادة الرياضيات
الأول الأساسي

التاريخ.....

اكتب :

1	2	3	4	5

العدد ستة


لون ستة هواتف:



اكتب:


ستة	ستة	6	6	6

ارسم ستة بالونات:



احصر ستة مقصات:

لون سبعة أجراس




اكتب:

سبعة	سبعة	7	7	7


ارسم سبعة اقلام:

احصر سبعة دوائر:



العدد ثمانية

لون ثمانية ايدي:

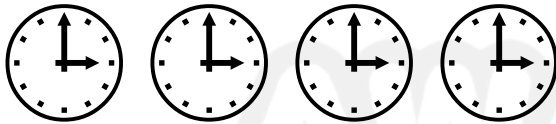
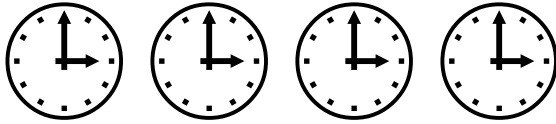


اكتب:

ثمانية	ثمانية	8	8	8

ارسم ثمانية:

احصر ثمانية ساعات:



العدد تسعة

لون تسعة دمي:



اكتب:

تسعة	تسعة	9	9	9


اليوم.....

الكتيب الإثرائي لمادة الرياضيات
الأول الأساسي

التاريخ.....

ارسم تسعة زهرات:

احصر تسعة اقلام:



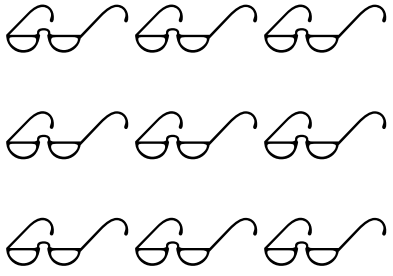


اكتب الأعداد المنقطة

0	1	2	3	4	5	6	7	8	9

مراجعة

ضع حول العدد المناسب:

		
6 7 8	6 2 8	2 9 3

التاريخ.....

الكتيب الإثرائي لمادة الرياضيات
الأول الأساسي

اليوم.....

ارسم كرات بحسب العدد

4

7

6

اكتب الأعداد


0	1								
---	---	--	--	--	--	--	--	--	--

			3		6				
--	--	--	---	--	---	--	--	--	--

						7		9	
--	--	--	--	--	--	---	--	---	--

العدد عشرة

أعد ثم أكتب:



عشرة	عشرة	10	10	10




التاريخ.....

الكتيب الإثرائي لمادة الرياضيات
الأول الأساسي

اليوم.....

10





أكمل الرسم ليصبح العدد

		
-----------------------------------------------------------------------------------	-----------------------------------------------------------------------------------	-------------------------------------------------------------------------------------

AWAZEL
LEARN 2 BE

(10 – 19)

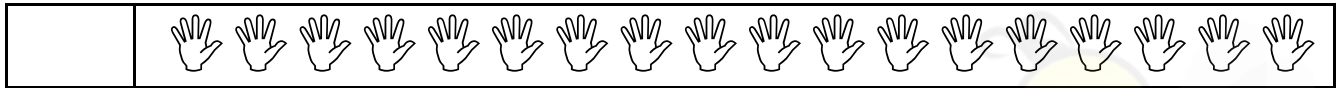

أعد ثم أكتب:

التاريخ.....

الكتيب الإثرائي لمادة الرياضيات
الأول الأساسي

اليوم.....



أكتب الأعداد مرتبة :

0		3				8	
10				15			19

أكتب :

10	11	12	13	14	15	16	17	18	19

التاريخ.....

الكتيب الإثرائي لمادة الرياضيات
الأول الأساسي

اليوم.....
