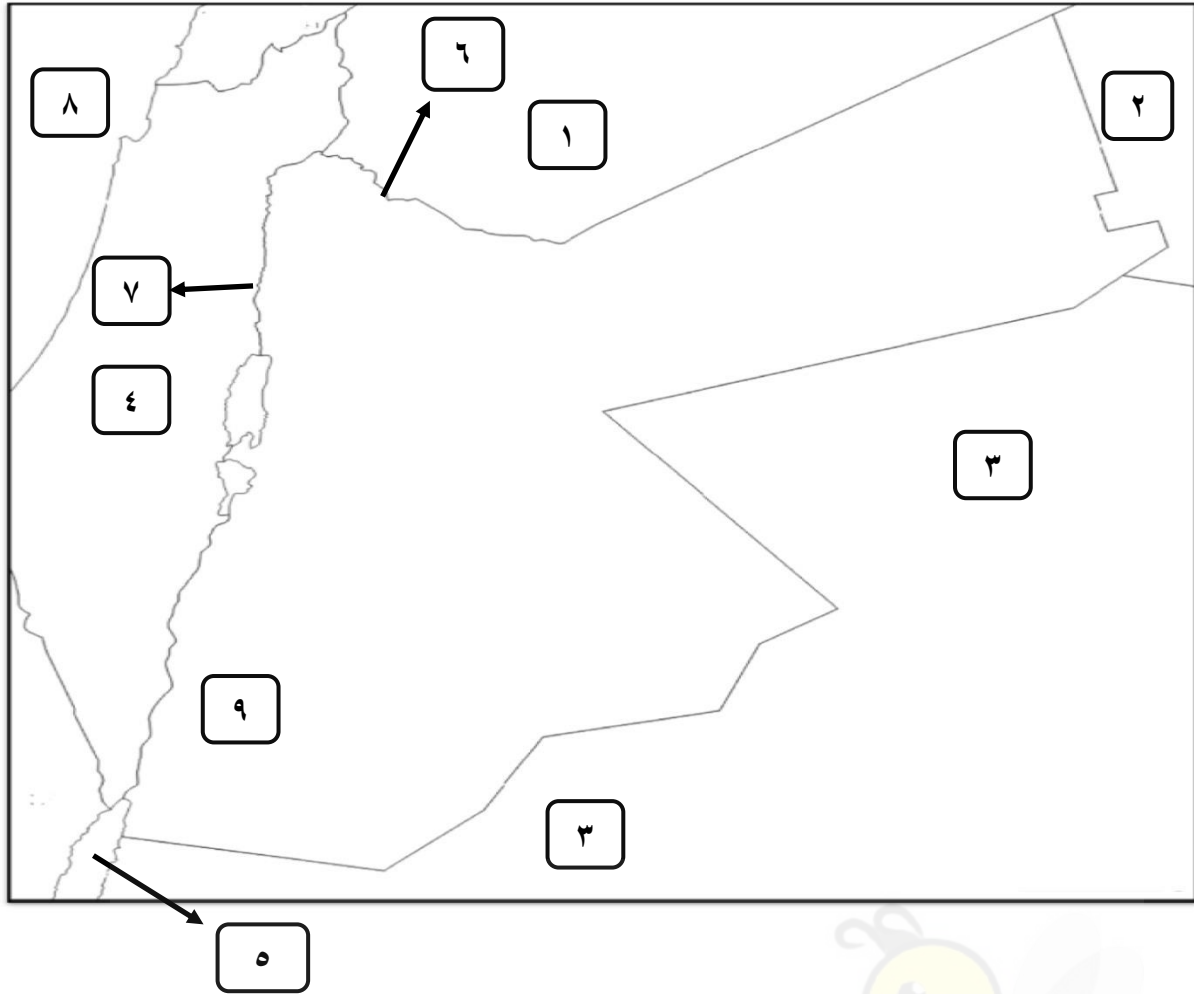


مهارات الخريطة والأشكال

المبحث : الجغرافيا (الفصل الدراسي الثاني) (المستوى الرابع)

الصف : الثاني الثانوي (الادبي)

س : انظر / انظري خريطة الأردن الصماء ، ثم اكتب / اکتبي ما تشير إليه الأرقام :



أ) دول لها حدود مشتركة مع الأردن : ١ - سوريا ٢ - العراق ٣ - السعودية ٤ - فلسطين

ب) منفذ بحري (واجهة بحرية وحيدة للأردن) : ٥ - خليج العقبة

ج) حدود طبيعية (أنهار) : ٦ - نهر اليرموك ٧ - نهر الأردن

د) مسطح مائي يصل تأثيره للأردن : ٨ - البحر المتوسط

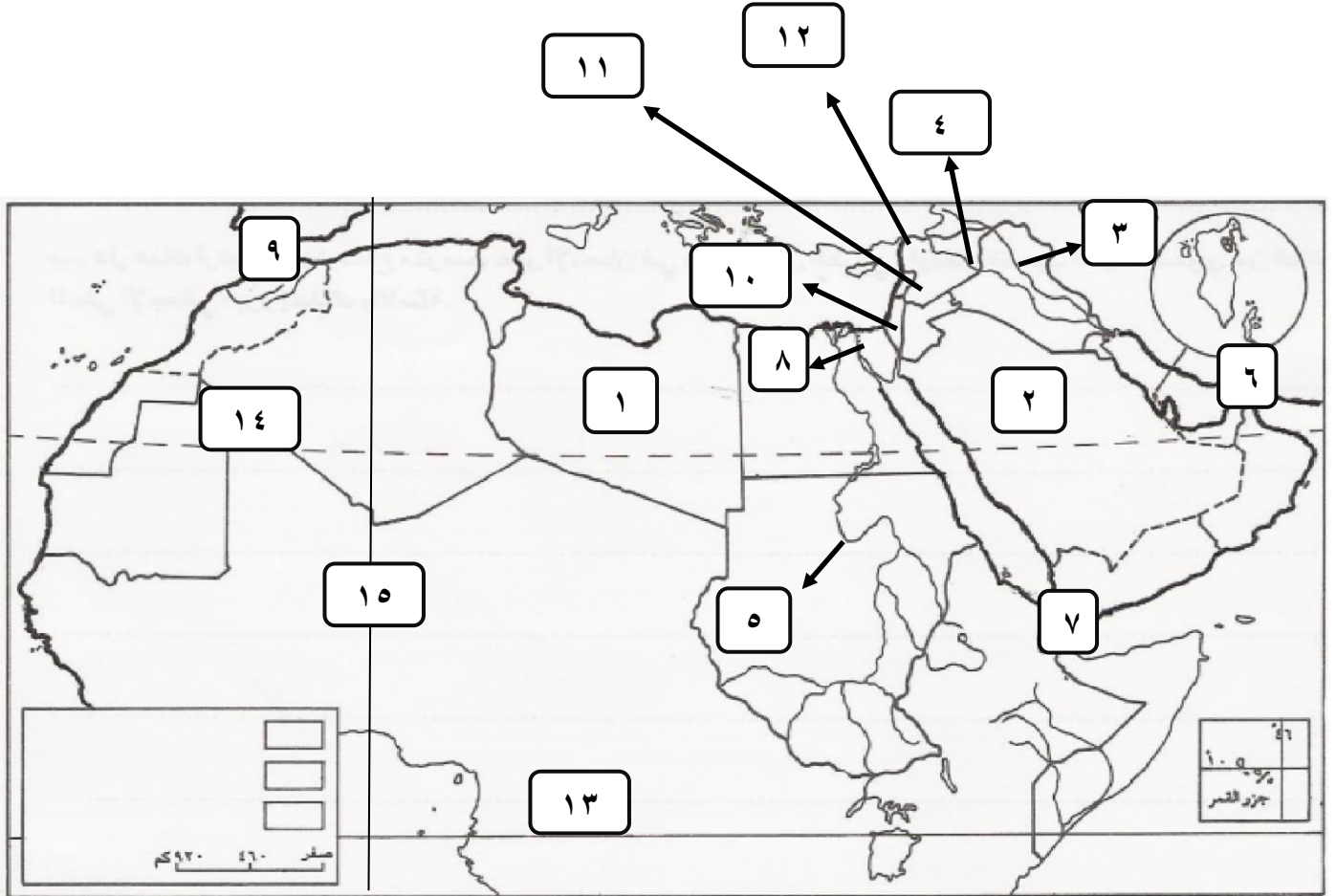
هـ) مواقع سياحية ناتجة عن عمليات التعرية الريحية : ٩ - صحراء وادي رم

و) دول عدلت حدودها مع الأردن : ٢ - العراق ٣ - السعودية

الأستاذ

قيصر صالح الغرابية

س : انظر / انظري خريطة الوطن العربي الصماء ، ثم اكتب / اکتبي ما تشير إليه الارقام :



أ - دولة حدودها حدود دولية فلكية : ١- ليبيا

ب - دولة عدلت حدودها مع الأردن : ٢- السعودية

ج - انهار دولية : ٣- دجلة ٤- الفرات ٥- النيل

د - مضائق وممرات مائية : ٦- هرمز ٧- باب المندب ٨- قناة السويس ٩- جبل طارق

هـ - مناطق محتلة من الوطن العربي : ١٠- فلسطين ١١- هضبة الجولان ١٢- لواء الاسكندرون

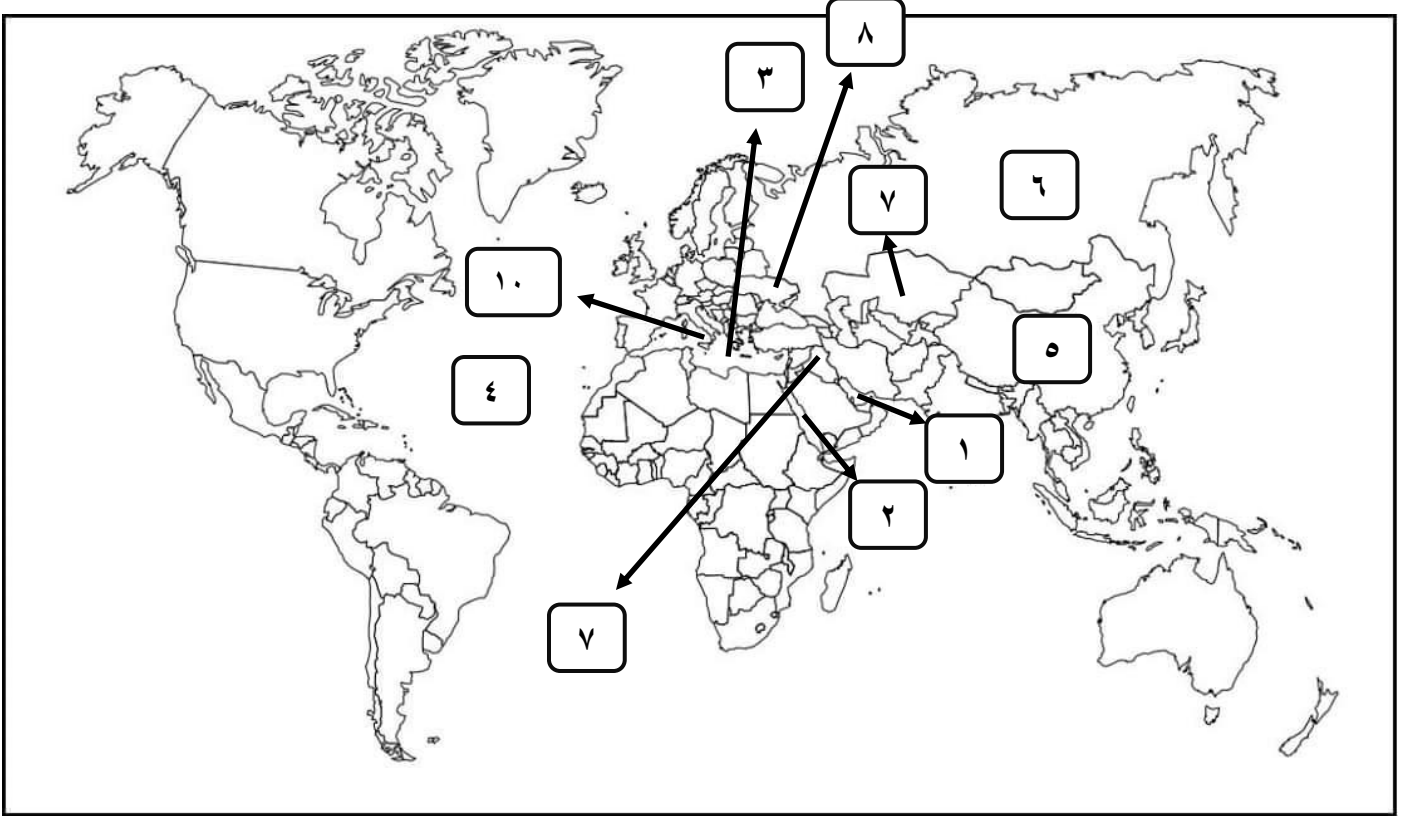
و - دوائر عرض رئيسة : ١٣- دائرة (خط) الاستواء ١٤- مدار السرطان

ز - خط طول رئيس : ١٥- غرينتش

الأستاذ

قيصر صالح الغرايبة

س : انظر / انظري خريطة العالم الصماء ، ثم اكتب اكتب ما تشير إليه الارقام :



أ) مسطحات مائية (بحار ومحيطات) :

١ - الخليج العربي ٢ - البحر الاحمر ٣ - البحر المتوسط ٤ - المحيط الاطلسي

ب) دولة تعيش فيها اقلية الكازاخ :

٥ - الصين

ج) دولة ظهرت بعد تفكك الاتحاد السوفيتي :

٦ - روسيا ٧ - كازاخستان ٨ - اوكرانيا

د) اقلية تعيش في شمال العراق يُسمح لها باستخدام لغتها الخاصة بها :

٩ - الكردية

هـ) دولة لا تسمح للاقليات باستخدام لغتها الخاصة بها :

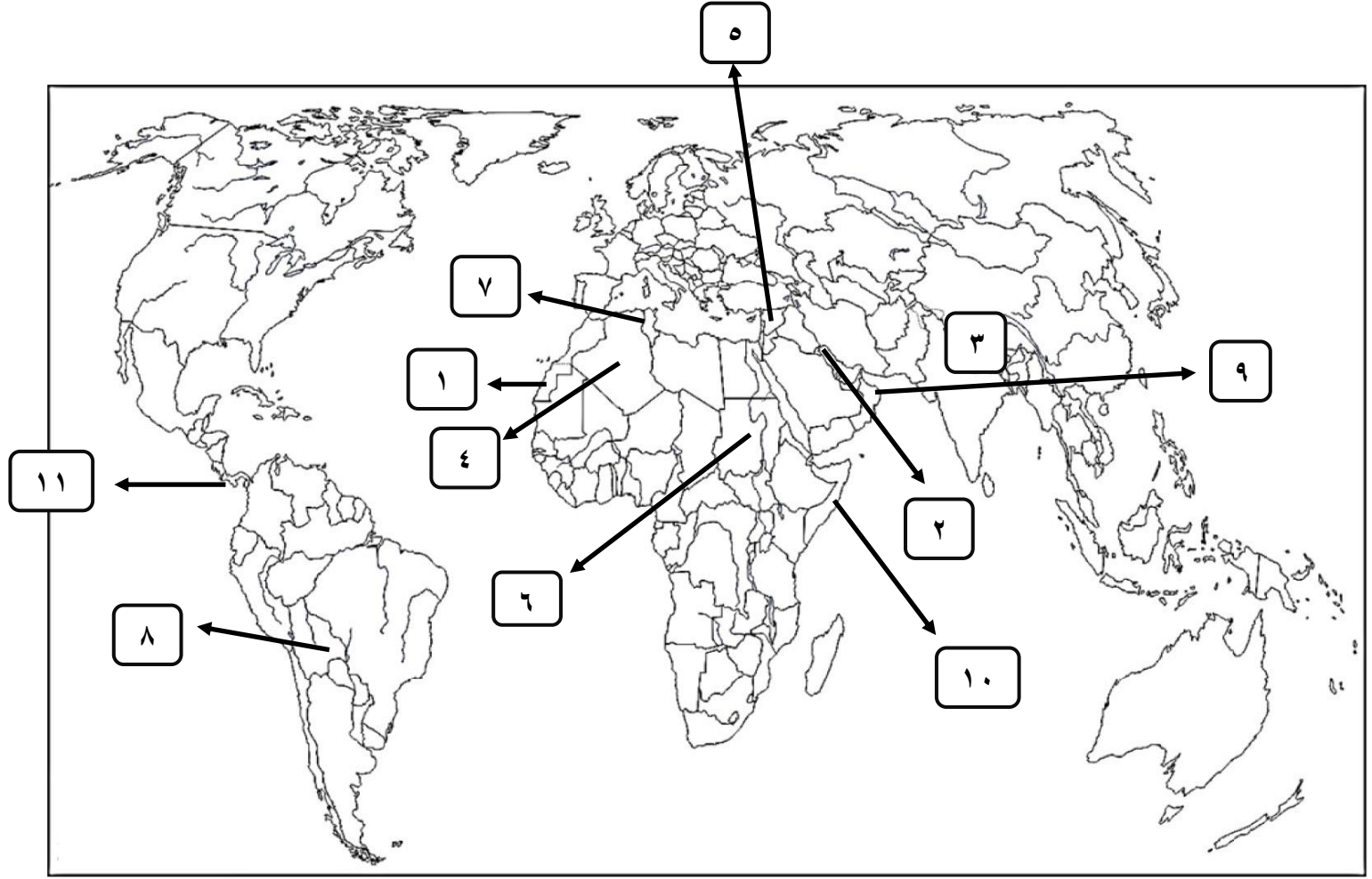
١٠ - ايطاليا

الأستاذ

قيصر صالح الغرايبة

AWAZEL
LEARN 2 BE

س : انظر / انظري خريطة العالم الصماء ، ثم اكتب اكتب ما تشير إليه الارقام :



أ) مناطق تعاني من مشكلات حدودية :

١ - الصحراء الغربية ٢ - شط العرب ٣ - التبت

ب) دولة عربية مؤيدة للجمهورية العربية الصحراوية الديمقراطية :

٤ - الجزائر

ج) دول تعاني من نزاعات وخلافات على تقسيم المياه الحدودية :

٥ - سوريا ٦ - السودان ٧ - تونس ٨ - بوليفيا

د) دول تعاني من نزاعات حول تعيين الحدود في المضائق المائية :

٩ - سلطنة عمان ١٠ - الصومال

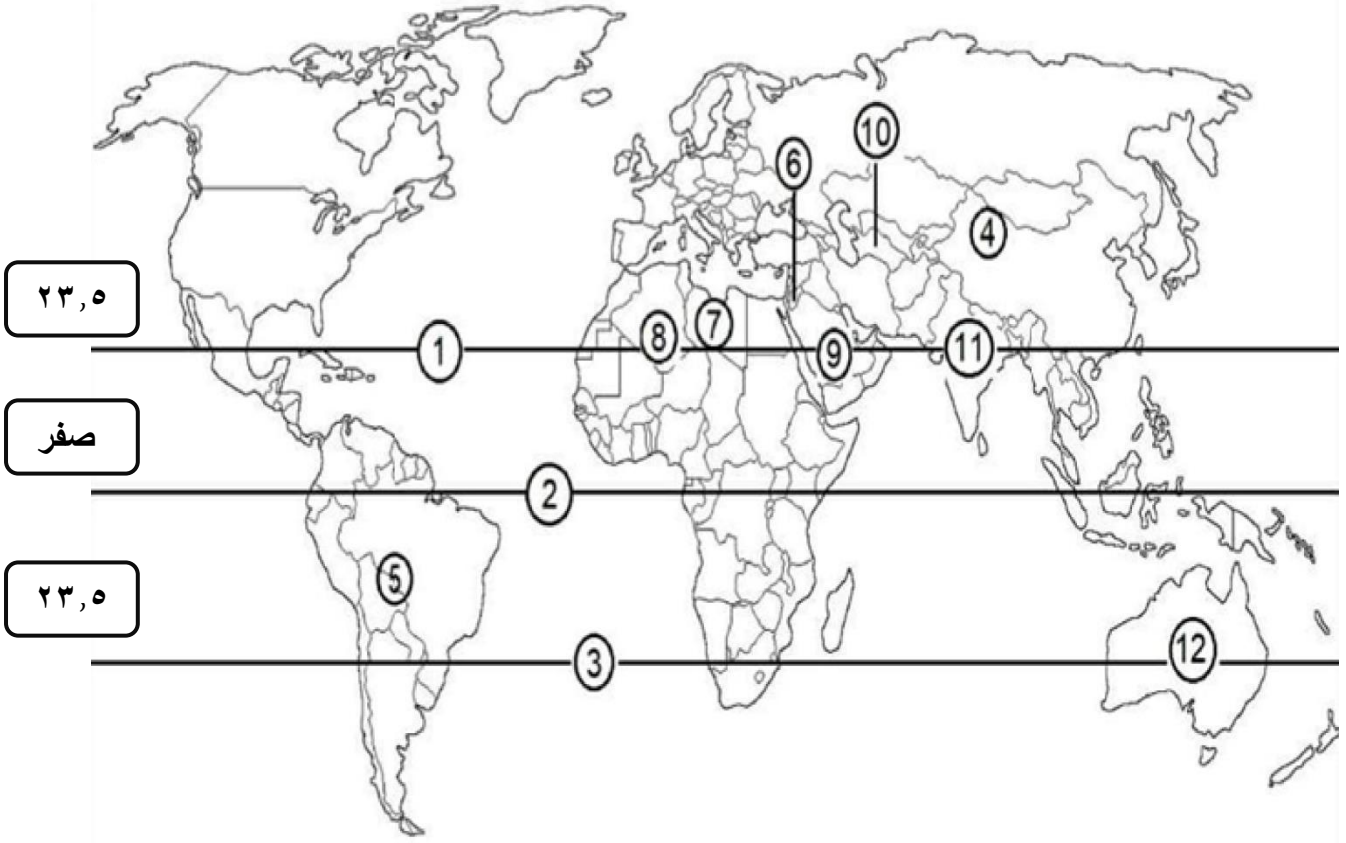
هـ) قناة بحرية يمكن ان يؤدي اغلاقها الى منع مرور النفط عبرها :

١١ - بنما

الأستاذ

قيصر صالح الغرايبة

س : انظر / انظري خريطة العالم الصماء ، ثم اكتب / اکتبي ما تشير إليه الارقام :



أ) دوائر عرض رئيسية :

١- السرطان ٢ - الاستواء ٣ - الجدي

ب) مناطق تنتشر فيها تربة اللويس :

٤ - وسط اسيا ٥ - امريكا الجنوبية

ج) دول تنتشر فيها صحاري حجرية (حصوية) :

٦ - الاردن ٧ - ليبيا

د) منطقة تنتشر فيها كثبان رملية هلالية :

الصحراء الافريقية الكبرى

هـ) منطقة تنتشر فيها كثبان رملية طولية :

٩ - صحراء شبه الجزيرة العربية

و) مناطق تنتشر فيها كثبان رملية نجمية :

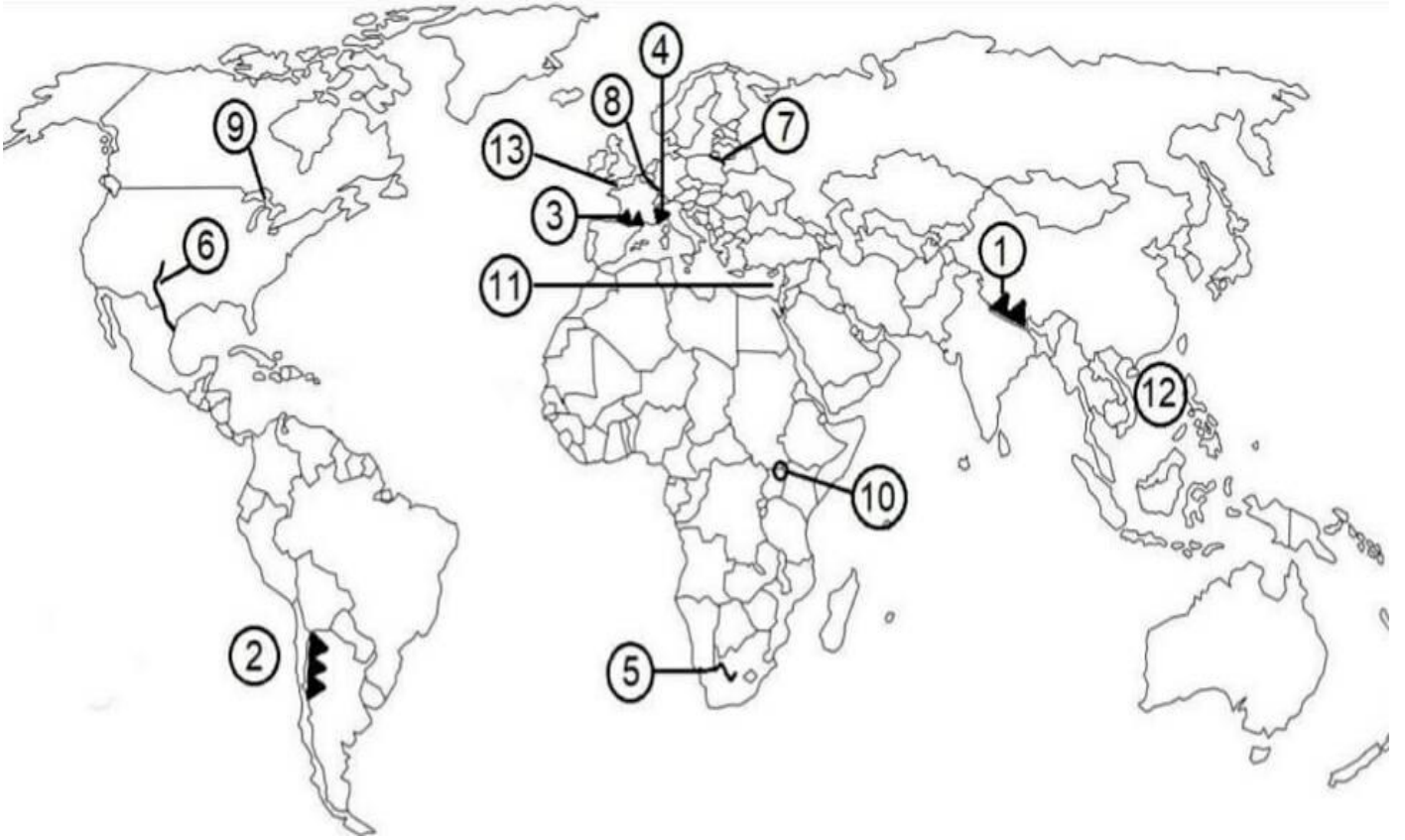
١٠ - تركمانستان ١١ - شمال غرب الهند ١٢ - الصحراء الاسترالية

الأستاذ

قيصر صالح الغرايبة

AWA2EL
LEARN 2 BE

س : انظر / انظري خريطة العالم الصماء ، ثم اكتب / اکتبي ما تشير إليه الارقام :



أ) سلاسل جبلية تُعد حدود طبيعية :

١ - الهملايا ٢ - الانديز ٣ - جبال البرانس (البرنيه) ٤ - جبال الالب

ب) انهار تُعد حدودا مائية :

٥ - نهر الاورانج ٦ - نهر ريوجراند ٧ - نهر بوج ٨ - نهر الراين

ج) بحيرات تُعد حدود مائية :

٩ - البحيرات الخمس العظمى ١٠ - فكتوريا

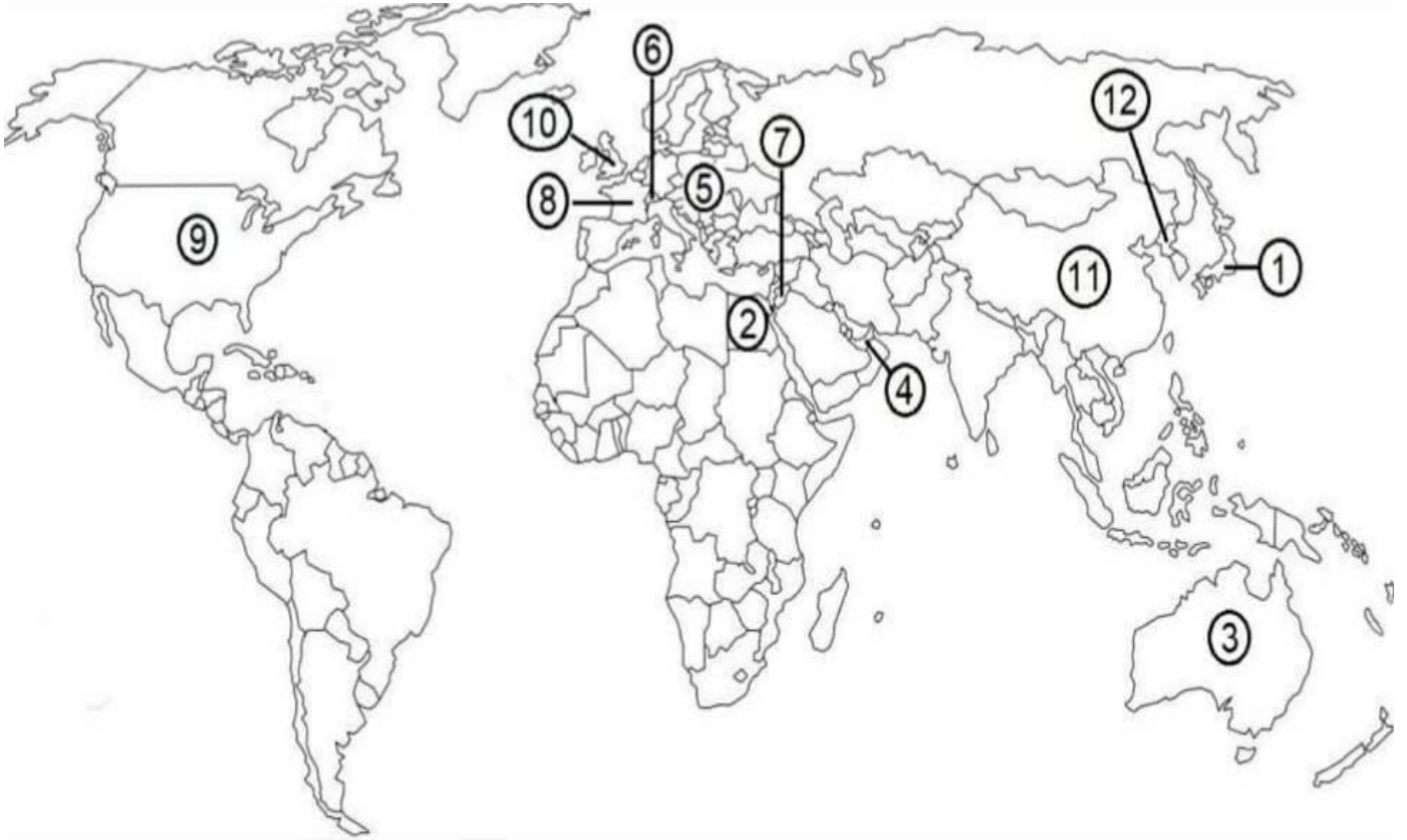
د) مياه اقليمية متداخلة السيادة فيها :

١١ - شرق البحر المتوسط ١٢ - بحر الصين الجنوبي ١٣ - منطقة القتال الانجليزي

الأستاذ

قيصر صالح الغرايبة

س : انظر / انظري خريطة العالم الصماء ، ثم اكتب / اکتبي ما تشير إليه الارقام :



أ (دول موحدة (مركزية) : ١ - اليابان ٢ - مصر

ب (دول اتحادية (اتحاد فدرالي) : ٣ - استراليا ٤ - الامارات العربية

ج (منطقه اتحادية (اتحاد كونفدرالي) : ٥ - الاتحاد الاوربي

د (دولة تحولت من كونفدرالية الى فدرالية : ٦ - سويسرا

هـ (دولة ذات نظام حكم ملكي وراثي : ٧ - الاردن

و (دولة ذات نظام حكم جمهوري : ٨ - فرنسا

ز (دولة ذات نظام حكم رئاسي : الولايات المتحدة الامريكية

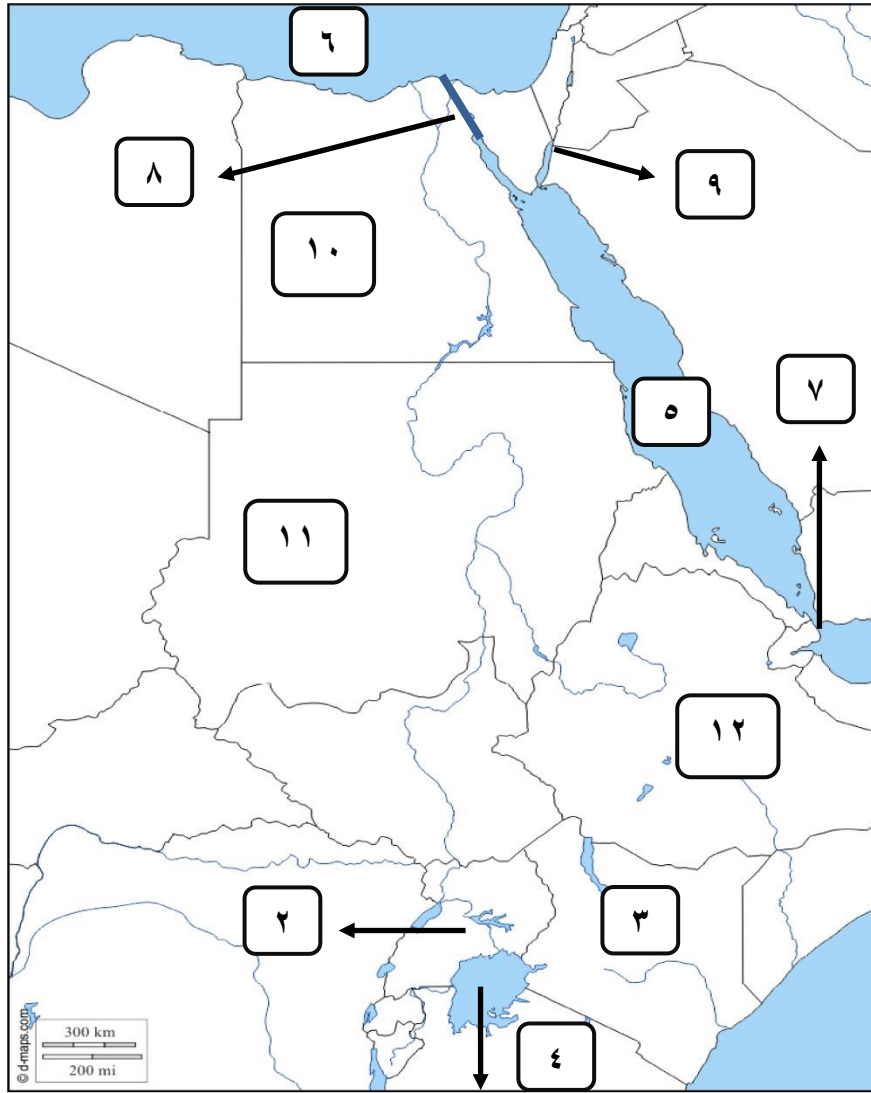
ح (دولة ذات نظام حكم برلماني : ١٠ - بريطانيا

ط (دول ذات نظام انتخابي (تمثيل المصالح والحرف) : ١١ - الصين ١٢ - كوريا الشمالية

الأستاذ

قيصر صالح الغرايبة

س : انظر / انظري خريطة حوض نهر النيل الصماء ، ثم اكتب / اکتبي ما تشير إليه الارقام :



الأستاذ
قيصر الغرايبة

أ) بحيرة حدودية : ١ - بحيرة فكتوريا

ب) دول حدودها مطلة على البحيرة : ٢ - اوغندا ٣ - كينيا ٤ - تنزانيا

ج) مسطحات مائية (بحار) : ٥ - البحر الاحمر ٦ - البحر المتوسط

د) مضيق مائي : ٧ - باب المندب

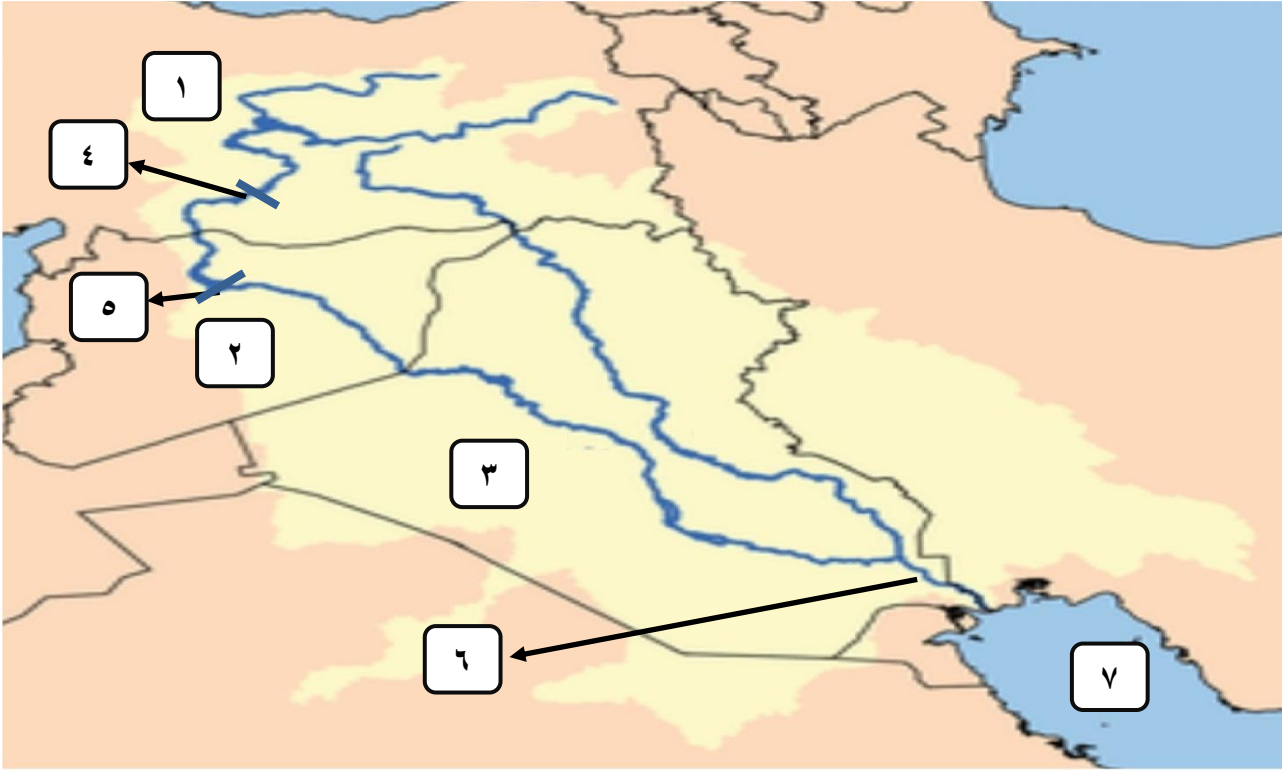
هـ) قناة مائية : ٨ - قناة السويس

و) منطقه رفضت اسرائيل الانسحاب منها بعد انسحابها من سيناء عام ١٩٨٢م : ٩ - طابا

ز) دول حدودها تسير وفق خطوط الطول ودوائر العرض (حدود فلكية) : ١٠ - مصر ١١ - السودان

ح) دولة تتحكم بمنابع نهر النيل قامت ببناء سد النهضة على النيل الأزرق : ١٢ - اثيوبيا

س : انظر / انظري خريطة حوض نهرالفرات الصماء ، ثمّ اكتب / اکتبي ما تشير إليه الارقام :



أ) دول مشتركة بحوض نهر الفرات :

١ - تركيا ٢ - سوريا ٣ - العراق

ب) مشروعات مائية اقيمت على نهر الفرات (سدود وبحيرات اصطناعية) :

٤ - سد اتاتورك ٥ - سد الفرات (بحيرة الأسد)

ج) نقطة التقاء نهر الفرات بنهر دجلة :

٦ - شط العرب

د) مصب نهري دجلة والفرات :

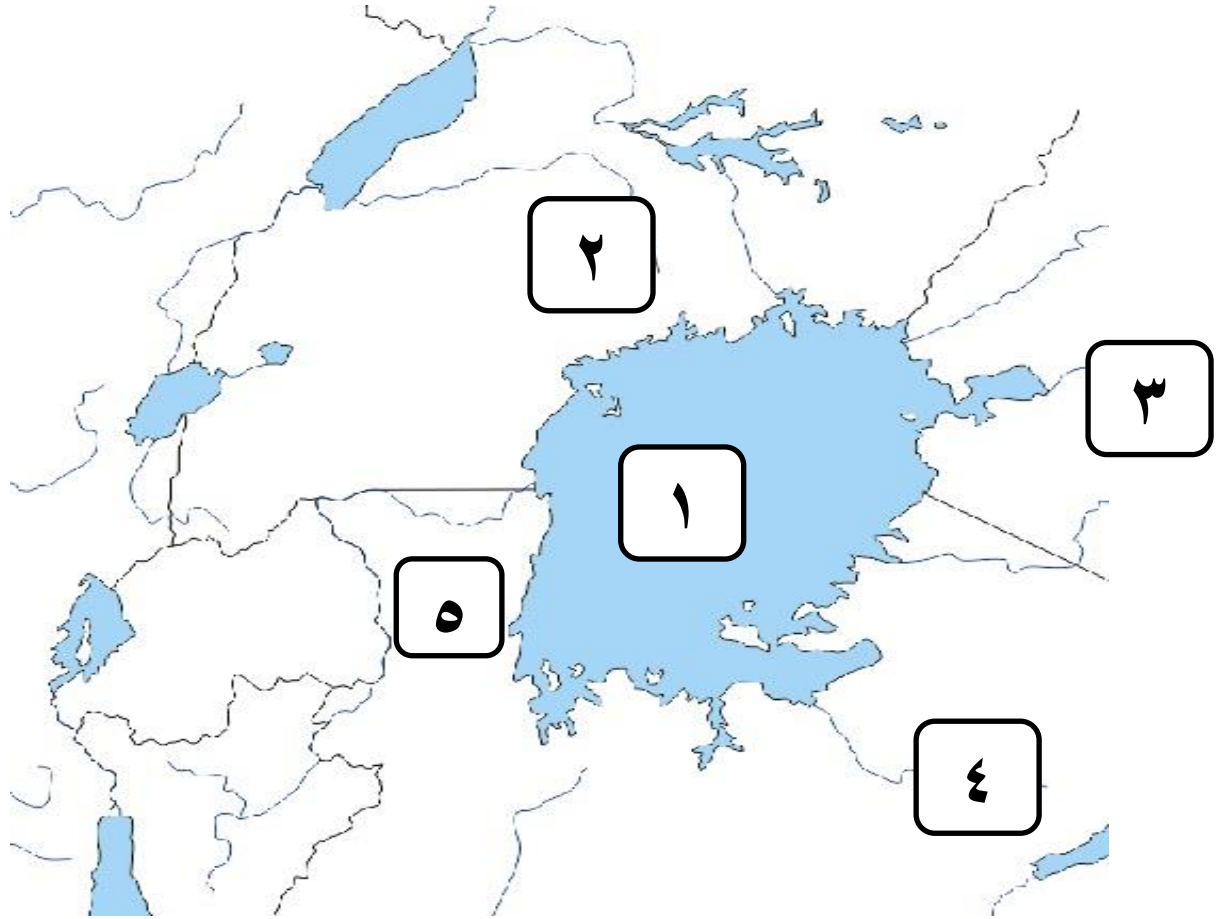
٧ - الخليج العربي

الأستاذ

قيصر صالح الغرايبة

AWA2EL
LEARN 2 BE

س : انظر / انظري خريطة منبع نهر النيل الصمء ، ثم اكتب / اکتبي ما تشير إليه الارقام :



أ (مسطح مائي : ١ . بحيرة فيكتوريا

ب (دول تشکل بحيرة فکتوريا حدودا سياسية بينها :

٥. روندا

٤. تنزانيا

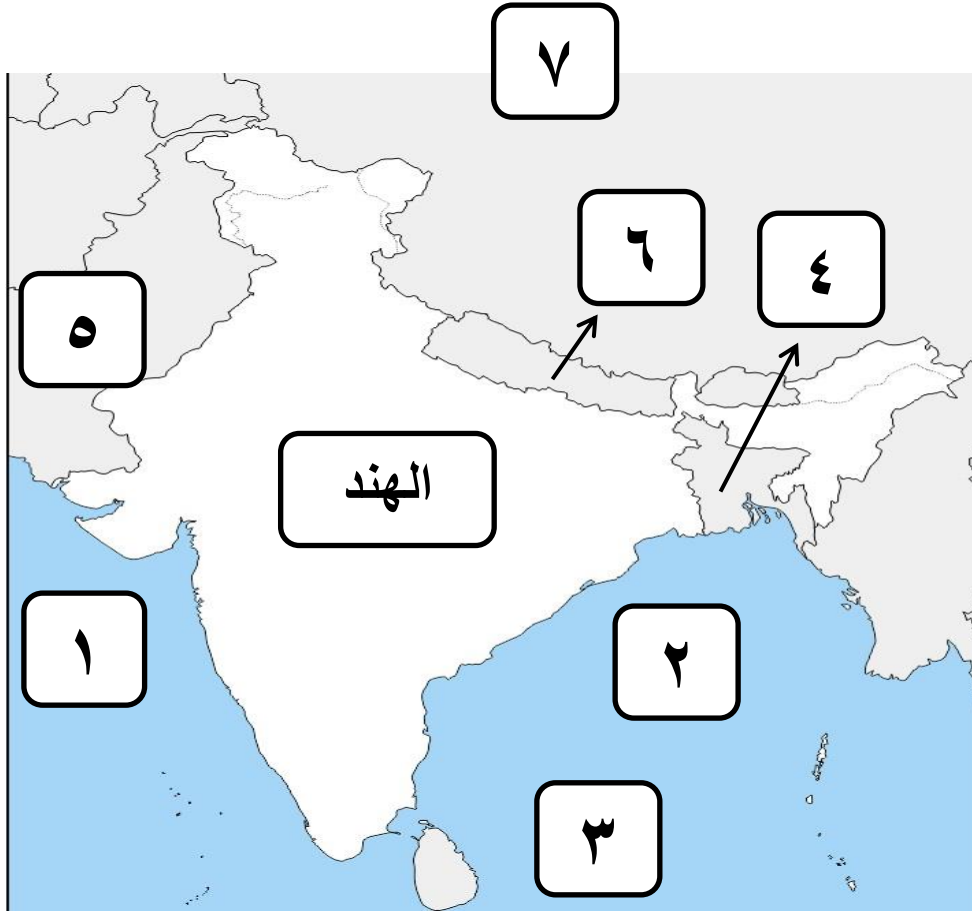
٣. كينيا

٢. اوغندا

الأستاذ

قيصر صالح الغرايبة

س : انظر / انظري خريطة شبه القارة الهندية الصماء ، ثم اكتب / اکتبي ما تشير إليه الارقام :



أ (مسطحات مائية : ١. بحر العرب ٢. خليج البنغال ٣. المحيط الهندي

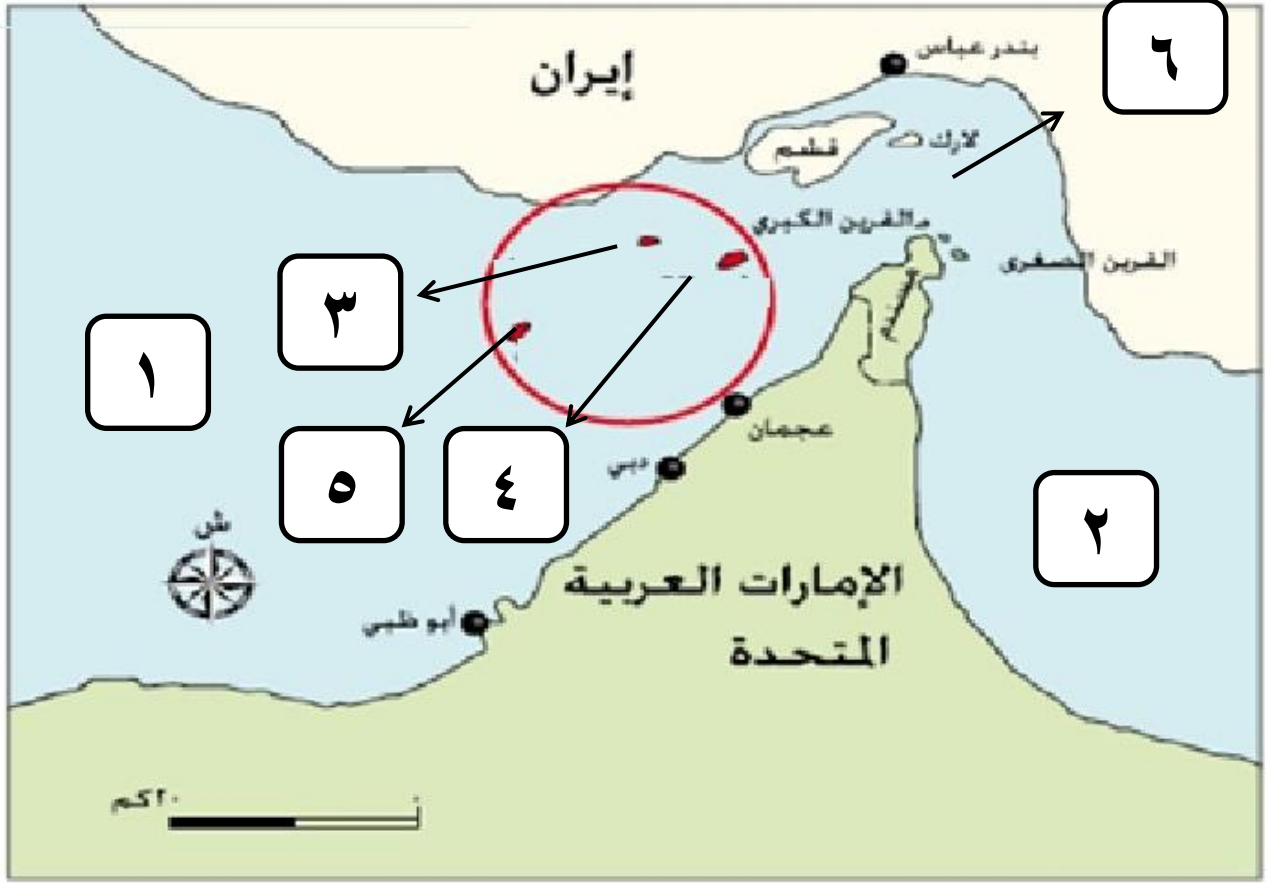
ب (دول مجاورة للهند : ٤. بنغلاديش ٥. باكستان ٦. بوتان ٧. الصين

الأستاذ

قيصر صالح الغرايبة

AWAZEL
LEARN 2 BE

س : انظر / انظري خريطة الخليج العربي الصماء ، ثم اكتب اكتب ما تشير إليه الارقام :



أ (مسطحات مائية : ١ . الخليج العربي ٢ . خليج عُمان

ب (جزر متنازع عليها بين ايران والامارات العربية المتحدة : ٣ . ظنب الصعري ٤ . ظنب الكبرى ٥ . أبو موسى

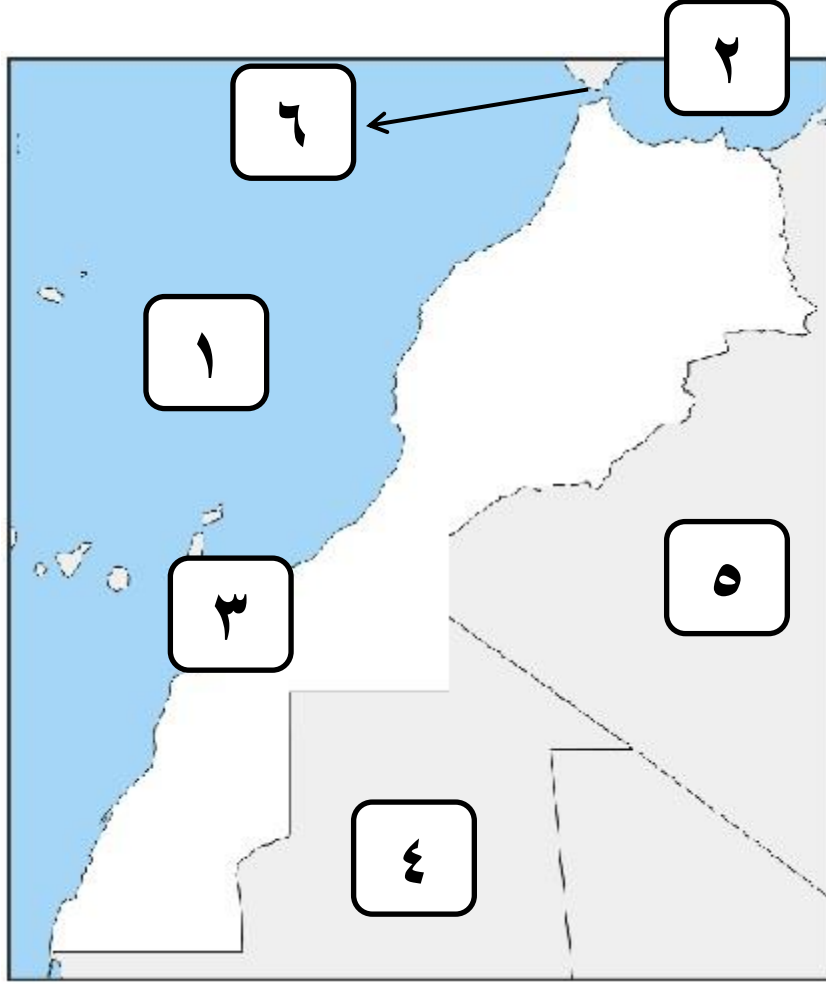
ج (مضيق (ممر) مائي : ٦ . مضيق هرمز

الأستاذ

قيصر صالح الغرايبة

AWAZEL
LEARN 2 BE

س : انظر/ انظري خريطة المغرب العربي الصماء ، ثمّ اكتب / اکتبي ما تشير إليه الارقام :



أ (مسطحات مائية : ١. المحيط الاطلسي ٢. البحر المتوسط

ب (منطقة متنازع عليها بين المملكة المغربية وجبهة البوليساريو : ٣. الصحراء الغربية (المغربية)

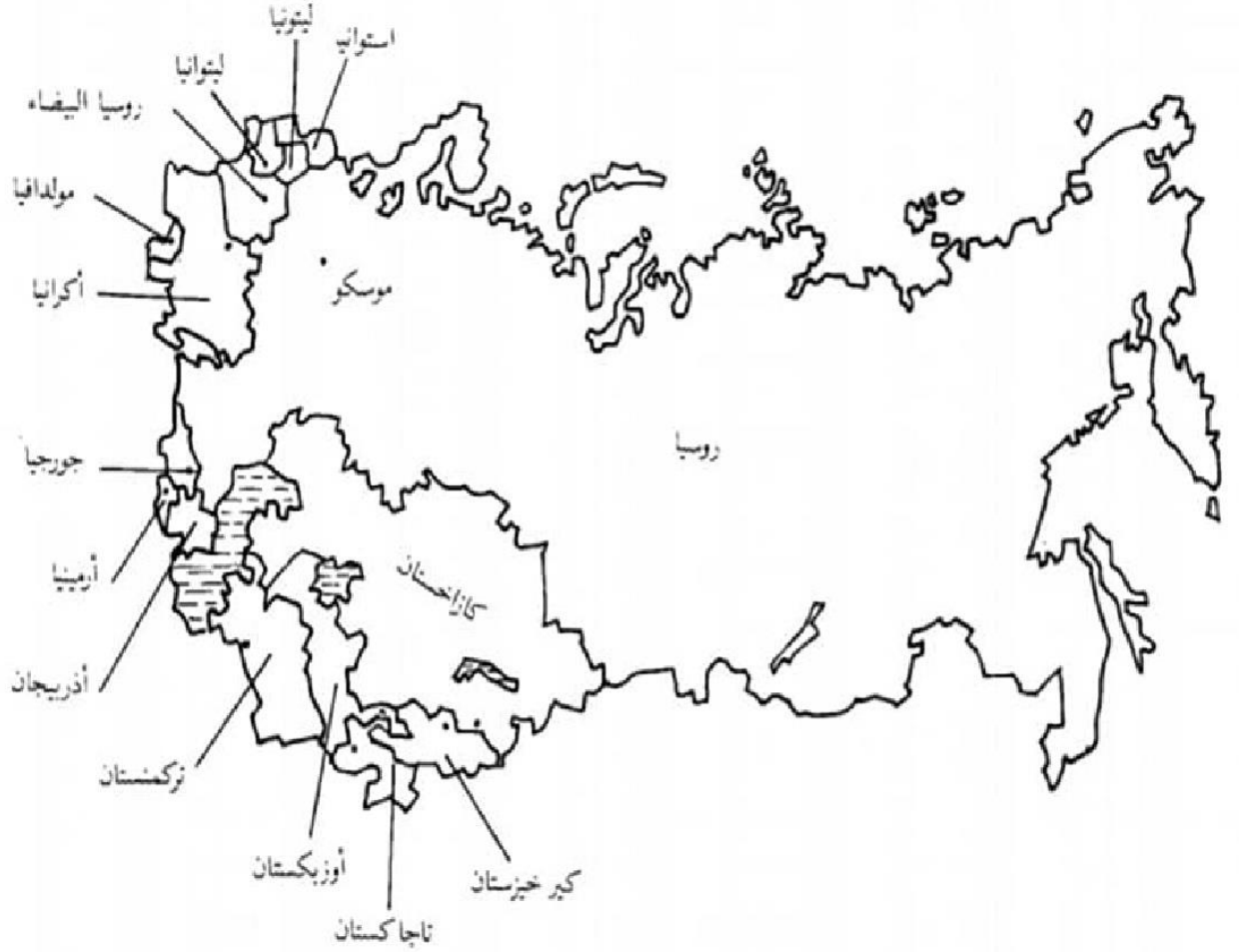
ج (دول مجاورة للمملكة المغربية : ٤. موريتانيا ٥. الجزائر

د (مضيق (ممر) مائي : ٦. مضيق جبل طارق

الأستاذ

قيصر صالح الغرايبة

- الدول التي استقلت عن الاتحاد السوفياتي السابق :

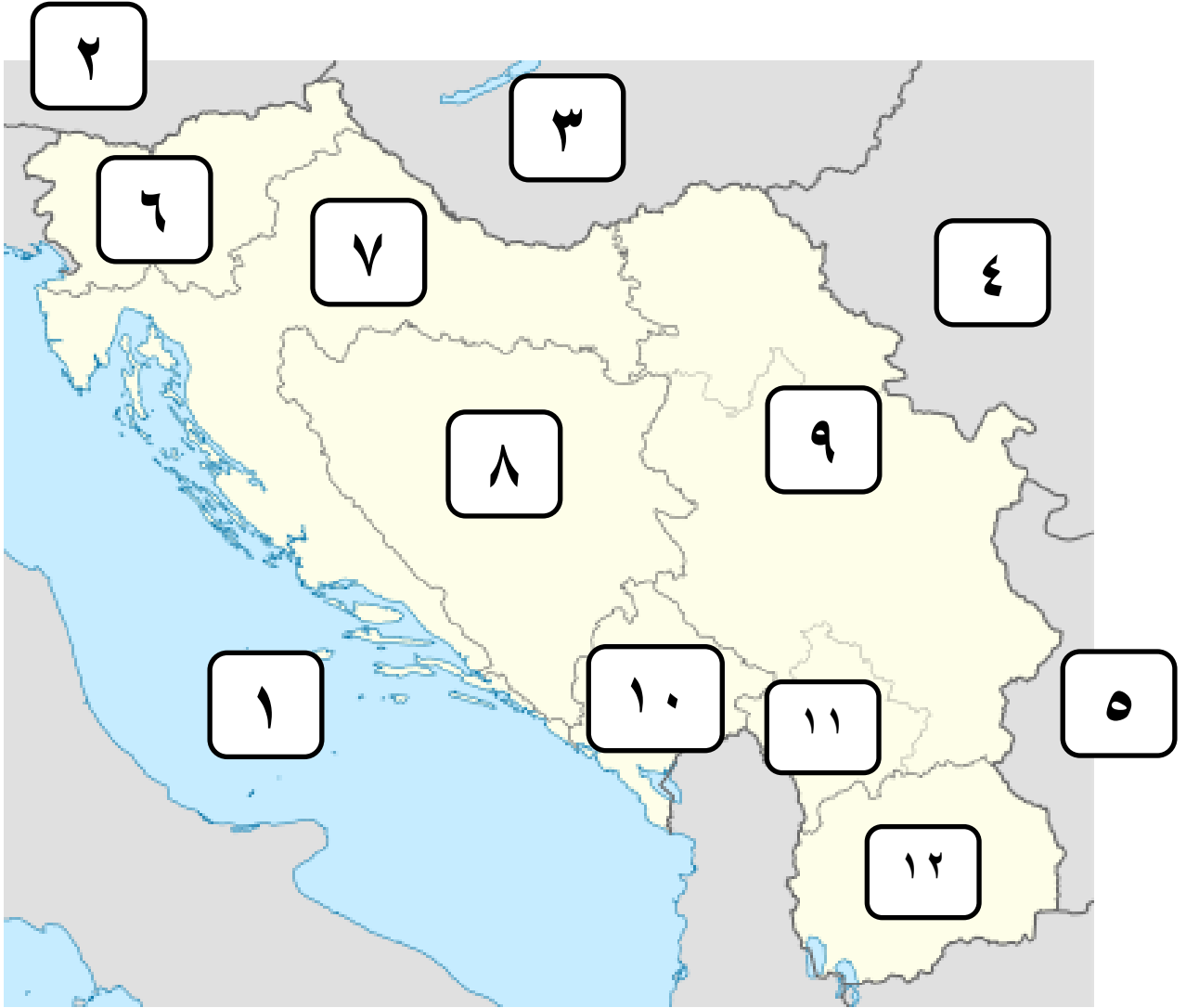


الأستاذ

قيصر صالح الغرايبة



س : انظر / انظري خريطة الاتحاد اليوغسلافي السابق الصماء ، ثم اكتب / اکتبي ما تشير إليه الارقام :



أ (مسطحات مائية : ١. البحر الادرياتيک

ب (دول مجاورة : ٢. النمسا ٣. المجر ٤. رومانيا ٥. بلغاريا

ج (دول استقلت عن الاتحاد اليوغسلافي السابق :

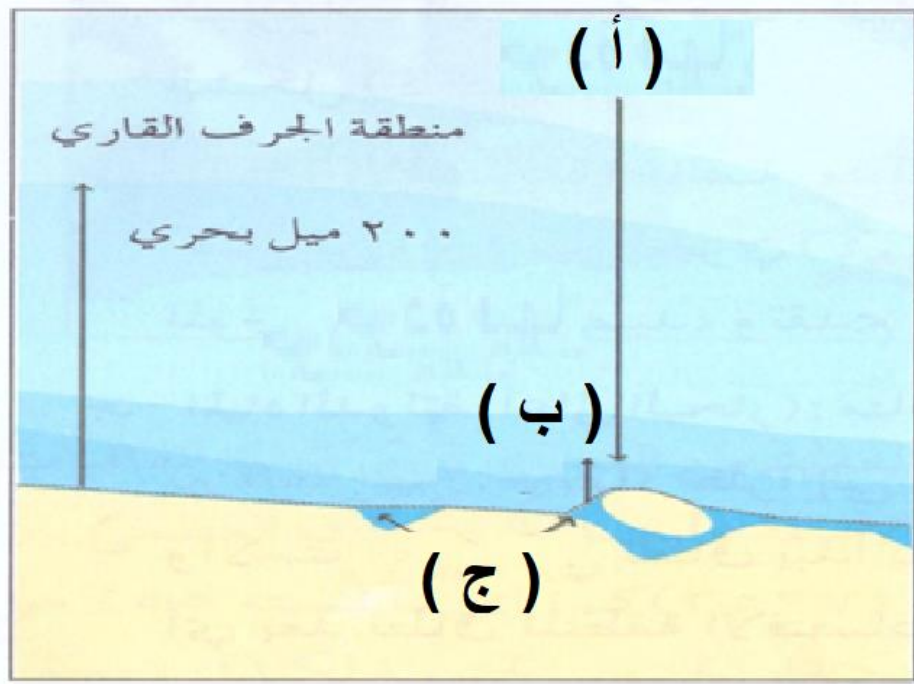
٦. سلوفينيا ٧. كرواتيا ٨. البوسنة والهرسك ٩. صربيا

١٠. الجبل الأسود ١١. كوسوفو ١٢. مقدونيا

الأستاذ

قيصر صالح الغرايبة

س : امعن امعني النظر في الشكل الآتي ، ثم اكتب / اكتبى الأجزاء المشار إليها بالرموز (أ ، ب ، ج) :



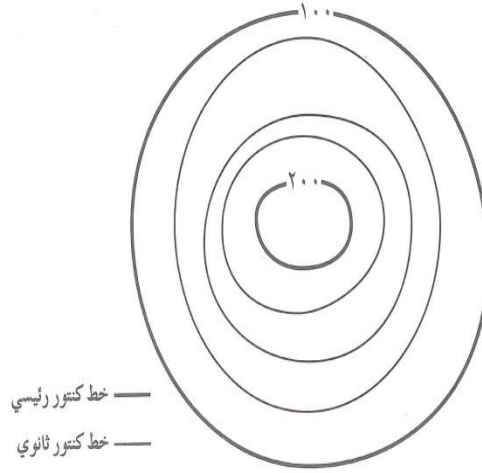
- الرمز (أ) يمثل مستوى من مستويات المياه وهو المياه الدولية.
- الرمز (ب) يمثل مستوى من مستويات المياه وهو المياه الإقليمية.
- الرمز (ج) يمثل مستوى من مستويات المياه وهو المياه الد.

الأستاذ

قيصر صالح الغرايبة

AWAZEL
LEARN 2 BE

س : احسب / احسبى الفاصل الرأسى فى الخريطة الطبوغرافية الآتية :

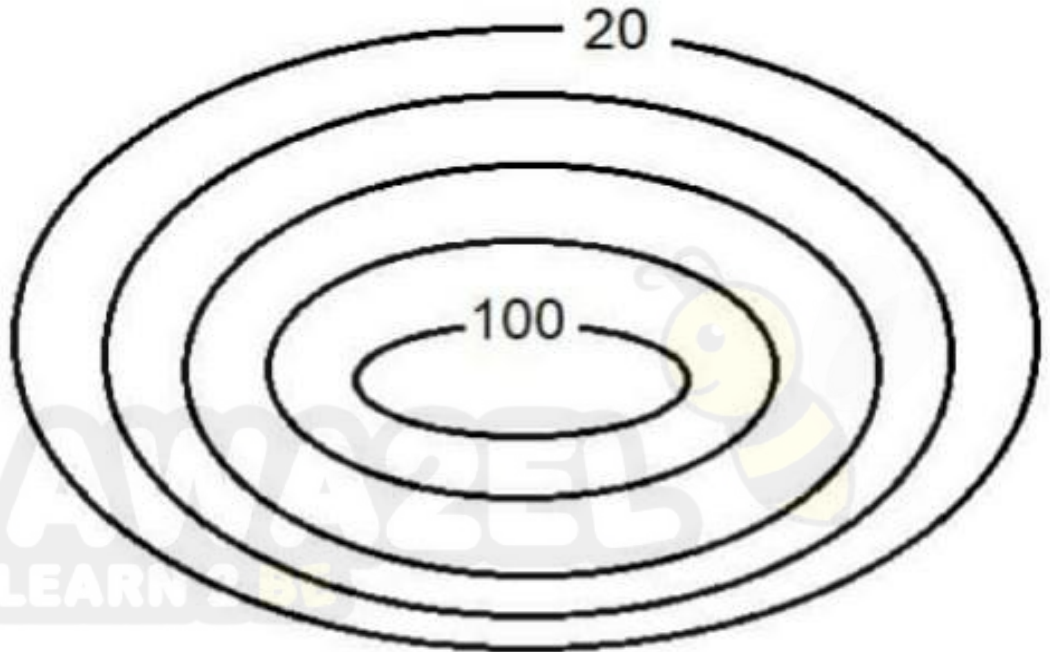


لحساب قيمة الفاصل الرأسى نقوم بالخطوات الآتية :

نضع القانون وهو : الفاصل الرأسى = الفرق بين خطى كنتور رئيسيين متتابعين \div (عدد الخطوط بينهما + ١)

$$\text{الفاصل الرأسى} = ٢٠٠ - ١٠٠ = (٣ + ١) \div ١٠٠ = ٤ \div ١٠٠ = ٢٥$$

س : انظر / انظرى الخريطة الطبوغرافية الآتية ، ثم اجب / اجيبى عن الاسئلة التى تليها :



أ) احسب / احسبي الفاصل الرأسى لهذه الخريطة.

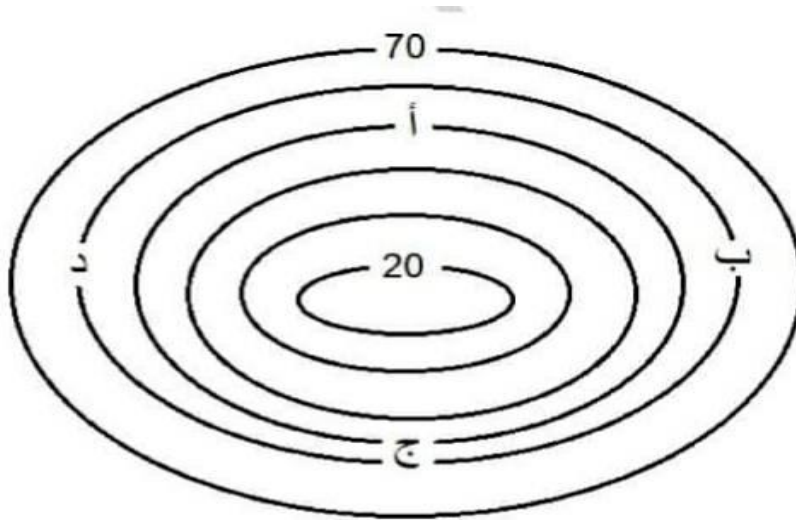
الفاصل الرأسى = الفرق بين خطى كنتور رئيسيين متتابعين ÷ (عدد الخطوط بينهما + ١)

$$(١ + ٣) ÷ ٨٠ = ٢٠ - ١٠٠ =$$

$$٢٠ = ٤ ÷ ٨٠ =$$

ب) ما الشكل الأرضى الذى تمثله هذه الخريطة ؟ ولماذا ؟ الشكل الأرضى هنا (مرتفع) ، والسبب لأن خطوط الكنتور تأخذ شكل حلقات مغلقة وتتزايد قيم الارتفاع نحو الداخل .

س : انظر / انظري الخريطة الطبوغرافية الآتية ، ثم اجب / اجيبى عن الاسئلة التى تليها :

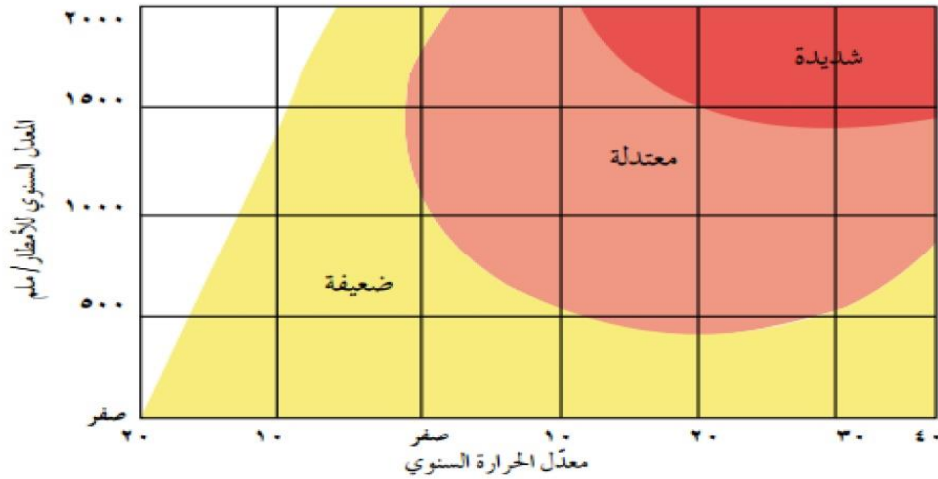


أ) الخريطة الطبوغرافية أعلاه تمثل (منخفض) ، لأن خطوط الكنتور تأخذ شكل حلقات مغلقة وتتناقص قيم الارتفاع نحو الداخل.

ب) أكثر الجهات انحدارا فى الخريطة الطبوغرافية السابقة هى المنطقة المشار إليها بالرمز (ج) ، وذلك بسبب تقارب خطوط الكنتور فى الخريطة.

AWAZEL
LEARN 2 BE

س : ادرس / ادرسي الشكل الآتي الذي يمثل العلاقة بين التجوية الكيميائية والحرارة والأمطار ، ثم أجب / اجبني عن الأسئلة التي تليه :

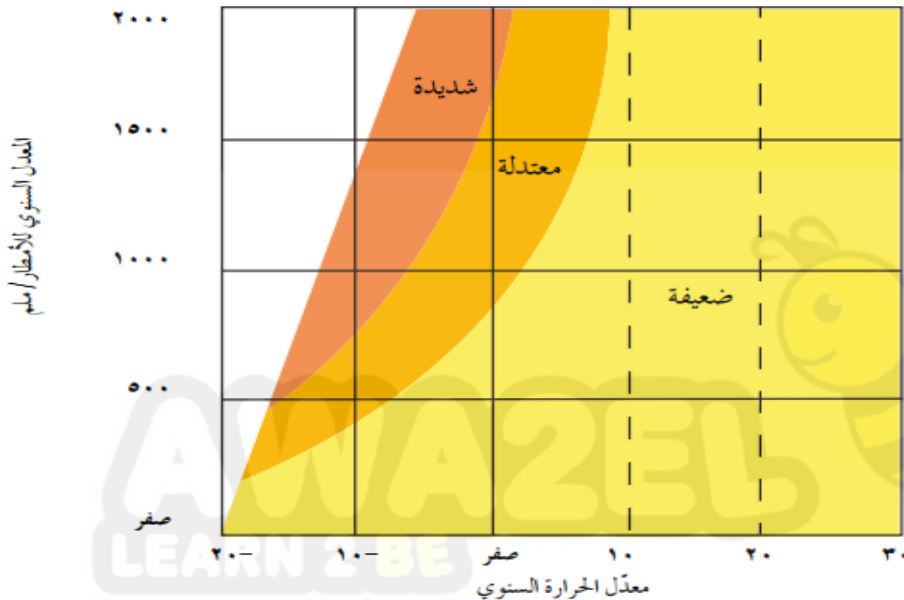


أ) ما مستويات التجوية الواردة في الشكل ؟ شديدة ، معتدلة ، ضعيفة.

ب) ما العلاقة بين التجوية الكيميائية والمعدل السنوي للأمطار؟ العلاقة طردية كلما زاد المعدل السنوي للأمطار زادت التجوية الكيميائية ، وكلما نقص المعدل السنوي للأمطار نقصت وقلت التجوية الكيميائية.

ج) ما العلاقة بين التجوية الكيميائية ومعدل الحرارة السنوي ؟ العلاقة طردية كلما زاد المعدل الحرارة السنوي زادت التجوية الكيميائية ، وكلما نقص معدل الحرارة السنوي نقصت وقلت التجوية الكيميائية.

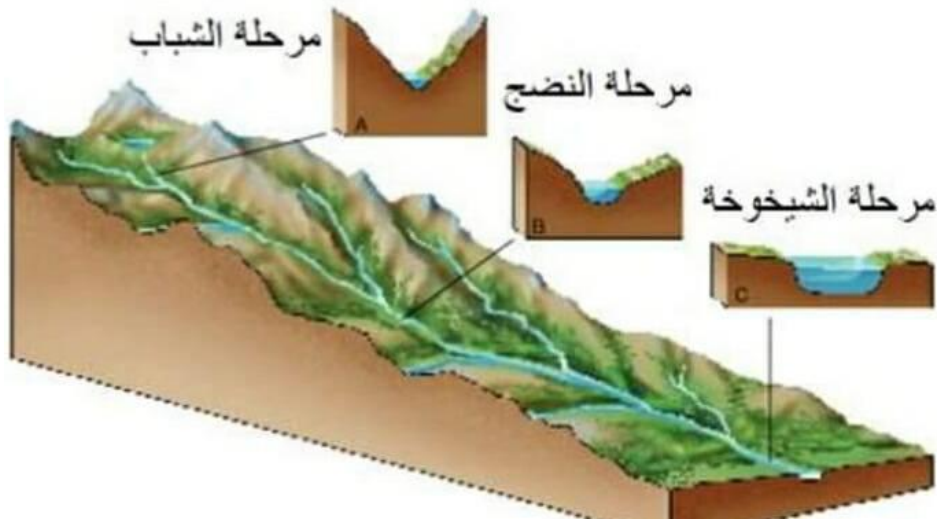
س : ادرس / ادرسي الشكل الآتي والذي يمثل العلاقة بين التجوية الميكانيكية والحرارة والأمطار ، ثم أجب / اجبني عن الأسئلة التي تليه :



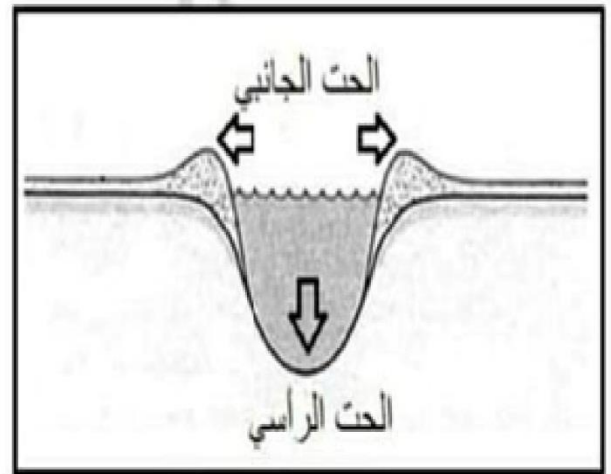
أ) ما مستويات التجوية الواردة في الشكل ؟ شديدة ، معتدلة ، ضعيفة.

ب) كَوْن تعميماً يوضح بين التجوية الميكانيكية والحرارة. العلاقة عكسية كلما زاد معدل الحرارة السنوي تناقصت وقلت التجوية الميكانيكية ، وكلما نقص معدل الحرارة السنوي زادت التجوية الميكانيكية.

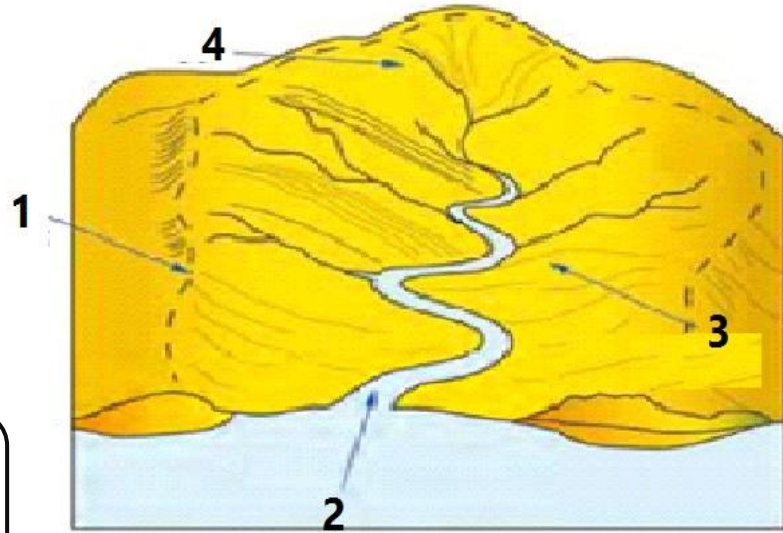
س : مراحل دورة التعرية النهرية أو المراحل التي يمر بها النهر : (الشباب ، النضج ، الشيخوخة)



يعمل الحت الراسي على تعميق لمجرى الوادي النهري.
أما الحت الجانبي فيعمل على توسيع عرض القناة النهرية.



س : درس / الدرسي الشكل الآتي ، ثم اجب / اجيبي عن الاسئلة تليه :



الأستاذ


قيصر صالح الغرايبة

- أ - العنصر الذي يمثله الرقم (١) من الحوض النهري هو : خط تقسيم المياه.
ب - العنصر الذي يمثله الرقم (٢) من الحوض النهري هو : المصب.
ج - العنصر الذي يمثله الرقم (٣) من الحوض النهري هو : المجرى.
د - العنصر الذي يمثله الرقم (٤) من الحوض النهري هو : الرافد / الروافد.
هـ - المساحة المحصورة داخل الخط المتقطع تسمى بـ : حوض التصريف النهري.

س : اكتب / اکتبي نوع الكثبان الرملية في الشكل الآتي :



س : ادرس / ادرسي الشكل الآتي ، ثمّ اجب / اجيبي عن الاسئلة التي تليه :



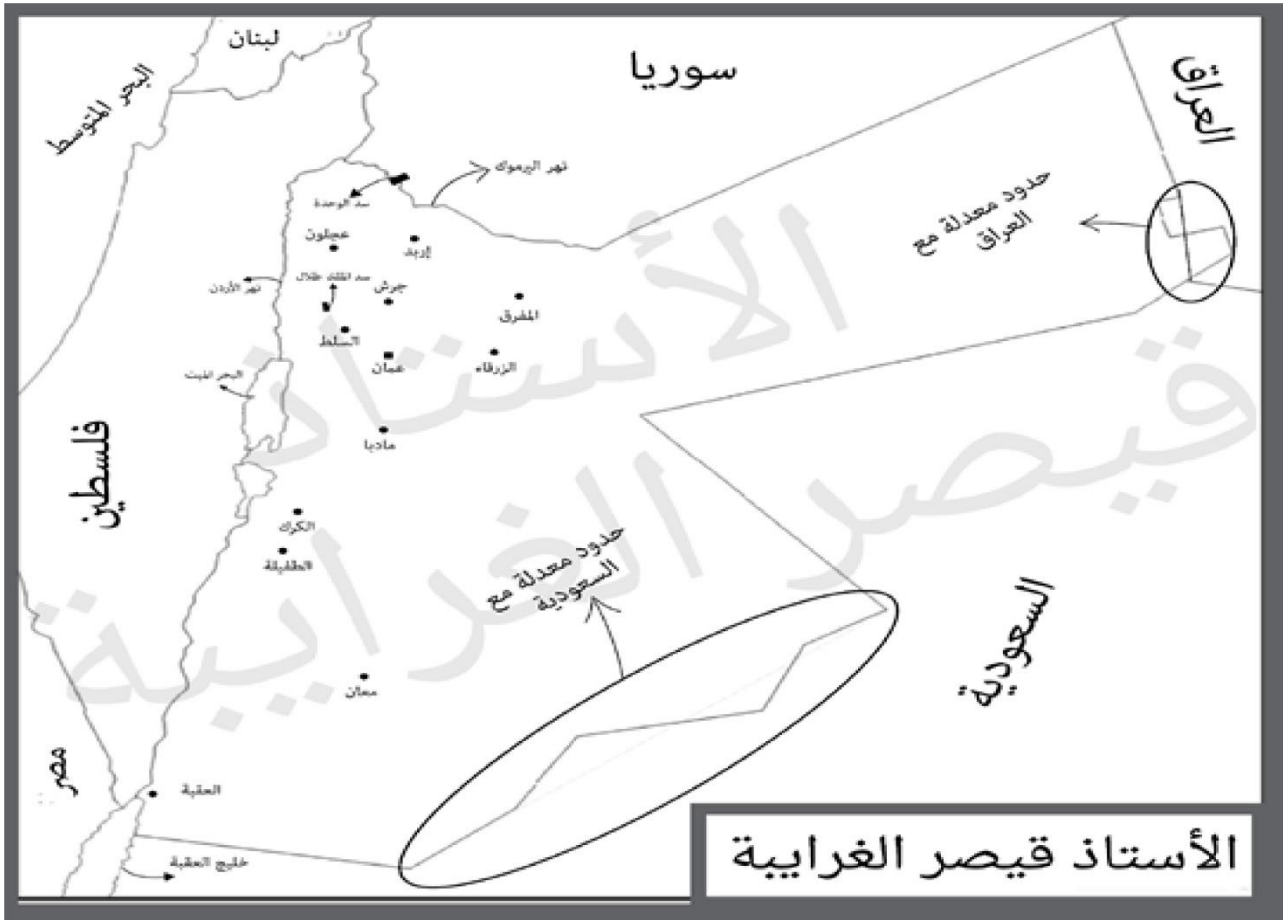
- ١- ما اسم العملية التي يقوم بها النهر كما يوضحها الشكل ؟ الحت التراجعي / الحت باتجاه المنبع.
- ٢- ما نوع الصخور التي يشير إليها الرقم (١) في الشكل ؟ صخور نارية / صخور صلبة.
- ٣- ما نوع الصخور التي يشير إليها الرقم (٢) في الشكل ؟ صخور رسوبية / جيرية / صخور ليّنة.

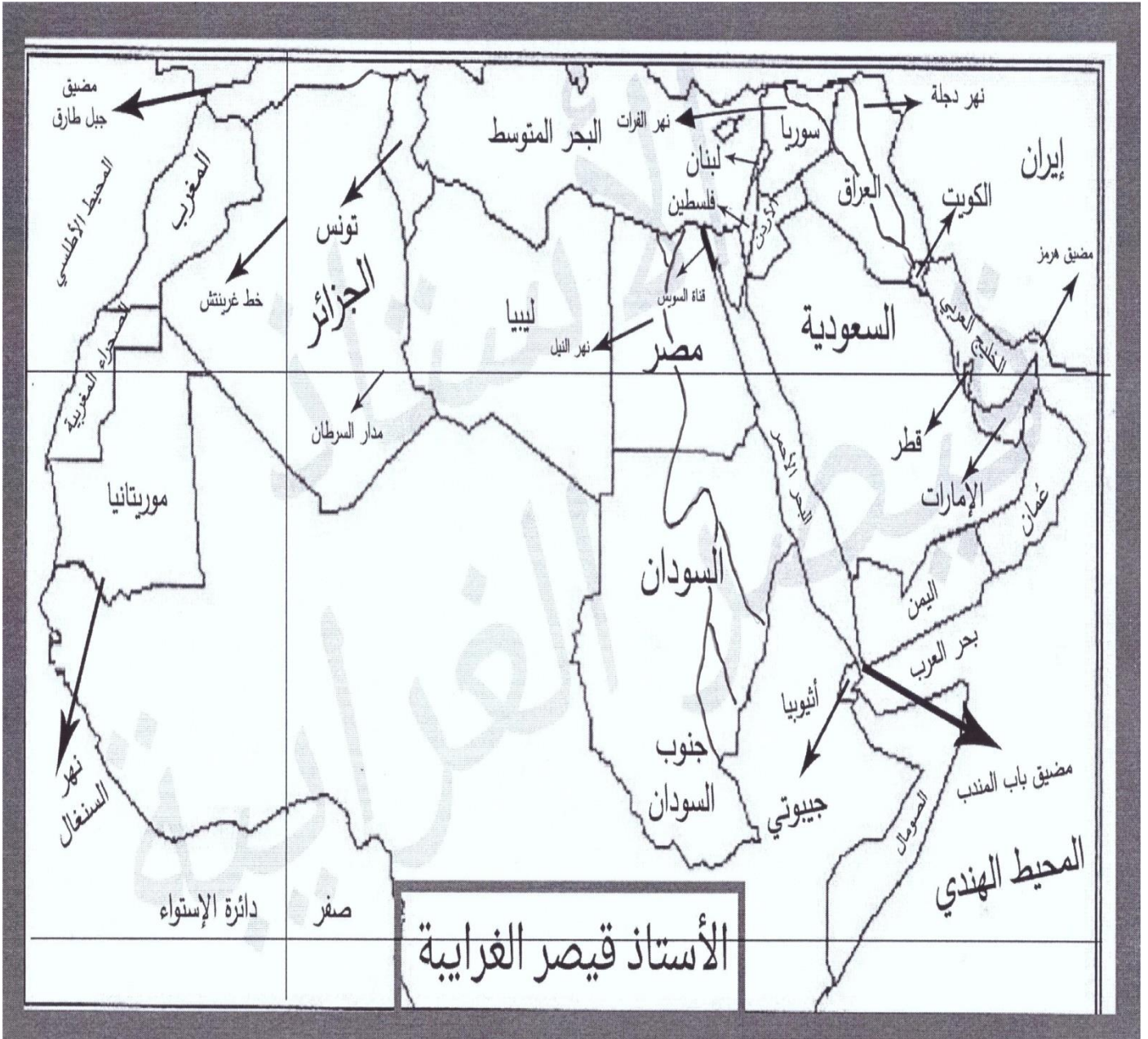
الأستاذ

قيصر صالح الغرايبة



الخرائط

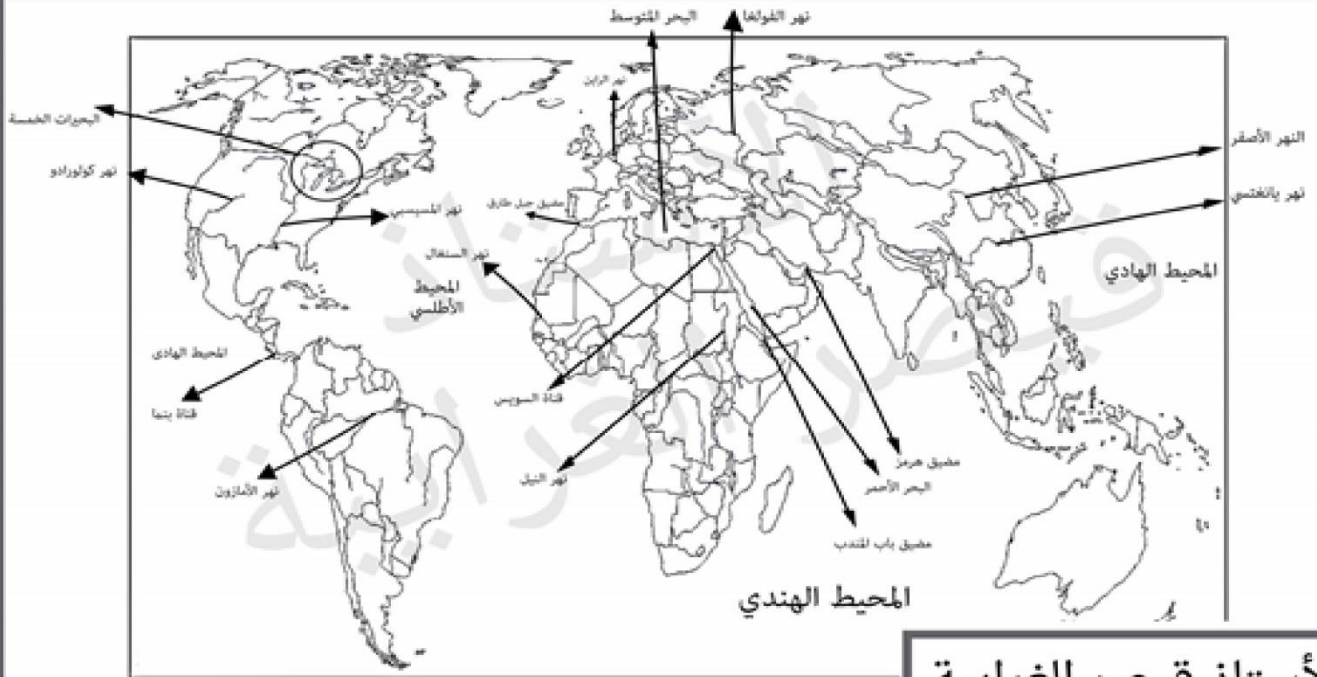






AWA2EL
LEARN 2 BE





الأستاذ قيصر الغرايبة

