

اليوم :

بسم الله الرحمن الرحيم

التاريخ :

امتحان الشهر الاول لمادة الرياضيات

الصف : الثالث الاساسي

اسم الطالب :

جد مايلي ؟ - 8 علامات

$$\dots = 6 \times 10 \quad \text{لأن} \quad 10 = 6 \div \dots$$

$$30 = 6 \times \dots \quad \text{لأن} \quad \dots = 6 \div 30$$

$$42 = \dots \times 7 \quad \text{لأن} \quad 7 = \dots \div 42$$

$$48 = 6 \times \dots \quad \text{لأن} \quad \dots = 6 \div 48$$

$$\dots = 6 \times 6 \quad \text{لأن} \quad 6 = 6 \div \dots$$

$$18 = 6 \times \dots \quad \text{لأن} \quad \dots = 6 \div 18$$

$$\dots = 6 \times 1 \quad \text{لأن} \quad 1 = 6 \div \dots$$

$$30 = 6 \times \dots \quad \text{لأن} \quad \dots = 6 \div 54$$

السؤال الثاني 6 علامات

جد مايلي ؟

$$\boxed{} = 6 \div 35$$

$$\boxed{} = 9 \div 72$$

$$4 = \boxed{} \div 36$$

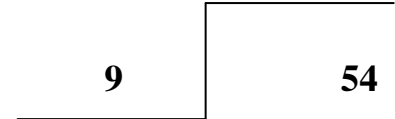
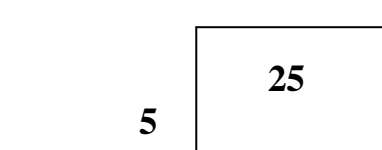
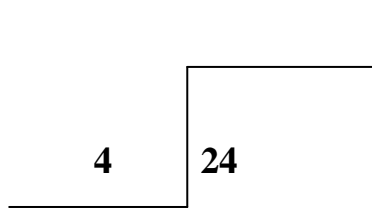
$$\boxed{} = 7 \div 42$$

$$\boxed{} = 9 \div 63$$

$$6 = 9 \div \boxed{}$$

السؤال الثالث 4 علامات

جد مايلي



السؤال الرابع 7 علامات

جد مايلي ؟
أ- وزع معلم 32 طالبا على 8 مجموعات كم طالبا في المجموعة الواحدة ؟

ب- تشارك 3 طلاب في 21 لعبة كم لعبة نصيب كل منهم؟

ج- اشترت لارين 8 اقلام بثمن 72 قرشا ما ثمن كل قلم ؟

انتهت الاسئلة