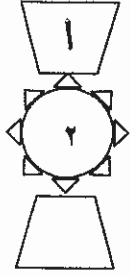
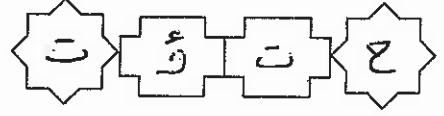


بِسْمِ اللَّهِ الرَّحْمَنِ الرَّحِيمِ



المملكة الأردنية الهاشمية
وزارة التربية والتعليم
إدارة الامتحانات والاختبارات
قسم الامتحانات العامة



امتحان شهادة الدراسة الثانوية العامة لعام ٢٠١٥ / الدورة الصيفية

(وثيقة محمية/محدود)

مدة الامتحان : ٣٠ : ١

اليوم والتاريخ : الأحد ٢١/٦/٢٠١٥

المبحث : الجغرافيا الأساسية / المستوى الثاني
الفرع : الفندقية والسياحي

ملحوظة : أجب عن الأسئلة الآتية جميعها وعددها (٤) ، علماً بأن عدد الصفحات (٢) .

السؤال الأول : (٢١ علامة)

(٤ علامات)



(أ) عرف المفاهيم والمصطلحات الآتية:

١- التركيب العمري.

٢- الطاقة الإنتاجية للفرد.

(٣ علامات)

(ب) انكر ثلاثاً من إيجابيات الهجرة على الدول المستقبلية.

(٤ علامات)

(ج) وضّح أثر التعليم في قوة الدولة.

(د) انقل إلى دفتر إجابتك الجدول أدناه، ثم صنف ما يأتي بما يناسبه في الجدول (باكستان، كندا، اليابانية،

(١٠ علامات)

الأردن، الكردية) .

دول نامية	دولة ذات مذاهب وطوائف متعددة	لغة واحدة في دولتين	لغة في دولة واحدة

السؤال الثاني : (١٦ علامة)

(٦ علامات)

(أ) عرف المفاهيم والمصطلحات الآتية:

١- المحددات البيئية.

٢- الأعاصير.

٣- الحصاد المائي.

(٤ علامات)

(ب) فسّر: يعاني نهر الأردن من انخفاض منسوب المياه فيه.

(٣ علامات)

(ج) وضّح الممارسات التي تسبب تدهور الغابات الطبيعية في الأردن.

(٣ علامات)

(د) ما الإجراءات المتبعة لتقليل أو منع الأخطار الطبيعية ؟

يتبع الصفحة الثانية/ ،،،،

الصفحة الثانية

السؤال الثالث : (١٨ علامة)

(أ) اذكر:

(٣ علامات)

(٤ علامات)

(٤ علامات)

(٣ علامات)

(٤ علامات)

١- ثلاثة مشاريع تتطلب تقييمًا مبدئيًا للأثر البيئي.

٢- الأسباب الأساسية للانقراض.

٣- أربعة من الإجراءات الممكنة لمنع التصحر في أي منطقة.

٤- ثلاثًا من المشاكل البيئية والصحية لمكبات النفايات.

(ب) أعطِ مثالين لما يأتي: مشاريع اقتصادية مدرة للدخل.

السؤال الرابع : (١٥ علامة)

(٨ علامات)

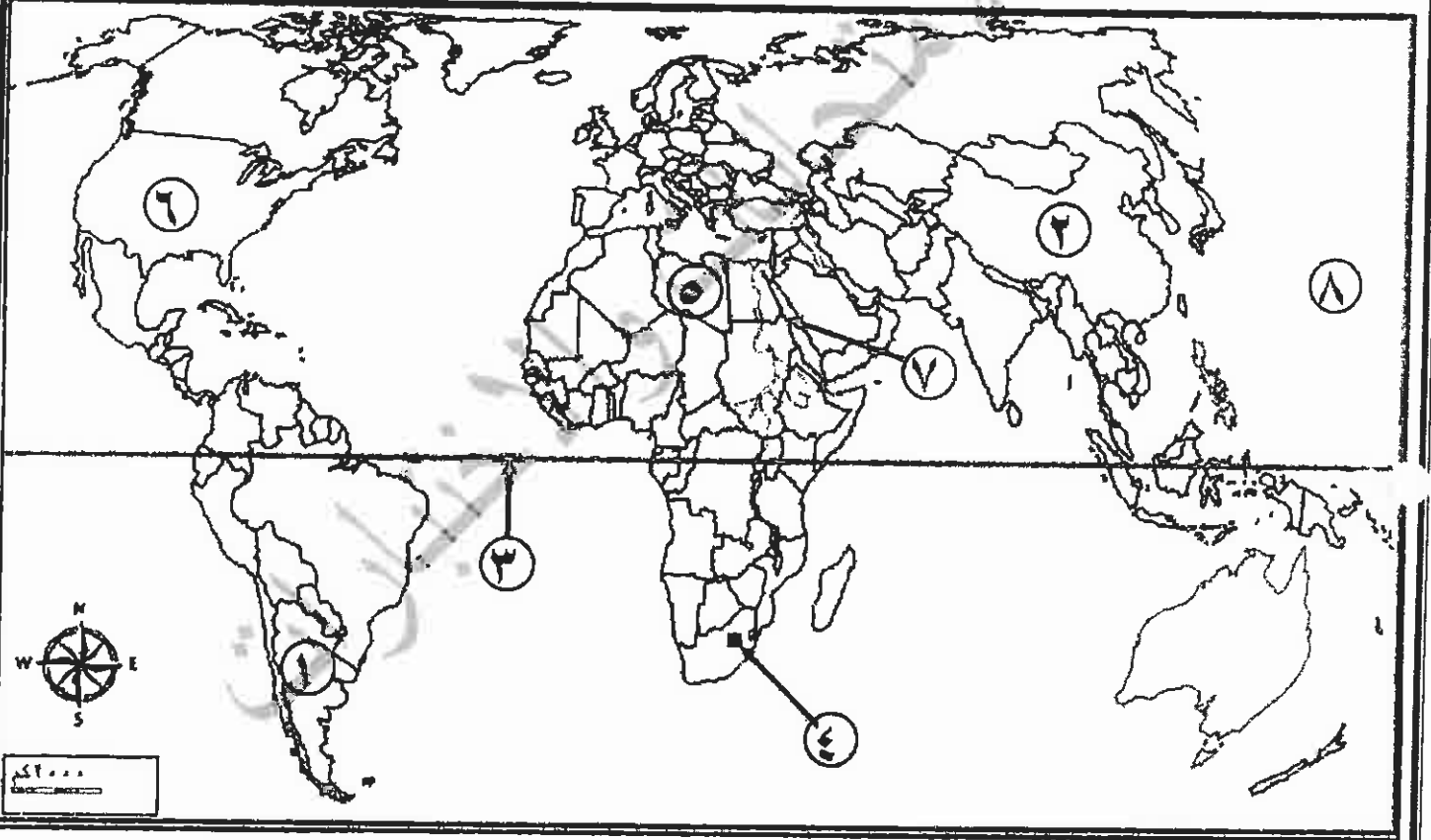
(أ) ادرس خريطة العالم أدناه، ثم اكتب في دفتر إجابتك ما تشير إليه الأرقام الآتية:

- دولة مُنتجة للمحاصيل العضوية (١) . - دولة من أكبر الدول المستهلكة للحياة البرية (٢) .

- دائرة عرض رئيسة (٣) . - مدينة عُدَّت فيها مؤتمر قمة الأرض الثاني (٤) .

- دولة تعيش فيها قومية واحدة (٥) . - دولة تعيش فيها أكثر من قومية (٦) .

- مسطحات مائية (٧ ، ٨) .



(ب) فسّر:

(٣ علامات)

١- تُعد الولايات المتحدة الأمريكية الدولة العظمى الأولى في العالم وفي السياسة الدولية.

٢- يتركز نصف سكان العالم تقريبًا في جنوب شرق آسيا بينما يقل السكان في المناطق

(٤ علامات)

المتجمدة والصحراوية.

﴿ انتهت الأسئلة ﴾



امتحان شهادة الدراسة الثانوية العامة لعام ٢٠١٥ {الدورة الصيفية}

إدارة التربية والتعليم
إدارة الامتحانات والاختبارات
قسم الامتحانات العامة

صفحة رقم (١)

مدة الامتحان: ٣٠ د
التاريخ: الامتحان ٢٠١٥/٥/٢٠

المبحث: الجغرافيا الأساسية / م / ل
الفرع: الهندسة والسياسية

الإجابة النموذجية:

رقم الصفحة
في الكتاب



السؤال الأول: (١٢ علامة)

٢٠١

عرف المفاهيم والمصطلحات الآتية:

١- التكتيك العسكري: هو تجميع القوات العسكرية لقتال خصم (بشكل فئدة حرب)

٢- صفا السه: أرض خصبة تكثر فيها النباتات والحيوانات

٣- الطاقة الإنتاجية للزراعة: هي عدد ساعات العمل الإنتاجية

٤- المثلث المثلثي: هو مثلث قائم الزاوية

٥- المثلث المثلثي: هو مثلث قائم الزاوية

٢٠٢

ذكر ثلاث سمات إيجابية للتحقق من الدول المتقدمة:

١- نسبة التعليم العالي في الدولة (١)

٢- معدل النمو الاقتصادي (١)

٣- معدل التنمية البشرية (١)

٢٢٩

ذكر ثلاث سمات إيجابية لقوة الدولة:

١- ارتفاع الناتج المحلي الإجمالي (١)

٢- ارتفاع معدل التنمية البشرية (١)

٣- ارتفاع نسبة التعليم العالي (١)

٢٤١

لغة دولة ماضية: اليابانية (٥)

٢٤٢

لغة دولة حديثة: العربية (٥)

٢٤٤

دولة ذات مناخ معتدل: كندا (٥)

٢٤٨

دول نامية: باكستان، البرازيل (٥)

رقم الصفحة
في الكتاب



السؤال الثاني :- (١٦ علامة)

معرفة المفاهيم والمصطلحات الآتية :-

٢٧١ الحشرات، البعوضة :- تعرف الصعولان التي توفر لنا البيئة
نجاها فمخلبات لهذا البرسيم^(٥) مثل الفايك، الخنيفة، الخنازير، الخنازير، الخنازير
٢ علامة

٢٩٢ - الاما مبيدات اصابت بيضها تكونت منه بيض المحيطات
التي تعرفت عنها بالاماميد البحرية أو الالاركيان تكاثره
تلك منفضات^(١) دائره كنهه الدواجم. ٢ علامة

٢٠٨ - اخصار الخنازير :- جميع صياد^(١) الاطباء^(١) ونزير^(١) لتقيد
معد تزويد^(١) الخنازير (خاصة في المناطق الجبلية) من اجل سلامة
مع الاقارب^(١) اوعليها^(١) فارت البيوت^(١) الخنيفة^(١) وتنتج^(١) بيوت^(١) الخنازير^(١)
٢ علامة

(١) - مزارع الخنازير^(١) من انخفاض^(١) منسوب^(١) المياه
فيها^(١) بسبب^(١) المزارع^(١) الخنازير^(١) الخنازير^(١) الخنازير^(١)
٢ علامة

(٢) وضع الممارسات التي تسبب تسخر الغابات لطبيعة
الاجرة^(١) من الممارسات التي ادى لتسخر الغابات^(١) مما يلى^(١)
التجوير^(١) والتقطيب^(١) تحويل^(١) ارض^(١) الى ارض^(١) زراعية^(١) وتحويل^(١)
سود^(١) التقليل^(١) والادوية^(١) الخنازير^(١)
٣ علامات

(٣) حال الاجرات المتبعة لتقليل أو منع الاخطار البيئية
التي تسببها الخنازير وعمل^(١) من اجل^(١) تبيد^(١) نعال^(١) صوته^(١)
تقليم^(١) الخنازير^(١) والتقاليف^(١) السامية^(١) عنه^(١) عمل^(١) الخنازير^(١) تعامل^(١) الخنازير^(١)
٢ - تخزين^(١) الناس^(١)
٣ علامات

رقم الصفحة
في الكتاب



الحوار الرابع - (١٥ علامة)

- ١- ادسك صرطقة بعلم ثم كتب ما نشر اليه الارقام
- ٢١٤ - دولة منحة للعاهل المنوي الالبريتيه ①
- ٢٢٧ - دولة بر آيد الله استله للبحر البري ①
- ٢٤٢ - دائرة عن رنية ①
- ٢٤٢ - مدينة حرة ففرقة ①
- ٢١٥ - دولة تقيتني قوسه راحة ①
- ٢١٥ - دولة تقيتني الكثر قوسه ①
- ١٩٠ - مطبات مانية ①
- ٨ - الخط الادي ①

من

١٨٦ - بعد الولاك الخمة البرنية الدولة العظمى الأولى
 في العالم في السبع الدنية لاسبه لاسم ①
 والتقدم الصناعي ① والطور العلم التكنولوجي
 بالامانة للعدد الكافي الاجير ①

٣ علامة

١٩١ - تركز نصف سكانه بعلم تقريباً في جنوب
 شرق وشبه آسيا بينا قبل ارتكابه في المكافه
 المتحدة والعمارية
 توافر المارد المادي ⑤ اعتماد ⑤ الكافي ⑤
 بديل ⑤ قسوة ⑤ لادب ⑤
 بظرفه سريع الخارجه المكافه العمارة والمطبخ

٤ علامة