

بِسْمِ اللَّهِ الرَّحْمَنِ الرَّحِيمِ



المملكة الأردنية الهاشمية
وزارة التربية والتعليم
إدارة الامتحانات والاختبارات
قسم الامتحانات العامة

a 1 1 a

٢
٣

امتحان شهادة الدراسة الثانوية العامة لعام ٢٠١٣ / الدورة الصيفية

(وثيقة محمية/محدود)

مدة الامتحان : ٣٠ : ١

المبحث : الجغرافيا / المستوى الثالث + الجغرافيا الإضافية

الفرع : الأدبي + الفندقية والسياحي (نفس الورقة الامتحانية) اليوم والتاريخ : الاثنين ٢٠١٣/٧/١

ملحوظة : أجب عن الأسئلة الآتية جميعها وعددها (٥)، علماً بأن عدد الصفحات (٣).



السؤال الأول : (١٥ علامة)

عرّف المفاهيم والمصطلحات الآتية :

- ١- علم الجيومورفولوجيا.
- ٢- نظام تحديد الموقع العالمي (GPS).
- ٣- المنظمات الدولية.
- ٤- الدلتاوات.
- ٥- العجز المائي.
- ٦- الإنتاجية الزراعية.

السؤال الثاني : (١٩ علامة)

اذكر :

- ١- أربعاً مما تقدّمه الصور الجوية للتعرف على الأشكال الأرضية. (٤ علامات)
- ٢- العمليات التي تتم بها التجوية الكيميائية في الطبيعة. (٣ علامات)
- ٣- أربعة من المعوقات التي تعترض التنمية الزراعية في الوطن العربي. (٤ علامات)
- ٤- الأهداف التي تسعى جامعة الدول العربية إلى تحقيقها. (٤ علامات)
- ٥- أربعة من العوامل التي تؤثر في العلاقات بين القوميات المختلفة في الدولة التي يعيشون فيها. (٤ علامات)

يتبع الصفحة الثانية ...

الصفحة الثانية

السؤال الثالث : (١٦ علامة)

يتكوّن هذا السؤال من (٨) فقرات، اختر الإجابة الصحيحة من البدائل التي تلي كل فقرة، واكتبها في دفتر إجابتك :

١- الحت الذي يوسع النهر من كلا الجانبين بالإضافة إلى واديه هو الحت :
(الرأسي ، الأفقي ، التراجعي ، الجانبي)

٢- الدولة العربية التي تم تعديل الحدود البحرية بينها وبين الأردن هي :
(العراق ، سوريا ، لبنان ، السعودية)



٣- النزاع على طنّب الصغرى والكبرى بين الإمارات العربية وإيران هو مثال للنزاع على :
(وظيفة الحدود ، المصادر الطبيعية ، ملكية مناطق حدودية ، وضع الحدود)

٤- تقاس شدة درجة تقطع سطح الأرض من خلال معرفة كثافة الشبكة المائية وهو ما يُعرف بـ :
(الحوض الطبوغرافي ، خطوط تقسيم المياه ، حوض التصريف النهري ، النسيج الطبوغرافي)

٥- العامل الأكثر شيوعاً في تطور المصاطب النهوية هو :
(هبوط مستوى القاعدة ، ارتفاع مستوى القاعدة ، انخفاض الحت التراجعي للنهر ، ازدياد الحت التراجعي للنهر)

٦- أقل القطاعات الاقتصادية استهلاكاً للمياه في الوطن العربي هو قطاع :
(الصناعة ، الزراعة ، المنزلي ، التجارة)

٧- الدول العربية من بين الآتية التي يقع ضمنها حوض نهر الأردن هي :
(سوريا ولبنان ، سوريا ومصر ، مصر ولبنان ، سوريا والعراق)

٨- الثبات بثوابت العوامل الجغرافية هي من صفات الإقليم :
(السياسي ، الجغرافي ، الاقتصادي ، الصناعي)

السؤال الرابع : (١٢ علامة)

فسّر ما يأتي :

١- أسباب نشأة السرير أو الرق. (٤ علامات)

٢- تنامي الشعور الإقليمي لدى الجماعات والأفراد. (٤ علامات)

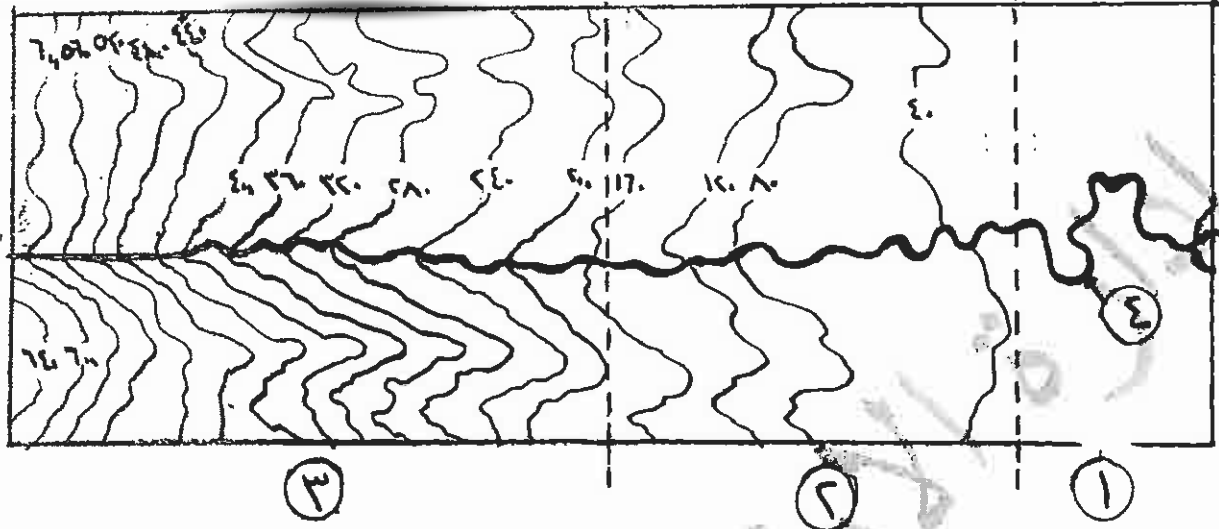
٣- يمتاز النفط العربي بانخفاض تكاليف الاستخراج ونوعيته الجيدة. (٤ علامات)

يتبع الصفحة الثالثة ...

السؤال الخامس : (١٨ علامة)



أ) ادرس الشكل الآتي، ثم أجب عن الأسئلة التي تليه :



- ١- اكتب في دفتر إجابتك ما تشير إليه الأرقام (١ ، ٢ ، ٣ ، ٤) في الشكل. (٤ علامات)
- ٢- ما مقدار الفاصل الرأسي بين كل خط والذي يليه في الشكل ؟ (علامتان)
- ٣- عرف النهر. (علامتان)

ب) صنّف الأشكال الأرضية الآتية بما يناسبها في الجدول أدناه : (١٠ علامات)

(رصيف قاري، مصطبة بحرية، كهوف، مخاريط البركان، الوادي النهري، السهل الفيضي، المراوح الفيضية، الكثبان الرملية، صحاري العرق، إرسابات اللوس)

أشكال ناتجة عن الإرساب النهري	أشكال ناتجة عن عمليات الحث المائي	أشكال ناتجة عن التجوية الميكانيكية	أشكال ذات مرتبة ثانية	أشكال ناتجة عن الإرساب الريحي

انتهت الأسئلة



امتحان شهادة الدراسة الثانوية العامة لعام ٢٠١٣ (الدورة الصيفية)

وزارة التربية والتعليم
إدارة الامتحانات والاختبارات
قسم الامتحانات العامة

صفحة رقم (١).


س د

مدة الامتحان: - ٢ - ١

التاريخ: الاثنين ١١ / ١٠ / ١٤٣٤

المبحث: الجزيئات / المكون ثلاث + الجزيئات الأخرى
الفرع: الأحياء + الهندسة الجزيئية

الإجابة النموذجية:



السؤال الأول

رقم الصفحة
في الكتاب
١٣٤

(١٥) علامة

عرفت المفاهيم والمصطلحات الآتية

٣ علامة

١١

١- علم الجيولوجيا :- العلم الذي يهتم بدراسة أشكال الأرض
سويت نشأتها، وتطورها، والعمليات التي أدت إلى تشكيلها وأعمارها
وتتألف من علم جيولوجيا من ثلاثة فئات: الأرضي، والجيولوجيا، والجيولوجيا

٣ علامة

٢٨

٢- نظام تحديد المواقع العالمي (GPS) :- نظام يقدم في تحديد موقع أي نقطة
على سطح الأرض إلى جانب تحديد ارتفاعها وأحداثها (تحدد إمكانية فرق
إحداثيات الموقع التي تم حسابها)

٣ علامة

٩٦

٣- المنظمات الدولية :- المنظمات التي تكونت في عضوية فيها مقبولة لكل دول
العالم الراغبة في الانضمام إليها، وتؤثر شروط العضوية المنصوص
عليها في ميثاق المنظمة، فالعضوية في هذا النوع من المنظمات لا تتبدل في
نطاق جغرافي معين بل تضم عددا كبيرا من دول العالم من قارات مختلفة

علامة

٥٧

٤- الدلتاوات :- هي أحمام رسابية تنشأ في بيئة مائية أي عند
انضمام النهر ذي الجولة الرسوبية مع مياه الوسط المائي الذي يتسبب اليه

علامة

١٢٩

٥- العجز المائي: يعني أن كميات المياه المستهلكة أو المطلوبة من موارد المياه
أكبر من الكميات المتوافرة

علامة

١٣٩

٦- الانتاجية الزراعية :- مقدار ما تنتجه الوحدة المساحة الواحدة من أي
محصول زراعي ما كالمحاصيل أو الخضراوات


رقم الصفحة في الكتاب	(١٩ علاوة)	السؤال الثاني . أذكر
٢٥		أربعاً عما تقدمه الصور الجوية للتعرف على الأشكال الأرضية . ١. التعرف المباشر إلى الأشكال الأرضية نفس النظر عن أبعادها . ٢. يمكن التعرف على عدد تفرعات الشكل الأرضي في المنطقه . ٣. تعرف بعض الخصائص القياسية للشكل الأرضي مثل: طول العرض ، المساحة . ٤. معرفة نوعيه مواد السطح التي يتألف منها الشكل الأرضي . ٥. معرفة التطور الذي طرأ على الشكل الأرضي عند مقارنة صورتين لنفس الشكل
٣٣		التقطا في تاريخين مختلفين العمليات التي تتم بها التجوية الكيميائية في الطبيعة . ١- الإزابة ٢- الأكسدة ٣- عمليات التميؤ (الإهابة)
١٤١		أربعة من المعوقات التي تعترض التنمية الزراعية في الوطن العربي ١. ضعف مقومات البنية الأساسية سه طرق وسائل اتصال وخدمات تسويق ٢. عدم استقرار السياسات الاقتصادية التي تطبقها الدول العربية و تضاربها في بعض الأحيان . ٣. العوامل الطبيعية غير المواتية كالتساقط الضعيف والتعرض للجفاف . ٤. سياسات الأسعار الزراعية التي توجه لصالح قطاعات الاستهلاك على حساب القطاعات الإنتاجية .
١٣		بعض الحوافز الاستثمارية في القطاع الزراعي وأثرها على الإنتاج الاهداف التي تسعى جامعة الدول العربية إلى تحقيقها . المساواة بين الدول الأعضاء وامتصاص كل منجزاتها عدم اللجوء إلى القوة لنقض الترتيبات بين الدول الأعضاء تقديم المساعدات اللازمة إذا تعرضت إحدى دول الجارة لأي اعتماد تعاون الدول العربية في الشؤون الاقتصادية والمالية والاجتماعية والصحية
١١٣		أربعة سبل عوامل التي تؤثر في العلاقات بين القوميات المختلفة في الدول التي يعيشون فيها . ١. التمازج العرقي أو العرقيين بين شعوبها ٢. طبيعة نظام الحكم ومدى تطبيق الديمقراطية ٣. التجمع والتشتت الجغرافي للأقليات ٤. الموقع الجغرافي للأقلية

رقم الصفحة في الكتاب	(١٦ علاه)	السؤال الثالث
٥٠	المدارة ٢	١- البجاجة المأثري
٨٧	٢	٢- العوديه
٨٩	٢	٣- ملكيه مناجاة مبروره
٥٢	٢	٤- النسيج لطوئرافيه
٥٧	٢	٥- صوم مستوي لعمارة
١٢٨	٢	٦- الصنائه
٧٨	٢	٧- سوريا ولبنان
٧٩	٢	٨- الجفراغية



رقم الصفحة في الكتاب	السؤال الرابع نـ
٦٢	١. أسباب نشأة السريو أو البرق
	يعود أسباب نشأة السريو إلى أهول غابة كانت الصحراء خلالها مرطبة، وترسب تبعا لذلك راسب ثرية مختلفة الأبعاد ^① وبعد حلول فترة منافيه ما فيه تنككت المكونات الطرية ^① تعرضت المكونات الدقيقة للتذرية ^① بينما تجمعت المكونات ^① بصويبة ^① ويتوالي هذه العملية نشأ البرق
١١٩	٢. سنامي الشعور الأقليمي لدى الجماعات والأفراد
	سبب العزلة الجغرافية ^① وضعف وسائل المواصلات وسبل الاتصال ^① والسياسات الحكومية غير المتوازنة تجاه الأقاليم ^① والتوزيع غير العادل للثروات بين الأقاليم ومناطق لدولة الواحدة ^①
١٤٨	٣. مميزات النفط العربي باعتماد تكاليف الاستخراج ونوعيته الجيدة
	بسبب وجوده في مناطق قريبة من سطح الأرض ^① وانخفاض أسعار العمالة ^① وتقل فيه نسبة الكبريت ^① وتميزه بجفافته العالية ^①



رقم الصفحة في الكتاب	(١٨ علامة)	السؤال الخامس
٤١	٨ علامة	٢ : ادرس الشكل الآتي ثم أجب عن الأسئلة التي تليه - أكتب تأثيرات الإزمام ١ ، ٢ ، ٣ ، ٤
		① الحوض الأضفل ، ② الحوض الأدرط
	(٤ علامات)	③ الحوض الأعلى ④ النور الرئيس
		مقدار الفاصل الرئيسي = الفرق بين خطي كتور رئيسين متماثلين عدد الخطوات بينها + ١
		 = $\frac{٤٠ - ٨٠}{١ + ١} = ٢٠$ (عددتان)
		- عرف النهر :- الماء الجاري في مجرى محدد (أو كان هذا الجريان دائم أو متقطعاً) بناءً على استعمال الأرضية بما يناسبها
		الاستعمال
٦٧		١. استعمال ناقص عند الإرساب النهرية
٦٥		٢. اكتشاف الروابي (العمود)
٦٤		٣. صاري لفرق الروابي (العمود)
١٥		٤. استعمال ذات مرتبة ثانية
١٥		٥. المصطبة البحرية (العمود)
٣٨		٦. استعمال ناقص عند تجوية الميكانيكية
		٧. استعمال ناقص عند عمليات الحث الجلي
٥٥		٨. الوادي النهري لا يتدرج
٥٥		٩. الكهوف (العمود)
٥٥		١٠. استعمال ناقص عند الإرساب النهري
٥٥		١١. السيل لفيضات (العمود)
٥٥		١٢. المدرج لفيضات (العمود)