

بِسْمِ اللَّهِ الرَّحْمَنِ الرَّحِيمِ



المملكة الأردنية الهاشمية  
وزارة التربية والتعليم  
إدارة الامتحانات والاختبارات  
قسم الامتحانات العامة

5 3 3 5

٢
—
١

امتحان شهادة الدراسة الثانوية العامة لعام ٢٠١٣ / الدورة الصيفية

(وثيقة عممية/محدود)

مدة الامتحان : ٠٠ : ٢٠



المبحث : أنظمة المحاسبة المحوسبة / المستوى الثالث

اليوم والتاريخ : الخميس ٢٧/٦/٢٠١٣

الفرع : الإدارة المعلوماتية

ملحوظة : أجب عن الأسئلة الآتية جميعها وعددها (٥)، علماً بأن عدد الصفحات (٤).

السؤال الأول : (٢٠ علامة)

أ) اختر الإجابة الصحيحة من البدائل التي تلي كل فقرة مما يأتي، واكتبها في دفتر إجابتك : (٤ علامات)

١- تظهر خيارات نوع الحساب في شاشة دليل الحسابات ITAC كما يلي :

• ساري ، موقوف • دائرن ، مدين • يقبل الحركة ، عنوان /مجموع • يدوي ، آلي

٢- إذا كان مجموع الجانب الدائن للحساب أكبر من مجموع الجانب المدين فان رصيد الحساب يكون :

• مديناً • دائناً • غير معرف • متكافئاً

ب) ١- ينتج عن دورة المشتريات كنظام معلومات مجموعة من المخرجات، انكر ثلاثة منها. (٨ علامات)

٢- سجل قيود العمليات التالية :

- مشتريات نقدية. - مبيعات نقدية. - مبيعات بشيك.

- مشتريات على الحساب. - تسديد مورد بموجب شيك.

ج) ١- فيما يلي قائمتان ، القائمة الأولى تمثل أسماء بعض شاشات برمجية ITAC ، والقائمة الثانية تمثل

بعض الحقول التي تتضمنها الشاشات. صل الشاشة بالحقول الذي يناسبها من القائمة الثانية. ثم انقل

الحل إلى دفتر إجابتك. (٤ علامات)

القائمة الثانية

القائمة الأولى

- ملاحظات

- ثوابت المؤسسة - مستودع

- الحد الأعلى للمادة

- معلومات فئات وأصناف المواد

- رمز الفئة

- الوحدات والأصناف

- معامل التحويل

- الأسعار والكميات

- السماح بالخصم للشراء

يتبع الصفحة الثانية ...

## الصفحة الثانية

٢- تتعامل مؤسسة الفلاح التجارية مع البضائع التالية :

(طبق زجاج، شوك، ملاعق، أدوات منزلية، أطباق، طبق ملامين، شوك ستانلس، ملاعق ستانلس)  
المطلوب: صنّف ما سبق إلى فئات، أصناف، مواد. (٤ علامات)

السؤال الثاني: (٢٠ علامة)

أ) اختر الإجابة الصحيحة من البدائل التي تلي كل فقرة مما يأتي، واكتبها في دفتر إجابتك : (٤ علامات)

١- يتم إدراج السندات في قائمة المركز المالي في جانب الأصول للمؤسسات التجارية ضمن :

- الأصول الثابتة
- الأصول غير الملموسة
- الأصول المتداولة
- الاستثمارات طويلة الأجل



٢- أحد الحسابات الآتية من الحسابات الدائنة التي يقل في حساب ملخص الدخل :

- المشتريات
- بضاعة أول المدة
- مردودات المشتريات
- مردودات المبيعات

ب) فيما يلي بعض الارصدة المستخرجة من دفاتر مؤسسة الفيلق التجارية كما هي في ٢٠١٢/١٢/٣١ :  
١٥٠٠ مردودات مشتريات ، ٣٥٠٠٠ رأس مال ، ١٠٠٠٠ بنك ، ٤٠٠٠ مصاريف إدارية ،  
٤٠٠٠ مشتريات ، ٦٠٠٠٠ مبيعات ، ٣٠٠٠ خسائر بيع السيارات ، ٦٠٠٠ المسحوبات الشخصية ،  
٢٠٠٠ مصاريف بيعية.

فإذا علمت أن مجمل الربح بلغ ١٥٠٠٠ في ٢٠١٢/١٢/٣١ .

(١٠ علامات)

المطلوب:

١- إعداد قائمة الدخل كما في ٢٠١٢/١٢/٣١ .

٢- إعداد قائمة حقوق الملكية للمؤسسة كما في ٢٠١٢/١٢/٣١ .

(٦ علامات)

ج) ادرس التقرير المحاسبي التالي وأجب عما يليه من أسئلة :

مؤسسة الأمل التجارية			
نظام المحاسبة العامة			
كشف حساب .....			
مركز التكلفة ١		مركز التكلفة العام	
رقم الحساب	اسم الحساب	مدين	دائن
١٢٠١١٠٠٠	الصندوق	٧١٠٠,٠٠٠	٢٥٠٠,٠٠٠
		٧١٠٠,٠٠٠	٢٥٠٠,٠٠٠
	مجموع مركز التكلفة :		

المطلوب:

١- ما نوع هذا التقرير؟

٢- ما اسم هذا التقرير؟

٣- ما المدى الذي يغطيه هذا التقرير؟

### الصفحة الثالثة

#### السؤال الثالث: (٢٠ علامة)

أ) اختر الإجابة الصحيحة من البدائل التي تلي كل فقرة مما يأتي، واكتبها في دفتر إجابتك: (٤ علامات)

١- يتم إعداد ميزان المراجعة لغايات إعداد القوائم المالية:

- شهرياً
- سنوياً
- كل أربعة شهور
- كل ستة شهور

٢- إذا علمت أن تكلفة البضاعة المتاحة للبيع (٦١٠٠٠) دينار وتكلفة البضاعة المباعة بلغت (٣١٠٠٠)،

صافي المشتريات (٨٠٠٠٠)، صافي المبيعات (١٠٠٠٠٠) فإن قيمة بضاعة آخر المدة تساوي:

- ٣٠٠٠٠
- ٣١٠٠٠
- ٤٦٠٠٠
- ٩٢٠٠٠

ب) صنّف التقارير التالية إلى يومية، شهرية، سنوية: (٦ علامات)

كشف المصاريف، قائمة الدخل، ميزان المراجعة بالأرصدة، تقرير الحركات اليومية، كشف الحساب التفصيلي، كشف توزيع الأرباح.

ج) ١- يستعين المحاسب بميزان المراجعة ليتأكد من أمور محاسبية، اذكر اثنين منها. (٤ علامات)

٢- يقوم أمين المستودع بإعداد شاشة متسلسلات المستندات في برمجة ITAC لكل مستودع على حدة.

المطلوب: • تتبع خطوات الوصول إلى شاشة متسلسلات المستندات وتفعيلها. (٦ علامات)

• ما الحقول التي سيعينها أمين المستودع في الشاشة؟

• ما الأمر الذي سيختاره أمين المستودع لحفظ الشاشة بعد تعبئتها بالبيانات؟



#### السؤال الرابع: (٢٠ علامة)

أ) اختر الإجابة الصحيحة من البدائل التي تلي كل فقرة مما يأتي، واكتبها في دفتر إجابتك: (٤ علامات)

١- المستند الذي يعده أمين المستودع عند تسليم البضاعة للمشتري علماً أنه يستخدم برمجة ITAC هو:

- أمر الشراء
- مستند المبيعات
- أمر البيع
- مستند استلام مشتريات

٢- يظهر حقل حالة المادة في بطاقة المادة الرئيسة ضمن شاشة:

- معلومات فئات وأصناف المواد
- الوحدات والأصناف
- معلومات المادة
- الأسعار والكميات

ب) يتعامل مستودع مؤسسة الثناء التجارية مع مادة رقمها A110 بطارية سيارة، ووجدتها قطعة، وحددت

المؤسسة حداً أدنى للمادة قدره ٥٠٠ قطعة. تمت العمليات الآتية على المادة خلال شهر ٢٠١٢/٧:

١- بتاريخ ٢٠١٢/٧/٥ باعت ٢٠٠ قطعة نقداً.

٢- بتاريخ ٢٠١٢/٧/٨ اشترت ١٠٠٠ قطعة من مؤسسة الفارس على الحساب.

٣- بتاريخ ٢٠١٢/٧/١٠ ركت إلى مؤسسة الفارس ١٠٠ قطعة بسبب التلف.

٤- بتاريخ ٢٠١٢/٧/١٥ باعت ٥٠٠ قطعة للتاجر أحمد على الحساب.

٥- بتاريخ ٢٠١٢/٧/١٧ ردّ للمؤسسة ٥٠ قطعة لعدم مطابقتها للمواصفات.

فإذا علمت أن رصيد المادة في ٢٠١٢/٧/٣١ بلغ ٢٢٥٠ قطعة، (٦ علامات)

المطلوب: ١- إعداد بطاقة المادة لشهر ٢٠١٢/٧.

٢- تحديد رصيد المادة في ٢٠١٢/٧/١.


يتبع الصفحة الرابعة ...

## الصفحة الرابعة

- (ج) ١- يتم تحديد حد أدنى للمخزون لعدة أسباب، اذكر أربعة منها. (٤ علامات)
- ٢- أرادت مؤسسة الفجر إعداد أمر شراء للتاجر عصام علماً أنها تستخدم برمجية ITAC .  
المطلوب: تتبع خطوات إعداد أمر للشراء على برمجية ITAC . (٦ علامات)

## السؤال الخامس: (٢٠ علامة)

- (أ) اختر الإجابة الصحيحة من البدائل التي تلي كل فقرة مما يأتي، واكتبها في دفتر إجابتك : (٤ علامات)
- ١- إذا أرادت مؤسسة رفع سقف ائتمان زبون في شاشة معلومات الزبائن على برمجية ITAC فيكون أول أمر تتقر عليه بعد ظهور شاشة الزبون هو :
- تنفيذ
  - تعديل
  - حذف
  - إضافة
- ٢- في شاشة معلومات المادة يتم ربط المادة بالفئة التابعة لها من خلال :
- تعبئة حقل رمز الفئة
  - تعبئة حقل رقم المادة
  - تعبئة حقل الرمز الدولي
  - تعبئة حقل اسم المادة



(ب) بتاريخ ٢٥/٣/٢٠١٢ اشترت مؤسسة السلامة العامة ٢٠٠ طفاية حريق بسعر ١٠ دنانير لكل طفاية من المصنع العالمي على الحساب وفي اليوم التالي باعت ٤٠ طفاية لمصنع الفجر بسعر ١٥ دينار لكل طفاية نقداً.

(٨ علامات)

### المطلوب:

- ١- تسجيل قيود العمليات السابقة في دفاتر مؤسسة السلامة العامة علماً أنها تستخدم نظام الجرد المستمر.
- ٢- تسجيل قيود العمليات السابقة في دفاتر مؤسسة المصنع العالمي علماً أنها تستخدم نظام الجرد الدوري.
- (ج) بصفتك أمين مستودع مؤسسة النيزك للأجهزة الكهربائية تم إصدار أمر بيع للزبون فارس محمود وبعد ذلك ستقوم بإدخال عملية البيع في شاشة مستند المبيعات على برمجية ITAC .

(٨ علامات)

### المطلوب:


تتبع خطوات إعداد مستند المبيعات حاسوبياً.

انتهت الأسئلة



رقم الصفحة في الكتاب	الصفحة	ملاحظات
M22		سؤال الأول
٣١١	٢	١- عنوان/مخرج، يقبل لشركة
٢٤٧	٢	٢- دائنة
		AWAZEL LEARN 2 BE
٣٦٨	٣	١- اصدرة المواد / مكان في ادواتها - الحد الأدنى - الحد الأعلى - قيمة الخسارة
٢٦٢		٢- /
٢١٢	١	xxx من م / المشتريات xxx الى م / الصندوق
٢١٨	١	xxx من م / المشتريات xxx الى م / مورد / دائنة
٢٥١	١	xxx من م / الصندوق xxx الى م / المشتريات
٢٤٤	١	xxx من م / الصندوق xxx الى م / المشتريات
٤١٤	١	xxx من م / مورد / ذمم دائنة xxx الى م / البنل

دعّم لصفحة (٤)


رقم الصفحة في الكتاب	الصفحة	مع السؤال الأول (٤ علامة)
		١/٢ -
٢٧٥	١	- ثوابت التوزيع مستودع - السراح بالخضيم للشراء
٢٨٢	١	- معلومات قوائم وأماكن المواد - ريزالفتة
٢٩٢	١	- الرصدات والإحصائيات - معامل التحويل
٢٩٤	١	- الأسعار والكميات - الحد الأعلى للمادة
		
		٢ - أدوار في تولييه
٢٨١	$\Sigma = \frac{1}{2} \times 8$	<div style="display: flex; justify-content: space-around;"> <div style="text-align: center;"> <p>علاج</p> <p>علاج</p> <p>علاج</p> </div> <div style="text-align: center;"> <p>شواك</p> <p>شواك</p> <p>شواك</p> </div> <div style="text-align: center;"> <p>أطباء</p> <p>طبيب سلاصيم</p> <p>طبيب علاج</p> </div> </div>
	$\frac{1}{2}$ علامة للإختصار	

رقم الصفحة في الكتاب	المادة	السؤال (شأنى) (كلامه)																																
٢٥٤	ك	١/٢ - الاستشارات طويلة الاجل																																
٢٥٤	ك	٢/٢ - مردودات اشتراكات																																
٢٥٠	ك	ب/١ - قائمة الدخل كما في ١٢/٢٠١٢																																
		<table border="1"> <thead> <tr> <th>المبلغ الإجمالي</th> <th>المبلغ الجزئي</th> <th>المبلغ الفرعي</th> <th>اسم الحساب</th> </tr> </thead> <tbody> <tr> <td>١٥٠٠٠</td> <td></td> <td></td> <td>معدل الربح</td> </tr> <tr> <td></td> <td>٤٠٠٠</td> <td></td> <td>مصروفات ادارة</td> </tr> <tr> <td></td> <td>٢٠٠٠</td> <td></td> <td>مصروف بيعية</td> </tr> <tr> <td>(٦٠٠٠)</td> <td></td> <td></td> <td>مجموع المصروفات التشغيلية</td> </tr> <tr> <td>٩٠٠٠</td> <td></td> <td></td> <td>مصروفات تشغيلية</td> </tr> <tr> <td>(٢٠٠٠)</td> <td></td> <td></td> <td>مصروفات ايجار</td> </tr> <tr> <td>٧٠٠٠</td> <td></td> <td></td> <td>مصروفات اخرى</td> </tr> </tbody> </table>	المبلغ الإجمالي	المبلغ الجزئي	المبلغ الفرعي	اسم الحساب	١٥٠٠٠			معدل الربح		٤٠٠٠		مصروفات ادارة		٢٠٠٠		مصروف بيعية	(٦٠٠٠)			مجموع المصروفات التشغيلية	٩٠٠٠			مصروفات تشغيلية	(٢٠٠٠)			مصروفات ايجار	٧٠٠٠			مصروفات اخرى
المبلغ الإجمالي	المبلغ الجزئي	المبلغ الفرعي	اسم الحساب																															
١٥٠٠٠			معدل الربح																															
	٤٠٠٠		مصروفات ادارة																															
	٢٠٠٠		مصروف بيعية																															
(٦٠٠٠)			مجموع المصروفات التشغيلية																															
٩٠٠٠			مصروفات تشغيلية																															
(٢٠٠٠)			مصروفات ايجار																															
٧٠٠٠			مصروفات اخرى																															
٢٥٢	ك	ب/٢ - قائمة مقفول الملكية كما في ١٢/٢٠١٢																																
		<table border="1"> <tbody> <tr> <td>٢٥٠٠٠</td> <td>رأس المال</td> </tr> <tr> <td>٧٠٠٠</td> <td>صافي الارباح</td> </tr> <tr> <td>(٦٠٠٠)</td> <td>الحوافز الشخصية</td> </tr> <tr> <td>٢٦٠٠٠</td> <td>صافي مقفول الملكية</td> </tr> </tbody> </table>	٢٥٠٠٠	رأس المال	٧٠٠٠	صافي الارباح	(٦٠٠٠)	الحوافز الشخصية	٢٦٠٠٠	صافي مقفول الملكية																								
٢٥٠٠٠	رأس المال																																	
٧٠٠٠	صافي الارباح																																	
(٦٠٠٠)	الحوافز الشخصية																																	
٢٦٠٠٠	صافي مقفول الملكية																																	
٢٥٤	ك	١ - تقرير شهري																																
		٢ - كشف حساب إجمالي																																
		٣ - حسنة الى حسنة																																



رقم الصفحة في الكتاب	الملاحه	AWAZEL LEARN 2 BE	السؤال الثالث ( ١٠ علامات )
٢٤٤	٢		١- / -٢ - سنوية
٢٥٠	٢		٢- / -٢ - بضاعة آخر السنة = ٢١٠٠٠
٢٢٢	٦ = ٦ × ١		١- <u>يومية</u> <u>شهرية</u> <u>سنوية</u> - تقارير كارت البرية - كنف لاصريف - <u>والإيفل</u> - ميزان البرامعة بالاهمة - كنف تردد في الامتاع - كنف الحجاب لتفصيل
٢٤٢	٤ = ٢ × ٢		١- / -٢ - <u>مصاريف</u> <u>الحركات</u> <u>بالاهمة</u> <u>ليومية</u> <u>لبي</u> قام بتسجيلها كما هو متبع في كنفها - لتعرف على جميع الحركات ليومية لبرية ولإدارة الحساب
٢٧٩	٦		١- / -٢ - <u>اختيار</u> <u>معلومات</u> <u>لبرية</u> <u>من</u> <u>قائمة</u> <u>المعلومات</u> - اختيار معلومات مستعدة الاستدراك من قائمة المعلومات البرية - نظرد تامة معلومات مستعدة الاستدراك - نقر الامر لتفعيلها / ثم نقره إضائه ١- <u>القول</u> : السنة ه رقم التوديع ه نوع التوقف ه الرقم المتسلسل ٢- <u>امر</u> <u>اللفظ</u> <u>هو</u> <u>كنفيد</u>



رقم الصفحة في الكتاب	علامة	السؤال الرابع (٥ علاوة)			
٤٠١	٢	م / ١ - مستند المبيعات			
٢٩١	٢	م / ٢ - معلومات لمادة			
					
٢٧١		ب / ١ - بطاقة صنف			
		اسم المادة   بطارية سيارة   الوحدة   أقطعته			
		رقم المادة: A110   المد لدني: ٥٥ وحدة			
		الرصيد   الوارد   الصادر   البتامة   التاريخ			
		٢٠٠٠			٢٠١٦/١
		١٨٠٠	٢٠٠		٢٠١٦/٥
		٢٨٠٠	١٠٠٠		٢٠١٦/٨
		٢٧٠٠	١٠٠		٢٠١٦/١٠
		٢٢٠٠	٥٠٠		٢٠١٦/٥
		٢٢٥٠	٥٠		٢٠١٦/١٧
		كل صنف بطاقتين ١ × ٦ = ٦ علامات			
		ب / ٢ - رصيد المادة في ٢٠١٦/١ = (١٠٠٠ قطعة)			
٤١٠	٤	ج / ١ - استمر استزويد الزبائن دون توقف للمحافظة على مستوى الخدمة			
		- عدم ضياع فروع تقسيم البرامج			
		- استمرارية طلب البضائفة من المورد لتجنب تقصيرهم			
		- استمرارية طلب المواد بشكل متكرر للحصول على أسعار أفضل			
		- وجود مواد تتعامل معها بعض المؤسسات التجارية			
		وتستمر في طلبها حتى وقت محدد .			
		أي أربع بنود كل بند علامة ٤ = ١ × ٤ = ٤ علامات			

رقم الصفحة  
في الكتاب

المصدر




نوع السؤال الرابع

٢٩٨

٦

٨/٤ اعداد امر لبراء

- ١ - اختيار لبراء لبرصة من قائمة لستود عادي
- ١ - اختيار امر لبراء من قائمة الحركات البرصية
- ١ - كطرد شاشة امر لبراء فيتم نقر لبراء امر كونه لبراء
- ١ - نقر لبراء امر لبراء لتفعيل حقول لبراء
- ١ - تعبئة المعلومات اللازمة لبراء
- ١ - نقر لبراء (لتنفيذ) لحفظ امر لبراء .

رقم الصفحة في الكتاب	الملاحظة
٢٩	سؤال الخياصة (ج. علامة) ١/٢
٢٩	تعبئة مقل وشرايفه ٢/٢
٤٤٤	١/ التسجيل في دفاتر دوله بصره بمرامه باستخدام نظام الجرد المستمر
٤٤٤	٢/ من ح/ رضايه الخياصة (الجورنل) ٢٤٥/٢١٩
٢	 ٢٠٠٠ الره المصنع العالمى (شرايفه على الحساب)
٢	٢٠٠٠ الره المصنوع
٢	٢٠٠٠ الره المصنوع
٢	٢٠٠٠ الره المصنوع (بيع رضايه نقداً)
٢	٢٠٠٠ الره المصنوع
٢	٢٠٠٠ الره المصنوع (اشبار تكلفة رضايه)
٢	٢٠٠٠ الره المصنوع
٢	٢٠٠٠ الره المصنوع العالمى باستخدام نظام الجرد المستمر على نظام
٢	٢٠٠٠ الره المصنوع
٢	٢٠٠٠ الره المصنوع
٢	٢٠٠٠ الره المصنوع
٢	٢٠٠٠ الره المصنوع
٢	٢٠٠٠ الره المصنوع
٢	٢٠٠٠ الره المصنوع
٢	٢٠٠٠ الره المصنوع
٢	٢٠٠٠ الره المصنوع
٢	٢٠٠٠ الره المصنوع

رقم الصفحة  
في الكتاب

الصلاحه  
٨

تابع اسوال بنحاس

٤٢٤

ج - ١- اكتبوا لوجوه الشطة - مد الساشه المرسه

٢- لقرائة المستودعات

٣- اكتبوا قائمه الحركات ليومها



٤- اكتبوا معلوماه مستند لطبعات

٥- اذغال لمعلوماه بحامه الصديه

٦- لقرءوا (اضائة) اسفل الساشه

٧- لقرءوا (تنيد) الحفظ الصديه

٨- لقرءوا امر ضرور

ملاحظاتك

والاقتناء