

امتحان شهادة الدراسة الثانوية العامة لعام ٢٠١٧ / الدورة الشتوية

المبحث : الفيزياء / المستوى الثالث
الفرع : العلمي والصناعي (النظاميون والدراسة الخاصة الجدد)
مدة الامتحان : ٠٠ : ٢ : ٠٠
اليوم والتاريخ : السبت ٢٠١٧/١/٧

ملحوظة : أجب عن الأسئلة الآتية جميعها وعددها (٥)، علماً بأن عدد الصفحات (٤).
ثوابت فيزيائية : $\mu_0 = 4\pi \times 10^{-7}$ وبيير/أمبير.م ، (١) و.ك.ذ = 931 مليون ev ، نوب = 5.29×10^{-11} م ،

$$s = e = 1.6 \times 10^{-19} \text{ كولوم} ، \text{ سرعة الضوء} = 3 \times 10^8 \text{ م/ث} ، R = 1.1 \times 10^7 \text{ م}^2$$

$$h = 6.6 \times 10^{-34} \text{ جول.ث} ، \frac{1}{\epsilon_0} = 9 \times 10^9 \text{ نيوتن.م}^2 / \text{كولوم}^2 ،$$

$$(١) \text{ إلكترون فولت} = 1.6 \times 10^{-19} \text{ جول} ، \text{ نوب} = 1.2 \times 10^{-10} \text{ م}$$

السؤال الأول: (٢٢ علامة)

(٤ علامات)

أ) وضح المقصود بكل مما يأتي:

٢- فرق جهد الإيقاف (القطع).

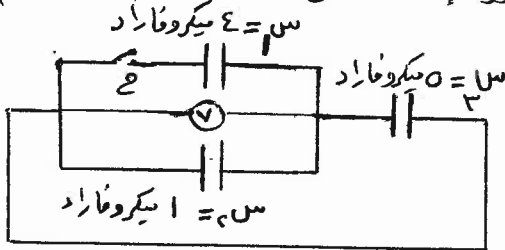
١- خط المجال المغناطيسي.

ب) شحنتان كهربائيتان نقطيتان (١٣ ، ٢٧) موضوعتان في الهواء والمسافة بينهما ($٠,٢$) م، إذا علمت

أن مقدار (١٣) يساوي (٢×10^{-9}) كولوم، وطاقة الوضع الكهربائية لها تساوي (٧٢×10^{-8}) جول،

احسب المجال الكهربائي عند النقطة التي تُتصّف المسافة بين الشحنتين. (٧ علامات)

ج) وُصّلت ثلاثة مواسع كهربائية مع بعضها كما في الشكل المجاور. إذا علمت أن



المواسع (١) غير مشحون، وأن قراءة الفولتميتر (V) عندما

كان المفتاح ($ح$) مفتوحاً تساوي (١٥) فولت.

عند غلق المفتاح ($ح$) احسب كلاً مما يأتي:

١- قراءة الفولتميتر (V).

٢- الشغل المبذول في شحن المواسع (١).

د) صفيحتان فلزيتان مشحونتان ومغمورتان في مجال

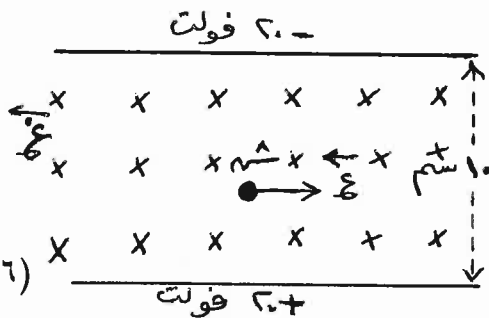
مغناطيسي منتظم مقداره ($٠,٣$) تسلا، يتحرك داخله

جسيم شحنته (٢×10^{-6}) كولوم بسرعة ثابتة مقدارها

(١×10^3) م/ث، كما في الشكل، بإهمال كتلة الجسيم

احسب مقدار القوة المؤثرة فيه أثناء حركته.

(٦ علامات)



يتبع الصفحة الثانية ...

الصفحة الثانية

السؤال الثاني: (٢٢ علامة)

أ) يمكن حساب التيار الكهربائي (ت) المار في موصل فلزي من خلال العلاقة :

(علامتان)

(ت = أن ع س) ، ما دلالة كل رمز في العلاقة؟

ب) فرن كهربائي مكتوب عليه : (٢٠٠٠ واط، ٢٠٠ فولت) ، صُنعت مقاومته من سلك فلزي مساحة

(٨ علامات)

مقطعه العرضي (٠,٢) مم^٢ ، وموصلية مادته (٥ × ١٠^٧) Ω. م ، احسب :

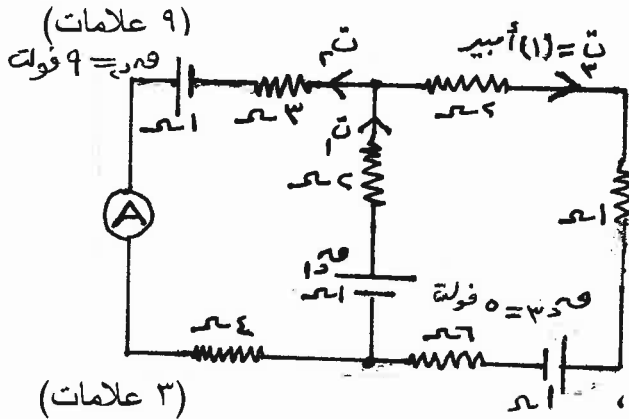
١- أكبر تيار كهربائي يمر في مقاومة الفرن.

٢- طول السلك الفلزي الذي صُنعت منه مقاومة الفرن.

٣- الطاقة المصروفة عند تشغيل الفرن مدة نصف ساعة.

ج) يُمثل الشكل المجاور دارة كهربائية، معتمداً

على الشكل وبياناته، احسب :



(٩ علامات)



١- قراءة الأميتر (A).

٢- مقدار (ق.د.).

٣- القدرة المستهلكة في المقاومة (٦) Ω.

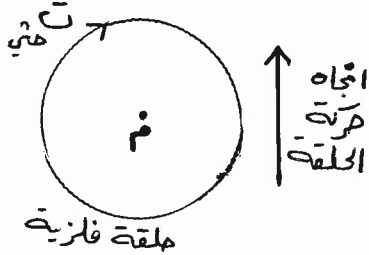
(٣ علامات)

د) سلك مستقيم لا نهائي الطول يسري فيه تيار كهربائي (ت)،

تقترب منه حلقة فلزية فيتولد فيها تيار حثي (ت حثي)، كما

في الشكل المجاور.

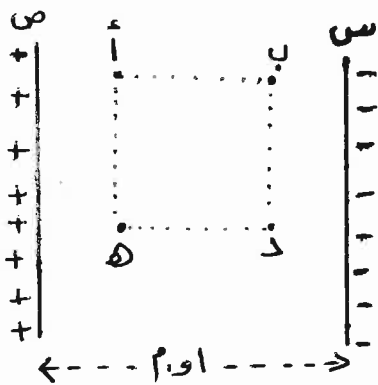
حدّد اتجاه التيار الكهربائي (ت) في السلك. مفسراً إجابتك.



السؤال الثالث: (٢٢ علامة)

(٨ علامات)

أ) يُبين الشكل المجاور لوحين فلزيين (س ، ص) متوازيين لا نهائيين تفصل بينهما



مسافة (٠,١) م، والنقاط (أ ، ب ، د ، هـ) تقع داخل المجال الكهربائي

بين اللوحين وتُمثل رؤوس مربع طول ضلعه (٠,٠٤) م، حيث أن

الضلع (أ هـ) عمودي على المجال. فإذا علمت أن القوة الكهربائية

المؤثرة في شحنة مقدارها (٢ × ١٠^{-١٠}) كولوم تقع بين اللوحين

تساوي (٢ × ١٠^{-٢}) نيوتن، احسب :

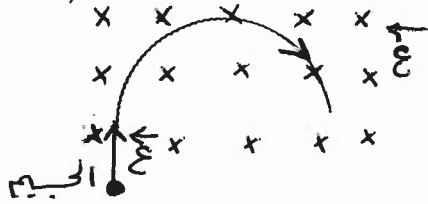
١- فرق الجهد الكهربائي بين اللوحين.

٢- الشغل اللازم لنقل شحنة مقدارها (٥ × ١٠^{-١٠}) كولوم

من النقطة (أ) إلى النقطة (د).

الصفحة الثالثة

(ب) جسيم مشحون بشحنة كهربائية كتلته (2×10^{-10}) كغم يتحرك بسرعة (5×10^7) م/ث، دخل عمودياً على مجال مغناطيسي منتظم، واتخذ داخل المجال المغناطيسي مساراً دائرياً نصف قطره (2) سم، كما في الشكل المجاور، أجب عما يأتي :

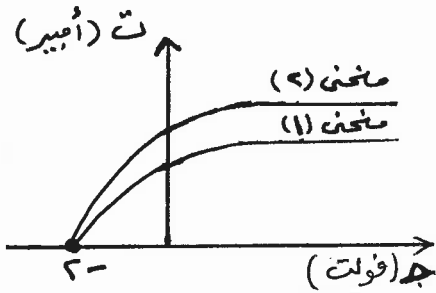


١- لماذا اتخذ الجسيم مساراً دائرياً؟

٢- ما نوع شحنة الجسيم؟

٣- احسب مقدار القوة المغناطيسية المؤثرة في الجسيم.

(ج) في تجربة لدراسة الظاهرة الكهروضوئية، أسقط ضوء تردده (1×10^{10}) هيرتز على باعث الخلية، وعند تمثيل العلاقة البيانية بين الجهد الكهربائي والتيار الكهربائي أعطيت كما في الرسم البياني المجاور. معتمداً على الرسم البياني، ومستعيناً بتفسير أينشتاين للظاهرة الكهروضوئية، أجب عما يأتي :



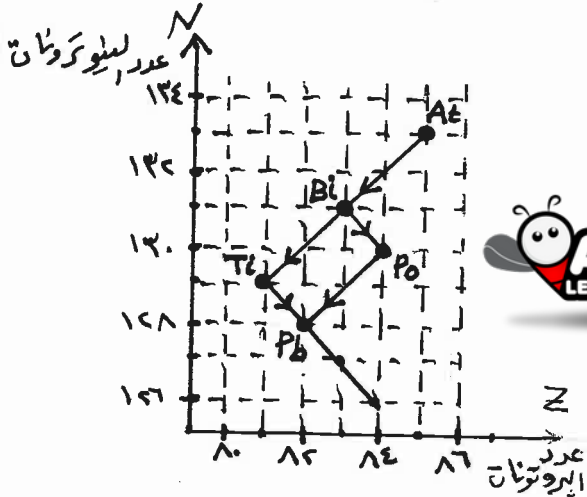
١- كيف تفسر ظهور منحنيين في الرسم البياني؟

٢- احسب اقتران الشغل (Φ) للفلز.

٣- لماذا تكون عملية امتصاص الطاقة ليست مستمرة؟

٤- ما سبب تفاوت الطاقة الحركية للإلكترونات المتحررة؟

(٥ علامات)



(د) يبين الشكل المجاور جزءاً من سلسلة اضمحلال اليورانيوم (238) .

معتمداً على الشكل وبياناته أجب عما يأتي :

١- مثل اضمحلال (Bi) إلى (Po) بمعادلة نووية موزونة.

٢- ما عدد جسيمات ألفا وعدد جسيمات بيتا المنبعثة من

اضمحلال (At) إلى (Pb) ؟



السؤال الرابع: (٢٢ علامة)

(أ) ملف لولبي طوله $(2 \times \pi \times 10^{-2})$ م، ومساحة مقطعه العرضي (2×10^{-3}) م^٢، ومحاطته (4) هنري مغمر في مجال مغناطيسي منتظم مقداره $(0, 4)$ تسلا باتجاه عمودي على مستواه، فإذا تلاشى المجال المغناطيسي خلال $(0, 1)$ ثانية، احسب :

١- عدد لفات الملف.

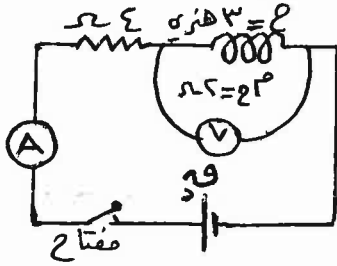
٢- القوة الدافعة الكهربائية الحثية المتولدة في الملف خلال فترة تلاشي المجال.

٣- معدل نمو التيار الكهربائي في الملف خلال فترة تلاشي التيار.

يتبع الصفحة الرابعة ...

الصفحة الرابعة

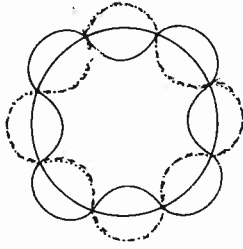
ب) يوضح الشكل المجاور دائرة مقاومة ومحث، فإذا علمت أن قراءة الفولتميتر (V) كانت (٢٥) فولت عند اللحظة التي كانت قراءة الأميتر (A) تساوي (٥) أمبير، واعتمادًا على الشكل وبياناته، احسب كل مما يأتي :



- ١- القوة الدافعة الكهربائية للبطارية (قد).
- ٢- القدرة المخزنة في المحث عند تلك اللحظة.

ج) يُبين الشكل المجاور الموجات المصاحبة للإلكترون في أحد مدارات ذرة الهيدروجين.

(٨ علامات)

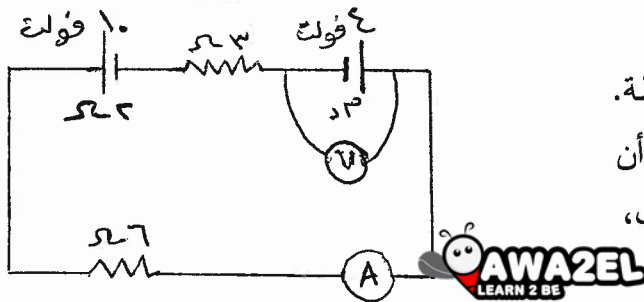


معتمدًا على الشكل، احسب :

- ١- الزخم الزاوي للإلكترون.
- ٢- نصف قطر هذا المدار.
- ٣- طول موجة دي بروي المصاحبة للإلكترون.
- ٤- طاقة الإلكترون.

السؤال الخامس: (٢٢ علامة)

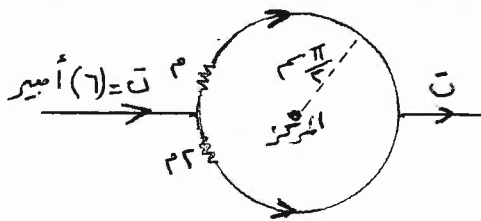
(٥ علامات)



أ) يُبين الشكل المجاور دائرة كهربائية بسيطة. معتمدًا على الشكل وبياناته، وإذا علمت أن قراءة الفولتميتر (V) تساوي (٤,٥) فولت، احسب قراءة الأميتر (A).

ب) يُمثل الشكل المجاور حلقة فلزية دائرية تتكون من لفة واحدة. فإذا علمت أن المقاومة الكهربائية للنصف السفلي من الحلقة يساوي مثلي المقاومة الكهربائية للنصف العلوي منها. وبالاعتماد على الشكل وبياناته، احسب :

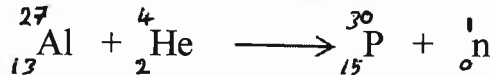
(٨ علامات)



١- المجال المغناطيسي عند مركز الحلقة.

٢- القوة المغناطيسية المؤثرة في شحنة كهربائية مقدارها (3×10^{-10}) كولوم تتحرك بسرعة (٤٠) م/ث نحو الشرق لحظة مرورها بمركز الحلقة. وحدد اتجاهها.

ج) قُذفت نواة الألمنيوم (Al) بجسيم ألفا (He) لإنتاج نظير الفسفور (P) كما في المعادلة :



${}_{15}^{30}\text{P}$	${}_{13}^{27}\text{Al}$	${}_2^4\text{He}$	${}_0^1\text{n}$	${}_1^1\text{H}$	النواة أو الجسيم
٢٩,٩٧٨٣	٢٦,٩٨١٥	٤,٠٠٢٦	١,٠٠٨٧	١,٠٠٧٢	الكتلة بوحدة (و.ك.ذ.)

مستعينًا بالمعادلة والجدول

المجاور، احسب :

- ١- نصف قطر نواة (Al).
- ٢- طاقة الربط النووية لنواة $({}_2^4\text{He})$.
- ٣- طاقة التفاعل (Q).

﴿ انتهت الأسئلة ﴾



المبحث : الفيزياء / المستوى الثالث

الفرع : العلمي + الصناعي

مدة الامتحان: $\frac{3}{2}$ ساعة

التاريخ: ١/٧/٢٠١٧ م

الإجابة النموذجية :

رقم الصفحة
في الكتاب

السؤال الأول : $\left(\frac{22}{22}\right)$ استناداً على شروط وعلامة

١.٤ (أ) - خط المجال، لفظاً ليس؛ هو، أساساً الذي يسلكه قطب شمالي \triangle مغزولاً (أفقياً) عند وضعه عمداً في مجال مغناطيسي. $\left(\frac{5}{5}\right)$

١٩٨ (ب) - فرق جهد الاتزان (إقطب)؛ هو فرق الجهد بين اللوحين في الخلية الكهروكيميائية اللازم للإيقاف الألكتروني (الآن عملاً) طاقة حركية على $\left(\frac{5}{5}\right)$

٢٦
٣٧
٤١
٤٣
١٨

$$[2^9 \cdot 1 \cdot 9] = 2^9 \cdot 9 = 2^9 \cdot 3^2 = 2^9 \cdot 3^2$$

$$[2^9 \cdot 1 \cdot 9] \cdot 5 = 2^9 \cdot 9 \cdot 5 = 2^9 \cdot 3^2 \cdot 5$$

$$2^9 \cdot 1 \cdot 8 = 2^9 \cdot 2^3 = 2^{12}$$

١٩

$$2^9 \cdot 1 \cdot 9 = 2^9 \cdot 3^2 = 2^9 \cdot 3^2$$

$$2^9 \cdot 1 \cdot 9 = 2^9 \cdot 3^2 = 2^9 \cdot 3^2$$

١٩

$$\frac{2^9 \cdot 1 \cdot 9}{2^9 \cdot 1 \cdot 9} = \frac{2^9 \cdot 1 \cdot 9}{2^9 \cdot 1 \cdot 9}$$

$$\frac{2^9 \cdot 1 \cdot 9}{2^9 \cdot 1 \cdot 9} = \frac{2^9 \cdot 1 \cdot 9}{2^9 \cdot 1 \cdot 9}$$

٥٣
٥٤
٥٥

$$2^9 \cdot 1 \cdot 9 = 2^9 \cdot 3^2 = 2^9 \cdot 3^2$$

$$2^9 \cdot 1 \cdot 9 = 2^9 \cdot 3^2 = 2^9 \cdot 3^2$$

١٠٥
١٠٦

$$2^9 \cdot 1 \cdot 9 = 2^9 \cdot 3^2 = 2^9 \cdot 3^2$$

$$2^9 \cdot 1 \cdot 9 = 2^9 \cdot 3^2 = 2^9 \cdot 3^2$$

١٠٧
١٠٨

$$2^9 \cdot 1 \cdot 9 = 2^9 \cdot 3^2 = 2^9 \cdot 3^2$$

$$2^9 \cdot 1 \cdot 9 = 2^9 \cdot 3^2 = 2^9 \cdot 3^2$$

١٠٨

$$2^9 \cdot 1 \cdot 9 = 2^9 \cdot 3^2 = 2^9 \cdot 3^2$$

$$2^9 \cdot 1 \cdot 9 = 2^9 \cdot 3^2 = 2^9 \cdot 3^2$$

رقم الصفحة في الكتاب

السؤال الثاني: $\frac{٢٢}{٢٢}$ اشتباه و قد علامة

٦٣ +

أ: مساحة المقطع العرضي للموصل $\frac{1}{6}$

٦٤

ب: عدد الإلكترونات في وحدة الحجم من مادة الموصل $\frac{1}{6}$

ج: السرعة الانسيابية للإلكترونات $\frac{1}{6}$

د: شحنة الإلكترونات $\frac{1}{6}$

أ و (بدل)

٦٤ +

الفترة $\frac{1}{f} = T$

$\frac{1}{f} = \frac{1}{\frac{v}{\lambda}} = \frac{\lambda}{v}$

٧٥

$\frac{1}{f} = \frac{1}{\frac{v}{\lambda}}$

$\frac{1}{f} = \frac{\lambda}{v}$

٧٥ +

$\frac{1}{f} = \frac{\lambda}{v}$

$\frac{1}{f} = \frac{\lambda}{v}$

٧٦ +

$\frac{1}{f} = \frac{\lambda}{v} \Rightarrow \frac{1}{\frac{1}{2}} = \frac{\lambda}{\frac{1}{2}} \Rightarrow \lambda = 1$

٧٥ +

$\frac{1}{f} = \frac{\lambda}{v} \Rightarrow \frac{1}{\frac{1}{2}} = \frac{\lambda}{\frac{1}{2}} \Rightarrow \lambda = 1$

٣- الطاقة المبروفة = القدرة \times الزمن $\frac{1}{6}$

$1 \times 26 = 6 \times 6 \times \frac{1}{6} \times \dots$

٧٧ +

١ (٢) $\frac{1}{f} = \frac{\lambda}{v}$ (عبر λ عن f) $\frac{1}{f} = \frac{\lambda}{v}$ (عبر f عن λ)

٧٨ +

$9 + (4+1+3) \dots = 0 - (7+1+1+2) \dots$

٧٩ +

$10 - \dots = 9 + \dots$

٧٦ +

$1 + 3 = 3 + 1 = 4$ أمير

٧٧ +

بتطبيق قاعدة كيرشوف الثانية مع حلقة $\frac{1}{6}$ (مع عقارب الساعة)

٧٨ +

$9 + (4+1+3) \dots = 0 - (7+1+1+2) \dots$

٧٩ +

$10 - \dots = 9 + \dots$

٧٩ +

$10 - \dots = 9 + \dots$

٧٢ +

$10 - \dots = 9 + \dots$

٧٤ +

$10 - \dots = 9 + \dots$

٧٤ +

$10 - \dots = 9 + \dots$

٧٤ +

$10 - \dots = 9 + \dots$

٧٤ +

$10 - \dots = 9 + \dots$

٧٤ +

$10 - \dots = 9 + \dots$

٧٤ +

$10 - \dots = 9 + \dots$

اذ اعلك
صحيح
ياخذ
الديناميكا
كلية الهندسة

رقم الصفحة
في الكتاب

السؤال الرابع: $\left(\frac{CC}{CC}\right)$ استنتاج وشرح علاوة

107

$\rho^c \cdot M = \varepsilon - 1$ (أ)

$\left(\frac{CC}{CC}\right) = \varepsilon \iff \frac{C \cdot T \cdot X \cdot \pi \cdot \varepsilon}{C \cdot T \cdot X \cdot \pi \cdot \varepsilon} = \varepsilon$ \triangle

+ 147

$\frac{\phi \Delta}{\Delta} = \frac{\phi}{\Delta} \implies \left[\frac{\phi - c \phi}{\Delta} \right] \cdot \Delta = \frac{\phi \Delta}{\Delta} \cdot \Delta = \phi - c$

+ 148

149

للكيفية المذكورة
التاليه $\phi = \phi$

$\frac{\phi}{\Delta} = \frac{\phi}{\Delta} \implies \left[\frac{\phi - c \phi}{\Delta} \right] \cdot \Delta = \frac{\phi \Delta}{\Delta} = \phi$

107

$\frac{\phi \Delta}{\Delta} = \frac{\phi}{\Delta} \implies \frac{\phi \Delta}{\Delta} \cdot \Delta = \phi$

+ 108

$\frac{\phi \Delta}{\Delta} = \frac{\phi}{\Delta} \implies \frac{\phi \Delta}{\Delta} \cdot \Delta = \phi$

+ 104

$\frac{\phi \Delta}{\Delta} = \frac{\phi}{\Delta} \implies \frac{\phi \Delta}{\Delta} \cdot \Delta = \phi$

170

$\frac{\phi \Delta}{\Delta} = \frac{\phi}{\Delta} \implies \frac{\phi \Delta}{\Delta} \cdot \Delta = \phi$

171

+

172

(ب) $\frac{\phi \Delta}{\Delta} = \frac{\phi}{\Delta} \implies \frac{\phi \Delta}{\Delta} \cdot \Delta = \phi$

+ 01

السؤال الخامس: $\left(\frac{CC}{CC}\right)$ استنتاج وشرح علاوة

C11

$\frac{\phi \Delta}{\Delta} = \frac{\phi}{\Delta} \implies \frac{\phi \Delta}{\Delta} \cdot \Delta = \phi$

+

C12

$\frac{\phi \Delta}{\Delta} = \frac{\phi}{\Delta} \implies \frac{\phi \Delta}{\Delta} \cdot \Delta = \phi$

+ 010

$\frac{\phi \Delta}{\Delta} = \frac{\phi}{\Delta} \implies \frac{\phi \Delta}{\Delta} \cdot \Delta = \phi$

إذا كتب $\phi \cdot \Delta = 0$

$\frac{\phi \Delta}{\Delta} = \frac{\phi}{\Delta} \implies \frac{\phi \Delta}{\Delta} \cdot \Delta = \phi$

لا تتركه علامة

$\frac{\phi \Delta}{\Delta} = \frac{\phi}{\Delta} \implies \frac{\phi \Delta}{\Delta} \cdot \Delta = \phi$

السؤال الأول

(٢-٥) هو منزه الجهد اللازم لجعل إختياره جليده = صفرا
أو الجهد اللازم للايقان اسرع للاكثر ذوات .

(٥-١) طو = $\frac{٩ \times ٩}{٩}$ علامتان


علام واحد = $\frac{٩ \times ٩ \times ٩}{٩ \times ٩}$

إذا كتبت إياك نون سه سه ح ياخذ علامه

حل بدي :
س ١ س ٣ تواريزه ليا منها س ع

س ع = س ٣ + س ٣ = ٥ + ١ = ٦ = ٦

قراءة (٧) = ح



① علامه

① علامه

$\frac{س ع ح}{س ٣ + س ٣} = ح$

① علامه ٣ البقيس = $\frac{١٥ \times ٦}{(٤+٦)}$ = ٩ مولات .

(٥) مما انه اسرع تايته فان حصلت اى صوى = صفرا (٦ علامتان)

إذا حب من علامته م ع ع

..... = $١ \times ٣ \times ٣$ (١) علامه

إذا حب احدى اى صوى ياخذ (٣) علامتان .

واضاف انه لو كان مساويان ياخذ (٣) علامتان البقيس .

(ج) إذا أخطأ الطالب بحساب (n) بحسب علامة صفحته في النوع الأول.

$$3 - \text{لعمري} = \frac{5n}{\pi c} \Rightarrow \text{لعمري} = \frac{5n}{\pi c}$$

$$1 = \frac{5}{\text{لعمري}}$$

① و لعمري ① علامة

إذا لم يبينه كيف حسب في حركته لعمري

بدل فرقة ب

$$1 / \text{لعمري} = \text{فرقة} + \text{لعمري} \dots$$

$$\text{لعمري} \times \text{فرقة} + \text{لعمري} = 50$$

$$\text{فرقة} = 10 \text{ مولات}$$

← استخدام قاعدة كوكا

$$\text{فرقة} + \text{لعمري} - \text{لعمري} = \text{فرقة}$$

$$\text{فرقة} - 10 - 10 = 7 \times 0 = \text{فرقة}$$

$$\text{فرقة} = 20 = 20 \text{ مولات}$$



فرقة ج

$$\frac{137}{10} = \frac{137}{10}$$

$$\frac{137}{10} = 13.7$$

$$\frac{137}{10} = 13.7$$

الفيزياء العامه (اصنافي)

صفحة (9)

السؤال الخامس

(P) حرارة (5) = 410

- 110 + 10 = 410

110 = 410 \Leftrightarrow 300 = 410 - 110 (A) حرارة

5 علامه