

تم التحميل من موقع الأوائل

ادارة التعليم الخاص

ومدارس أكاديمية الاتفاق الدولية

المادة : الرياضيات / الكسور

المعلمة : دعاء ذنبيات



العام الدراسي: ٢٠١٧/٢٠١٨ روضة

التاريخ: - ٢٠ / ١١ / ٢٠١٧

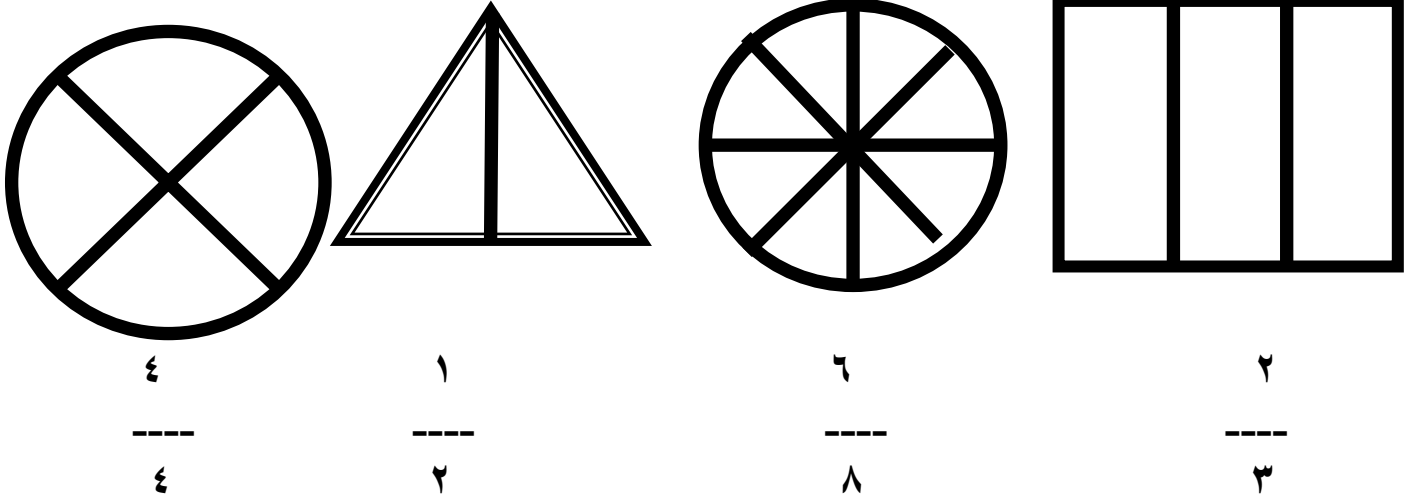
الصف : الثالث الاساسي (هـ)

ورقة عمل ( الكسر كجزء من المجموعة ١ ) الطالب/ة -----

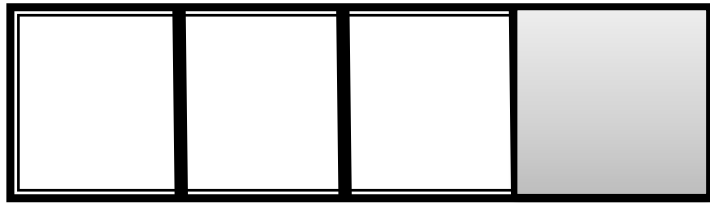
النتاج : ١ - يقرأ الطالب الكسر بشكل صحيح

٢ - يميز الطالب بين البسط الذي يمثل الأجزاء المظلمة والمقام الذي يمثل الأجزاء الكلية .

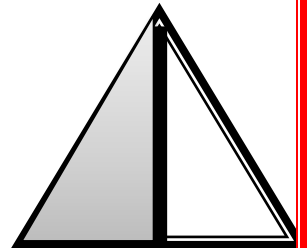
السؤال الاول : لون الأجزاء التي تمثل الكسر في الأشكال الآتية :-



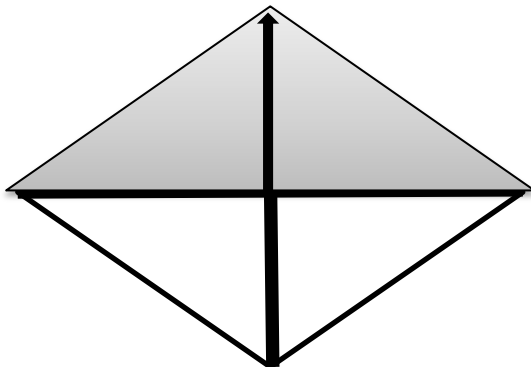
السؤال الثاني : اكتب الكسر الذي يمثل الأجزاء المظلمة :-



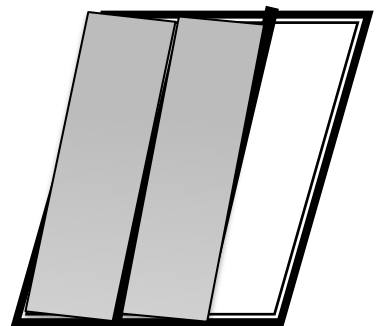
\_\_\_\_\_



\_\_\_\_\_



\_\_\_\_\_



\_\_\_\_\_