
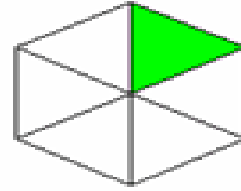
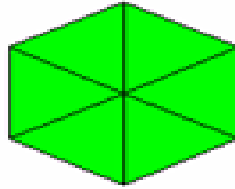
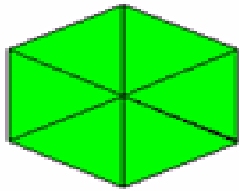
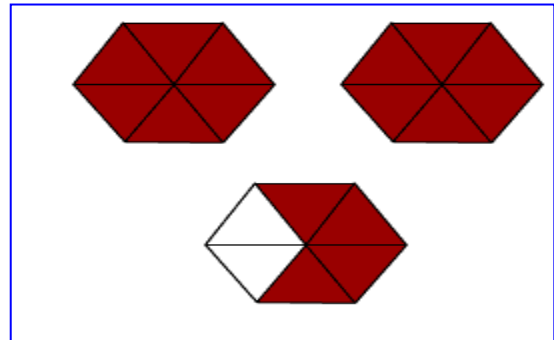


النتائج العامة ( يتعرف الطالب العدد الكسري ، يمثل الطالب العدد الكسري بالرسم )  
أكتب العدد الكسري الدال على الأشكال الآتية بالأرقام والكلمات



\* ما العدد الذي يمثله هذا الكسر ؟



\* ارسم شكلاً يمثل العدد الكسري