



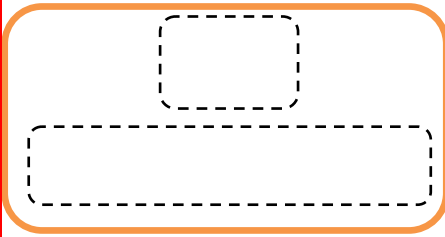

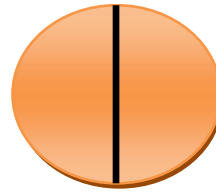
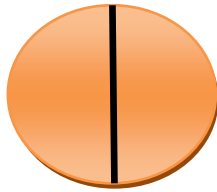
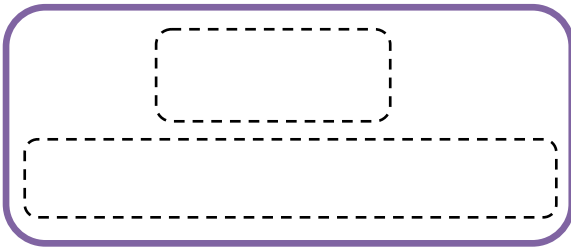



العدد الكسري


أكتب العدد الكسري الدال على الأشكال الآتية بالأرقام والكلمات



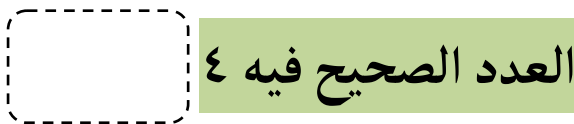
أكتب مثالاً على عدد كسري لكل حالة بالأرقام والكلمات.



مقام الكسر فيه ٨



بسط الكسر فيه نصف مقامه



ثلاثة صحيح و تسعان

العدد الصحيح فيه ٤

$$\frac{2}{9}$$

أظلل ما يلزم من الأشكال الآتية لأمثل العدد الكسري

