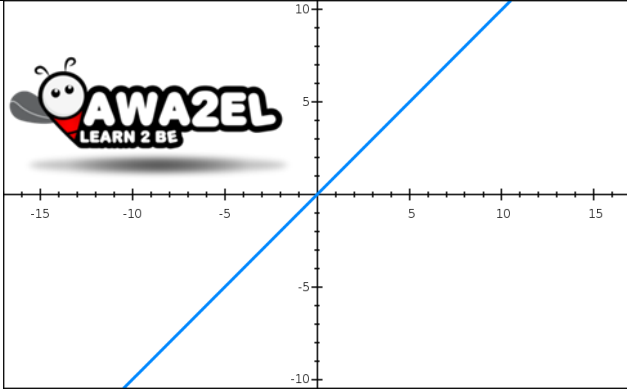


سؤال: مثل الاقترانات الاتية بيانياً واكتب المجال والمدى

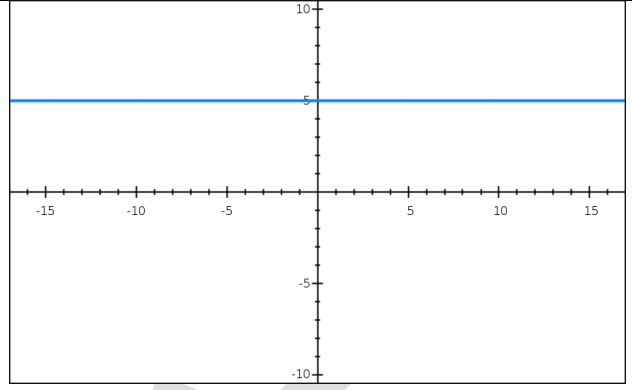
(٢) ق(س) = س



المجال = ح

المدى = ح

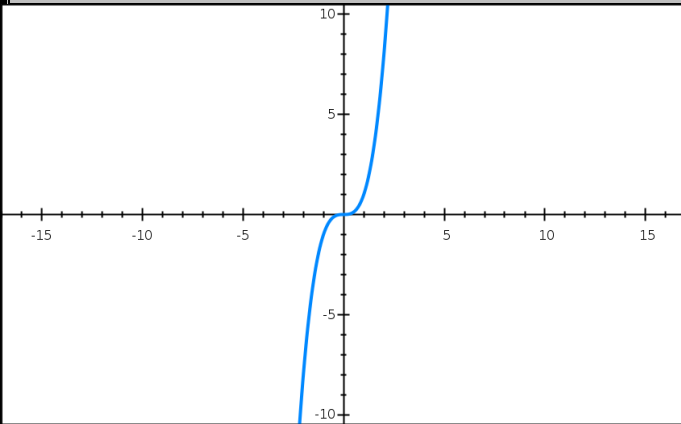
(١) ق(س) = ٥



المجال = ح

المدى = {٥}

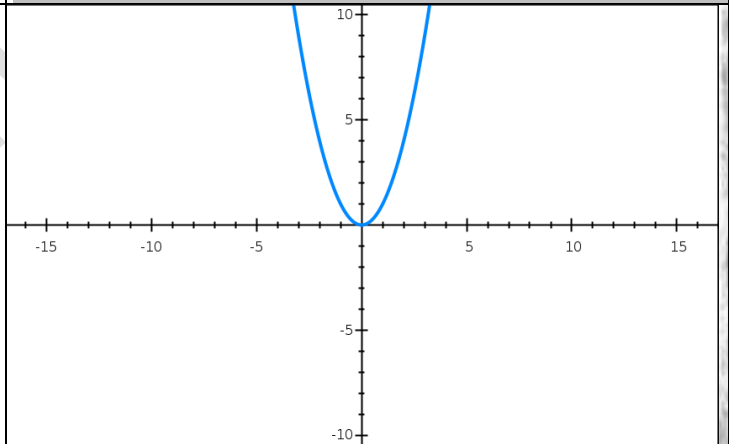
(٤) ق(س) = س^٣



المجال = ح

المدى = ح

(٣) ق(س) = س^٢



المجال = ح

المدى = ص ≤ صفر أو [صفر ، ∞)

تمرين: مثل بيانياً

(١) ق(س) = س^٤

(٢) هـ(س) = س^٢ - س^٢