



إدارة الامتحانات والاختبارات
قسم الامتحانات العامة

الكتاب القديم

امتحان شهادة الدراسة الثانوية العامة لعام ٢٠٢٣

(وثيقة محمية/محدود)

س د
٣٠ : ٢

مدة الامتحان: ٣٠ : ٢
اليوم والتاريخ: الاثنين ١٠/٧/٢٠٢٣ م
رقم الجلوس:

رقم المبحث: 107
رقم النموذج: (١)

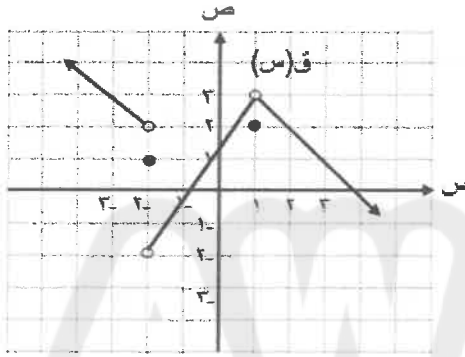
المبحث: الرياضيات/الورقة الأولى/ف١
الفرع: (أدبي، شرعي، فندقي جامعات)
اسم الطالب:

ملحوظة مهمة: أجب عن الأسئلة الآتية جميعها وعددها (٥)؛ بحيث تكون إجابتك على السؤال الأول على نموذج الإجابة (ورقة القارئ الضوئي)، وتكون إجابتك عن باقي الأسئلة على دفتر الإجابة، علماً أن عدد صفحات الامتحان (٥).

السؤال الأول: (١٠٠ علامة)

اختر رمز الإجابة الصحيحة في كل فقرة مما يأتي، ثم ظلّل بشكل غامق الدائرة التي تشير إلى رمز الإجابة في نموذج الإجابة (ورقة القارئ الضوئي) فهو النموذج المعتمد (فقط) لاحتساب علامتك في هذا السؤال، علماً أن عدد فقراته (٢٥).

** معتمداً الشكل المجاور الذي يمثل منحنى الاقتران ق(س)،



أجب عن الفقرتين (١)، (٢) الآتيتين:

(١) ما قيمة ق(-٢)؟

(ب) ١

(أ) ٢

(د) غير موجودة

(ج) -٢

(٢) ما قيمة $\frac{3ق(س) + (س-٢)}{١-س}$ ؟

(ب) ١

(أ) ٨

(٣) إذا كانت $\frac{٢س^٣ - ٣م}{٢-س} = ١١$ ، فما قيمة الثابت م؟

(ب) ٢

(أ) ٩

(د) -٩

(ج) -٢

(٤) إذا كانت $\frac{٨}{١-س} = ٣((س)ق)$ ، $\frac{٨}{١-س} = ٢$ ، فإن قيمة $\frac{٥(س)}{٢} \times (س)ق$ تساوي:

(ب) -٢

(أ) ٢

(د) ٤

(ج) -٨

(٥) ما قيمة $\frac{٣+س}{٢س-٣} - \frac{٣}{٢س-٣}$ ؟

(ب) -٣

(أ) -١

(د) ٣

(ج) صفر

(٦) إذا كان ق(س) = $\frac{٢(١+س)}{٢س}$ ، وكانت $\frac{٢}{٢-س} > ٢$ ، وكانت $\frac{٢}{٢-س} \leq ٢$ ، فما قيمة الثابت P؟

(ب) ٤

(أ) ٥

(د) ٨

(ج) ٧

يتبع الصفحة الثانية ،،،

الصفحة الثانية / نموذج (١)

٧) إذا كان $Q(s) = \frac{s-2}{s-2}$ ، فإن مجموعة قيم s التي يكون عندها الاقتران Q غير متصل هي:

- (أ) {2} (ب) {2, 1} (ج) {1, 0} (د) {2, 0}

٨) إذا كان $Q(s) = \frac{(s-2)(s+2)}{9}$ ، $s \neq 3$ ، $s = 3$ ، فما قيمة $Q(s)$ ؟

- (أ) 5 (ب) 15 (ج) 9 (د) 25

٩) إذا كان $Q(s) = \frac{s^2 + 2s}{s^2}$ ، $s \neq 2$ ، $s = 2$ ، وكان Q متصلًا عند $s = 2$ ، فما قيمة الثابت P ؟

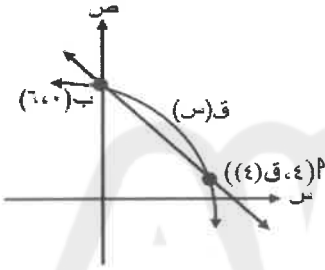
- (أ) 4 (ب) 2 (ج) 8 (د) 16

١٠) إذا كان $Q(s) = 1 - (s-1) = 2 - 12$ ، فإن معدل تغير الاقتران Q في الفترة $[1, 4]$ يساوي:

- (أ) 3- (ب) 3 (ج) 4- (د) 4

١١) معتمدًا الشكل المجاور الذي يمثل منحنى الاقتران $Q(s)$ ، إذا كان ميل القاطع $AB = -1$ ،

فما قيمة $Q(4)$ ؟



- (أ) 1 (ب) 2 (ج) $\frac{1}{2}$ (د) $\frac{3}{2}$

١٢) ما قيمة التغير في الاقتران $V = s + 3$ ، عندما تتغير s من $s = 1$ بمقدار $\Delta s = 2$ ؟

- (أ) 8 (ب) 10 (ج) 4 (د) 2

١٣) إذا كان $Q(s) = s^2 - 3s$ ، فإن $Q(s) = \frac{(s+3) - (s-3)}{h}$ تساوي:

- (أ) صفر (ب) 6 (ج) 1 (د) 3

١٤) إذا كان $Q(s) = 2s$ ، فإن $Q(s)$ تساوي:

- (أ) $2s$ (ب) $2s^2$

- (ج) $2 - 2s$ (د) $2 + 2s$

١٥) إذا كان $Q(s) = s^2 + 1$ ، حيث s عدد ثابت، فإن $Q(s)$ تساوي:

- (أ) صفر (ب) $2s$ (ج) $2 + s$ (د) 1

١٦) إذا كان $Q(s) = 2 - (s-1)$ ، $Q(s) = 1 - (s-1)$ ، $Q(s) = 1 - (s-1)$ ، فإن $Q(s) = \frac{2}{s}$ تساوي:

- (أ) 2 (ب) $\frac{2}{3}$ (ج) $\frac{3}{2}$ (د) 2-

الصفحة الثالثة / نموذج (١)

(١٧) إذا كان $v = m^2 - 2m$ ، $m = \frac{1}{4}s^2$ ، فإن $\frac{dv}{ds}$ عندما $s = 2$ تساوي:

- (أ) ٢ (ب) ٤ (ج) ١٢ (د) ٦

(١٨) إذا كان $Q(s) = (s^2 + 3s)$ فإن $Q'(s)$ تساوي:

- (أ) $Q'(s) = (s^2 + 3s)$ (ب) $(3 + s^2)Q'(s)$
(ج) $Q'(s) = (s^2 + 3s)$ (د) $(3 + s^2)Q'(s)$

(١٩) يتحرك جسيم وفق العلاقة: $f(n) = 3n^2 - 2n^3$ ، حيث f المسافة التي يقطعها الجسيم بالأمتار،

n الزمن بالثواني، ما سرعة هذا الجسيم عندما يكون تسارعه 12 م/ث^2 ؟

- (أ) 3 م/ث (ب) 6 م/ث (ج) 9 م/ث (د) 12 م/ث

** إذا كان $Q(s) = 2s^2$ ، $h(s) = s^2 - 2$ ، $(Q \times h)'(1) = 8$ ، فأجب عن الفقرتين (٢٠)، (٢١) الآتيتين:

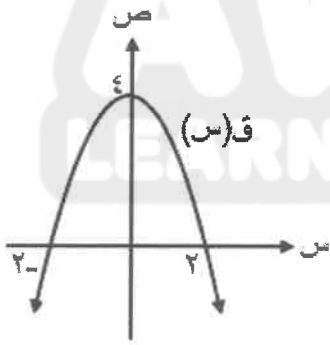
(٢٠) ما قيمة الثابت P ؟

- (أ) $8 -$ (ب) 8 (ج) $4 -$ (د) 4

(٢١) ما ميل المستقيم المار بالنقطتين $(1, h(1))$ ، $(2, h(2))$ ؟

- (أ) 3 (ب) 2 (ج) 4 (د) 1

** معتمداً الشكل المجاور الذي يمثل منحنى الاقتران $Q(s)$ (المُعَرَّف على مجموعة الأعداد الحقيقية ح ،



أجب عن الفقرتين (٢٢)، (٢٣) الآتيتين:

(٢٢) ما مجموعة قيم s الحرجة للاقتران Q ؟

- (أ) $\{4\}$ (ب) $\{-2, 2\}$
(ج) $\{0\}$ (د) $\{4, 0\}$

(٢٣) ما الفترة التي يكون فيها منحنى الاقتران Q متزايداً ؟

- (أ) $[-\infty, 0)$ (ب) $[-2, 2]$ (ج) $(0, \infty)$ (د) $[4, 0]$

(٢٤) إذا كان للاقتران $Q(s) = s^3 - 3s^2$ قيمة صغرى محلية عند $s = 1$ ، فإن قيمة الثابت P تساوي:

- (أ) 2 (ب) -2 (ج) -3 (د) 3

(٢٥) إذا كان الإيراد الكلي للمبيعات هو $D(s) = 40s + s^2$ دينار، واقتران التكلفة الكلية

هو $K(s) = 60 + 120s$ دينار ، حيث s عدد الوحدات المنتجة من سلعة ما ، فإن الربح الحدي هو:

- (أ) $80 + s^2$ (ب) $80 - s^2$
(ج) $s^2 - 80 - 60$ (د) $s^2 - 80 + 60$

يتبع الصفحة الرابعة ،،،

الصفحة الرابعة / نموذج (١)

السؤال الثاني: (٢٦ علامة)

(أ) جد قيمة النهاية في كل مما يأتي:

(٩ علامات)

$$(١) \lim_{s \rightarrow 4} \frac{s^2 - 16}{s^2 - 2s - 8}$$

(٩ علامات)

$$(٢) \lim_{s \rightarrow 1} \frac{\frac{2}{s^3} - \frac{4}{s+5}}{s-1}$$

(ب) إذا كان كل من الاقترانين: ق ، ه متصلًا عند $s=2$ ، وكان $ق(2)=3$ ، $ه(2)=6$ ،

(٨ علامات)

فجد قيمة $ه(2)$.

السؤال الثالث: (٢٢ علامة)

(أ) إذا كان $ق(س) = ٢ + ٥س^٢$ ، $ه(س) = ٣ + ٣س$ ، $س > ١$ ، وكان $ل(س) = (ق \times ه)(س)$ ،

(١٢ علامة)

فابحث في اتصال الاقتران ل عندما $س=١$

(ب) إذا كان $ق(س) = \frac{٢}{س}$ ، $س \neq ٠$ ، وكان مُعدّل تغير الاقتران ق عندما تتغير س من ١ إلى ٣ يساوي -٢ ،

(١٠ علامات)

فجد قيمة الثابت ٢ .

السؤال الرابع: (٢٤ علامة)

(١٢ علامة)

(أ) إذا كان $ق(س) = ٢س - ٢س$ ، فجد $ق(٣)$ باستخدام تعريف المشتقة .

(ب) جد $\frac{ص}{س}$ لكل ما يأتي عند قيمة س المُبينة إزاء كل منها:

(٦ علامات)

$$(١) \text{ ص } = (٢س^٣ + ٤) ، \text{ س } = ١$$

(٦ علامات)

$$(٢) \text{ ص } = \frac{٢س}{٣س - ٧} ، \text{ س } = ١$$

الصفحة الخامسة / نموذج (١)

السؤال الخامس: (٢٨ علامة)

(أ) إذا كان $ق(س) = س(س - ٢)$ ، فجد معادلة المماس لمنحنى الاقتران $ق$ عندما $س = ١$ (٨ علامات)

(ب) إذا كان $ق(س) = س^٣ - ٣س + ١$ ، فجد كلاً مما يأتي: (١٢ علامة)

(١) فترات التزايد وفترات التناقص للاقتران $ق$.

(٢) القيم القصوى المحلية (إن وجدت) للاقتران $ق$ مبيئاً نوعها.

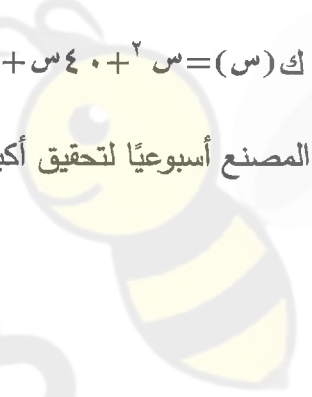
(ج) يُنتج مصنع للحواشيب (س) جهاز أسبوعياً ، فإذا كانت تكلفة الإنتاج الكلي الأسبوعي (بالدينار) تُعطى بالعلاقة:

ك(س) = $س^٢ + ٤٠س + ٢٠٠٠$ ، وكان سعر الجهاز الواحد ٢٠٠ دينار ، فما عدد الأجهزة التي يجب أن يبيعهها

المصنع أسبوعياً لتحقيق أكبر ربح ممكن. (٨ علامات)

﴿ انتهت الأسئلة ﴾

AWAZEL
LEARN 2 BE



هذه الصفحة غير



AWAZEL
LEARN 2 BE

ملاحظة للإيجابية