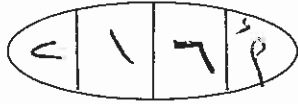




الجمهورية الأردنية

وزارة التربية والتعليم  
إدارة الامتحانات والاختبارات  
قسم الامتحانات العامة



## امتحان شهادة الدراسة الثانوية العام لعام ٢٠١١ / الدورة الشتوية

(وثيقة محمية/محدود)

مدة الامتحان : ٣٠ : ١

اليوم والتاريخ : الاثنين ٢٤/١/٢٠١١

المبحث : الجغرافيا/المستوى الرابع

الفرع : الأدبي

ملحوظة : أجب عن الأسئلة الآتية جميعها وعددها (٥)، علماً بأن عدد الصفحات (٣).

### السؤال الأول : (١٦ علامة)



عرف المفاهيم والمصطلحات الآتية :

- ١- الظهير.
- ٢- البजार المفتوحة.
- ٣- القحط.
- ٤- انجراف التربة.
- ٥- السياحة البيئية.
- ٦- مكافحة التصحر.
- ٧- الطاقة النووية.
- ٨- مساحة الدولة.

### السؤال الثاني : (١٥ علامة)

فسّر كلاً مما يأتي :

- ١- تعاني الدول الحبيسة أو المغلقة من مشكلات عديدة. (علامتان)
- ٢- تعدّ المضائق والممرات المائية من أبرز المواقع الاستراتيجية. (٣ علامات)
- ٣- عدم صلاحية كثير من الأنهار للملاحة. (٣ علامات)
- ٤- أدت الأسباب الطبيعية والبشرية إلى تأثر الساحل الإفريقي منذ الستينات بالجفاف. (٣ علامات)
- ٥- تتعرض أراضي وادي الأردن للتصحر. (٤ علامات)

### السؤال الثالث : (١٥ علامة)

اذكر :

- ١- أربعة من أشكال الدول. (٤ علامات)
- ٢- إيجابيات المناطق السهلية. (٣ علامات)
- ٣- العوامل الطبيعية الخارجية المؤثرة في التغير المناخي. (٣ علامات)
- ٤- خمساً من الممارسات البشرية المؤثرة على انجراف التربة. (٥ علامات)

يتبع الصفحة الثانية ...

السؤال الرابع : (١٦ علامة)

يتكون هذا السؤال من (٨) فقرات، لكل فقرة أربع إجابات، واحدة منها فقط صحيحة، انقل إلى دفتر إجابتك رقم

الفقرة ورمز الإجابة الصحيحة لها على الترتيب :

١- أكثر مناطق العالم أمطاراً من بين الآتية هي :

- أ ( المناطق المدارية  
ب) المناطق الاستوائية  
ج) المناطق شبه المدارية  
د ( المناطق المعتدلة

٢- أهم العناصر المناخية المؤثرة في التوزيع الجغرافي للسكان هي :

- أ ( الضغط الجوي والرياح  
ب) درجة الحرارة والرطوبة  
ج) الأمطار ودرجة الحرارة  
د ( الضغط الجوي والرطوبة



٣- أطول أنهار العالم الذي يصل طوله إلى ٦٦٧٠ كم هو نهر :

- أ ( الأمازون  
ب) الميسيسيبي  
ج) الفرات  
د ( النيل

٤- التربة الخصبة التي ترسبها الأنهار على جانبيها هي التربة :

- أ ( الفيضية  
ب) الحمراء  
ج) السوداء  
د ( التندرا

٥- أول مؤتمر دولي للبيئة عام ١٩٧٢م عُقد في مدينة :

- أ ( نيروبي  
ب) ريو دي جانيرو  
ج) استوكهولم  
د ( جوهانسبرغ

٦- تتركز مشكلة تملح التربة في المناطق :

- أ ( الهامشية غزيرة الأمطار  
ب) شبه الرطبة  
ج) الرطبة  
د ( الهامشية قليلة الأمطار

٧- الأشجار التي تتميز بقدرتها على تغذية الحيوان لفترات زمنية طويلة هي :

- أ ( الطلح  
ب) الكافور  
ج) الكينا  
د ( البلوط

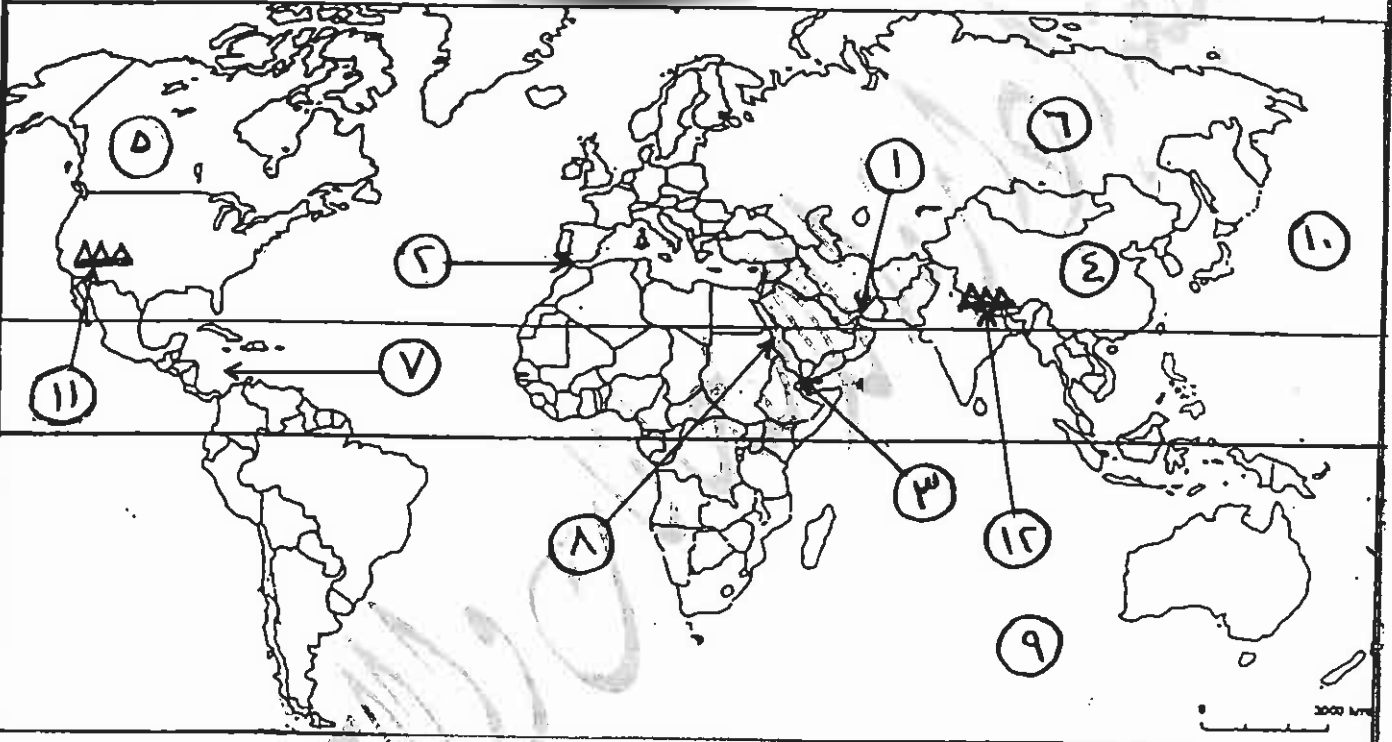
٨- يتوافر الصخر الزيتي بكميات كبيرة في المملكة الأردنية الهاشمية في المناطق :

- أ ( الشمالية  
ب) الوسطى  
ج) الجنوبية  
د ( الغربية

السؤال الخامس : (١٨ علامة)

أ) ادرس خريطة العالم الصماء أدناه ثم انقل إلى دفتر إجابتك ما تشير إليه الأرقام الآتية على الترتيب :  
(١٢ علامة)

- مضائق استراتجية (١ ، ٢ ، ٣).
- بحار مفتوحة (٧ ، ٨).
- سلاسل جبلية لها أثر في حدوث الجفاف (١١ ، ١٢).
- دول ضخمة في مساحتها (٤ ، ٥ ، ٦).
- محيطات (٩ ، ١٠).



(٦ علامات)

ب) أعط مثالين لكل مما يأتي :

- ١- محميات طبيعية في الأردن.
- ٢- حروب أثر المناخ في عملياتها العسكرية.
- ٣- استخدام أخشاب الغابات.

( انتهت الأسئلة )

بسم الله الرحمن الرحيم  
امتحان شهادة الدراسة الثانوية العامة لعام ٢٠١١ (الدورة الشتوية).



صفحة رقم ( ١ )

وزارة التربية والتعليم  
إدارة الامتحانات والاختبارات  
قسم الامتحانات العامة  
المبحث : الجغرافيا ٤  
الفرع : الأدبي.

مدة الامتحان : ٣٠ د  
التاريخ : ٢٤ / ١ / ٢٠١١ س



الإجابة النموذجية :

رقم الصفحة  
في الكتاب

١٦ علامة

السؤال الأول : عرف :

١٧١

١. الظهير : ارض من اليابس تقع خلف هذا الساحل

١٧٤

٢. البحار المفتوحة : البحار التي لها اتصال مباشر بالبحار والمحيطات الأخرى.

٢٧٩

٣. القوط : صفة تطلق على المناطق الصحراوية التي بعد شح الإقطار الدائم نجد فيها الرثيب

٢٩٠

٤. انجراف التربة : انتقال التربة من موضعها أو مكان تكونها إلى مكان آخر ، إما بفعل الماء أو الرياح

٢٤٦

٥. السياحة البيئية : السفر إلى مناطق طبيعية لم يتأثر بها الإنسان ولم يتعرض لتوازنها الطبيعي إلى الحد الذي يهدد الاستمتاع بمناظرها ونباتاتها وهيئاتها البرية.

٣١٣

٦. مكافحة التصحر : عملية منع تدهور الأراضي المفتحة للحصول الزراعية والظبايات والاعتناء بها.

٣٣٦

٧. الطاقة النووية : الطاقة الكامنة في نوى ذرات اليورانيوم وترابطها بين مكونات النواة ( البروتونات والنيوترونات )

١٨٨

٨. مساهمة الدولة : رقعة الارض التي تشغلها الدولة الحدودية بحدد سياسية واضحة المعالم ، ومعترف بها دولياً

٩

رقم الصفحة  
في الكتاب

معرفة

السؤال الثاني: فسر:

١٦٨

١. تعاني الدول الحبيسة أو المغلقة من مشكلات عديدة  
بسبب عدم اتصالها المباشر بالبحر، وانظر إليها إلى  
الاعتماد على جيرانها في الوصول اليها، مما يؤثر سلباً في  
قوتها.

معلومات

١٨١

٢. تعد المضائق والممرات المائية من أبرز المواقع الاستراتيجية  
نظراً لأهميتها تحكمها في ممرات التجارة البحرية العالمية،  
وتحتضنها لسيطرة دولة معينة تعمل من خلالها على السيطرة  
على ممرات التجارة البحرية، والطرق المائية التي تربط بين  
المطارات المائية، وتعد المضائق كدالة هضرة الوصول  
بين الأساطيل البحرية وقواعدها في المحيطات والبحار الدولية.

معلومات

٢٤٥

٣. عدم صلاحية كثير من الأراضي الزراعية  
بسبب وجود إشكالات، أولها انخفاضها، وثانيها،  
انخفاضها.

معلومات

٢٨٣/٢٨٢

٤. أدت الأسباب الطبيعية والبشرية إلى تأثر  
الأرض من حيث استيطان الجفاف والتصحّر، وذلك  
لأسباب طبيعية تتمثل في توالي الجفاف، وانخفاض  
مثل تخطي حدود الزراعة المطرية، والضغط على الأراضي  
الزراعية والرعي.


معلومات

٣٠٨

٥. تتعرض أراضي وادي الأردن للتصحّر بسبب  
الزراعة الكثيفة، والاضطراب في الري، واستخدام  
المخصبات الكيميائية، وترك الأراضي الزراعية بعد  
تعالجها وتدهور إنتاجيتها.

معلومات

٤

رقم الصفحة في الكتاب	١٥ اعارة	السؤال الثالث : اذكر
١٩٥		١. أربعة من أشكال الدوك :
		١- الشكل المتراحد ( المنتظم ) ٢- الشكل غير المنتظم
		٣- الشكل المثلثي ٤- الشكل المستطيل
		٥- الشكل المحتوى .
		
٢١٦		٢. إيجابيات المظاهر السهلية :
		١. سهولة جمع طرفة المراعشات ، مما يساهم في الصالح لكافة مع بعضهم ، ولتسع الوحدة لتقانية في الدولة .
		٢. سهولة سيطرة الدولة من المركز على مختلف أرجاء الدولة
		كما يحقق الوحدة السياسية .
		٣. تعدد المظاهر السهلية للافضل لممارسة الزراعة وخاصة
		بتوافر الظروف اللازمة ، كالمنطق والتربة الخصبة والسملة
		وتوافر المياه ، وذلك للمطابق استخدام الآلات الزراعية
٢٦٨		٣. العوامل الطبيعية الخارجية المؤثرة في تغير المناخ هي :
		١. التغيرات الفلكية في حركة الأرض ومسارها حول الشمس
		٢. تغير ميل محور الأرض .
		٣. تباين كمية الإشعاع الشمسي .
٢٩٤		٤. محاسن المراعشات البشرية المؤثرة على انجراف التربة :
		١. قطع الغابات .
		٢. الزيادة السريعة في استخدام الآليات الزراعية الكثيفة مثل :
		المبيدات الكيميائية والآلات الحديثة .
		٣. ارتفاع معدل التوسع الحضري ٤- اجتفاف التربة .
		٥- ترقى الجار ٦. هرائه للمعدن بطريقة خاطئة وعدم
		الالتصاق بطريقة صيانة التربة ٧- استخدام الحاصلات الزراعية غير ملائمة للتربة
		٨- عدم استخدام طرفة الري الحديثة .

رقم الصفحة  
في الكتاب

١٦ علامة

السؤال الرابع : اختباره متعدد

الرمز	التركيب	الإجابة الصحيحة	العلامة	الصفحة
١	ب	المفاصل لا تتواءم	٢	١٦٤
٢	د	الأمطار ورديّة الحرارة	٢	٢٢٢
٣	س	النيل	٢	٢٣٧
٤	پ	الفيضه	٢	٢٤٥
٥	د	استوكهولم	٢	٣٤٨
٦	س	الحماشيه قليطه الاقطار	٢	٢٩٥
٧	پ	الطبخ	٢	٣١٦
٨	د	الجنوبيه	٢	٢٠٧

علامة لكل نطقه

