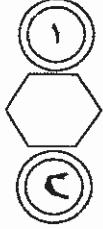


بسم الله الرحمن الرحيم



المملكة العربية السعودية
وزارة التربية والتعليم
بإدارة الامتحانات والاختبارات
قسم الامتحانات العامة



امتحان شهادة الدراسة الثانوية العامة لعام ٢٠١٤ / الدورة الصيفية

(وثيقة محمية/محدود)

مدة الامتحان : ٠٠ ٠٠ : ٢

اليوم والتاريخ : الأحد ٢٠١٤/٦/٢٢

المبحث : المحاسبة المحوسبة / المستوى الثالث

الفرع : الإدارة المعلوماتية

ملحوظة : أجب عن الأسئلة الآتية جميعها وعددها (٥) ، علماً بأن عدد الصفحات (٤) .

السؤال الأول : (٢٠ علامة)

أ) انقل الجدول الآتي إلى دفتر إجابتك ثم عبئ المعلومات الناقصة فيه بدلاً من علامة الاستفهام تمهيداً

(٥ علامات)

إضافة هذه الحسابات إلى دليل حسابات برمجية ITAC.



| قبول الحركات | حالة الحساب | مستوى الحساب | كشافة الحساب | طبيعة الحساب | نوع الحساب | رقم الحساب | اسم الحساب |
|--------------|-------------|--------------|--------------|--------------|------------|------------|------------|
| ؟ | ؟ | ٢ | ؟ | ؟ | ؟ | ٤٠٠٠٠٠٠ | المبيعات |
| ؟ | ؟ | ٣ | ؟ | ؟ | ؟ | ٣٠٠١٣٠٠ | مشتريات نم |

ب) ١. انكر أربع حركات للمخزون والتي من شأنها زيادة أو تخفيض مخزون المواد فيه. (٤ علامات)

٢. بعد نقر الأمر إضافة من لائحة أوامر في شاشة ثوابت المؤسسة - مستودع، عدد ثلاث من أهم

المعلومات التي تستطيع تعبئة الشاشة بها والتي لا يمكن إتمام عملية التنفيذ دونها. (٣ علامات)

ج) قرّرت مؤسسة الأمل التجارية بتاريخ ٢٠١٣/٦/٣ إنشاء بطاقة المادة الرئيسة لمادة الحليب المجفف على

(٨ علامات)

برمجية ITAC.

المطلوب :

• تتبّع خطوات الوصول إلى شاشة بطاقة المادة الرئيسة - معلومات المادة على برمجية ITAC.

• ما الخطوات التي تلي تعبئة بطاقة المادة الرئيسة - معلومات المادة ؟

يتبع الصفحة الثانية...

الصفحة الثانية

السؤال الثاني : (٢٠ علامة)

أ) ١- فيما يلي فاتورة مبيعات صادرة عن مؤسسة عابد التجارية.

مؤسسة عابد التجارية

فاتورة مبيعات نقدية / ذمم

رقم الفاتورة : ١٠١



التاريخ ٢٠١٤/١٠/١٠

المطلوب من السيد / السادة : شركة نظم الذكاء

| السعر الإفرادي | | العدد | البيان | المبلغ | |
|----------------|---|-------|-----------------------------|--------|---|
| د | ف | | | د | ف |
| ٥٠ | - | ٢٠ | خزائن حائط | ١٠٠٠ | - |
| ٢٠ | - | ١٥ | مكتب | ٣٠٠ | - |
| | | | المجموع ألف وثلاثمائة دينار | ١٣٠٠ | - |

فإذا علمت أن شركة نظم الذكاء سددت المبلغ على النحو الآتي :

- شيك قيمته ٨٠٠ دينار.
- دفعة نقدية ٢٠٠ دينار.
- والباقي يُسَدَّد في وقت لاحق.

(٤ علامات)

المطلوب :

- سجل ثلاثة قيود يومية للعملية المالية في دفاتر مؤسسة عابد.
- حدّد المستند المحاسبي المناسب لكل قيد.

(٤ علامات)

٢- لكشف المصاريف فوائد عدة، اذكر أربع من هذه الفوائد.

ب) قام محاسب مؤسسة الهدى التجارية بإدخال عشر عمليات قبض على برمجية ITAC وأراد القيام بعملية التحديث اليومي لها.

(٤ علامات)

المطلوب :

- تتبّع خطوات عملية التحديث اليومي عبر برمجية ITAC.
- حدّد مدى عملية التحديث.

ج) فيما يلي بعض الأرصدة المستخرجة من دفاتر مؤسسة ألفا للحاسبات كما في ٢٠١٣/١٢/٣١ :

(٦٠٠٠) مردودات المبيعات ، (٤٠٠٠) خصم المشتريات ،

(٥٠٠٠) المسحوبات الشخصية ، (١٠٠٠٠) بضاعة أول المدة .

(٨ علامات)

المطلوب : سجل قيود إقفال الحسابات السابقة في دفاتر المؤسسة في ٢٠١٣/١٢/٣١.

يتبع الصفحة الثالثة ...

الصفحة الثالثة

السؤال الثالث : (٢٠ علامة)

- أ) فيما يلي الحركات التي حدثت على المادة س في مستودع مؤسسة الغلا خلال شهر ٢٠١٣/٨ :
١. في ٢٠١٣/٨/٥ اشترت المؤسسة (٧٥٠٠) وحدة.
 ٢. في ٢٠١٣/٨/١٠ رتت المؤسسة إلى البائع (٥٠٠) وحدة بسبب التلف.
 ٣. في ٢٠١٣/٨/١٥ باعت المؤسسة (١٠٠٠) وحدة.
 ٤. في ٢٠١٣/٨/١٥ اشترت المؤسسة (٢٠٠٠) وحدة.
 ٥. في ٢٠١٣/٨/٢٥ ردّ للمؤسسة (١٠٠٠) وحدة لانتها صلاحيتها.

المطلوب :

(٦ علامات)



- إعداد بطاقة صنف المادة س لشهر ٢٠١٣/٨.
- تحديد رصيد المادة بتاريخ ٢٠١٣/٨/١٥.

ب) فيما يلي أرصدة مستخرجة من ميزان مراجعة مؤسسة المدينة التجارية كما في ٢٠١٣/١٢/٣١ وبالدينار الأردني :

- (٨٥٠٠) أراضي ومباني ، (٢٥٠٠٠) مبيعات ، (١٥٠٠٠) رواتب مستحقة الدفع ، (١٤٠٠٠) أثاث ، (١٠٠٠٠٠) رأس المال في ٢٠١٣/١/١ ، (٣٠٠٠٠) شهرة المحل ، (٨٥٠٠) قرض قصير الأجل
- فإذا علمت :

- بلغت الأرباح الصافية لسنة ٢٠١٣ (٢٨٥٠٠).
- قُتِرَت بضاعة آخر المدة بمبلغ (٩٥٠٠) دينار.

المطلوب : إعداد قائمة المركز المالي لمؤسسة المدينة التجارية كما في ٢٠١٣/١٢/٣١. (١٤ علامة)

السؤال الرابع : (٢٠ علامة)

أ) قرّرت مؤسسة الأطلسي لتجارة السيارات إدخال المواد الآتية على برمجية ITAC :

مرسيدس ٢٠٠ ، هوندا أكورد ، هونداي اكسنت ، هوندا CRV ، هونداي إكسل ، مرسيدس ٣٠٠

المطلوب : صنّف ما سبق إلى (فئة ، صنف ، مادة) مقترحاً الفئة والأصناف المناسبة ثم رمزها ترميزاً

محدداً برمز الفئة (٤). (١٠ علامات)

ب) ١- بتاريخ ٢٠١٣/٧/٥ اشترت مؤسسة النجم الساطع بضاعة بمبلغ (٥٠٠٠) دينار من مؤسسة الفجر الطالع على الحساب.

٢- بتاريخ ٢٠١٣/٧/٦ باعت البضاعة المشتراة في ٢٠١٣/٧/٥ كاملة لمؤسسة السلامة بمبلغ (٦٠٠٠) نقداً

المطلوب : (٨ علامات)

• تسجيل قيود اليومية في دفاتر مؤسسة النجم الساطع علماً أنها تستخدم نظام الجرد المستمر.

• تسجيل قيود اليومية في دفاتر مؤسسة السلامة علماً أنها تستخدم نظام الجرد الدوري.

ج) علّل : يتم إعداد قوائم تفصيلية من قبل المحاسبين تشرح وتفصل أرصدة قائمة المركز المالي. (علمان)

الصفحة الرابعة

السؤال الخامس : (٢٠ علامة)

- أ) ١- لطباعة أمر بيع على برمجية ITAC مجموعة من الخطوات، اذكرها. (٤ علامات)
٢- يتميز الجرد المستمر على الجرد الدوري بمميزات عديدة، اذكر خمساً منها. (٥ علامات)

- ب) ١- ما الهدف من إعداد شاشة متسلسلات المستندات في نظام برمجية المحاسبة المحوسبة ITAC ؟ (٤ علامات)
٢- بعد إتمام عملية التحديث اليومي للمستودعات على برمجية ITAC نحصل على نوعين من التقارير اذكرهما. (علامتان)

- ج) تتعدد أنواع التقارير المحاسبية التي نستخرجها من برمجية ITAC ومنها التقارير الشهرية، عدد خمسة من كشوف التقارير الشهرية. (٥ علامات)



انتهت الأسئلة

رقم الصفحة
في الكتاب

اجابة السؤال الثاني

٣١٣

صافية

٢٢ ①

٨٠٠ عن المصروفات مستخدمين * عدم اعتماد لقيمة الج

٨٠٠ الى المبيعات

٢٠٠ عن المصروفات مستخدمين * او مستخدمين
٢٠٠ الى المبيعات
 $1 = 2 \times 100$



٢٠٠ عن شركة نظم الزكاة مستخدمين قيد

٢٠٠ الى المبيعات

٣٠٠ عن المبيعات ١٧٢ = ٣٠٠

٣٤١

٢٠٠ * كور قيمة كل نوع من أنواع المصاريف لا يمكن المصاريف

لا يساعد على تحديد نسبة كل مصروف

لا يساعد الإدارة على اتخاذ القرارات المالية الاثرية خاصة بالمصاريف

لا اعطاء المؤسسة القدرة على التخطيط المالي

٣٠٠ عن المبيعات ١٧٢ = ٣٠٠

٢٤٨

٢٠٠ ① (ب) * رقم الحاسبة العاقبة $\frac{1}{2}$

٢٤٩

* اختيار الخريف $\frac{1}{2}$ عن المصاريف المباشرة

* اختيار برامج الخريف المباشرة $\frac{1}{2}$

* نسبة المصاريف المباشرة $\frac{1}{2}$

* نسبة المصاريف المباشرة $\frac{1}{2}$

٣٠٠ عن المبيعات ١٧٢ = ٣٠٠

٢٠٠ ② الميزانية عن مستخدمين الى مستخدمين

أرد ذكر كلمة فصل أو فصل لعلامة خاصة

رقم الصفحة
في الكتاب

تابع اجابة السؤال الثاني

٢٣

٦٠٠٠ عندي عشرين الدخيل

٦٠٠٠ الذي عندي ودورات المبيعات

٤٠٠٠ عندي

٤٠٠٠ عندي

٤٠٠٠ عندي



٤٠٠٠ عندي

٤٠٠٠ الذي عندي

١٠٠٠٠ عندي

١٠٠٠٠ الذي عندي

لأفيد بعدا من $c \times e = a$ عائلات
مادة كتابة لصحة بطة صفة الحرف

اليد والظرف لوائه يدونه

وموجود ارقام بأفنيه

الملاحة التي صفة للصيد

رقم الصفحة
في الكتاب

إجابة السؤال الثالث

١٧١

٤ ①

| التاريخ | البيان | مصدر | وارد | الرصيد |
|-----------|--------------|--------|--------|--------|
| ٢٠١٣/٨/٥ | عشرات | | ✓ ٧٥٠٠ | ٧٥٠٠ |
| ٢٠١٣/٨/١٠ | دوريات عشرات | ✓ ٥٠٠ | | ٧٠٠٠ |
| ٢٠١٣/٨/١٥ | عشرات | ✓ ١٠٠٠ | | ٦٠٠٠ |
| ٢٠١٣/٨/١٥ | عشرات | | ✓ ٢٠٠٠ | ٨٠٠٠ |
| ٢٠١٣/٨/٢٥ | دوريات عشرات | | ✓ ١٠٠٠ | ٩٠٠٠ |



٢) انظر المدينه من في ١٨/١٥ ٢٠١٣ (٨٠٠٠) و ص ٤٠٠
 كالمحج بعدد ٤٠٠٠ والرقم ١٠٠٠ + ١ = ٦٠٠٠
 المظنه

٢٠١٣/٨/١٥ المخرج من اذالك لطال
 ١٠٠٠ الى ٢٠٠٠ مع النقطة رقم (١٤) لغير
 صيغة المدينه لتعديل لهم ١٥ ليصبح ١٠٠٠
 وتاريخ ٢٠١٣/٨/١٥ (٨٠٠٠)

المظنه المخرج الثاني للمدينه لـ ١٥
 الختام صحت المدينه بالترتيب القوي
 ٨٠٠٠ مع ٤٠٠٠
 او ١٠٠٠ مع ٤٠٠٠


رقم الصلحة
في الكتاب

تابع إجابته السؤال الثالث

٣٥٥

قائمة الممتلكات المالية كما في ٣١/١٢/٢٠١٣

ب

| رقم الصلحة في الكتاب | الذمم | الكتبي | الفرعي | الكلي |
|-------------------------|------------------------------|---------|--|---------|
| | الأصول المتداولة | |  | |
| | مبيعات آخر المدة | ✓ ٩٥٠٠ | | ✓ ٩٥٠٠ |
| | الأصول الثابتة | ٨٥٠٠ | الرصيد معتد | |
| | أراض غير مبنية | ✓ ٨٥٠٠٠ | | |
| | أثاث | ✓ ١٤٠٠٠ | | |
| | مجموع الأصول الثابتة | | | ✓ ٩٩٠٠٠ |
| | أصول غير مبنية | | | |
| | شركة المحل | ✓ ٣٠٠٠ | | ✓ ٣٠٠٠ |
| | مجموع الأصول الخ | | | |
| | المطلوبات | | | |
| | حقوق الملكية | | | |
| | أرباح | ✓ ١٠٠٠ | | ✓ ١٠٠٠ |
| | أرصدة | ✓ ٢٨٥٠٠ | | ✓ ٢٨٥٠٠ |
| | حقوق الملكية | | | ✓ ٢٩٥٠٠ |
| | الذمم | | | |
| | مدين وكسب الاجل | ✓ ٨٥٠٠ | | |
| | رواتب مستحقة لدفع | ✓ ١٥٠٠ | | |
| | مجموع الالذم الان وكسب الاجل | | | ✓ ١٠٠٠ |
| | مجموع المطلوبات الخ | | | ✓ ٩٠٠ |

للقوائم

أداء
تفصيلات
أرصدة
باقدر

كل صح صحه
ال مجموع ما بالجدول = ١٢ = ١ x ١٢
ال مجموع ما بالجدول = ١٤ = ١ x ١٤

للقوائم

رقم الصفحة
في الكتاب

اجابة السؤال الرابع

٣٨١

السيارات (٤)



٤٣

٤٤

٤١

هوندا

هوندا

هوندا

٤٣١

هوندا

٤٤١

هوندا

٤١١

هوندا

٤٣٢

هوندا

٤٤٢

هوندا

٤١٢

هوندا

كل سيارة = ١ × ١٠ = (١٠ سيارات)

٤٤٣

مؤسسة السلام

وفاتنا الخيم السلام

٥٠٠٠ هوندا في المخازن

٦٠٠٠ هوندا في المخازن

٥٠٠٠ هوندا في المخازن

٦٠٠٠ هوندا في المخازن

٦٠٠٠ هوندا في المخازن

٦٠٠٠ هوندا في المخازن


٥٠٠٠ هوندا في المخازن

٥٠٠٠ هوندا في المخازن

كل سيارة = ٤ × ٨ = (٨ سيارات)

٣٥٢

إن الأرصدة التي تظهرها قارئه المبرك المطايع هي أرصده
احتمالية ولا يارة فأنه هذه الأرصدة بعدد لها يتم اعداد قوائم
تفصيلية لها تبينها وتشرحها (عمر منان)

| رقم الصفحة في الكتاب | |
|-------------------------|--|
| | إجابة السؤال الخامس |
| ٤٣٣ | <p>١- ٤ * اختيار المؤسسة النظم من الشاشة الرئيسية</p> |
| | <p>$\frac{1}{2}$ * نقد لا تؤثر المستودعات</p> |
| | <p>$\frac{1}{2}$ * اختيار قائمه الحركات اليومية</p> |
| | <p>$\frac{1}{2}$ * اختيار بطون اوراق البيع ، فتظهر الشاشة كما هي</p> |
| ٤٣٤ | <p>١ * تحديد سنة البيع وادخال رقم اربع ثم اختيار اربع المعلوم لها عنه</p> |
| | <p>$\frac{1}{2}$ * نقد الاثر طباعة</p> |
| | <p>$\frac{1}{2}$ * نقد الاثر (موافق)</p> |
| |  |
| ٤٥٢ | <p>٤- مميزات الكبر المسمرة</p> |
| ٤٥٣ | <p>١- للاحتياج الى وقف العمليات في أثناء الحركه - تحديد الخفض بعد كل عملية بيع او شراء</p> |
| ٤٥٤ | <p>٢- يحتاج الى عدد أقل من الاثراء</p> |
| ٤٥٥ | <p>٣- يتم فيه نقد القيود اولاً بأول</p> |
| ٤٥٦ | <p>٤- يساعد على عمليه الزاوية على مواد المستودع - مقارنة الربح الرقوى مع الفعلي</p> |
| ٤٥٧ | <p>٥- يساعد على اعداد القوائم المالية في الوقت المناسب</p> |
| ٤٥٨ | <p>كل بند يدرج ١٨٥ (٥ عمليات)</p> |
| ٤٥٩ | <p>١٥٥ - نظام محاسبية</p> |
| ٤٦٠ | <p>١- تعريف المشتان التي يتم استحقاقها في المشروع بالحد</p> |
| ٤٦١ | <p>كذلك يتم تباينه بالمتسلسل كونه المشتان</p> |
| ٤٦٢ | <p>لا يندرج الاصل = c x c (٥ عمليات)</p> |
| ٤٦٣ | <p>٢- تعريف المشتان التي يتم استحقاقها في المشروع بالحد</p> |
| ٤٦٤ | <p>كذلك يتم تباينه بالمتسلسل كونه المشتان</p> |
| ٤٦٥ | <p>لا يندرج الاصل = c x c (٥ عمليات)</p> |
| ٤٦٦ | <p>٣- تعريف المشتان التي يتم استحقاقها في المشروع بالحد</p> |
| ٤٦٧ | <p>كذلك يتم تباينه بالمتسلسل كونه المشتان</p> |
| ٤٦٨ | <p>لا يندرج الاصل = c x c (٥ عمليات)</p> |
| ٤٦٩ | <p>٤- تعريف المشتان التي يتم استحقاقها في المشروع بالحد</p> |
| ٤٧٠ | <p>كذلك يتم تباينه بالمتسلسل كونه المشتان</p> |
| ٤٧١ | <p>لا يندرج الاصل = c x c (٥ عمليات)</p> |