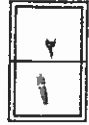
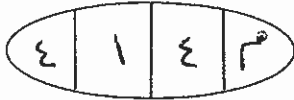




الجمهورية الجزائرية الديمقراطية الشعبية

وزارة التربية والتعليم  
إدارة الامتحانات والاختبارات  
قسم الامتحانات العامة



## امتحان شهادة البكالوريا العامة لعام ٢٠١١ / الدورة الثنوية

(وثيقة محمية / محدود)

مدة الامتحان : ٠٠ : ٠٠ : ٣٠

المبحث : أنظمة المحاسبة المحوسبة / المستوى الثالث

اليوم والتاريخ : الاثنين ٢١/١/٢٠١١


الفرع : الإدارة المعلوماتية ( المسار الأول + الثاني)

ملحوظة : أجب عن الأسئلة الآتية جميعها وعددها (٦)، علماً بأن عدد الصفحات (٤).

السؤال الأول: (١٦ علامة)

يتكون هذا السؤال من (٨) فقرات، لكل فقرة أربع بدائل، واحد منها فقط صحيح، انقل على دفتر إجابتك

رقم الفقرة ورمز الإجابة الصحيحة لها على الترتيب:



(١) المستند المحاسبي الذي يتم فيه إثبات حركة المبيعات بشيك على برمجية ( ITAC ) :

(أ) مستند الصرف (ب) مستند القيد (ج) مستند القبض (د) مستند رصيد افتتاحي

(٢) الحساب الرئيسي الذي يتبع له حساب المشتريات في دليل حسابات برمجية ( ITAC ) :

(أ) المصاريف (ب) الأصول (ج) الإيرادات (د) المطلوبات

(٣) يعتبر كشف الحساب التفصيلي على برمجية ( ITAC ) من التقارير :

(أ) اليومية (ب) الشهرية (ج) السنوية (د) التاريخية

(٤) سبب رد البضاعة في شاشة معلومات رديات المشتريات يظهر في حقل :

(أ) الكمية (ب) ملاحظات (ج) اسم المادة (د) الوحدة

(٥) الحقل الذي يظهر تلقائياً في شاشة معلومات مستند المبيعات عند اختيار رقم أمر البيع:

(أ) رقم المستودع (ب) اسم ورقم المورد (ج) اسم ورقم الزبون (د) الكمية

(٦) عندما يصل رصيد البضاعة إلى حد معين تتوقف المؤسسة عن شراء هذه البضاعة، يُسمى هذا الحد:

(أ) الحد الأعلى للمخزون (ب) الحد الأدنى للمخزون

(ج) حد التوقف عن البيع (د) حد إعادة البيع

(٧) من مخرجات دورة المشتريات كنظام معلومات :

(أ) قائمة الدخل (ب) بطاقة الصنف (ج) فواتير الشراء (د) قيمة المخزون

(٨) إذا علمت أن الوحدة الأساسية هي قلم والوحدة الثانية دزينة والوحدة الثالثة كرتونة،

حيث تتكون الدزينة من (١٢) قلم والكرتونة من (١٠) دزينات، فإن معامل التحويل الثاني :

(أ) ١٢ (ب) ١٠ (ج) ١٢٠ (د) ١

يتبع الصفحة الثانية ...

## الصفحة الثانية

السؤال الثاني: (١٩ علامة)

- أ) فيما يلي بعض الأرصدة المستخرجة من دفاتر مؤسسة الأمان لتجارة مواد البناء (١٢ علامة)
- بالدينار الأردني عن السنة المنتهية في ٢٠٠٩/١٢/٣١ :
- (٦٠٠٠٠) عقارات، (١٥٠٠) رواتب مستحقة الدفع (١٠٠٠٠٠) رأس مال، (١١٥٠٠) صندوق (١٥٠٠٠) مسحوبات شخصية، (١٥٠٠٠) ملخص الدخل (خسارة).
- المطلوب:

(١) إعداد ميزان المراجعة بالأرصدة يدوياً كما يظهر في ٢٠٠٩/١٢/٣١.

(٢) إعداد قائمة حقوق الملكية للمؤسسة يدوياً كما تظهر في ٢٠٠٩/١٢/٣١.

- ب) قارن بين كشف الحساب التفصيلي وكشف الحساب الإجمالي من حيث: (٤ علامات)

(١) ما يظهر في الطرف المدين والطرف الدائن فيهما.

(٢) الرصيد الظاهر فيهما:



- ج) اذكر ثلاث فوائد لإعداد قائمة الدخل. (٣ علامات)

السؤال الثالث: (١٨ علامة)

أ) فيما يلي بعض العمليات التي حدثت في مؤسسة النورس للمواد الغذائية خلال شهر آب ٢٠٠٩ :

١- بتاريخ ٢٠٠٩/٨/٥ اشترت المؤسسة بضاعة من مؤسسة الأقصى بمبلغ (١٥٠٠) دينار نقداً.

٢- بتاريخ ٢٠٠٩/٨/١٠ باعت المؤسسة بضاعة لمؤسسة عماد بمبلغ (١٠٠٠) دينار على الحساب.

٣- بتاريخ ٢٠٠٩/٨/١٢ باعت المؤسسة بضاعة بمبلغ (٧٠٠) دينار بموجب شيك.

٤- بتاريخ ٢٠٠٩/٨/١٣ اشترت المؤسسة بضاعة بمبلغ (٢٠٠٠) دينار من مزارع يونس

دفعت منها مبلغ (٥٠٠) دينار بشيك والباقي على الحساب.

المطلوب:

- (٩ علامات) ١) تسجيل قيود العمليات السابقة يدوياً في دفتر يومية مؤسسة النورس مبيّناً نوع المستند لكل منها.

(٢) تتبع خطوات إدخال الطرف الدائن من العملية التي حدثت بتاريخ ٢٠٠٩/٨/٥ وإنهاء الحركة.

- (٧ علامات) حاسوبياً على برمجية ( ITAC ) ، علماً أن رقم حساب الصندوق (١٢٠٠٠١٠).

- ب) علّل سبب توازن ميزان المراجعة المحوسب دائماً. (علمتان)

الصفحة الثالثة

السؤال الرابع: (١٨ علامة)

أ) بدأت مخازن مؤسسة الفارس التجارية حوسبة مستودعاتها باستخدام برمجية ( ITAC ) حيث وزعت ما تتعامل به إلى الفئات التالية: أجهزة كهربائية وأعطتها الرقم (١٧)، أثاث وأعطتها الرقم (١٨). وفيما يلي مجموعة من الأصناف والمواد التابعة لها:

غرف نوم	طقم كنب حفر	ثلاجات	طقم كنب
غرف نوم زان	ثلاجة شارب ١٦ قدم	غرف نوم لاتييه	طقم كنب مغلف

المطلوب:

- (١) صنّف ما سبق إلى فئات وأصناف و مواد حسب ما يناسبها دون استحداث فئات جديدة. (٥ علامات)
- (٢) ( رقم ) رمز عناصر المجموعة السابقة معتمداً على الفئات السابقة وبرمجية ( ITAC ). (٥ علامات)
- (٣) اذكر أربع وحدات يمكن استخدامها لمادة الحليب المجفف. (علامتان)
- (ب) إليك الحسابات الآتية: إيجار مدفوع مقدماً، بنك، سندات، براءة اختراع. (٤ علامات)
- المطلوب: صنف الحسابات السابقة إلى أصول غير ملموسة، استثمارات طويلة الأجل، أصول متداولة.
- (ج) كيف يمكن استعراض أوامر البيع من خلال معلومات أوامر البيع على برمجية ( ITAC ) ؟ ( علامتان )



السؤال الخامس: (١٥ علامة)

أ) (٨ علامات)

- بتاريخ ٢٠/٤/٢٠١٠ اشترت مؤسسة السنايل الخضراء (١٠٠) تنكة زيت قلي بسعر (١٠) دينار
- للتنكة الواحدة من مؤسسة الزيوت المحلية نقداً.
- بتاريخ ٢٥/٤/٢٠١٠ باعت مؤسسة السنايل الخضراء (٢٠) تنكة منها إلى مؤسسة مطاعم المذاق الراقي بسعر (١٢) دينار لكل تنكة على الحساب.

المطلوب:

- (١) تسجيل قيود اليومية اللازمة في دفاتر مؤسسة السنايل الخضراء علماً أنها تستخدم نظام الجرد المستمر.
- (٢) تسجيل قيود اليومية اللازمة في دفاتر مؤسسة مطاعم المذاق الراقي علماً أنها تستخدم نظام الجرد الدوري.

(ب) ما أثر حالات الشراء المختلفة على المخزون في المستودع ؟ (علامتان)

(ج) اذكر ثلاث مزايا لنظام الجرد المستمر. (٣ علامات)

(د) تتم الرقابة على المخزون في المؤسسة بشكل عام لتلبية متطلبين اثنين، اذكرهما. (علامتان)


يتبع الصفحة الرابعة ...

## الصفحة الرابعة

السؤال السادس: (١٤ علامة)

أ) بصفتك أمين مستودع مؤسسة التقنية الحديثة طلب منك مديرك إعداد تقرير عن معلومات (٤ علامات) وكميات المواد المتوافرة في المستودع في ٣٠/٤/٢٠١٠.  
المطلوب:

ما الخطوات التي ستقوم بها لاستخراج هذا التقرير علماً بأن المؤسسة تستخدم برمجية (ITAC) في أعمالها؟  
ب) الآتي إحدى الشاشات المستخدمة في برمجية (ITAC) أجب عن الأسئلة التي تليها: (١٠ علامات)  
ملاحظة: (المفاتيح المطلوبة توجد داخل المربعات وباللغة العربية)



المحاسبة العامة - الذمم النقدية والشيكات - المستودعات - الاستعلام - الإعدادات - المساعدة - الخروج

مؤسسة الرضا التجارية

رقم أمر الشراء: التاريخ: 13/15/2010

رقم المستودع: اتصل بـ

طبقة الطائرة: ١٠

رقم المورد:

رمز المادة: ٤

رمز الوحدة: الكمية

سعر الشراء: الإجمالي: ٨

الرقم	اسم المادة	الوحدة	الكمية	السعر	الإجمالي
٩					

مجموع الإجمالي: ٩

حذف ١١ إضافة

حفظ >> الأوسر

المطلوب:

- ١) ما عنوان الشاشة واسم المؤسسة النشطة ؟
- ٢) ما رقم المفتاح الذي يستخدم لحفظ معلومات الشاشة ؟
- ٣) ما الغاية من استخدام المفتاح رقم (٧) ؟
- ٤) ما الفرق بين المفتاح رقم (٨) والمفتاح رقم (٩) ؟
- ٥) ما الفرق بين المفتاح رقم (٣) والمفتاح رقم (١١) ؟
- ٦) عند النقر على المفتاح رقم (١٠) يظهر على الشاشة خيارين، اذكرهما.

انتهت الأسئلة



بسم الله الرحمن الرحيم  
امتحان شهادة الدراسة الثانوية العامة لعام ٢٠١١ (الدورة الشتوية).

صفحة رقم ( ١ )

وزارة التربية والتعليم  
إدارة الامتحانات والاختبارات  
قسم الامتحانات العامة

مدة الامتحان : ٣٠ دقيقة  
التاريخ : ١٤/٣١/٢٠١١

المبحث : انظر في الحاشية الحادية / ٣٢  
الفرع : إدارة معلوماتية (المسار الأول والثاني)

الإجابة النموذجية :

رقم الصفحة  
في الكتاب

إجابة السؤال الأول (١٦ علامة)


٣٥١	ج	عسند القهين
٣٠٩	م	المصروفات
٢٤٧	ب	السنة يك
٤٠٥	ب	ملاحظات
٤٣٦	ج	اسم ورقم الزيوت
٤١٠	م	الكدا على للخزون
٣٦٨	د	قيمة للخزون
٣٩٣	م	١٤

إجابة السؤال الثاني (١٩ علامة)

الإرصده للبرنه	الإرصده الدائره	الحساب
٦٠٠٠		عقارات
١١٥٠٠		مبنيون
	١٥٠٠	رواتب مستحقه الدفع
		مستحقان شرفيه
	١٠٠٠٠٠	أ. س. كمال
		مروضه الد. حبل (خساره)
	١٠١٥٠٠	المجموع

لل... حساب...  
شروط وروبه في الموقع الصحيح (دائش، مدنت)

مبنيون (١)

رقم الصفحة في الكتاب		
		(P
٢٥٢	قائمة حقوق الملكية كما في ١٤/١١/٢٠١٤	
	المبلغ	البيان
	١٠٠٠٠٠	رأس المال
	١٦٠٠٠	- المستويات المتكتمية
	١٥٠٠٠	- بلوف (دخول حارة)
	٧٠٠٠٠	هذا في حقوق للملكية في ١٤/١١/٢٠١٤
	كل بند عدده	٤٤٤٤٤٤
		
		٤
	كشف الحساب التفصيلي	كشف الحساب الاجمالي
٣٢٧	يظهر تفاصيل باسجل عدل هذه المدين	١- يظهر مجموع الطرفين المدين للمرات
٣٣٩	رنا سجل على الطرف الاخر	المالية ومجموع الطرفين الاخر
	يظهر المدين في نهاية كل شهر	يظهر المدين النهائي في الحساب الجيد
	كل بند عدده	٤ = ١ x ٤ = ٤ عدلات
٣٤٧	ج - فوائد اعداد قائمة الدخل	
	١- حجمه يتغير على المؤسسة	
	٢- مساعده أصحاب المالكه على اتخاذ القرارات المناسبه للحامه	
	٣- باستمارة نظام المؤسسة	
	٣ مساعده الجهات الرقابيه والخاصه التي تتعامل مع المؤسسة	
	على اتخاذ القرارات المناسبه لنموها	
	كل نقطة عدده	٣ = ١ x ٣ = ٣ عدلات

رقم الصفحة  
في الكتاب

السؤال الثالث : ( ١٨ علامة )

١ / ١٠

رقم الصفحة في الكتاب	التاريخ	المستند	البيان	لـ	عنه
٣٥٠	١٥ / ٨ / ٢٠٠٩	صندوق	عند المشتريين الى الصندوق	١٥٠٠	١٥٠٠
(معلومات)					
	١١ / ٨ / ٢٠٠٩	قيد	عند مؤسس عمارة الى المبيعات	١٠٠٠	١٠٠٠
(معلومات)					
	١٢ / ٨ / ٢٠٠٩	قيد	عند الصندوق الى المبيعات	٧٠٠	٧٠٠
(معلومات)					
	١٣ / ٨ / ٢٠٠٩	صندوق	عند المشتريين الى مذکورين	٥٠٠	٥٠٠
(معلومات)					
		قيد	في البنك في مزاد تونس	١٥٠٠	١٥٠٠



تيد تيد تيد تيد

٦ = ٣ + ٣ + ٣ + ٣

الضمانات

٢ / ١٠

- ١- الرجوع الى سكة التلبيك واختيار سكة التكلفة الحاد
- ٢- اختيار الصندوق في خانة رسم الكبريت القاشمة المشتريين
- ٣- نقد حقل دائر فحله فيظهر تلقائياً المبلغ ١٥٠٠
- ٤- نقد حقل البيان فيظهر تلقائياً شرح العمليه
- ٥- نقد لامر (إضافة) اسفل الساسك الضامه الطرفه الدائره القيد الى حقله عن طرف العمليه
- ٦- نقد الامر تنفيذ كلفه قيد العمليه
- ٧- نقد الامر (خروج)

٧ = ١٧ = ٧ علامات

رقم الصفحة  
في الكتاب


٣٩٤

ب- يتوازن حين ان المدراجوه المعوضه دايمًا : لان المدراجوه يرفض  
أي قيد غير متوازن ، بخلاف ميزان المدراجوه اليدوي  
(علاقتان)

الوال الرابع ( ١٨ مدونه )

٣٨١

١- أ - أثبات (١٨) أ - اذن كالمعادنه (١٧)



٣٧٤

٣- كيدو ، لايو ، آيبو ، ماروي ، كارتونيه  
أي أربع مصداق  
فمنطقيه

٣٥٤

ب- أقصد غير ملبوسه : براءه اختراع  
استثمارات طويله الاجل : سندات  
أصول متداومه : ايجار ودفع متدنا ك سلع

٤٣٤

ج - يتم الاستعانة اخص اوايد البيع به فتمك بفعلته اوايد البيع وذلك  
بفتح مديح الاستعانة بخايدكم الحثري فتظهر قائله  
(البحت عن اوايد البيع)  
(علاقتان)



رقم الصفحة  
في الكتاب

اجابه السؤال الخامس (١٥ علامة)

٤٤٣



دفاعاً مؤسس السائل الخضراء

قديه المشطاش من لا ...

١٠٠٠ عن تج بيانه في التوازن (الخزيرة السلام) (عدد مئتان)

١٠٠٠ اى ج الصندوق

تديه الصبيات ٤٤٠ - ١٤٥٠ رشار

٤٤٠ بن ج عظم المذاق الراقى (عدد مئتان)

٤٤٠ اى ج الصبيات

تلفة البضاعة المبيوه ...

٤٤٠ مذك تلفة البضاعة المبيوه (عدد مئتان)

٤٤٠ اى ج بضاعة في التخزين (الخزيرة السلام)

دفاعاً مؤسس المذاق الراقى

٤٤٠ مذك المشتريات (عدد مئتان)

٤٤٠ اى ج مؤسس السائل الخضراء

ب - أن عليه الشراء وهما إختلفت هريميها في الشراء

لها علاقة مع ... وأن ...

وهو ...

٤٤٠ (عدد مئتان)

رقم الصفحة في الكتاب	
٤٥٣	<p>ج - من ايا وظواهر الجرد المستهم</p> <p>١ - لا يحتاج الى وقت العمليات في أثناء الجرد</p> <p>٢ - يحتاج الى عدد أقل من الافراد</p> <p>٣ - يتم فيه تعديل القيد أدلجاً بادل</p> <p>٤ - لا يعدى عملية الرقابة عن مواد المستودع</p> <p>٥ - يفتا على إعداد التوثيق لئلا ياتي الوقت المناسب</p>
	<p>أي شدة تقام ١٤٢ - ٣ علامات</p>
٤٥٣	<p>١ - تظهير المراد المورد الى المخازن في اية دفعة او مجموع دفعات دفعة الاستبدال او رفاقتها للوهان والعدد الوارد في سند المشتريات</p> <p>٢ - التأكد من المواد الخارجة من المخازن وفهاقتها لتمتد للبيانات علامات</p>
٤٥٩	<p>١ - اختيار التقييمين وقائمة التوقعات</p> <p>٢ - اختيار تقييمي سجلات وكميات المراد من قائمة التقييم</p> <p>٣ - بعد ظهور النتيجة تفرأه كمن تظهر للاختيار الجاهزة</p> <p>٤ - الرقة على شكل الصافي للممول عن تقييم المراد وكمياتها</p> <p>كل نقطة علاه ٤ = ١ × ٤ علامات</p>

رقم الصفحة  
في الكتاب

٤٠٤

ب

١- معارف مستداستدتم الشذات علامه

مؤسسه اله فزا التجاربه علامه

٢- التميم المفتاح (٤) علامه

٣- الاستعمذ عن معلومات وبيانات الشا الكاميه علامه

٤- المفتاح رقم (٨) يظهر فيه إجمالي مادة وائمه علامه

المفتاح رقم (٩) يظهر مجموع إجمالي المواد بجميعها . علامه

٥- المفتاح رقم (١٠) يتم استخوانه كذات معلومات شات

١٣- أنت قد حفظت سابقاً . علامه

المفتاح رقم (١١) يتم استخوانه كذات بيانات من شاشة لبعض

أثناء العمل وقبل التخرين . علامه



٦- البدائل - تقدم علامه

ذمم علامه