

بِسْمِ اللَّهِ الرَّحْمَنِ الرَّحِيمِ

«الفصل الثالث»

«المُجال المغناطيسي»

الأستاذ :-

عمار السحور :-

ماجستير فيزياء ،

«0787255846»

عمان - مادبا

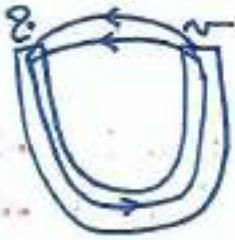
المجال المغناطيسي

✦ خط المجال المغناطيسي :

هو المسار الذي يسلكه قطب شمالي مفرد (افتراضي) عند وضعه حراً في مجال مغناطيسي .

✦ خصائص خطوط المجال المغناطيسي :-

- 1- يدل اتجاه المماس عند نقطة ما على اتجاه المجال عند تلك النقطة
- 2- يدل كثافة الخطوط عند أي نقطة على مقدار المجال المغناطيسي عند تلك النقطة
- 3- خطوط المجال المغناطيسي مغلقة
- 4- تخرج من الشمالي وتدخل في الجنوبي .
- 5- التدفق المغناطيسي عبر أي سطح مغلق يساوي صفر .



سؤال :- على :- خطوط المجال المغناطيسي خطوط مغلقة ؟!

✦ تخرج من القطب الشمالي إلى الجنوبي وتكمل دورتها من الجنوبي إلى الشمالي داخل المغناطيس والسبب في ذلك عدم وجود قطب مغناطيسي مفرد .

الاستاذ : عمار السعور

ما حبيبت فيزياء

0787255846

عمان - مادبا

1) القوة المغناطيسية المؤثرة في شحنة

* العلاقة التي تحسب منها القوة المغناطيسية المؤثرة في شحنة هي :

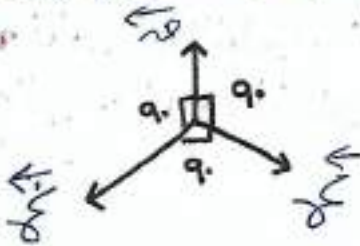
$$\vec{F} = q \vec{v} \times \vec{B}$$

$$\vec{F} = q \vec{v} \times \vec{B} \sin \theta$$

* ماهي العوامل التي تعتمد عليها القوة المغناطيسية المؤثرة في شحنة :-

- 1- مقدار الشحنة
- 2- السرعة
- 3- المجال المغناطيسي
- 4- الزاوية المحصورة بين السرعة والمجال

* اتجاه القوة عامودي على كل من السرعة (\vec{v}) والمجال المغناطيسي (\vec{B})



$$\vec{F} \perp \vec{v} \times \vec{B}$$

* نحدد اتجاه القوة المغناطيسية باستخدام قاعدة اليد اليمنى .

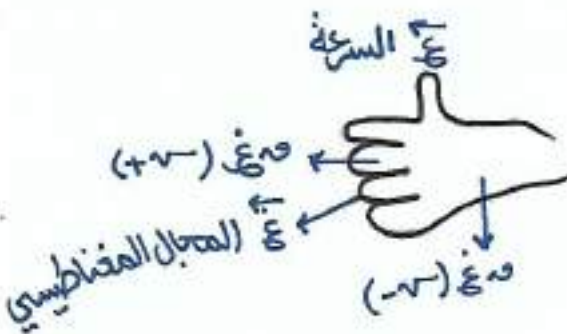
1- الابهام مع السرعة

2- باقي الاصابع تشير الى المجال المغناطيسي

3- باطن اليد تشير الى القوة المغناطيسية المؤثرة في شحنة موجبة

4- ظهر اليد يشير الى القوة المغناطيسية

المؤثرة في شحنة سالبة



الاستاذ: عمار السعور

ماجستير فيزياء

0787255846

عمان - ماربا

* قارن بين القوة المغناطيسية والقوة الكهربائية من حيث التأثير في الشحنات الساكنة والمتحركة .:

الاستاذ: جمال السعود
ماجستير فيزياء
0787255846
عمان - مادبا

نوع القوة المقارنة	v ع	v ك
التأثير في الشحنات الساكنة والمتحركة	v ع ع حا θ v ع ع حا θ له سرعة	تؤثر في الشحنات المتحركة فقط v ع ع حا θ له سرعة
	v ع ع حا θ	v ع ع حا θ

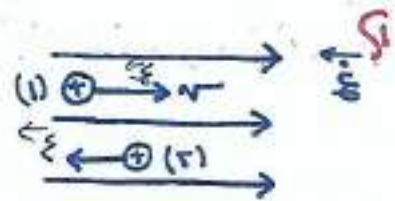
مثال توضيحي :-

(بحسب القوة المغناطيسية المؤثرة في الشحنات التالية :-

$$v ع ع حا θ = 10$$

$$v ع ع حا صفر = صفر$$

له ع مع اتجاه ع

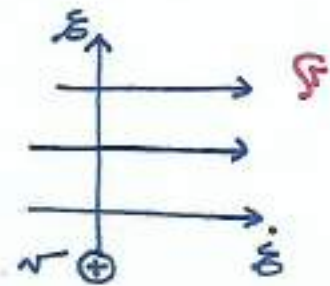


$$v ع ع حا 180 = صفر$$

له ع عكس اتجاه ع

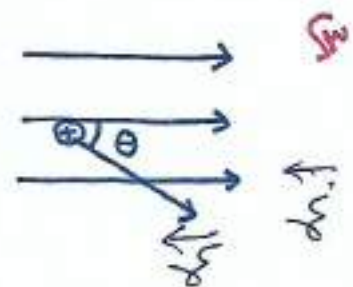
$$v ع ع حا 90 = 10$$

الناظر ⊗ له ع ⊥ ع



$$v ع ع حا θ = 10$$

الناظر ⊙ له ع حا θ



* الرمز \otimes يشير الى ان القوة باتجاه نحو الناظر

* الرمز \otimes يشير الى ان القوة باتجاه بعيد عن الناظر

* وحدة المجال المغناطيسي :-

$$1 \text{ وبت} = 1 \text{ وبت} \cdot \text{م} = 1 \text{ وبت} \cdot \text{م} = 1 \text{ وبت} \cdot \text{م}$$

$$\text{تسلا} = \frac{\text{والت}}{\text{كولوم} \cdot \text{م}} = \frac{1 \text{ وبت} \cdot \text{م}}{1 \text{ كولوم} \cdot \text{م}} = 1 \text{ وبت} \cdot \text{م} / \text{كولوم} \cdot \text{م}$$

* تعريف التسلا :-

هو للمجال المغناطيسي الذي يؤثر بقوة مقدارها (1) نيوتن في شحنة مقدارها (1) كولوم تتحرك لسرعة (1 م/ث) باتجاه يتعامد مع اتجاه المجال المغناطيسي .

- التسلا كمية كبيرة لذلك يستخدم وحدة اصغر منها :-

$$1 \text{ غاوس} = 10^{-4} \text{ تسلا}$$

الاستاذ: عمار السعور

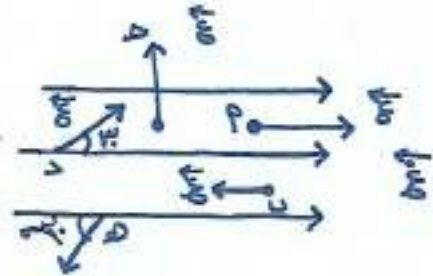
هاجسيتو فيزياء

0787255846

عمان - مادبا

مثال: جسم شحنته (Mc ٤) يتحرك بسرعة ١٠٠ م/ث في مجال مغناطيسي منتظم مقداره (٠.٢ تسلا) مع محور السريان الموجب لحسب القوة المغناطيسية المؤثرة في الجسم في الحالات (١، ٢، ٣) مقداراً واتجهاً:

١) $F = v \times B \sin \theta$
 $= 100 \times 0.2 \times 10^{-1} \times 4 = 8 \text{ صفر}$

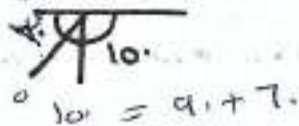


٢) $F = v \times B \sin \theta$
 $= 100 \times 0.2 \times 10^{-1} \times 4 = 8 \text{ صفر}$

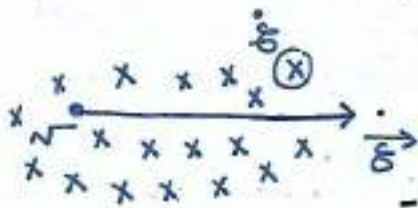
٣) $F = v \times B \sin \theta$
 $= 100 \times 0.2 \times 10^{-1} \times 4 = 8 \text{ صفر}$

٤) $F = v \times B \sin \theta$
 $= 100 \times 0.2 \times 10^{-1} \times 4 = 8 \text{ صفر}$

٥) $F = v \times B \sin \theta$
 $= 100 \times 0.2 \times 10^{-1} \times 4 = 8 \text{ صفر}$



مثال: في الشكل المجاور مجال مغناطيسي شدته ٢ تسلا يؤثر باتجاه عمودي على الصفحة نحو الداخل في شحنته مقدارها - Mc ٤ وكتلتها (١٠٠ كغ) متحركاً نحو محور السريان الموجب لسرعته مقدارها ١٠٠ م/ث لحسب:



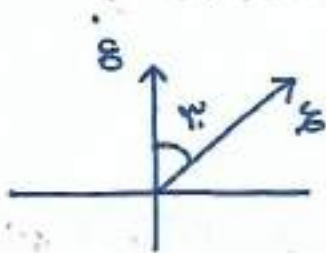
١- مقدار واتجاه القوة المغناطيسية

$F = v \times B \sin \theta$

$= 100 \times 2 \times 10^{-1} \times 4 = 80 \text{ صفر}$


الأستاذ: عمار السعور
 ماحببتيو فيزياء
 0787255846
 عمان - مادبا

مثال :- شحنة كهربائية موجبة (4 C) تتحرك في مستوى الصفحة باتجاه يصنع زاوية مقدارها 37° مع محور الصادات الموجب لسرعة مقدارها $(1.0 \times 10^6 \text{ م/ث})$ في مجال مغناطيسي مقداره (2 تسلا) واتجاهه نحو الشمال احسب القوة المؤثرة فيها ؟



$$\ominus N^{-1} \times 1 = 37 \text{ م} \times 2 \times 1.0 \times 10^6 \times 1.0 \times 10^6 =$$

مثال :- شحنة كهربائية مقدارها (-1 ميكروكولوم) تتحرك بسرعة مقدارها $37 \times 10^6 \text{ م/ث}$ نحو الغرب في مجال مغناطيسي منتظم مقداره (1 تسلا) ويصنع زاوية مقدارها 40° مع محور السينات الموجب احسب القوة المغناطيسية المؤثرة في الشحنة



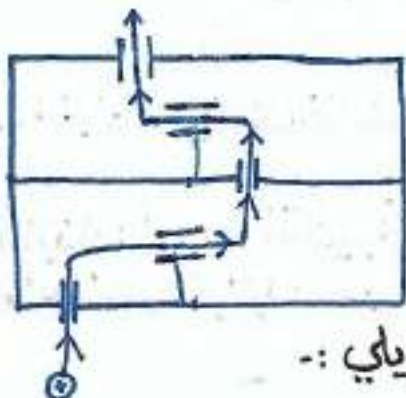
$$\ominus N^{-1} \times 1 = 130 \text{ م} \times 1 \times 1.0 \times 37 \times 10^6 \times 1.0 \times 10^6 =$$

$$\frac{1}{37} \times 1.0 \times 37 \times 10^6 \times 1.0 \times 10^6 =$$

$$\ominus N^{-1} \times 1 =$$

الاستاذ: عمار السعور
ماجستير فيزياء
0787255846
عمارة - مادبا

مثال: يشير الشكل المجاور الى منظر علوي لاربع غرف اذا انطلقت شحنة موجبة من الغرفة الاولى ثم وضع مجال مغناطيسي منتظم في كل غرفة بحيث وصلت الشحنة الى الغرفة الرابعة:



٢٢ حدد اتجاه المجال المغناطيسي في كل غرفة

الحل: باستخدام قاعدة اليد اليمنى يجب مراعاة ما يلي :-

- ١- ان الشحنة موجبة
- ٢- الابهام مع السرعة
- ٣- باطن اليد مع القوة (يجب ان يكون مع هيكل الرسم)
- ٤- الاصابع مع المجال (اما نحو الناظر او بعيداً عن الناظر)

- ← غرفة (١) ① نحو الناظر
- غرفة (٢) ② بعيداً عن الناظر
- غرفة (٣) ③ بعيداً عن الناظر
- غرفة (٤) ④ نحو الناظر

الاستاذ: عمار السعود

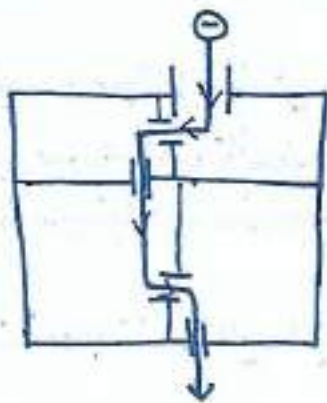
ماجستير فيزياء

07872 55846

عمان - مادبا

سؤال يشير الشكل المجاور الى منظر علوي لاربع غرف اذا أطلقت شحنة سالبة من:

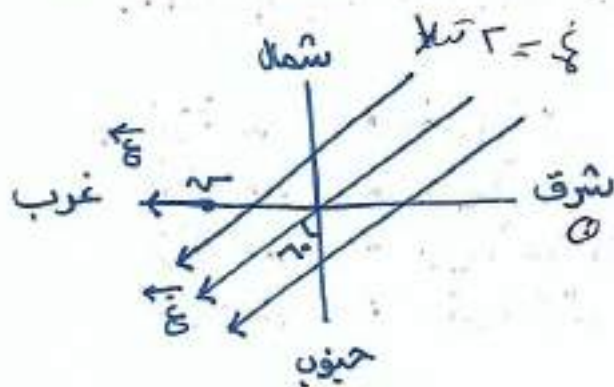
غرفة (1) الى غرفة (2) في مجال مغناطيسي منتظم في كل غرفة (حج عمالي) :-



1- حدد اتجاه المجال المغناطيسي في كل غرفة

سؤال :- شحنة (1 μC) تتحرك بسرعة مقدارها ($1.0 \times 10^8 \text{ m/s}$) نحو الغرب مغور في مجال

مغناطيسي منتظم كما في الشكل لحسب :-



1- القوة المغناطيسية المؤثرة في

الحجم مقداراً واتجاهاً $1.0 \times 10^{-17} \text{ N}$

2- ما اسم القاعدة التي (تخدمها)

لتحديد اتجاه القوة المغناطيسية

سؤال :- شحنة كهرابائية مقدارها ($1 \mu\text{C}$) مغور في مجال مغناطيسي تتحرك بسرعة

مقدارها ($1.0 \times 10^8 \text{ m/s}$) نحو الشرق تتأثر قوة مقدارها (1 N) نحو الجنوب

لحسب مقدار المجال المغناطيسي مقداراً واتجاهاً

الاستاذ : عمار السعود

ما حبيتيو فيزياء

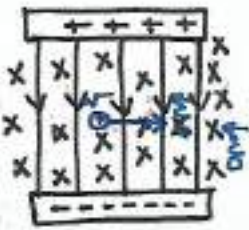
0787255846

عمان - مادبا

« قوة لورنتز »

* هي القوة المؤثرة في جسم مشحون عند مرورها في مجالين مغناطيسي وكهربائي

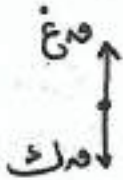
سؤال: شحنة كهربائية تمر في مجال كهربائي ومجال مغناطيسي ادرس الشكل ثم اجب:



١- اتجاه كل من القوة المغناطيسية والقوة الكهربائية

مك ← صـ
مغ ← صـ*

٢- اذا كانت القوتين متساويتين في المقدار فكيف تشير الشحنة



* تشير في خط مستقيم لان مغ ومك تلغي بعضهما

٣- ماذا يحصل لو كانت الشحنة سالبة؟؟

* فرع (١) مك (+) مغ (-)
فرع (٢) ← تشير في خط متغير

٤- حد السرعة التي تتحرك بها الشحنة حتى تستمر في مسارها دون انحراف

* عند الاتزان
مك = مغ
م = ك = ٩

$$\boxed{\frac{m}{e} = 9}$$

حفظ

الاستاذ: عمار السعور
ماحبيتي فيزياء
0787255846
عمان - مادبا

٦- لحسب مقدار القوة المحصلة وماذا تسمى القوة ؟

$$F_{\text{محصلة}} = F_{\text{ع}} + F_{\text{ك}}$$

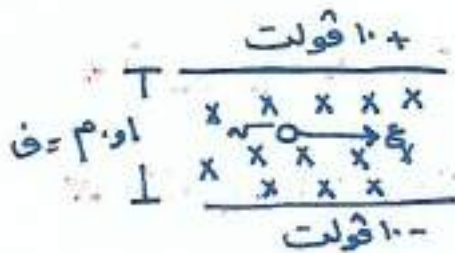
$$F_{\text{ع}} = \sqrt{F_{\text{ع}x}^2 + F_{\text{ع}y}^2}$$

$$F_{\text{ك}} = (F_{\text{ع}x} + F_{\text{ك}x})$$

وتسمى القوة المحصلة قوة لورنتز .

سؤال وازاري :- صفيحتان مشحونتان و مفتورتان في مغناطيس منتظم مقداره (٢٠٠ تسلا)

يتحرك جسم مهمل الكتلة مشحون بشحنة (٢٠٠ نسي) بسرعة (١٠ م/ث) بالاسفانة بالقيم المنته على الشكل لحسب :-



١- القوة المغناطيسية

٢- القوة الكهربائية

٣- القوة المحصلة في الجسم أثناء

حركته وماذا تسمى هذه القوة ؟

الحل :-

١- $F_{\text{ع}} = v \times B \times \sin \theta$

$$F_{\text{ع}} = 200 \times 10 \times 10^{-19} \times \sin 90^\circ = 2 \times 10^{-16} \text{ N}$$

٢- $F_{\text{ك}} = \frac{q}{r^2} = \frac{1}{10^{-19}} = 10^{-17} \text{ N}$ لكن ← $F_{\text{ع}} = 2 \times 10^{-16} \text{ N}$

٣- $F_{\text{محصلة}} = F_{\text{ع}} + F_{\text{ك}}$

$$F_{\text{محصلة}} = 2 \times 10^{-16} + 10^{-17} = 2.1 \times 10^{-16} \text{ N}$$

وتسمى القوة المحصلة قوة لورنتز

لأنها على الصادات السالب

$$F_{\text{محصلة}} = 2 \times 10^{-16} + 10^{-17} = 2.1 \times 10^{-16} \text{ N}$$

٣- $F_{\text{محصلة}} = F_{\text{ع}} + F_{\text{ك}}$

$$F_{\text{محصلة}} = 2 \times 10^{-16} + 10^{-17} = 2.1 \times 10^{-16} \text{ N}$$

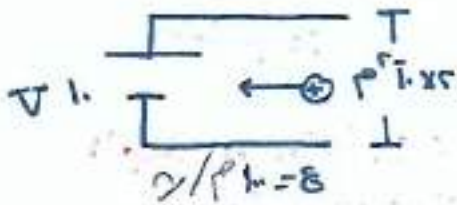
وتسمى القوة المحصلة قوة لورنتز

الاستاذ: عمار السعور
ما حسيبي وبنزياء
0787255846
عمان - مادبا

سوزاري
21-6-2014

لهيكل الشكل المجاور جسم مشحون بشحنة موجبة يتحرك لسرعة ثابتة عمودياً على مجالين متعامدين كهربائي ومغناطيسي معتقداً على الشكل المجاور وبياناته (حسب مقدار واتجاه المجال المغناطيسي بين اللوحين بحيث يستمر الجسم في حركته دون انحراف .

الحل :-



يستمر الجسم في حركته دون انحراف هذا يعني ان القوة الكهربائية مساوية للقوة المغناطيسية ومعاكسة لها بالاتجاه

$$\begin{aligned} \text{اتجاه حرك} &= \vec{v} \\ \text{اتجاه حرك} &= \vec{v} \end{aligned}$$

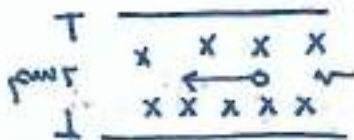
$$v = \frac{E}{B} = \frac{10}{2 \times 10^{-2}} = 500 \text{ م/ث}$$

$$\begin{aligned} \text{حرك} &= \vec{v} \\ \text{حرك} &= \vec{v} \\ \text{حرك} &= \vec{v} \\ \boxed{\vec{v} = 500} \end{aligned}$$

باستخدام قاعدة اليد اليمنى يكون اتجاه المجال نحو الناظر .

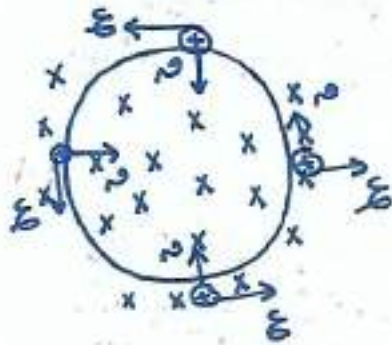
سؤال :- اعتماداً على الشكل المجاور اذا علمت ان قيمة المجال المغناطيسي (تسلا) تعرفيه شحنة مقدارها (-1 μC) تتحرك لسرعة 1.0 × 10⁴ م/ث كما هو موضح في الشكل احسب :-

- 1- القوة المغناطيسية المؤثرة في الشحنة (1.0 × 10⁻⁴ N)
- 2- المجال الكهربائي (1.0 × 10⁴ V/m)
- 3- فسر رياضياً حركة الشحنة بخط مستقيم



الاستاذ : عمار السعود
ما حسيتر فيزياء
0787255846
عمان - مادبا

« حركة شحنة في مجال
مغناطيسي »



سؤال :- يسلك الجسم المشحون مساراً
دائرياً عند دخوله في مجال كهربائي
منتظم؟!

الجواب :- بما ان القوة المغناطيسية تعامد
دائماً اتجاه السرعة فان الجسم المشحون
يكتسب تسارعاً ثابت المقدار وعمودياً دائماً على السرعة وهذا يؤدي الى
تغير في الاتجاه دون التغير في مقدار السرعة

* حركة الجسم المشحون في حركة دائرية لا تتم الا بتاثير قوة مركزية

$$\begin{aligned} v \text{ مغناطيسي} &= v \text{ مركزي} \\ v \times B &= K \text{ ت مركزي} \\ v \times B = q \cdot \frac{v \times E}{v} \end{aligned}$$

$$\frac{v \times E}{v} = \text{ت مركزي}$$

$$\boxed{\frac{v \times E}{v} = K \cdot \frac{v \times E}{v}}$$

$$\frac{v \times E}{v} = K \cdot \frac{v \times E}{v}$$

* ماهي العوامل التي يعتمد عليها نصف قطر المسار الدائري لجسم مشحون
متحرك داخل مجال كهربائي؟!

- 1- كتلة الجسم (ك) مُردياً
- 2- سرعة الجسم (ع) طردياً
- 3- شحنة الجسم (ص) عكسياً
- 4- المجال المغناطيسي (غ) عكسياً

الاستاذ: عمار السعود
ماجستير فيزياء
0787255846
عمان - مادبا

مثال :- ادخلت ثلاث جسيمات متمائلية في الشحنة والكتلة وتتحرك لسرعات متفاوتة الى مجال مغناطيسي منتظم فتحوكت كما في الشكل احب عمايب :-



- 1- رتب سرعتها تصاعدياً
- 2- بين نوع كل شحنة

الحل :-

$$1 \text{ ك} = 2 \text{ ك} = 3 \text{ ك}$$

$$3r = 2r = 1r$$

حسب العلاقة

$$r = \frac{K}{qB}$$

" فان r تتناسب طردياً مع السرعة "

$$r_3 < r_2 < r_1$$

2- لتصنيف قاعدة اليد اليمنى

- + v عكس عقارب الساعة
- v مع عقارب الساعة

$$\leftarrow 1r \text{ سالبة}$$

$$2r \text{ موجبة}$$

$$3r \text{ سالبة}$$


الاستاذ: عمار السعود
ماجستير فيزياء

0787255846

عمان - مادبا

سؤال
2014-6-21
وزاري

يمثل الشكل المجاور جسمين مشحونين للشحنتين متساويتين وفي
المقدار ولهما نفس السرعة (حجب عما يلي :-



١- مانوع كل من الشحنتين
٢- اي الجسم اكبر كتلة
مفسراً لجانبك؟!

الحل :-

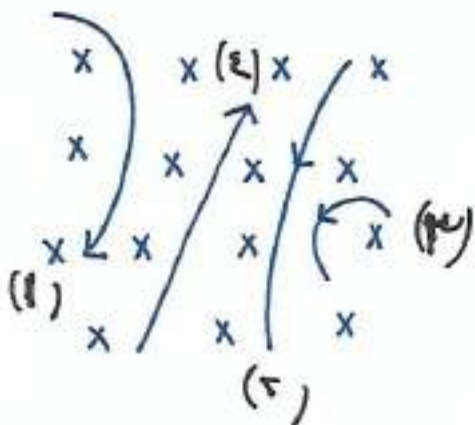
١- باستخدام قاعدة اليد اليمنى

ص : شحنة سالبة
س : شحنة سالبة

٢- اعتماداً على علاقته نصف القطر

نعرف $r = \frac{mv}{qB}$ فان العلاقة بين الكتلة ونصف القطر طردية
كلما زاد نصف القطر زادت الكتلة
الشحنة ص اكبر كتلة

سؤال :- اعتماداً على الشكل المجاور اذا علمت ان جميع الشحنتان متساوية وفي
الكتلة والشحنة (حجب عما يلي :-



١- مانوع كل شحنة
٢- رتب سرعة الشحنتان تصاعدياً

الاستاذ: عمار السعود
ماجستير فيزياء
0787255846
عمان - مادبا

سؤال :- علل القوة المغناطيسية لا تبذل شغلا لنقل الشحنات ؟

الجواب :-

القوة المغناطيسية لا تغير من مقدار سرعة الجسم المشحون في مجال مغناطيسي منتظم وبالتالي لا تتغير طاقته الحركية ومن مبرهنه الشغل - الطاقة فهذا يعني ان القوة المغناطيسية لا تبذل شغلا .

سؤال :- قارن بين القوة الكهربائية و القوة المغناطيسية من حيث بذل الشغل لنقل الشحنات ؟!

الحل :- القوة الكهربائية تبذل شغلا
القوة المغناطيسية لا تبذل شغلا

سؤال :- ما هي استخدامات المجال الكهربائي والمجال المغناطيسي في المسارعات النووية ؟!

* المجال الكهربائي يستخدم في تسريع الشحنات
* المجال المغناطيسي يستخدم في توجيه الشحنات

مثال :- يمثل الشكل المجاور اشعة الفا و بيتا و غاما مخمورة في مجال مغناطيسي لهم نفس السرعة والشحنة اعتماداً على الشكل لحيب عما يلي :-

1- مانوع كل من الشحنات
2- رتب الكتل تصاعدياً



الحل :- 1- اعتماداً على قاعدة اليد اليمنى
بيتا سالبة ، الفا موجبة ، غاما عدمة الشحنة

2- اعتماداً على العلاقة $r = \frac{mv}{qB}$ نصف القطر يتناسب

مربعياً مع الكتلة m ، ك الفا $<$ ك بيتا $<$ ك غاما

الاستاذ: عمار السعود

ما حبيبي فيزياء

0787255846

عمان - مادنا

15)

سؤال :- قارن بين المجال الكهربي والمجال المغناطيسي من حيث :-

- ١- التغير في سرعة الشحنات
- ٢- التأثير في الشحنات الساكنة والمتحركة
- ٣- بذل الشغل
- ٤- الاستخدام في المسارعات النووية
- ٥- تغير الاتجاه

ع	م	المقارنة
لا تغير في مقدار السرعة	تغير في مقدار السرعة	تغير السرعة
تؤثر في الشحنات المتحركة فقط	تؤثر في الشحنات الساكنة والمتحركة	التأثير في الشحنات الساكنة والمتحركة
لا تبذل شغل	تبذل شغل	بذل الشغل
توجيه الشحنات	تسريع الشحنات	الاستخدام في المسارعات النووية
تغير الاتجاه بشكل دائري	لا تغير في الاتجاه	تغير الاتجاه

الاستاذ: عمار السعور

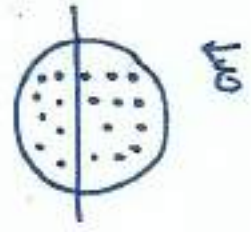
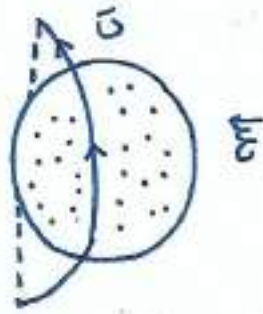
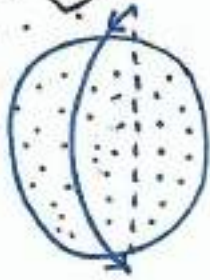
ماحسبتر فيزياء

0787255846

عمان - مادبا

الاستاذ: عمار السعور
 ما حسيبي فيزياء
 0989255846
 عمان - مادبا

القوة المغناطيسية المؤثرة في موصل يسري فيه تيار كهرباي



سلك يسري فيه تيار

سلك لا يسري فيه تيار

علل:- انواع السلك عند مرور التيار فيه ؟

* ان التيار الكهرباي هو شحنات متحركة في اتجاه واحد وعندما يوضع سلك في مجال مغناطيسي فان المجال المغناطيسي يؤثر بقوة مغناطيسية في الشحنات المتحركة فيه فيتأثر السلك بالقوة المحصلة المؤثرة في هذه الشحنات المتحركة

* القوة المغناطيسية المؤثرة في سلك تعطى بالعلاقة التالية

$$F = I L \times B$$


* العوامل التي يعتمد عليها القوة المغناطيسية المؤثرة في سلك يسري فيه تيار :-

- ١- التيار الكهرباي
- ٢- طول السلك
- ٣- مقدار المجال المغناطيسي
- ٤- الزاوية المحصورة بين l و B (اتجاه l هو اتجاه التيار المار فيه)

* القوة في وحدة الاطوال

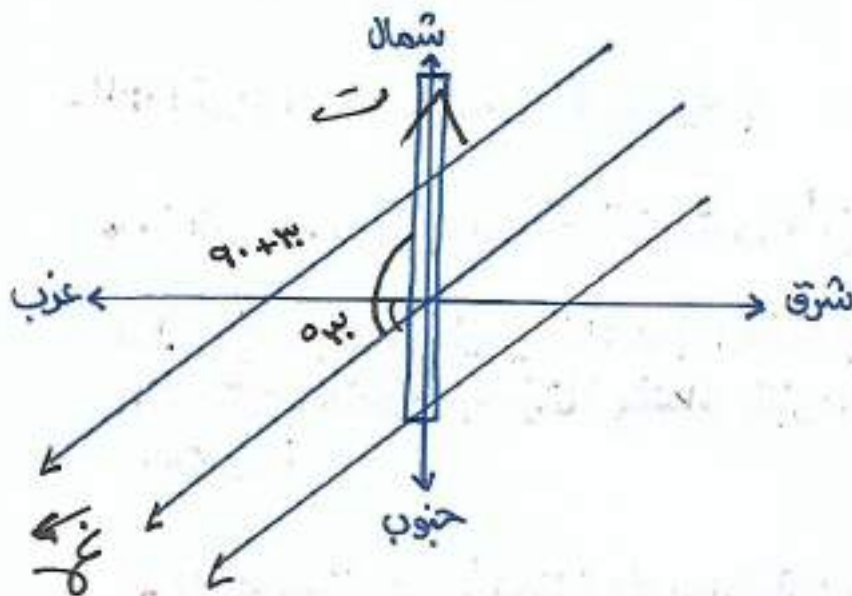
$$F = \frac{N}{m} I L B \sin \theta$$

* نحدد اتجاه القوة المغناطيسية المؤثرة في سلك يسري فيه تيار باستخدام قاعدة اليد اليمنى :-



- ١- التيار مع الإبهام
- ٢- المجال مع الأصابع
- ٣- القوة باتجاه باطن اليد

مثال :- سلك طوله ٢٠ سم يسري فيه تيار مقداره ٤ أ ب اتجاه الشمال الشرقي
 مجال مغناطيسي ٦ تسلا باتجاه ٣ جنوب غرب كما في الشكل لحسب القوة
 المؤثرة في السلك .



$$\theta = 90 + 33$$

$$\theta = 123$$

$$F = 12 \times 0.2 \times 4 \times \sin 123$$

$$F = 16 \text{ ن نحو الناطق } \odot$$

الاستاذ: عمار السعور

ماجستير فيزياء


0787255846

عمان - مادبا

القوة المغناطيسية المؤثرة في سلك	القوة المغناطيسية المؤثرة في السحنة	القانون
$\theta = \text{ت ل ع ح ا ه}$ ١- التيار الكهربائي ٢- طول السلك ٣- المجال المغناطيسي	$\theta = \text{ع ع ح ا ه}$ ١- السحنة ٢- السرعة ٣- المجال المغناطيسي ٤- الزاوية المحصورة بين ع و ع	العوامل التي يعتمد عليها
١- الأبرام مع التيار ٢- الأصابع مع المجال ٣- باطن اليد مع لقوة	١- الأبرام مع السرعة ٢- الأصابع مع المجال ٣- باطن اليد مع لقوة للسحنة موجبة ٤- ظاهر اليد مع القوة لسحنه سالبة	قاعدة اليد اليمنى

الاستاذ: عمار لسعود
 ماجستير فيزياء
 0787255846
 عمان - مادبا

مثال :- في الشكل المجاور بين ماذا يحدث للسلك في الحالات التالية :-




١- لاحظه غلق المفتاح

* لحظة غلق المفتاح يسري تيار في السلك كما هو موضح وباستخدام قاعدة اليد اليمنى وعلى اعتبار ان التيار سحنت موجبة فان السلك يتكلمش لان القوة المغناطيسية المؤثرة في السلك تكون الى الداخل

٢- عند عكس الاقطاب ثم غلق المفتاح

* عند عكس اقطاب البطارية واعلاق المفتاح يسري تيار في السلك كما هو موضح و اعتماداً على قاعدة اليد اليمنى وباعتبار ان التيار سحنت موجبة ينفرد السلك لان القوة المغناطيسية المؤثرة فيه تكون الى الخارج



« عزم الازدواج »

* تعريف الازدواج :-

اي قوتين متساويتين في المقدار ومتعاكسات في الاتجاه

خطيه عملهما غير منطبق .

* اولاً :- الملف هوائي لخطوط المجال (سلك مستطيل مغلق)



حسب القوة ضو كل ضلع

* الضلع a ← $F = q \cdot B = q \cdot \mu_0 \cdot I \cdot a$ = صفر « لا يتأثر بقوة مغناطيسية »

* الضلع b ← $F = q \cdot B = q \cdot \mu_0 \cdot I \cdot b$ = صفر « لا يتأثر بقوة مغناطيسية »

* الضلع c ← $F = q \cdot B = q \cdot \mu_0 \cdot I \cdot c$ بعيداً عن الناظر

* الضلع d ← $F = q \cdot B = q \cdot \mu_0 \cdot I \cdot d$ نحو الناظر

* الضلعين (d) و (c) يتأثران بقوتين متساويتين في المقدار و متعاكسات في الاتجاه و خطيه عملهما غير منطبق

الاستاذ: عمار السعور

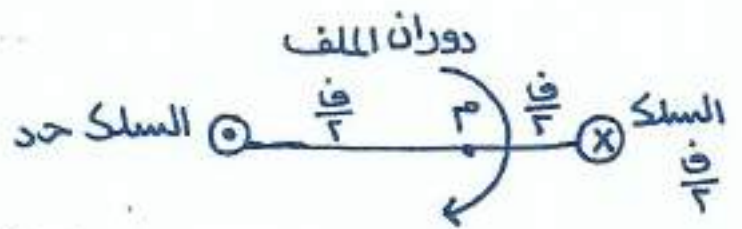
ماحسبتي فيزياء

0789255846

عمان - مادبا

(تشكلان ازدواج يعمل على تدوير الملف)

على المحور d و c



* مقدار عزم الازدواج :-

عزم الازدواج = (حدي القوتين \times البعد العمودي بينهما

$$= qL \sin \theta$$

$$= qL \sin \theta$$

عزم الازدواج = $qL \sin \theta$ واذا كان يتكون من n لفة

$$\leftarrow \text{عزم الازدواج} = nqL \sin \theta$$

- لكنه عندما يكون مستوى الملف موازي لخطوط المجال $\theta = 90^\circ$

$$\leftarrow \text{عزم الازدواج} = nqL \sin 90^\circ$$

* وحدة عزم الازدواج نيوتن . متر

* العوامل التي يعتمد عليها عزم الازدواج :-

١- التيار

٢- مساحة الملف

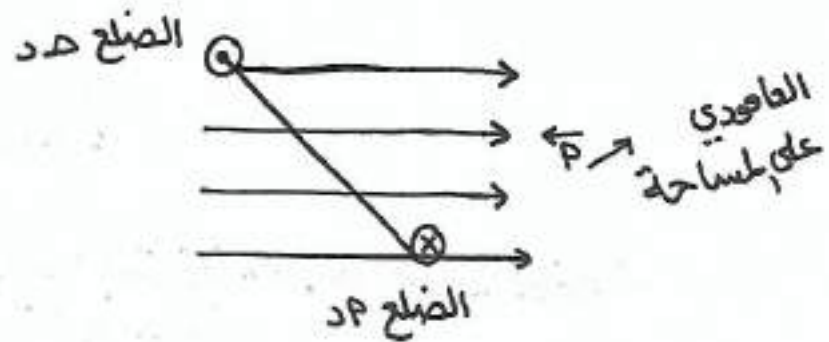
٣- عدد اللفات

٤- الزاوية بين المجال والعمودي على

المساحة .

الاستاذ: عمار لسعود
ماجستير فيزياء
0787255846
عمان - مادبا ...

* ثانياً :- الملف مائل بزاوية (θ) :-



في هذه الحالة يكون عزم الازدواج

$$\text{عزم الازدواج} = P \sin \theta$$

حيث ان :-

θ :- الزاوية بين P والقاصدي على P

* ثالثاً :- مستوى الملف عامودي على المجال المغناطيسي :-

* القوة المؤثرة في الضلعين (د) و (د) تساوي صفر

* القوة المؤثرة في الضلعين (د) و (د) لا تشكلان ازدواج ولان القوة المؤثرة فيهما متساويت في المقدار و متعاكسات في الاتجاه و خطي عملهما منطبق .

عزم الازدواج يساوي صفر

الاستاذ: عمار السعور

ماجستير فيزياء

0787255846

عمان - مادبا



* مقدار عزم الازدواج :-

عزم الازدواج = (حدي القوتين \times البعد العمودي بينهما

$$= \tau \times l \sin \theta$$

$$= \tau \times l \cos \theta$$

عزم الازدواج = $\tau \times l \cos \theta$ واذا كان يتكون من n لفة

$$\leftarrow \text{عزم الازدواج} = \tau \times n \times l \cos \theta$$

- لكنه عندما يكون مستوى الملف موازي لخطوط المجال $\theta = 90^\circ$

$$\leftarrow \text{عزم الازدواج} = \tau \times n \times l \times 0 = 0$$

* وحدة عزم الازدواج نيوتن . متر

* العوامل التي يعتمد عليها عزم الازدواج :-

١- التيار

٢- مساحة الملف

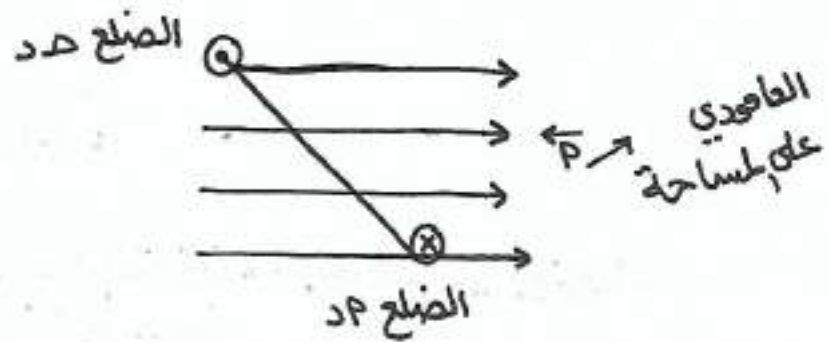
٣- عدد اللفات

٤- الزاوية بين المجال والعمودي على

المساحة .

الاستاذ: عمار لسعود
ماجستير فيزياء
0787255846
عمان - مادبا ...

* ثانياً :- الملف مائل بزاوية (θ) :-



في هذه الحالة يكون عزم الازدواج

$$\text{عزم الازدواج} = P \sin \theta$$

حيث ان :-

θ :- الزاوية بين P والعاصدي على P

* ثالثاً :- مستوى الملف عاصدي على المجال المغناطيسي :-

* القوة المؤثرة في الضلعين (d) و (D) تساوي صفر

* القوة المؤثرة في الضلعين (D) و (d) لا تشكلان ازدواج ولان القوة المؤثرة فيهما متساويت في المقدار ومنتاكسات في الاتجاه و خطي عملهما منطبق .

عزم الازدواج يساوي صفر

الاستاذ: عمار السعور

ماجستير فيزياء

0787255846

عمان - مادبا

* الخلاصة :

١- الازدواج :-

قوتان متساويتان في المقدار ومتعاكسات في الاتجاه وخطي عملهما غير متطابق .

٢- عزم الازدواج = $\tau \times \sin \theta$ حـ

٣- تكون قيمة عزم الازدواج اكبر ما يمكن عندما يكون مستوى الملف موازي لخطوط المجال

$$\theta = 90^\circ \leftarrow \text{عزم الازدواج} = \tau \times \sin \theta$$

٤- تكون قيمة عزم الازدواج اقل ما يمكن عندما يكون مستوى الملف عامودي على المجال المغناطيسي .

$$\theta = 0^\circ \leftarrow \text{عزم الازدواج يساوي صفر}$$

سؤال: متى يبلغ عزم الازدواج قيمة العظمى؟! ومتى يساوي صفر؟!

* قيمة العظمى عندما يكون مستوى الملف موازي لخطوط المجال ($\theta = 90^\circ$)

* عندما يساوي صفر عندما يكون مستوى الملف عامودي على المجال ($\theta = 0^\circ$)

في أثناء دوران الملف هل يبقى عزم الازدواج ثابت؟!

* لا ، لان الزاوية تتغير \leftarrow عزم الازدواج يتغير .

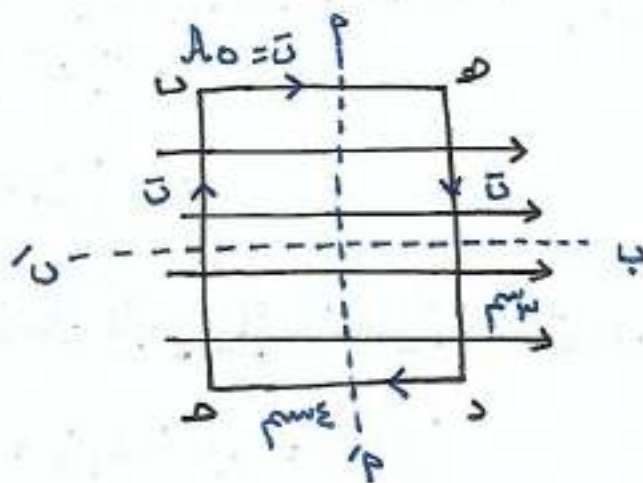
الاستاذ: عمار السعور

ماجستير فيزياء

0787255846

عمان - مادبا

سؤال :- سلك على شكل مستطيل (ص د ه ذ) مكون من (١٠٠ الفه) ليجل تيار مقداره (١٥) (A) سلك عليه مجال مغناطيسي منتظم (٢ تسلا) باتجاه السنين الموجب اعتماداً على الشكل ليجب عيبي :-



١- حول اي المحورين يدور الملف ؟ (٢٢) و (٢٢)

الجواب :- (٢٢)

٢- احسب مقدار عزم الازدواج

عزم الازدواج = $٢ \times ١٥ \times ٥$ حاه

$$9.1 \times 10 \times 5 = 4.5 \times 10^2 \text{ N}\cdot\text{m}$$

٣- القوة لكل وحدة طول المؤثرة في السلك ه د ؟

$$\frac{9}{1} = 2 \times 15 \times 5 = 9.1 \times 10 = \frac{N}{m}$$

٤- هه يتعد عزم الازدواج ؟

عندما يكون مستوى الملف عامودي على المجال المغناطيسي

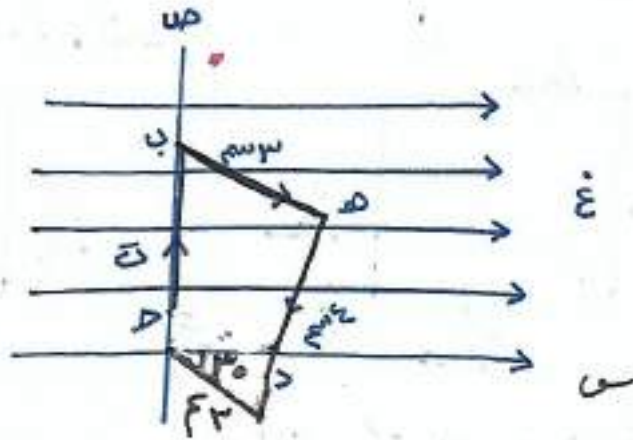
الاستاذ: عمار السعور

ما حبيبي فيزياء

0787255846

عمان - مادبا

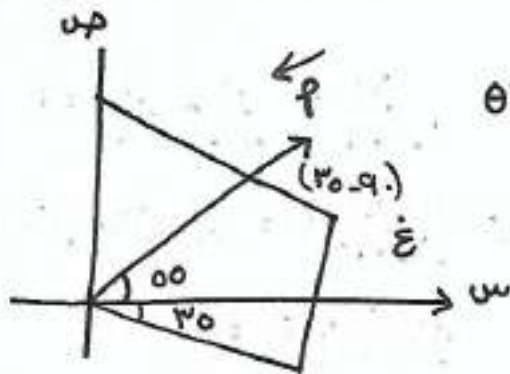
مثال: اعتماداً على الشكل المجاور الذي يمثل ملف مستطيل مكون من (١٠ لفات) ويمر فيه تيار مقداره (٢٠) سلك عليه مجال مغناطيسي مقداره E تسلا (جب عما يلي :-



١- عزم الازدواج؟

عزم الازدواج = $PQ \sin \theta$

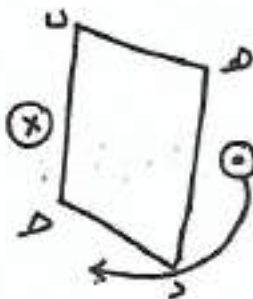
$$0.5 \times 0.4 \times 10 \times 2 = 0.8 \text{ Nm}$$



٢- هل ستزداد الزاوية 30° ما ستقل؟

- * الضلع BC يتأثر بقوة بعيداً عن الناظر (X)
- الضلع CD يتأثر بقوة نحو الناظر (O)

← يتحرك الملف مع عقارب الساعة
← زاوية تزداد.



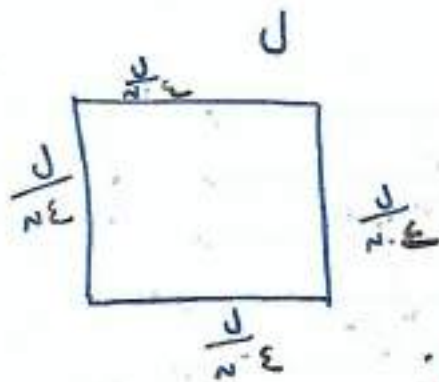
الاستاذ: عمار السعور
ماجستير فيزياء

0787255846

عمان - مادبا

سؤال كتاب ص 118: سلك فوله (L) يراد عمل ملف منه ايهما سيحدث عزم الازدواج أكبر اذا عمل على شكل لفه واحدة ام على شكل لفتين مربعتين؟ وضح اجابتيك؟

$$n = 2 \quad \text{لفه واحدة}$$



عزم الازدواج = $2 \pi n^2 \text{ حاه}$

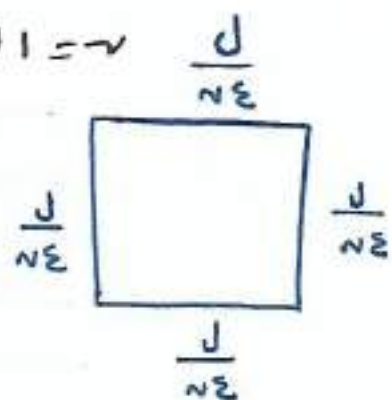
$$\frac{L^2}{n^3} = \frac{L}{n} \times \frac{L}{n} = P$$

$$\frac{L^2}{n^3} = \text{عزم الازدواج} = \frac{2 \pi n^2 \text{ حاه}}{n^3}$$

$$\frac{2 \pi n^2 \text{ حاه}}{n^3} =$$

$$\frac{2 \pi n^2 \text{ حاه}}{n^3} = \text{عزم الازدواج} = \frac{2 \pi \text{ حاه}}{n} \quad n=2$$

$$n = 1 \quad \text{لفه واحدة}$$



عزم الازدواج = $2 \pi n^2 \text{ حاه}$

$$\frac{L^2}{n^3} = \frac{L}{n} \times \frac{L}{n} = P$$

$$\frac{L^2}{n^3} = \text{عزم الازدواج} = \frac{2 \pi n^2 \text{ حاه}}{n^3}$$

$$\frac{2 \pi n^2 \text{ حاه}}{n^3} =$$

$$\frac{2 \pi n^2 \text{ حاه}}{n^3} = \text{عزم الازدواج} = \frac{2 \pi \text{ حاه}}{n} \quad n=1$$

$$\frac{L^2}{32} < \frac{L^2}{16} *$$

عزم الازدواج يكون أكبر عندما تكون لفه واحدة.

الاستاذ: عمار السعود

ما جستير فيزياء

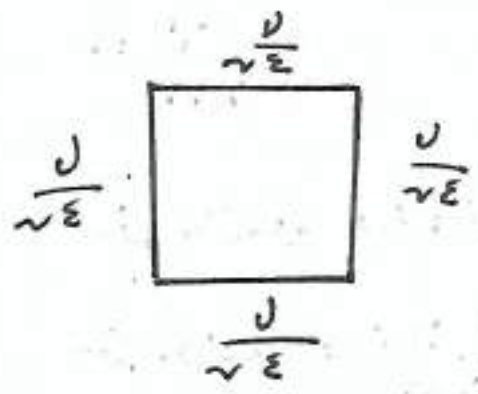
0787255846

عمارة - مادبا

سؤال وزارة
25-6-2011

سلك طوله (ل) ويحمل تيار مقداره (ت) عمل منه ملف على شكل مربع عدد لفاته (ن لفة) ثم غمر في مجال مغناطيسي (غ) ثبت ان عزم الازدواج المؤثر في الملف يعطى بالعلاقة

$$\frac{ت غ ل^2 حاه}{\sqrt{16}} = \text{عزم الازدواج}$$



$$عزم الازدواج = ن ت غ حاه$$

$$\frac{ل}{\sqrt{4}} = \text{طول ضلع المربع}$$

$$\frac{ل^2}{\sqrt{16}} = \frac{ل}{\sqrt{4}} \times \frac{ل}{\sqrt{4}} \text{ مساحة المربع}$$

$$\text{عزم الازدواج} = ت غ \left(\frac{ل}{\sqrt{16}} \right) \sqrt{حاه}$$

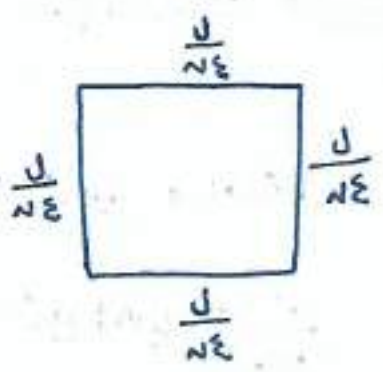
$$\# \frac{ت غ ل^2 حاه}{\sqrt{16}} =$$

الأستاذ: عمار السعور
ماجستير فيزياء

0787255846
عمان - مادبا

سؤال وزارة

سلك فلزي طوله (ل) عمل منه ملف مكون من لقتين يور فيه تيار مقداره (A1) و وضع في مجال مغناطيسي منتظم مقداره (2.0 تسلا) بحيث كانت القيمة العظمى لعزم الازدواج يساوي (4-1.0 x 4) (حسب طول السلك).



l^2/16 = P

عزم الازدواج = P ن غ حاه

عزم الازدواج = ن ل غ حاه

ن ل غ حاه =

4 x 10^-2 = x l^2/16
l = sqrt(16 x 10^-2) = 4 x 10^-1 م

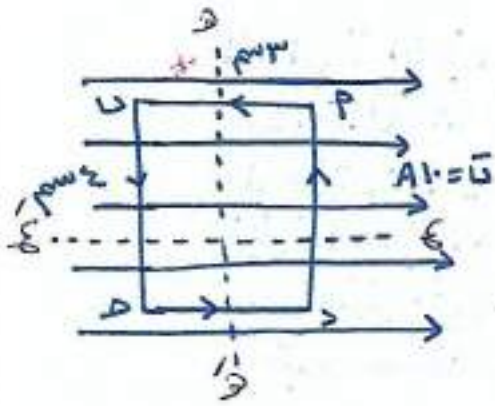
* مصادر المجال المغناطيسي :-

- 1- المغناطيس
- 2- التيار

الاستاذ: عمار السعور
ماحسنتي فيزياء

0787255846
عمان - مادبا

س/ اعتماداً على الشكل المجاور الذي يمثل سلك عمل منه ملف على شكل مستطيل عدد لفاته (الفه) ممتور في مجال مغناطيسي مقداره (هنتسلا) اعتماداً على الشكل والقيم المثبتة عليه ارجب عما يلي :-



- ١- عزم الازدواج $\tau = I a b B \sin \theta$
- ٢- حدد الاضلاع التي تحمل على دوران الملف
- ٣- حول اي من المحورين ه ه و ع ي دور الملف
- ٤- جد القوة لكل وحدة طول المؤثر في السلك (ب ه) $\frac{N}{m}$

س/ تمثل العلاقة التالية إحدى العلاقات في المجال المغناطيسي اعتماداً على البيانات ارجب عما يلي :-

$$E = \tau \sin \theta$$

- ١- ماذا تمثل العلاقة السابقة
- ٢- ما وحدة ع
- ٣- ماذا تمثل الزاوية (θ)
- ٤- متى يكون مقدار ع أكبر ما يمكن ومتى يكون أقل ما يمكن

س/ سلك طوله (ل) عمل منه ملف على شكل مربع يمر فيه تيار (ت) عدد لفاته (الفات) ثم عزم في مجال مغناطيسي اثبت ان عزم الازدواج يعطى بالعلاقة التالية

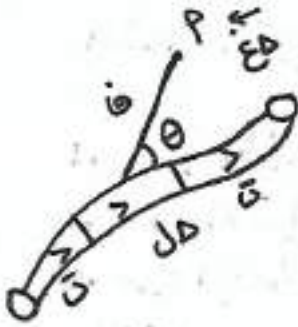
$$\text{عزم الازدواج} = \tau \sin \theta$$

س/ سلك طوله (ل) عمل منه ملف على شكل مربع مكون من لفات (الفه) يمر فيه تيار مقداره (ا ا) بحيث كانت قيمة عزم الازدواج تساوي (٤٠٨٤٠٤٠٤) عندما عزم في مجال مغناطيسي (ع) ارجب مقدار المجال المغناطيسي ؟

الاستاذ: عمار السعور
ماجستير فيزياء
0786255846
عمان - مادبا

١. x 1

قانون بيوسافار



* إذا اردنا ان نجد قيمة المجال المغناطيسي عند النقطة (P) نقوم بقسم السلك الى اجزاء كل منها (dl) يسري فيه التيار (I) فيكون المجال المغناطيسي الناشئ عن مرور التيار في (dl) عند النقطة (P) التي تبعد مسافة (r) :-

$$dB = \frac{\mu_0}{4\pi} \frac{I dl \sin \theta}{r^2} \text{ حيث :-}$$

$$\mu_0 : \text{النفاذية المغناطيسية} = 4\pi \times 10^{-7} \text{ وبيير/امبير}$$

* العوازل التي يعقد عليها قانون بيوسافار :-

1- يتناسب طردياً مع التيار المار في الموصل

2- يتناسب عكسياً مع مربع الازاحة

3- يتناسب طردياً مع جـا حيث θ هي الزاوية المحصورة بين اتجاه (dl) الذي يكون مع اتجاه التيار واتجاه (r)

4- يكون متجه المجال المغناطيسي (dB) عمودياً على كل من

$$\begin{aligned} & \leftarrow (dl) \text{ و } (r) \\ & \leftarrow \begin{matrix} \uparrow \\ \text{ع} \perp \text{dl} \end{matrix} \\ & \leftarrow \theta = 90^\circ \\ & \text{ع} \perp \text{ف} \end{aligned}$$

الاستاذ: عمار السعور
ماجستير فيزياء

0987255846
عمان- مادبا

س / 2008

تمثل الصورة الرياضية الآتية :-

$$\Delta \epsilon = \frac{M_0}{\kappa L} \quad \Delta \epsilon = \frac{\Delta l}{f} \quad \theta$$

الأستاذ: عمار السعور
ماجستير فيزياء
0787255846
عمان - مادبا ...

1- ما اسم القانون الذي تعب عنه هذه العلاقة ؟

* قانون بيو - سافار

2- ما المقصود بكل من Δl ، f ، θ

* Δl ← طول قسم من السلك
* f ← البعد بين محور السلك والنقطة المراد حساب المجال عندها
* θ ← الزاوية المحصورة بين (Δl) واتجاه (f)

3- ما الزاوية المحصورة بين $(\Delta \epsilon)$ و كل من (Δl) و (f)

* الزاوية 90°

س / ما هو استخدام قانون بيو سافار ؟!

- 1- يستخدم قانون بيو سافار لاستنتاج علاقة المجال لكل من :-
- 2- المجال المغناطيسي الناشئ عن تيار هارفي سلك مستقيم
- 3- المجال المغناطيسي لملف دائري
- 4- المجال المغناطيسي لملف لولبي

5- القوة المغناطيسية المتبادلة بين سلكين رفيعين متوازيين لانتهائين في الوسط يسري في كل منهما تيار

المجال المغناطيسي الناشئ
عن تيار في سلك مستقيم

* شكل المجال :: يكون على شكل دوائر تقع على مركزها على محور السلك

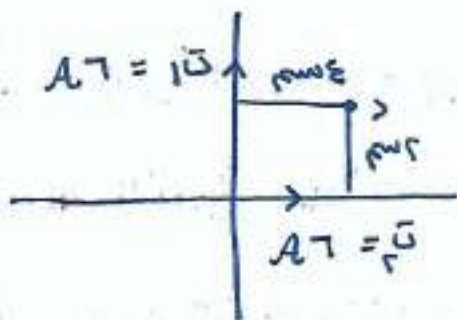
* المجال المغناطيسي لسلك يسري فيه تيار يعطى بالعلاقة :-



لتحديد اتجاه المجال نستخدم قاعدة قبضة اليد اليمنى :-
1- الاصبع مع التيار
2- الاصابع مع المجال المغناطيسي

$$B = \frac{\mu_0 I}{2\pi r}$$

مثال :: يبين الشكل المجاور لسلكين موزولين طويلين جداً مستقيمين متعامدين في مستوى الصفاة كل منهما يحمل تيار مقداره (A) بالاسطوانة بالقيم الموجودة على الشكل لحسب المجال المغناطيسي عند النقطة (د)



الحل ::
 $B_d = B_1 + B_2$

$$B_d = \frac{\mu_0 I_1}{2\pi r_1} = \frac{2 \times 10^{-7} \times \pi \times 4}{1 \times 2 \times \pi \times 1} = 4 \times 10^{-7} \text{ T}$$

$$\text{⊗ } 1 \times 10^{-7} \text{ T}$$

الاستاذ: عمار السعور
ما حبيتر فيزياء

$$B_d = \frac{\mu_0 I_2}{2\pi r_2} = \frac{2 \times 10^{-7} \times \pi \times 4}{1 \times 2 \times \pi \times 1} = 4 \times 10^{-7} \text{ T}$$

$$\text{⊙ } 1 \times 10^{-7} \text{ T}$$

0789255846

عمان - مادبا

$$B_d = (4 \times 10^{-7} - 1 \times 10^{-7}) + (1 \times 10^{-7} - 4 \times 10^{-7}) = -2 \times 10^{-7} \text{ T}$$

عكس الاتجاه نطرح

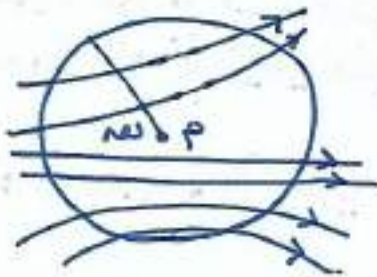
* ماهي العوامل التي يعتمد عليها المجال المغناطيسي الناشئ عن سلك يسري فيه تيار :-

$$\frac{I \cdot L}{\pi r^2} = B$$

- 1- التيار
- 2- بعد النقطة عن السلك
- 3- النفاذية المغناطيسية

« المجال المغناطيسي
للف دائري »

* شكل المجال :- ان شكل المجال ليس منتظماً داخل الملف لكنه بالقرب من مركزه يكون منتظماً وذلك بدليل توازي خطوطه المتعامدة مع مستوى الملف .



لحساب المجال في المركز نطبق قانون
بيو-سافار

$$B = \frac{\mu_0}{4\pi} \times \frac{N \cdot I}{r}$$



$$r = \text{نصف المحيط} = \frac{L}{2\pi n}$$

$$B = \frac{\mu_0}{4\pi} \times \frac{N \cdot I}{\frac{L}{2\pi n}} = \frac{\mu_0 N^2 I}{4L}$$

* اذا كان الملف يتكون من عدد n من اللفات :-

$$B = \frac{\mu_0 N^2 I}{4L}$$

الاستاذ: عمار السعور
ماجستير فيزياء

0787255846
عمان - مادبا

* العوامل التي يعقد عليها المجال المغناطيسي دائري :-

$$B = \frac{\mu_0 I}{2r}$$

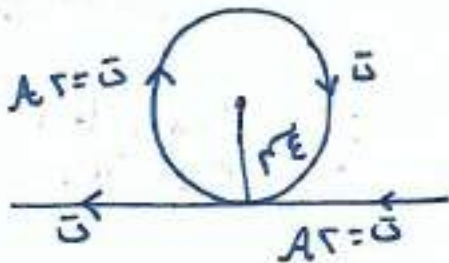
- ١- عدد اللفات
- ٢- التيار
- ٣- النفاذية المغناطيسية
- ٤- نصف القطر

* قاعدة قبضة اليد اليمنى :-



- ١- الإبهام مع المجال
- ٢- الأصابع مع التيار

مثال :- سلك مستقيم طويل جداً يمر فيه تيار مقداره (A) صنع منه عروة دائرية نصف قطرها (E سم) عدد لفاتها (N لفات) (حسب المجال المغناطيسي في مركز العروة).



$$B_{\text{مركز}} = B_{\text{سلك}} + B_{\text{دائري}}$$

$$B_{\text{سلك}} = \frac{\mu_0 I}{2\pi r}$$

$$\text{①} \quad 1 \times 10^{-5} \text{ تسلا} = \frac{4 \times 10^{-7} \times I \times \pi \times 4}{2 \times 10^{-2} \times \pi \times 4}$$

$$B_{\text{دائري}} = \frac{\mu_0 I N}{2R} = \frac{4 \times 10^{-7} \times I \times \pi \times 4}{2 \times 10^{-2} \times \pi \times 4} = 1 \times 10^{-5} \text{ تسلا} = 1 \times 10^{-5} \text{ تسلا}$$

$$\text{②} \quad B_{\text{مركز}} = 1 \times 10^{-5} + 1 \times 10^{-5} = 2 \times 10^{-5} \text{ تسلا}$$


الأستاذ: عمار السعور

ماجستير فيزياء

0789255846

عمان - مادبا ..

« المجال المغناطيسي
لملف لولبي »



* شكل المجال :- خطوط المجال داخل الملف اللولبي متوازية ويكون كبير جداً لأنه يمثل المجال الناتج عن كل تيار يمر في كل لفه من لفاته .

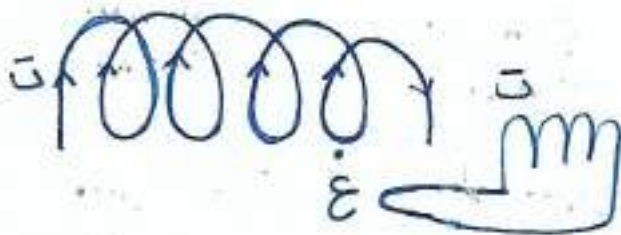
وان خطوط المجال خارج اللفات تكون على شكل دوائر مركزها السلك

عالم :- خطوط داخل الملف اللولبي متوازية ؟!

* لأنه يكون كبير جداً ويمثل المجال الناتج عن كل تيار يمر في كل لفه من لفاته

$$\boxed{\frac{N}{L} = \vec{N}} \quad \text{حيث} \quad \boxed{\vec{N} = \frac{N \cdot I}{L} = \vec{H}} = \vec{H}$$

* قاعدة قبضة اليد اليمنى :-



- ١- الابهام مع المجال (H)
- ٢- الاصابع مع التيار (I)

* ماهي العوامل التي يعتمد عليها للمجال المغناطيسي لملف لولبي ؟

الحل: $H = \frac{N \cdot I}{L}$

١- عدد اللفات (N)

٢- التيار (I)

٣- طول الملف (L)

٤- النفاذية المغناطيسية للوسط (μ)

الاستاذ: عمار السعود
ماجستير فيزياء

0787255846

عمان - مادبا

مثال :- ملف لولبي يحتوي على 100 لفه لكل (اسم) من طوله ويحمل تيار مقداره (A100)

(حسب :-)



1- المجال المغناطيسي عند النقطة (P)

$$B = \frac{\mu_0 n I}{l} = \frac{4\pi \times 10^{-7} \times 100 \times 100}{1} = 4\pi \times 10^{-2} \text{ تسلا}$$

2- مقدار واتجاه التيار اللازم (موازيه وفي ملف لولبي آخر عدد لفاته (E) لفه) لكل (I) سم ليحيط بالاول احاطه تامه ليصبح المجال عند P يساوي صفر ؟!

$$B_1 = B_2$$

$$\frac{\mu_0 n_1 I_1}{l} = \frac{\mu_0 n_2 I_2}{l}$$

$$\frac{I_1 \times 100}{1} = \frac{100 \times I_2}{1}$$

$$I_2 = 100 \text{ A}$$

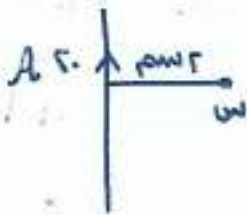
$$I_2 = \frac{100}{1}$$

الاستاذ: عمار السعور
ماحبيتر فيزياء

0787255846
عمان - مادبا

« امثلة كاهنك على المجال المغناطيسي »

مثال :- سلك لا توائي الطول يمر فيه تيار مقداره (A.c) كما هو في الشكل المجاور احسب :-

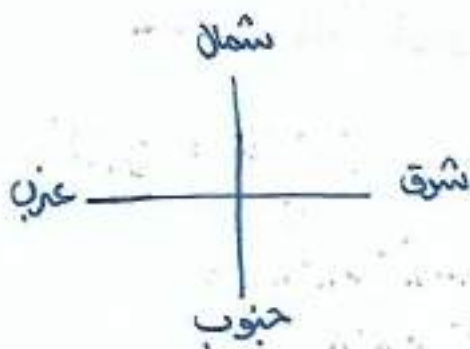


- ١- المجال المغناطيسي عند النقطة (P).
- ٢- مقدار واتجاه القوة المغناطيسية المؤثرة في جسم شحنته (Mc) يتحرك بسرعة (v).
- ٣- اوقات لحظة المرور بالنقطة (ب) نحو الشمال.

الحل :-

$$B = \frac{\mu_0 I}{2\pi r}$$

$$\otimes \quad I \times 10^{-1} \times 2 = \frac{10^{-7} \times 10^{-1} \times \pi \times 4}{2 \times 10^{-2} \times \pi \times 2}$$



$$I \times 10^{-1} \times 2 = \frac{10^{-7} \times 10^{-1} \times \pi \times 4}{2 \times 10^{-2} \times \pi \times 2}$$

$$I \times 10^{-1} \times 2 = \frac{10^{-7} \times 10^{-1} \times \pi \times 4}{2 \times 10^{-2} \times \pi \times 2}$$

الاستاذ : عمار السعود
ماجستير فيزياء

0787255846
عمان - مادبا

مثال :- ملف دائري عدد لفاته (100 لفة) ونصف قطره (سم) ويمر فيه تيار مقداره (A) حسب :-



- 1- المجال المغناطيسي عند المركز
- 2- القوة المغناطيسية المؤثرة في شحنته مقدارها (1-10 C) تتحرك نحو الشرق بسرعة (10 x 10^3) م/ث لحظة مرورها في مركز الملف

الحل :-

$$1- \text{ع} = \frac{\mu_0 n I}{2r} = \frac{2 \times 10^{-7} \times 100 \times \pi \times 1}{2 \times 10^{-2}} = 1.57 \times 10^{-2} \text{ تسلا } \odot$$

الاستاذ: عماليسور
 ماحسنو قزياد
 0787255846
 عمان - مادبا

$$2- \text{ع} = \frac{q v \sin \theta}{r^2} = \frac{1 \times 10^{-10} \times 10^4 \times \sin 90^\circ}{(10^{-2})^2} = 1 \times 10^{-2} \text{ N}$$

مثال :- ملف لولبي عدد لفاته (100 لفة) وطوله (10 سم) يحمل تيار مقداره (A) حسب :-



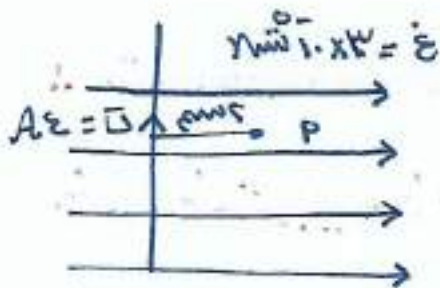
1- المجال المغناطيسي عند النقطة (P)

$$\text{ع لولبي} = \frac{\mu_0 n I}{L} = \frac{2 \times 10^{-7} \times 100 \times \pi \times 1}{0.1} = 6.28 \times 10^{-2} \text{ تسلا } \odot$$

2- القوة المغناطيسية المؤثرة في شحنته مقدارها (1-10 C) تتحرك بسرعة (10 x 10^3) م/ث لحظة مرورها في (P) نحو الجنوب

$$2- \text{ع} = \frac{q v \sin \theta}{r^2} = \frac{1 \times 10^{-10} \times 10^4 \times \sin 90^\circ}{(10^{-2})^2} = 1 \times 10^{-2} \text{ N } \otimes$$

مثال :- سلك طويل يمر فيه تيار مقداره (A) ممتور في مجال مغناطيسي مقداره (10^{-3} T) تسلك كما في الشكل (اجب عما يلي :-



1- القوة المغناطيسية المؤثرة في السلك لكل وحدة طول

2- مقدار المجال المغناطيسي عند النقطة (P)

3- القوة المغناطيسية المؤثرة في شحنة مقداره (4 C) تتحرك بسرعة مقداره (10^8 m/s) لحظة مرورها في النقطة (P)

الحل :-

$$F = I l B = 1 \times 1 \times 10^{-3} = 10^{-3} \text{ N}$$

$$F = I l B = 1 \times 1 \times 10^{-3} = 10^{-3} \text{ N}$$

$$B = \frac{\mu_0 I}{2\pi r} = \frac{4\pi \times 10^{-7} \times 1}{2\pi \times 1} = 2 \times 10^{-7} \text{ T}$$

$$F = I l B = 1 \times 1 \times 2 \times 10^{-7} = 2 \times 10^{-7} \text{ N}$$

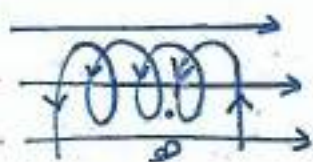
$$F = I l B = 1 \times 1 \times 2 \times 10^{-7} = 2 \times 10^{-7} \text{ N}$$

$$F = I l B = 1 \times 1 \times 2 \times 10^{-7} = 2 \times 10^{-7} \text{ N}$$

الاستاذ: عمار السعود
 ماجستير فيزياء

0787255846
 عمان - مادبا

وزارة 2008) ملف حلزوني مغنوم كلياً في مجال مغناطيسي منتظم مقداره (1.0×10^{-3}) تسلا يسري فيه تيار $(A \ 7)$ باتجاه يوازي محور الملف كما في الشكل فإذا علمت أن عدد اللفات (50) وطوله (0.10 م) (حسب :-



1- مقدار المجال المغناطيسي عند النقطة (هـ) $(\frac{22}{\sqrt{2}} = \pi)$

$B_{\text{هـ}} = B_{\text{خارجي}} + B_{\text{لولبي}}$

$$B_{\text{لولبي}} = \frac{\mu_0 n I}{l} = \frac{4\pi \times 10^{-7} \times 7 \times 50}{0.10} = 1.76 \times 10^{-2} \text{ تيسلا}$$

$$B_{\text{هـ}} = B_{\text{خارجي}} + B_{\text{لولبي}} = 1.0 \times 10^{-3} + 1.76 \times 10^{-2} = 1.86 \times 10^{-2} \text{ تيسلا}$$

$B_{\text{هـ}} = B_{\text{خارجي}} + B_{\text{لولبي}}$
 $1.86 \times 10^{-2} = (1.0 \times 10^{-3}) + B_{\text{لولبي}}$
 $B_{\text{لولبي}} = 1.76 \times 10^{-2} \text{ تيسلا}$

2- مقدار القوة المغناطيسية المؤثرة في الإلكترون يتحرك في مستوى الورقة كخط مرسوم بالنقطة (هـ) لبيسرته (5.0×10^{-6}) م/ث نحو الشمال (↑)

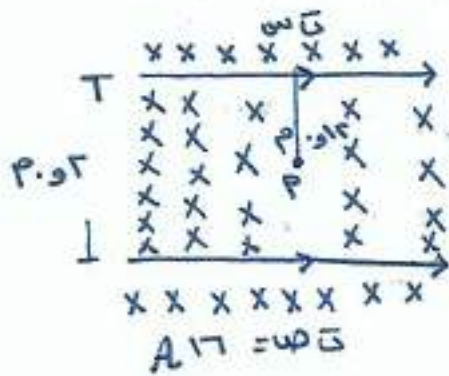
$$F = qvB \sin \theta = 1.6 \times 10^{-19} \times 5.0 \times 10^{-6} \times 1.86 \times 10^{-2} = 1.49 \times 10^{-21} \text{ نيوتن}$$

$$F = 1.0 \times 10^{-10} \text{ نيوتن}$$

الاستاذ: عمار السعود
 ماجستير فيزياء

0787255846
 عمان - مادبا

مثال :- يمثل الشكل المجاور سلكين مستقيمين متوازيين لانهمايين في الطول ومقورين في مجال مغناطيسي منتظم مقداره $(2 \times 10^{-1} \text{ تسلا})$ يسري في كل منهما تيار كهربائي اذا علمت ان المجال المغناطيسي المؤثر في النقطة (P) والناجم عن السلك (س) تساوي $(2 \times 10^{-1} \text{ تسلا})$ مستقيماً بالقيم لحساب :-



1- المجال المغناطيسي عند النقطة (P)

2- التيار الكهربائي المار في (س)

3- القوة المغناطيسية المؤثر في السلك (س) لكل وحدة طول

الحل :-

$$1- \text{ع} = \text{ع} + \text{ع} + \text{ع} \text{ خارجي}$$

$$\text{ع} = \frac{M}{\mu_0} = \frac{2 \times 10^{-1} \times \pi \times 4}{2 \times 10^{-7} \times \pi \times 2} = 2 \times 10^{-1} \text{ تسلا} \quad \text{⊙}$$

⊙ $2 \times 10^{-1} = \text{ع}$ نحدد الاتجاه باستخدام قاعدة اليد اليمنى

$$\text{ع} = \text{ع} + \text{ع} + \text{ع} \text{ خارجي}$$

$$= 2 \times 10^{-1} + 2 \times 10^{-1} + 2 \times 10^{-1} = 6 \times 10^{-1} \text{ تسلا}$$

2- المجال المغناطيسي الناشئ عن السلك (س) عند النقطة P يساوي $2 \times 10^{-1} \text{ تسلا}$

$$\text{ع} = \frac{M}{\mu_0} = \frac{2 \times 10^{-1} \times \pi \times 4}{2 \times 10^{-7} \times \pi \times 2} = 2 \times 10^{-1} \text{ تسلا}$$

$$\text{ع} = 2 \times 10^{-1} \text{ تسلا}$$

الاستاذ : عمار السعود

ماجستير فيزياء

0787255846

عمان - مادبا

سفر

$$Q_{\text{ext}} = \frac{Q}{J} \theta$$

$$Q_{\text{int}} = \frac{Q}{J} \theta$$

$$Q_{\text{ext}} = Q_{\text{int}} + Q_{\text{ext}}$$

$$\textcircled{*} 16 \times 10^{-7} = \frac{16 \times 10^{-7} \times \pi \times 8}{10^{-7} \times 2 \times \pi \times 3} = \frac{M}{\pi \times 3} = Q_{\text{ext}}$$

$$Q_{\text{ext}} = Q_{\text{int}} + Q_{\text{ext}}$$

$$\textcircled{*} 16 \times 10^{-7} = (-16 \times 10^{-7}) + 16 \times 10^{-7}$$

$$Q_{\text{ext}} = \frac{Q}{J} \theta$$

$$16 \times 10^{-7} = \frac{Q}{J} \theta$$

$$16 \times 10^{-7} = \frac{Q}{J} \theta$$

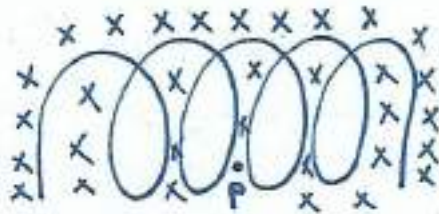
الاستاذ: عمار السعور

ماجستير فيزياء

0787255846

عمان - مادبا

س/ يمثل الشكل المجاور ملف لولبي يمر فيه تيار (ت) صوله (٣٣) وعذد لفاته (١٠٠ الفه) مغمور في مجال مغناطيسي (٧ × ١٠^{-٥}) تسلك تتحرك فيه شحنه مقدارها (٢٠٢) نحو الشرق بسرعة ٤ × ١٠^٥ م/ث احسب مقدار التيار الذي يجعل تلك الشحنه عند مرورها بالنقطه (P) تتأثر بقوة (٤٠ × ١٠^{-٦}) N نحو الجنوب .



الحل:

$$F = qvB \sin \theta$$

$$40 \times 10^{-6} = 2 \times 10^{-19} \times 4 \times 10^5 \times B \sin \theta$$

$$B \sin \theta = 1.0 \times 10^{-5} \text{ تسلك}$$

$$B \sin \theta = B_{\text{ملف}} - B_{\text{خارجي}}$$

$$B_{\text{ملف}} + B_{\text{خارجي}} = B \sin \theta$$

$$1.0 \times 10^{-5} = 1.0 \times 10^{-5} + 1.0 \times 10^{-7} =$$

$$B_{\text{ملف}} = \frac{\mu_0 n I}{L}$$

$$1.0 \times 10^{-5} = \frac{4\pi \times 10^{-7} \times 100 \times I}{0.3}$$

$$I = \frac{1.0 \times 10^{-5} \times 0.3}{4\pi \times 10^{-7} \times 100} = 0.23 \text{ A}$$


الاستاذ: عمار السعود

ماحبيستير فيزياء

0789255846

عمان - مادبا

س 2014) سلك مستقيم طويل جداً يمر فيه تيار كهربيائي مقداره (ع 4) هتمور في مجال مغناطيسي منتظم مقداره (0.1 x 10⁻⁴) تسلا احسب :-



- 1- القوة المغناطيسية المؤثرة في جزء من السلك
- 2- المجال المغناطيسي الكلي عند (د)
- 3- القوة المغناطيسية المؤثرة في الالكترون يتحرك لسرعته (0.1 x 10⁻⁴ م/ث) لحظة مروره بالنقطة (د) باتجاه السمين الموجب

الحل :-

$$1. \text{ } \tau = I L B \sin \theta$$

$$= 9.0 \times 10^{-4} \times 1 \times 1 \times 4 = 3.6 \times 10^{-3} \text{ N}$$

$$2. \text{ } B_{\text{سلك}} = \frac{\mu_0 I}{2\pi r} = \frac{4\pi \times 10^{-7} \times 4}{2\pi \times 10^{-2}} = 4 \times 10^{-5} \text{ تسلا} \quad (*)$$

ع كلي = ع خارجي + ع سلك

$$3. \text{ } B_{\text{كلي}} = (4 \times 10^{-5}) + (1 \times 10^{-4}) = 1.4 \times 10^{-4} \text{ تسلا} \quad \odot$$

$$4. \text{ } \tau = I L B \sin \theta$$

$$= 9.0 \times 10^{-4} \times 1 \times 1.4 \times 10^{-4} \times 1 = 1.26 \times 10^{-7} \text{ N}$$

الاستاذ: عمار السعور
 ماجستير فيزياء
 0787255846
 عمان - مادبا

وزارة 2011
 لفتل الشكل المجاور سلك مستقيم لانه ثني وفي الطول يسري فيه تيار كهربي
 مقاره (A) ويقع في مستوى الصفيحة وسلك اخر في نفس المستوى صنع
 منه نصف لفه نصف قطرها (R) ويسري فيه تيار كهربي (I) احسب
 مقدار (I) وحده اتجاهه في السلك بحيث ينعقد المجال المغناطيسي في مركز الملف



الحل :-

ينعدم المجال ← $I_m = 0$

← $I_{\text{السلك}} = I_{\text{الدائرة}}$

$$\frac{I_m}{2\pi r} = \frac{I_{\text{سلك}}}{2\pi R}$$

$$\frac{I_m}{2\pi r} \times \frac{1}{r} \times \pi R^2 = \frac{I \times \pi R^2}{2\pi R \times \pi R}$$

$I_m = 0$ اتجاهه مع عقارب الساعة

$$\frac{I}{r} = I$$

الاستاذ : عمار السعيد

ماجستير فيزياء

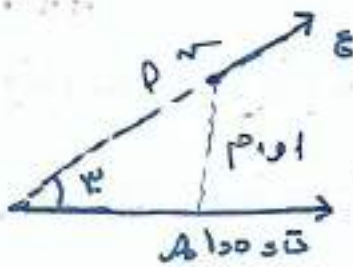
0787255846

عمان - مادبا

من وزارة
ص 2010

سلك مستقيم لانهائي الطول يحمل تيار مقداره (5 و 4) اذا تحرك جسم مشحون بشحنه (4-10) كولوم ومحمل الكتلة لسرعه (5 x 10⁴ م/ث) باتجاه يصنع زاويه (30°) مع اتجاه التيار كما في الشكل احسب :-

- 1- مقدار واتجاه المجال المغناطيسي عند النقطة (P)
- 2- القوة المغناطيسية التي تؤثر بها السلك في الجسم لحظة مروره في النقطة (P)



الحل:

1. $B = \frac{\mu_0 I}{2\pi r}$

2. $F = qvB \sin \theta = 1.6 \times 10^{-19} \times 5 \times 10^4 \times \frac{4 \times 10^{-7}}{2\pi \times 1} \times \sin 30^\circ = 1.6 \times 10^{-19} \times 5 \times 10^4 \times 10^{-7} \times \frac{1}{2} = 4 \times 10^{-22} \text{ N}$



الزاوية بين v و B 90°

3. $F = qvB \sin \theta = 1.6 \times 10^{-19} \times 5 \times 10^4 \times \frac{4 \times 10^{-7}}{2\pi \times 1} \times \sin 90^\circ = 1.6 \times 10^{-19} \times 5 \times 10^4 \times 10^{-7} = 8 \times 10^{-22} \text{ N}$

الاستاذ: عمار السعود

ماجستير فيزياء

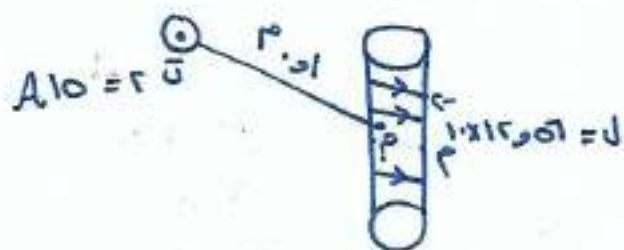
0787255846

عمان - مادبا

٥٥/ ليقل الشكل المجاور سلك مستقيم لا نهائي في الطول وملف لولبي عدد لفاته (٢٠) لفة وبياناته احسب :-

- ١- مقدار المجال المغناطيسي المحصل عند النقطة (٢) والتي تقع على محور ملف اللولبي
- ٢- القوة المغناطيسية مقداراً واتجهاً المؤثرة في جسم مشحون بشحنة كهربائية (٤٠) (١) تتحرك بسرعة (١٠) م/ث لحظة مروره بالنقطة (٢)

الحل :-



$$= 3 \times 10^{-5} \text{ تسلا ص } ^+$$

$$1- \text{ غ لولبي} = \frac{\mu N I}{l}$$

$$= \frac{4\pi \times 10^{-7} \times 20 \times 10}{1.25} = 1.024 \times 10^{-4} \text{ تسلا ص } ^+$$

$$\text{غ سلك} = \frac{\mu N I}{2\pi r} = \frac{4\pi \times 10^{-7} \times 20}{2\pi \times 0.1} = 4 \times 10^{-5} \text{ تسلا ص } ^+$$

$$\text{غ م} = \text{غ سلك} + \text{غ لولبي} = 4 \times 10^{-5} + 1.024 \times 10^{-4} = 1.424 \times 10^{-4} \text{ تسلا ص } ^+$$

$$3- \text{ ف} = \text{ق} \times \text{غ م} = 40 \times 1.424 \times 10^{-4} = 5.696 \times 10^{-3} \text{ نيوتن ص } ^-$$

$$= 5.696 \times 10^{-3} \text{ نيوتن ص } ^-$$

$$= 5.696 \times 10^{-3} \text{ نيوتن ص } ^-$$

الاستاذ: عمار السور
ماجستير فيزياء

0787255846
عمان-ماديا

مثال ١٠: اعتماداً على الرسم اذا علمت ان التيار المار في السلكين يساوي (٦ أ) بالاعتماد على القيم لحسب :-

- ١- المجال المغناطيسي عند (٣)
 ٢- القوة المغناطيسية المؤثرة في شحنة مقدارها (١٢ م) تتحرك بسرعة (١٠ م/ث) شرقاً لحظة مرورها بالنقطة (٣)

الحل :-



$$\frac{\theta}{360} = \frac{2}{3}$$

$$\frac{1}{12} = \frac{2}{360} =$$

$$B_{\text{م}} = B_{\text{داخلي}} + B_{\text{خارجي}}$$

$$\text{⊗ داخل} = \frac{2 \times 10^{-7} \times \frac{1}{12} \times \sqrt{1.2} \times \pi \times 2}{2 \times 10^{-7} \times \pi \times 2} = \frac{2 \times 10^{-7}}{2} = 10^{-7} \text{ تسلا} \text{⊗}$$

$$\text{⊙ خارجي} = \frac{1 \times 10^{-7} \times \frac{1}{12} \times \sqrt{1.2} \times \pi \times 1}{2 \times 10^{-7} \times \pi \times 1} = \frac{1 \times 10^{-7}}{2} = 0.5 \times 10^{-7} \text{ تسلا} \text{⊙}$$

$$\text{⊗} = 10^{-7} \times \frac{1}{12} - 0.5 \times 10^{-7} = 0.5 \times 10^{-7} \text{ تسلا} \text{⊗}$$

$$\text{⊗} = 0.5 \times 10^{-7} \times \frac{1}{12} \times \sqrt{1.2} \times \pi \times 2 = 0.5 \times 10^{-7} \times \frac{1}{6} \times \sqrt{1.2} \times \pi \times 2$$

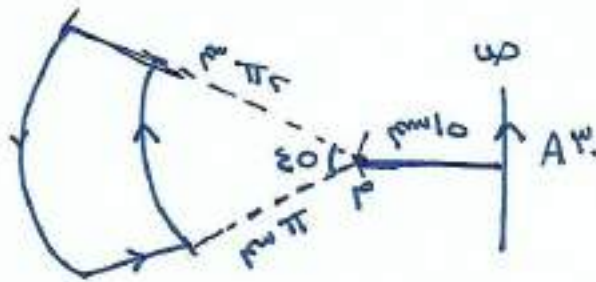
$$= 0.5 \times 10^{-7} \times \frac{1}{3} \times \sqrt{1.2} \times \pi$$

الاستاذ: عمار السعور
 ماجستير فيزياء

0787255846

عمان - مادبا

مثال :- يمثل الشكل المجاور سلك مستقيم لانهائي الطول (ص) وسلك (س) يحل كل منهما تيار معتمداً على الشكل وبياناته لحسب مقدار القوة المغناطيسية المؤثرة في جسيم شحنته (McE) بسرعة (1.0 x 10^6 م/ث) يتحرك باتجاه (ص) لحظة مروره بالنقطة (س)



الحل :-

$$v = 1.0 \times 10^6 \text{ م/ث}$$

$$F = F_{\text{سلك}} + F_{\text{داخلي}} + F_{\text{خارجي}}$$

$$\odot \text{ سلك } 1.0 \times 10^{-7} \text{ نيسلك} = \frac{3.0 \times 1.0 \times \pi \times 10^{-7}}{2 \times 1.0 \times 10 \times \pi \times 10^{-2}} = \frac{3 \times 10^{-8}}{20} = 1.5 \times 10^{-9} \text{ نيسلك}$$

$$\frac{\theta}{36} = v$$

$$\frac{0}{36} = \frac{1.0}{36}$$

$$\frac{1}{36} =$$

$$\odot \text{ داخلي } 1.0 \times 10^{-7} \text{ نيسلك} = \frac{1}{\lambda} \times 1.0 \times \pi \times 10^{-7} = \frac{1 \times 10^{-7} \times \pi}{2 \times 1.0 \times \pi \times 10^{-2}} = \frac{1 \times 10^{-5}}{2} = 5 \times 10^{-6} \text{ نيسلك}$$

$$\odot \text{ خارجي } 1.0 \times 10^{-7} \text{ نيسلك} = \frac{1}{\lambda} \times 1.0 \times \pi \times 10^{-7} = \frac{1 \times 10^{-7} \times \pi}{2 \times 1.0 \times \pi \times 10^{-2}} = \frac{1 \times 10^{-5}}{2} = 5 \times 10^{-6} \text{ نيسلك}$$



$$\odot \text{ سلك } 1.0 \times 10^{-7} \text{ نيسلك} = \frac{3}{\lambda} - \frac{1}{\lambda} + \frac{3}{\lambda} = \frac{5}{\lambda}$$

$$v = 1.0 \times 10^6 \text{ م/ث}$$

$$F = 1.0 \times 10^{-7} \times \frac{3}{\lambda} \times 1.0 \times 10^{-7} \times 1.0 \times 10^6 = 1.0 \times 10^{-7} \times \frac{3}{\lambda} \times 1.0 \times 10^{-1} = \frac{3 \times 10^{-8}}{\lambda}$$

الاستاذ: عمار السعود
ماجستير فيزياء

0787255846
عمان - مادبا

|| القوة المغناطيسية المتبادلة
بين سلكين متوازيين لا نهائيين في الطول ||



* كيف تتولد القوة المتبادلة بين السلكين ؟!

- ان مرور التيار في احد السلكين يؤدي الى توليد مجال مغناطيسي حوله
ونما ان السلك الثاني يمر فيه تيار وهو موجود في المجال المغناطيسي لسلك
الاول فانه سيشأثر بقوة مغناطيسية والعكس صحيح

* اذا كان التياران في نفس الاتجاه تنشأ قوة تنافر بين السلكين



* اذا كان التياران عكس الاتجاه تنشأ قوة تجاذب بين السلكين



* يمكن التعبير عن القوة المتبادلة بين سلكين
متوازيين لا نهائيين في الطول +

- بالعلاقة التالية +

$$F = \frac{\mu_0 I_1 I_2 L}{2\pi r}$$

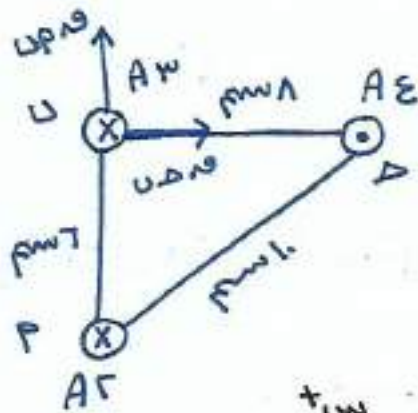
المستاذ: عمار السعور

ماحبيتيروفيزياد

0787255846

عمان - مادبا

* ليتمثل الشكل ثلاث أسلاك مستقيمة لانهائية في الحول يسري في كل هزتها تيار كهربائي بالاستعانة بالبيانات المثبتة على الشكل لحسب القوة المغناطيسية المؤثرة في وحدة الالحال للسلك (ب).



الحل :-

$$\frac{F_{A\Gamma \rightarrow A\Pi}}{L} = \frac{\mu_0 I^2}{4\pi r} = \frac{\mu_0 I^2}{4\pi \times 2}$$

$$+_{\text{س}} \frac{N}{10} \vec{1} \cdot x_{\text{س}} = \frac{\epsilon \times \text{س} \times \sqrt{-1} \times \pi \epsilon}{\sqrt{-1} \times 1 \times 1 \times \pi \epsilon}$$

$$+_{\text{س}} \frac{N}{10} \vec{1} \cdot x_{\text{س}} = \frac{3 \times 2 \times \sqrt{-1} \times \pi \epsilon}{\sqrt{-1} \times 1 \times 1 \times \pi \epsilon} = \frac{\mu_0 I^2}{4\pi r} = \frac{\mu_0 I^2}{4\pi \times 1}$$



$$0 - 1 \times \sqrt{(\epsilon)^2 + (\text{س})^2} = \text{محصلة}$$

$$0 - 1 \times \sqrt{16 + 9} =$$

$$\frac{N}{10} \vec{1} \cdot x_{\text{س}} =$$

$$\frac{\epsilon}{3} \vec{1} = \frac{\text{س}}{3} \vec{1} = \theta$$

$$\theta = 30^\circ$$

الاستاذ: عمار السعود
ماجستير فيزياء

0787255846
عمان - مادبا

* القوة المغناطيسية المتبادلة بين سلكين لائزائيين في الطول تعتمد على كل من :-

١- مقدار كل من التيارين

٢- المسافة بينهما

$$F \propto I_1 I_2 \quad , \quad F \propto \frac{1}{r}$$

$$F = \frac{\mu_0 I_1 I_2 L}{2\pi r} \leftarrow$$

* بما أن السلكين لائزائيين في الطول من الأفضل حساب القوة لكل وحدة طول (القوة في وحدة الطول)

$$\frac{F}{L} = \frac{\mu_0 I_1 I_2}{2\pi r} \leftarrow$$

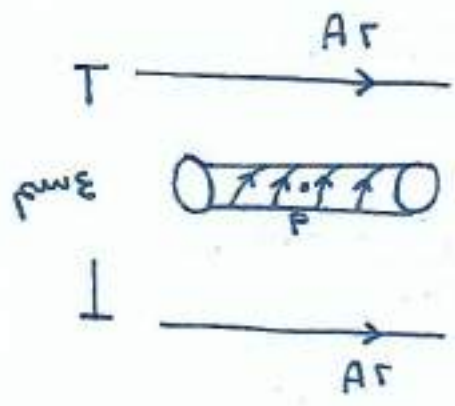
الاستاذ : عماد السعود

ماجستير فيزياء

0787255846

عمان - مادبا

سلكان متوازيان لانهاثيان في الطول يقعان في مستوى واحد يمر في كل منهما تيار مقداره A_2 وضع في منتصف المسافة بينهما ولشكل موازي لهما ملف لولبي طوله $(1.0 \times \pi^2 \text{ م}^2)$ وعدد لفاته (100 لفة) كما هو موضح في الشكل اذا علمت ان المجال المحصل عند النقطة (P) الواقعة على محور الملف يساوي $(1.0 \times 10^{-3} \text{ تسلا})$ احسب:



- 1- القوة المتبادلة بين السلكين المؤثرة على وحدة الاحوال
- 2- تيار الملف (I)

الحل:

$$1 - \frac{\mu_0 I_1 I_2}{2\pi r} = \frac{10^{-3}}{1}$$

$$2 - \frac{2 \times 10^{-3} \times 1.0 \times \pi^2 \times 100}{2 \times 1.0 \times \pi^2 \times 100} = \frac{10^{-3}}{1}$$

$$2 - 1.0 \times 10^{-3} = \mu_0 I$$

$$\mu_0 I = \mu_0 I_{\text{سلك 1}} + \mu_0 I_{\text{سلك 2}} + \mu_0 I_{\text{ملف}}$$

لكن السلكين لهما نفس التيار وفي نفس الاتجاه والنقطة (P) في منتصف المسافة بينهما فيكون المجال المؤثر فيهما من السلكان متساويان في المقدار ومتعاكسان في الاتجاه $\leftarrow \mu_0 I = \mu_0 I_{\text{سلك 1}} + \mu_0 I_{\text{سلك 2}} + \mu_0 I_{\text{ملف}}$

$$\frac{2 \times 1.0 \times 10^{-3} \times 1.0 \times \pi^2 \times 100}{2 \times 1.0 \times \pi^2 \times 100} = 1.0 \times 10^{-3}$$

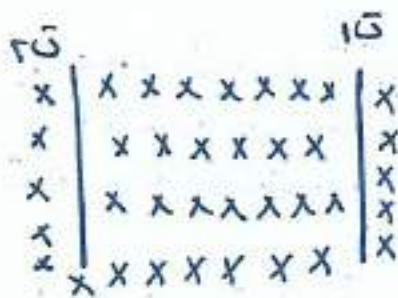
$$\mu_0 I = \mu_0 I_{\text{سلك 1}} + \mu_0 I_{\text{سلك 2}} + \mu_0 I_{\text{ملف}}$$

$$A_2 = I$$

الاستاذ: عمار السعور
ماجستير فيزياء

0787255846
عمان - ماديا

س 2011) سلكان مستقيمان متوازيين لانهائين في الطول l تياران كهربائيين (I_1, I_2) هموران في مجال مغناطيسي $(E \cdot 10^{-6})$ تسلك كما في الشكل اترن الجسمان عندما كان البعد بينهما 20 سم؟



- 1- لحسب مقدار كل من التيارين
- 2- حدد اتجاه التيار في كل سلك

الحل:-

اترن الجسمان اي ان

وه متبادل بين السلكين = وه مغناطيسية المؤثرة في كل سلك.

$$F_{12} = F_{21}$$

ع من سلك 1 في سلك 2

$$\frac{\mu_0 I_1 I_2 l}{2\pi r} = \frac{\mu_0 I_2 I_1 l}{2\pi r}$$

$$\frac{\mu_0 I_1^2 l}{2\pi r} = 0.1 \times 4$$

$$I_1 = \frac{0.1 \times 4 \times 2\pi r}{\mu_0 l} = 20$$

الاستاذ: عمار السعود
ماجستير فيزياء

0787255846
عمان - مادبا

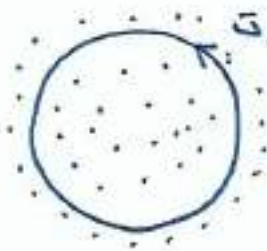
« ورقة عمل "2" »
« المجال المغناطيسي »

من/ سلك طويل مستقيم لانهائي في ال طول يحمل تيار مقداره (A1) باتجاه داخل في الصفحة ومغزور كلياً في مجال مغناطيسي خارجي مقداره (0.1x10) تسلا كما في الشكل احسب :-

- 1- القوة المغناطيسية المؤثرة في وحدة ال طول في السلك .
 2- محصلة المجال عند النقطة (ب) $\mu = 1.2 \times 10^{-6} \text{ Tm/A}$
 3- القوة المغناطيسية المؤثرة في شحنة مقداره (100) كظه مرورها بالنقطة (ب) نحو الجنوب لسرعته (0.1x10) م/ث
- $\vec{B} \leftarrow$
 $\vec{v} \downarrow$
 $\vec{A} \otimes$
 $A1 = 1$

من/ ملف دائري عدد لفاته (10) ونصف قطره (0.1م) يمر فيه تيار كهربائي مقداره (A2) مغزور في مجال مغناطيسي خارجي مقداره (0.6x10) تسلا كما في الشكل

1- المجال المغناطيسي المحصل في مركز الملف (3)



2- ما اسم القاعدة التي استخدمتها في تحديد اتجاه المجال المغناطيسي

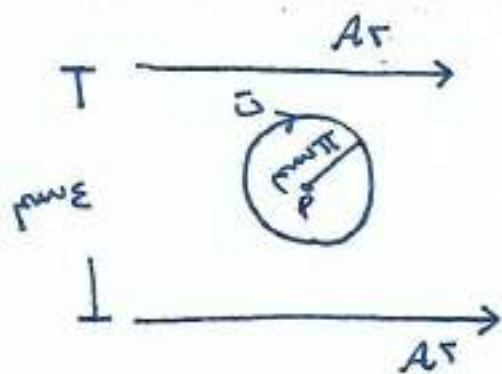
3- احسب القوة المغناطيسية المؤثرة في شحنة مقداره (10x10) كولوم تتحرك نحو الشرق لسرعته مقداره (10x10) م/ث

الاستاذ : عمار السعور
ماجستير فيزياء

0787255846

عمان - مادبا

٥٥/ سلكان متوازيان لهما تياران في الطول يقعان في مستوى وتحمّل كل منهما تيار مقداره (A_2) وضع في منتصف المسافة بينهم حلف دائري نصف قطره $(1.0 \times \pi)^{-6}$ وعدد لفاته (10 لفة) كما في الشكل فاذا علمت ان المجال عند النقطة (P) الواقعة على محور الملف يساوي (1.0×10^{-3}) تسلا احسب :-



- ١- القوة المتبادلة بين السلكين
- ٢- تيار الملف (A)

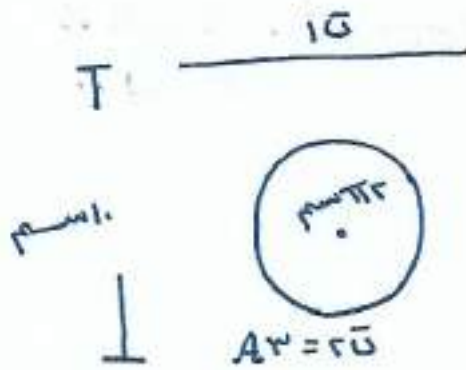
٥٦/ مثل الشكل المجاور سلكاً يحمل تيار (A) ومغزور في مجال مغناطيسي (1.0×10^{-5}) تسلا تتحرك شحنته نقطية مقدارها 1.0×10^{-6} كولوم نحو الشرق بسرعة (1.0×10^6) م/ث احسب مقدار التيار (A) الذي يجعل تلك الشحنة تتأثر بقوة مقدارها 1.0×10^{-6} نحو الجنوب عند مرورها بالنقطة (P)



الاستاذ: عمار السعود
ماجستير فيزياء

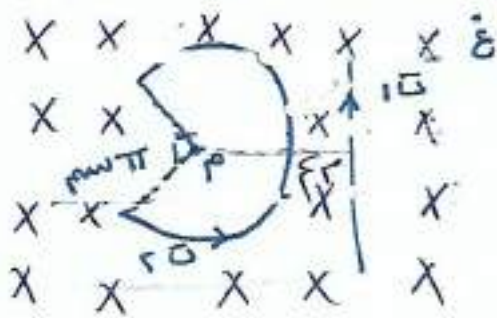
0787255846
عمان - مادبا

س/ يبين الشكل المجاور سلك مستقيم لانهائي وفي الطول يعرفه تيار (تأ) ويقع اسفله وفي نفس مستوى الصفحة ملف دائري نصف قطر (تأسم) وعدد لفاته (ع لفات) فاذا علمت ان القوة المغناطيسية المؤثرة في جسم شحنته (ع) يتحرك لسرعة $(1.0 \times 10^{-6} \text{ م/ث})$ لحظة مروره بمركز الملف (م) نحو اليمين كانت $(1.2 \times 10^{-6} \text{ ص})$ بالذات سعة بالمشكل وبياناته احسب (تأ)



س/ في الشكل المجاور اذا علمت ان قيمة (تأ = ١ أ) وقيمة (تأ = ٤ أ)

وقيمة المجال الخارجي (غ، 1.0×10^{-6}) سلك احسب القوة المغناطيسية المؤثرة في شحنته مقدارها (ع) لحظة مرورها بمركز الملف (م) لسرعة مقدارها $(1.0 \times 10^{-6} \text{ م/ث})$



الاستاذ: عمار السعور

ماجستير فيزياء

0787255846

عمان - مادبا

س/ ملف لولبي عدد لفاته (٢٥ لفة) لكل (اسم) من طوله يمر فيه تيار كهربائي مقدار (A1) لف حول وسطه ملف (خر) دائري مركزه (م) ينطبق على محور الملف اللولبي فاذا كان عدد لفات الملف الدائري (٤٠ لفة) و نصف قطره (٣٢ سم) و يمر فيه تيار (A٢) بنفس اتجاه التيار في الملف اللولبي كما في الشكل (حسب المجال المغناطيسي عند النقطة (٣))



س/ سلكان مستقيمان متوازيان لانهما في الطول وفي مستوى الصفائح. لهما تيارين (A٦ = A٦) ، (A٢) كما في الشكل (حسب مقدار واتجاه (A٢) ليصبح المجال عند النقطة (د) يساوي 1.0×10^{-5} تسلا \odot)



الاستاذ : عمار السور
ماجستير فيزياء

0787255846

عمان - مادبا

« امتحان في المجال المغناطيسي »

سؤال ٢٢ قارن بين المجال ل سلك يمر فيه تيار وهلف دائري وهلف لولبي من حيث

- ١- شكل المجال
- ٢- القانون والعوامل
- ٣- قاعدة اليد اليمنى

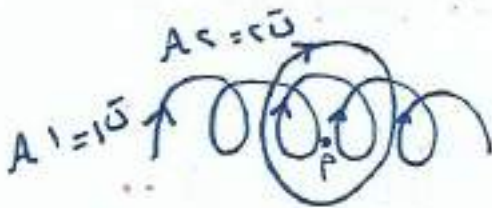
نق على كل ما يلي :-

- ١- القوة المغناطيسية لا تبذل شغل لنقل شحنته من مكان الى آخر
- ٢- خطوط المجال المغناطيسي لا تتقاطع
- ٣- حركة جسم مشحون داخل مجال منتظم حركة دائرية

سؤال ٢٣ قارن بين القوة الكهربائية و المغناطيسية من حيث :-

- ١- الشغل لنقل شحنته
- ٢- الاستخدام في المسارعات
- ٣- التأثير في الشحنت الناتية والمتحركة
- ٤- الزيادة في سرعة الجسم

سؤال ٢٤ ملف لولبي عدد لفاته (٢٥ لفة) لكل (١٢سم) من طوله يمر فيه تيار مقداره (١١) لف حول وسطه ملف دائري مركزه (٣) عدد لفاته (٤٠ لفة) ونصف قطره (١٢سم) ويمر فيه تيار مقداره (٤) احسب ما يلي :-

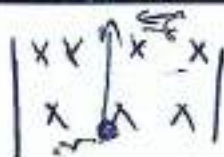


- ١- المجال عند النقطة (٣)
- ٢- القوة المغناطيسية المؤثرة في شحنة مقدارها (١٤) عند مرورها في المركز (٣) بسرعة مقدارها (١٠) م/ث
- شع الجنوب

الاستاذ: عمار السعور
ماجستير فيزياء

0787255846

عمان - مادبا



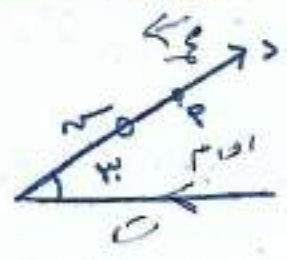
مغناطيس

هـ صفيحتان مشحونتان موضوعتان في مجال منتظم مقداره (2 تسلا) تحرك فيه جسم موصول الكلاك ومشحون لشحنه مقدارها HCl بسرعة 1.0×10^5 م/ث

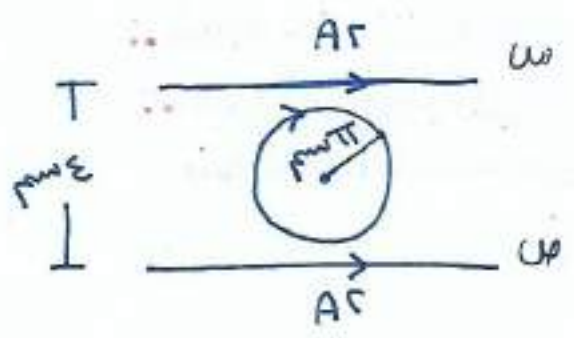
- 1- القوة المغناطيسية
 - 2- القوة الكهربائية
 - 3- مقدار تسارع الشحنة موجبة
 - 4- القوة لاصطبله وغازاته
- ماذا يحدث لو كانت الشحنة سالبة

س٢٣ سلك مستقيم لزاويتي الطول يحمل تيار (50 A) اذا تحرك جسم مشحون شحنة (4 nC) بزوايه 30° مع اتجاه التيار بسرعة مقدارها (1.0×10^5) م/ث

- 1- مقدار واتجاه المجال الناشئ عن السلك في النقطة (P)
- 2- مقدار القوة التي يؤثر فيها السلك في الجسم لحظة مروره في النقطة (P)



س٢٤ سلكين متوازيين لزاويتين في الطول يقعان في مستوى واحد وتعمل كل منهما تيار مقداره مقداره (A2) وضع في منتصف المسافة بينهما ملف دائري له (π) سم وعدد لفاته (10 الفه) كما هو في الشكل فاذا كان المجال المحصل في مركز الملف يساوي 1.0×10^{-3} تسلا احسب

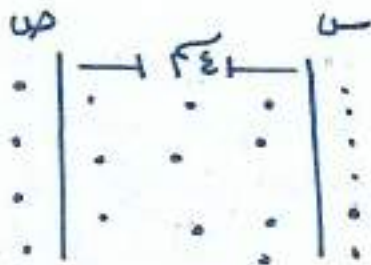


- 1- القوة المتبادله بين السلكين
- 2- تيار الملف الدائري

الاستاذ: عمار السعور
ماجستير فيزياء
0787255846
عمان - مادبا

سلكان مسقيمان لانهما في الطول يحمل كل منهما تيار (ت، ت) مغوران في

مجال مغناطيسي منتظم (10^{-4} T) تسلك اتزان السلكين احسب :-



- ١- مقدار كل من التيارين
- ٢- حددا اتجاه التيارين
- ٣- القوة المتبادلة بين السلكين
- ٤- القوة المغناطيسية المؤثرة في السلك
- س ل اسم من طوله

٥- علك :- تولد قوى مغناطيسية بين سلكين طويلين متوازيين يمر في كل منهما تيار I متساويا

الاستاذ : عمار السعور
ماجستير فيزياء

0787255846

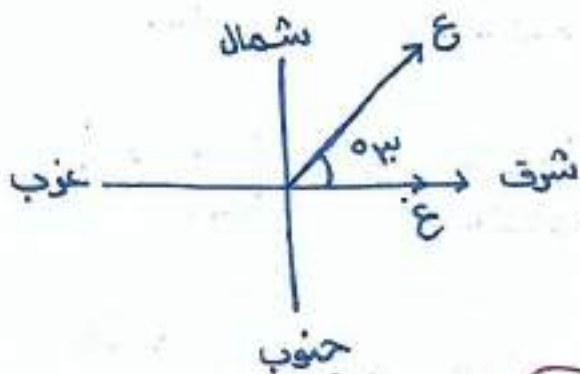
عمان - مادبا

الاستاذ: عمار السعود
 ماجستير فيزياء
 0787255846

حلول اسئلة الفصل الثالث

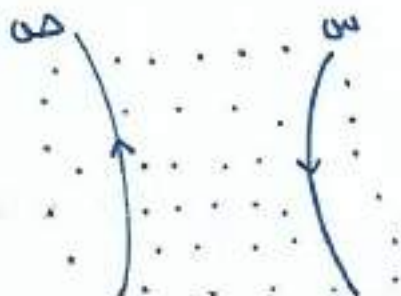
المجال المغناطيسي «:: عمان - مادبا ::»

س1- ا- حرك تدفقها عبر اي سطح مغلق لا يساوي صفر



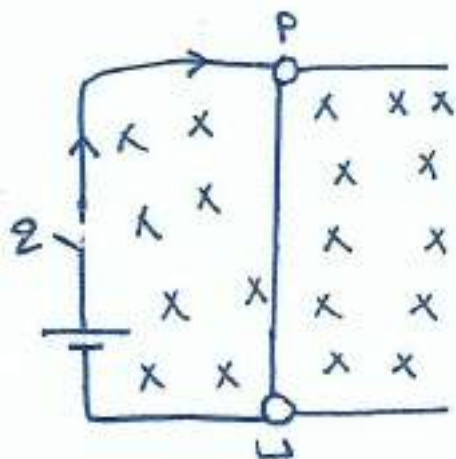
ب- $v = 2 \text{ m/s}$
 ج- $\theta = 30^\circ$ شمال شرق
 د- $\theta = 60^\circ$ شرق
 هـ- $\theta = 90^\circ$

و- $v = 2 \text{ m/s}$
 $\Phi = \vec{B} \cdot \vec{A} = B A \cos \theta = 0.2 \times 1 \times 1 \times \cos 60^\circ = 0.1 \text{ Wb}$




ز- س موجبة
 ح- موجبة
 الجواب (د) س، ص موجبات

س2- د) يتحرك في مسار دائري



هـ- اتجاه حركة الموصل (PQ) عند غلق المفتاح
 * عند غلق المفتاح يسري تيار في الموصل باتجاهه
 من P الى Q وبتطبيق قاعدة اليد اليمنى يتحرك
 نحو اليمين

الجواب :- (P) يتحرك نحو اليمين



$$+ \varepsilon = 1.0 \times 10^{-19} \text{ فولت}$$

$$- eV = 1.0 \times 10^{-19} \text{ فولت}$$

$$\theta = \text{زاوية}$$

$$\varepsilon = 10 + 20 = 30$$

$$\otimes \quad \frac{\varepsilon}{0} \times 1.0 \times 10^{-19} \text{ تسلا} = \frac{2 \times 10^{-19} \times \pi \times 1.0}{2 \times 10^{-19} \times \pi \times 1.0} = \frac{0.1 \text{ م}}{2 \times \pi \times 1.0}$$

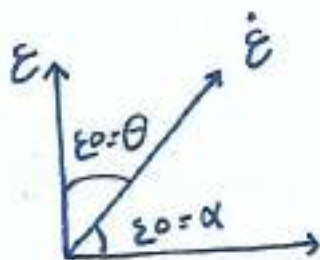
$$\odot \quad \frac{\varepsilon}{0} \times 1.0 \times 10^{-19} \text{ تسلا} = \frac{2 \times 10^{-19} \times \pi \times 1.0}{2 \times 10^{-19} \times \pi \times 1.0} = \frac{0.1 \text{ م}}{2 \times \pi \times 1.0}$$

$$0.1 \times \sqrt{\frac{32}{10}} = \sqrt{1.0 \times 10^{-19} \left(\frac{\varepsilon}{0}\right)^2 + \left(\frac{\varepsilon}{0}\right)^2} = \varepsilon$$

$$0.1 \times \frac{32}{10} =$$

$$\alpha = \frac{1}{3} = \frac{3}{10} = 0.3$$

$$= 1.0 \times 10^{-19} \times 1.0 \times 1.0 = 1.0 \times 10^{-19}$$



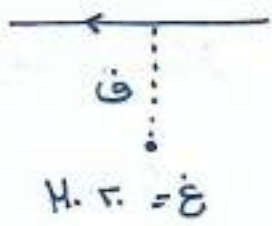
الأستاذ: عمار السعود
ماجستير فيزياء

0787255846
عمان-مادبا

$$A \epsilon = \bar{Q} \quad \text{٢٧}$$

$$M. r. = \bar{E} \quad \text{تسلك}$$

$$f = \bar{Q} \quad \text{؟؟}$$



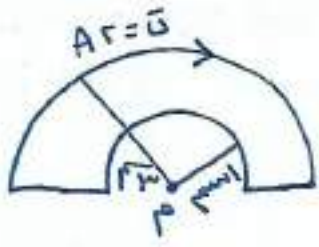
$$\frac{\bar{Q} M}{\pi r} = \bar{E} \text{ تسلك}$$

$$\frac{1}{\pi r} = f \leftarrow f = \frac{r}{\pi r} \leftarrow \frac{\int \bar{E} \times M}{\pi r} = M. r.$$

الجواب (د)

٢٨ يكون عزم الازدواج عند قمتها العظمى عندما يكون مستوى الملف موازي للمجال

الجواب (ب) موازي للمجال المغناطيسي



$$A r = \bar{Q} \quad \text{٢٩}$$

$$E = \bar{E} \text{ داخلي} + \bar{E} \text{ خارجي}$$

$$\frac{\text{لنات}}{\text{نقطة}} = \bar{E} \text{ داخلي}$$

$$r \times \frac{1}{r} \times \bar{Q} \times \pi \epsilon =$$

$$\text{تسلك} \quad \bar{Q} \times \pi r =$$

$$r - 1.0 \times 1 \times r$$

$$\text{تسلك} \quad \bar{Q} \times \frac{\pi r}{r} = \frac{r \times \frac{1}{r} \times \bar{Q} \times \pi \epsilon}{1.0 \times r \times r} = \bar{E} \text{ خارجي}$$

$$\bar{Q} \times \frac{\pi \epsilon}{r} = \bar{Q} \times \frac{\pi r}{r} = \bar{Q} \times \frac{\pi r \times r}{1 \times r} = \bar{E} \text{ د}$$

الجواب (ع)

الاستاذ: عمار لبيصور
 ماحسين فيزياء
 0787255846
 عمان- مادبا

س٣: باستخدام قاعدة اليد اليمنى

الاستاذ: عمار السعور
 ماحسبتر فيزياء
 0787255846
 عمان - مادبا

غرفة (١) ⊗ بعيداً عن الناظر

غرفة (٢) ⊙ نحو الناظر

غرفة (٣) ⊙ نحو الناظر

غرفة (٤) ⊗ بعيداً عن الناظر



س٤: لخطه غلق الدارة ليسري تيار في السلك كما هو موضح في الرسم وباستخدام قاعدة اليد اليمنى وباختيار ان التيار شاحنات هوجبة سوف يتكشى السلك لان القوة المغناطيسية المؤثرة فيه ستكون الى الداخل

- عند انعكاس اتجاه التيار سوف ينفرد السلك لان القوة المغناطيسية المؤثرة فيه ستكون للخارج



حلف دائري
 $n = 20$ لفه
 $l = 6$ سم
 $r = 12$ سم

س٥: حلف لولبي
 $n = 30$ لفه
 $l = 1$ سم
 $r = 1$ سم

$B = B_{\text{دائري}} + B_{\text{لولبي}}$

$$B_{\text{دائري}} = \frac{\mu_0 n I}{2r} = \frac{4\pi \times 10^{-7} \times 20 \times 1}{2 \times 0.12} = 1.05 \times 10^{-4} \text{ تسلا صفاً}$$

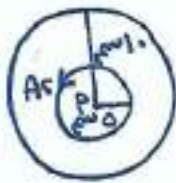
$$B_{\text{لولبي}} = \frac{\mu_0 n^2 I}{l} = \frac{4\pi \times 10^{-7} \times 30^2 \times 1}{1} = 1.13 \times 10^{-3} \text{ تسلا صفاً}$$

← تابع حل سؤال 5

$$P\mathcal{E} = \mathcal{E} \text{ دائري} + \mathcal{E} \text{ لولبي}$$

$$+ \text{ صا} \quad 0^{-} \times \pi \times 1.0 = (0^{-} \times \pi \times 1.0 -) + 0^{-} \times \pi \times 1.0$$

← لأنها على محور الضادات السالب



ملف داخلي
 $n = 1.0$
 $A_2 = C$

3
 $P\mathcal{E} = \text{صفر}$
 ملف خارجي
 $n = 2.0$ لفه
 $C = ??$

$$P\mathcal{E} = \mathcal{E} \text{ خارجي} + \mathcal{E} \text{ داخلي}$$

$$\text{صفر} = \mathcal{E} \text{ خارجي} + \mathcal{E} \text{ داخلي}$$

$$\frac{M \cdot n \cdot C}{r} = \frac{M \cdot n \cdot C}{r} -$$



$$\frac{M \cdot n \cdot C}{r} \times \frac{r \times 1.0}{r} - \frac{r \times 2.0}{r} \times C$$

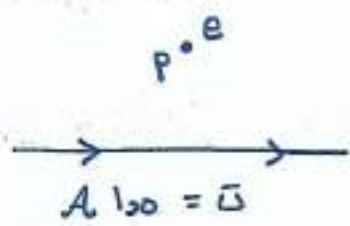
$$A \frac{v}{0} = C$$

$$\frac{v}{0} = C \frac{0}{0}$$

الاشارة السالبة تعني ان التيار
 المار في الملف الخارجي معاكس
 لاتجاه التيار في الملف الداخلي

الاستاذ: عمار السعود
 ماجستير فيزياء

0787255846
 عمان - ماديا

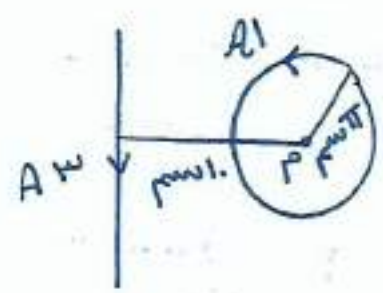


من: $A دوا = ت$
 $E = 1.0 \times 10^{-4} \text{ م} / \text{ث}^2$ (موازي للسلك)
 $\phi = 1.0 \text{ ا.م}$
 $C^{-19} \cdot 1.0 \times 10^{-6} = E \cdot \dots$
 $P \cdot E = \dots$

$P \cdot E = \dots$

⊙ $1.0 \times 10^{-7} \text{ ت.س.ك} = \frac{1.0 \times 10^{-7} \times \pi \epsilon}{1.0 \times 10^{-1} \times \pi r} = \frac{M \cdot T}{\pi r} = P \cdot E$

$9.0 \times 10^{-7} \times 1.0 \times 10^{-7} \times 1.0 \times 10^{-6} = P \cdot E$
 $+ \dots = \dots$



من: $A دوا = ت$
 $\phi = 1.0 \text{ ا.م}$
 ملف دائري
 $N = \dots$
 $\pi r = \dots$
 $A دوا = ت$

$P \cdot E = \dots + \dots$

⊗ $1.0 \times 10^{-7} \text{ ت.س.ك} = \frac{1.0 \times 10^{-7} \times \pi \epsilon}{1.0 \times 10^{-1} \times \pi r} = \frac{M \cdot T}{\pi r} = P \cdot E$

⊙ $1.0 \times 10^{-7} \text{ ت.س.ك} = \frac{1.0 \times 10^{-7} \times \pi \epsilon}{1.0 \times 10^{-1} \times \pi r} = \frac{M \cdot T}{\pi r} = P \cdot E$

الاستاذ: عمار السعود
 ماجستير فيزياء

0787255846
 عمان - مادبا

$P \cdot E = \dots + \dots$
 $(1.0 \times 10^{-7} \times \dots) + \dots = \dots$
 ⊗ $1.0 \times 10^{-7} \text{ ت.س.ك} = \dots$

$$\text{نسبة } \theta = \frac{r}{R} = \frac{70}{136} = \frac{1}{2}$$



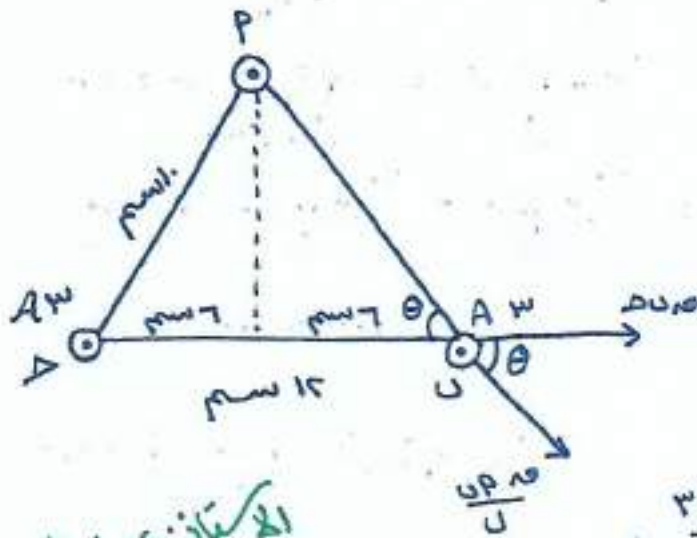
$$\text{مغ} = \text{مغ داخلي} + \text{مغ خارجي}$$

$$\text{مغ داخلي} = \frac{M_{\text{نقطة}}}{r} = \frac{r \times \frac{1}{r} \times \theta \times \pi \times \epsilon^2}{1 - 1 \times 1 \times 2} = \frac{r \times \frac{1}{r} \times \theta \times \pi \times \epsilon^2}{-2}$$

$$\text{مغ خارجي} = \frac{M_{\text{نقطة}}}{R} = \frac{r \times \frac{1}{r} \times \theta \times \pi \times \epsilon^2}{1 - 1 \times 1 \times 2}$$

$$\text{مغ} = \frac{\pi \times \epsilon^2}{2} = \left(\frac{r \times \frac{1}{r} \times \theta \times \pi \times \epsilon^2}{-2} \right) + \frac{\pi \times \epsilon^2}{2}$$

نتيجة / $\frac{u}{d}$



$$\frac{M_{\text{نقطة P}}}{\theta \pi r} = \frac{u \cdot r}{d}$$

$$= \frac{r \times \frac{1}{r} \times \theta \times \pi \times \epsilon^2}{1 - 1 \times 1 \times 2}$$

$$= \frac{u \cdot r}{d} \times \frac{1}{2} = \frac{u \cdot r}{2d}$$

$$\frac{M_{\text{نقطة P}}}{\theta \pi r} = \frac{u \cdot r}{d} = \frac{r \times \frac{1}{r} \times \theta \times \pi \times \epsilon^2}{1 - 1 \times 1 \times 2}$$

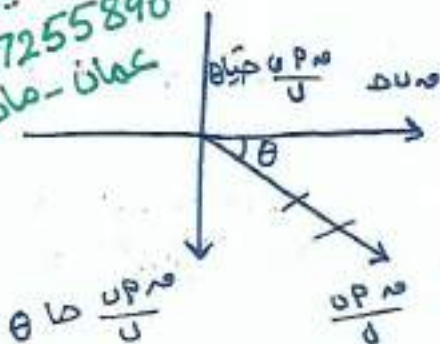
$$= \frac{u \cdot r}{d} \times \frac{1}{2}$$

$$\frac{u \cdot r}{d} + \frac{u \cdot r}{d} = 3 \cdot \frac{u \cdot r}{d}$$

$$= \frac{u \cdot r}{d} \times \frac{1}{2} + \frac{u \cdot r}{d} = \frac{u \cdot r}{d}$$

$$= \frac{u \cdot r}{d} \times \frac{1}{2} = \frac{u \cdot r}{2d}$$

الأستاذ: عماد السعود
ماجستير فيزياء
0787255846
عمان - مادبا

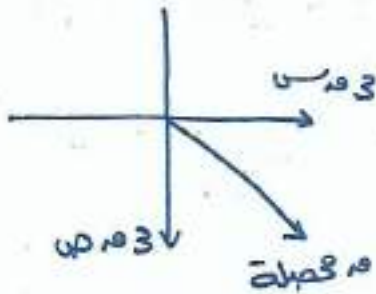


$$\frac{N}{P} \cdot \bar{I} \cdot x_{2,8,8} = \frac{7}{1} \cdot \bar{I} \cdot x_{8,8} = \theta \text{ ما } \frac{4,8}{J} = 3,8$$

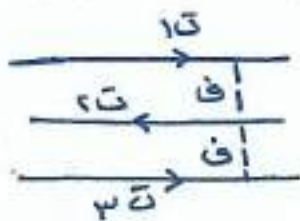
$$\sqrt{\bar{I} \cdot x_{(2,8,8)} + \bar{I} \cdot x_{(0,3,4)}} = \text{محصلة}$$

$$\frac{N}{P} \cdot \bar{I} \cdot x_7 = \sqrt{\bar{I} \cdot x_{3,6}} \text{ ك}$$

$$\frac{\bar{I} \cdot x_{2,8,8}}{\bar{I} \cdot x_{0,3,4}} \cdot \bar{I} = \frac{3}{3} \cdot \bar{I} = \theta$$



$$3,8 + 2,8 = \frac{1,8}{J} \text{ !!}$$



$$\frac{2,8 \cdot M}{\pi r} \text{ تجاذب (ص2)}$$

$$\frac{\sqrt{\bar{I} \cdot x_{2,8,8}}}{f} = \frac{2,8 \cdot M \cdot \sqrt{\bar{I} \cdot x_{2,8,8}}}{\pi r}$$

$$\frac{\sqrt{\bar{I} \cdot x_{3,6}}}{f} = \frac{3,8 \cdot M}{(\pi r)}$$

$$\sqrt{\bar{I} \cdot x_{2,8,8}} = \frac{\sqrt{\bar{I} \cdot x_{3,6}}}{f} = \frac{1,8}{J}$$

$$3,8 + 1,8 = \frac{2,8}{J}$$

الإستاذ: عماد السعور
ماجستير فيزياء

0787255846

عمان - مادبا

$$\frac{2,8 \cdot M}{\pi r} \text{ تجاذب ص2}$$

$$\frac{3,8 \cdot M}{\pi r} \text{ تناظر ص2}$$

$$3,8 + 3,8 = \frac{2,8}{J} = \text{صفر}$$

$$\frac{\sqrt{\bar{I} \cdot x_{2,8,8}}}{f} + \frac{\sqrt{\bar{I} \cdot x_{3,6}}}{f} = \frac{3,8}{J}$$

$$\frac{\sqrt{\bar{I} \cdot x_{2,8,8}}}{f} =$$