

مكتبة

الاصالة

حسب المنهاج الجديد

العلم والحاسوب

شادي النابلسي

٠٧٨٩٩٩٦٤٦٧

الاماكن التي يدرس فيها الاستاذ شادي النابلسي

مركز الابداع (جبل النضر)

مدرسة اسيا الدولية (معلم حاسوب)

مركز الحارون والعبد اللات (ام نورة)

مدرسة الهدايا الاسلامية (معلم رياضيات)

مركز احمد المصري (جبل الحسين)

الجامعة الهاشمية (محاضرات مهارات الحاسوب)

مركز الحارون والعبد اللات (الهاشمي الشمالي)

مركز النابلسي (موار المدينة)

مركز الاعتماد (الزرقاء)

مركز ريناس (طبربور)


مركز رؤيا النجاح (المنارة + فرع ام نورة)

مركز اللحام (الهاشمي الشمالي)

مركز اشرف النصور (السلط)

مركز مربي الكمال (الدوار الثالث)

ترقبوا حوسبة الرياضيات للفرع الاحدي بأسلوب جديد يختلف عن باقي المعلمين



الوحدة الأولى "نظمة العدد"

تنبه ركن فقط على هذا المكتشف وسوف تعرفن علامة ما عليه

حدد اسم النظام في كلا ما يلي : (نظام ثنائي / ثنائي / عشري / سادس عشر) ؟

تعريف النظام	اسم النظام	الإجابة
النظام الذي يستخدم رمزين فقط	النظام الثنائي
النظام الذي يستخدم 8 رموز	النظام الثماني
النظام الذي يستخدم 10 رموز	النظام العشري
النظام الذي يستخدم 16 رمز	نظام السداس عشر

أي من الأنظمة التالية هو الأكثر استعمالاً من قبل الإنسان :

(أ) النظام الثنائي (ب) النظام الثماني (ج) النظام العشري (د) نظام السداس عشر . الجواب : النظام العشري .



النظام العشري :- هو أكثر أنظمة العدد استعمالاً من قبل الإنسان

علل :- أساساً النظام العشري هو ١٥ ؟

اسم النظام	أساس النظام	رموزه
النظام الثنائي	2	0, 1
النظام الثماني	8	0, 1, 2, 3, 4, 5, 6, 7
النظام العشري	10	0, 1, 2, 3, 4, 5, 6, 7, 8, 9
النظام السداس عشر	16	0, 1, 2, 3, 4, 5, 6, 7, 8, 9, A, B, C, D, E, F

ملاحظة : ان اي اسم وأساس أي نظام = عدد الرموز المستخدمة لتمثيل الأعداد فيه .

ما هي القوى التي تمثل الأعداد بواسطتها بالنظام العشري ؟ الجواب قوى الأساس (10) .

5
10 =
10 =
10 =
10 =

ترتيب الخانة (المنزلة)	0	1	2	3	...
اسم الخانة	الأحاد	العشرات	المئات	الآلاف	عشرات الآلاف
أوزان الخانات بواسطة قوى الأساس (10)	10^0	10^1	10^2	10^3	10^4
أوزان الخانات بالأعداد الصحيحة	1	10	100	1000	10000

وزن الخانة الثالثة بواسطة قوى الأساس 10 هو :	(أ) 10^0 (ب) 10^1 (ج) 10^2 (د) 10^3
وزن الخانة السادسة بواسطة قوى الأساس 10 هو :	(أ) 10^5 (ب) 10^6 (ج) 10^7 (د) 6
وزن الخانة الثالثة بالأعداد الصحيحة بواسطة قوى الأساس 10 هو :	(أ) 1 (ب) 10 (ج) 100 (د) 1000

ما تهلكو لهم

الاكاديمي في علوم الحاسوب ← العلامة الكاملة 100 / 100 → لجميع التخصصات

٠٧٨٩٩٩٦٤٦٧

إعداد الأستاذ شادي النابلسي

هو هونغ - هم انبه وزارتي

10^2	10^1	10^0	اوزان الخانة
$10^2 * 3$	$10^1 * 6$	$10^0 * 5$	365

مثلا العدد 365 يمثل كما يلي في النظام العشري حسب وزنة الخانة كما يلي :

أكمل الفراغ في الجدول التالي :

العدد	ما قيمة وزن الخانة في بواسطة القوى 10	قيمة العدد (الخانة) بالاعداد الصحيحة
الرقم 3 في العدد 453	10^0	$3 * 10^0$
الرقم 4 في العدد 1342	10^1	$4 * 10^1$
الرقم 6 في العدد 1683	10^2	$6 * 10^2$
الرقم 9 في العدد 9589	10^3	$9 * 10^3$

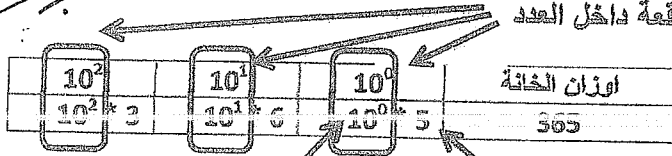
وزارة 2013 شتوي : قيمة الرقم 5 في العدد 5231 هو : (أ) 5 (ب) 50 (ج) 500 (د) 5000
 وزارة 2013 صيفي : قيمة الرقم 3 في العدد 1372 هو : (أ) 3 (ب) 30 (ج) 300 (د) 3000

وزارة 2018 الدورة الشتوية من 2 فرع أ فرع 1 (3 علامات) :

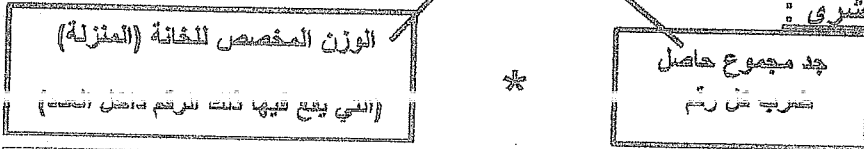
س2: متى يسمى نظام العد (موضعيًا) أو لماذا يعتبر النظام العشري من أحد أنظمة العد الموضوعية :

(أ) لأن القيمة الحقيقية للرقم تعتمد على الخانة (أو المنزلة) التي يقع فيها ذلك الرقم داخل العدد
 (ب) مما يعني أن قيمة أي رقم تختلف باختلاف موقعة داخل العدد

Shadi
AL-Nabisi



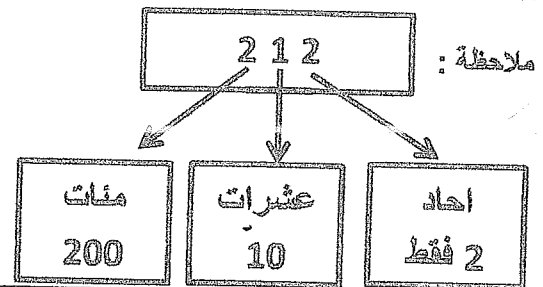
قاعدة (1) : اكتب قاعدة ايجاد قيمة العدد في النظام العشري :



ترتيب الخانة (المنزلة)	0	1	2
اسم الخانة	الأحاد	العشرات	المئات
تمثيل العدد	10^0	10^1	10^2
اوزان الخانات بقوى الأساس (10)			

مثال (1) تصور (جد) قيمة العدد 212 في النظام العشري :

الحل : نطبق القاعدة (1) اعلاه



$$\begin{aligned} & 10^2 * 2 + 10^1 * 1 + 10^0 * 2 = \text{علامة} \\ & 100 * 2 + 10 * 1 + 1 * 2 = \text{علامة} \\ & 200 + 10 + 2 = \text{علامة} \\ & (212)_{10} \end{aligned}$$

81 ✓

7 ✓

تطور الاحوار العالية في النظام العشري ؟
 26532 ✓ 37 ✓

صفحة رقم (٦)

لا يجوز ان نهدت لكل حسابات الاستعداد الجميلة حصلت لانه ناه

الأكاديمي في علوم الحاسوب ← العلامة الكاملة ١٥٠ / ١٥٠ → لجميع التخصصات

٠٧٨٩٩٩٦٤٦٧

إعداد الأستاذ شادي النابلسي

علاء علامه وزارية

Shadi
Al-Nabisi

التحويل بين الأنظمة العددية

أولاً :- والتحويل من عشري ← ثانياً
← ثانياً
← مائة وستة

(35)_{١٥} ✓

(520)_{١٥} ✓

(100)_{١٥} ✓

(1031)_{١٥} ✓



التحويل من ثنائي الى ← عشري
← ثنائي
← ماسد عشري

(110101)₂ ✓

(11111)₂ ✓

(11000111)₂ ✓

(101111101)₂ ✓

التحويل من ثنائي ← عشري
← ثنائي
← مائة عشري

$(71)_8$ ✓

$(77)_8$ ✓

$(131)_8$ ✓

$(752)_8$ ✓



الأكاديمي في علوم الحاسوب ← العلامة الكاملة ١٥٠ / ١٥٠ → لجميع التخصصات

٠٧٨٩٩٩٦٤٦٧

إعداد الأستاذ شادي النابلسي

لا تنسى

التحويل هنا مادي عشر الى ← عشري
← ثنائي
← ثماني

$$A = 10$$

$$B = 11$$

$$C = 12$$

$$D = 13$$

$$E = 14$$

$$F = 15$$

$(AB)_{16}$ ✓

$(5A)_{16}$ ✓

جيجي برشلوني → متوقع ١١ ✓ $(FCB)_{16}$ ✓

$(F53)_{16}$ ✓

العمليات الحسابية

$$\begin{array}{r} 1111 \\ 0011 \\ 0001 \\ 0011 \\ \hline \end{array} +$$

$$\begin{array}{r} 111 \\ 101 \\ \hline \end{array} + \text{المجموع}$$

جد حاصل الجمع $(15)_{10} + (10111)_2$

$$\begin{array}{r} 11111 \\ 00111 \\ 00001 \\ \hline \end{array} -$$

$$\begin{array}{r} 111 \\ 001 \\ \hline \end{array} -$$

$$\begin{array}{r} 1111 \\ 0011 \\ \hline \end{array} - \text{الفرق}$$

جد حاصل الفرق $(11111)_2 - (1101)_2$

$$\begin{array}{r} 111 \\ 001 \times \\ \hline \end{array}$$

$$\begin{array}{r} 111 \\ 111 \times \\ \hline \end{array}$$

$$\begin{array}{r} 111 \\ 101 \times \\ \hline \end{array} \text{الضرب}$$

$$(1111)_2 = (F)_{16} \checkmark$$

هل العبارتان التاليتان صحيحة أم لا

$$(30)_{10} > (15)_{10} \checkmark$$

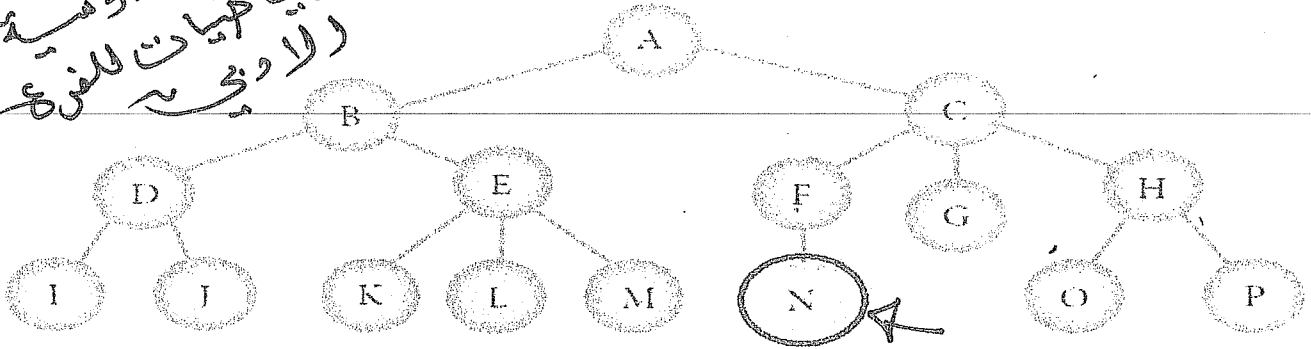
$$(25)_8 = (11101)_2 \checkmark$$

$$(AB)_{16} < (72)_{16} \checkmark$$

Shadi
Teacher
Signed:

تقريباً دوامية
الرياضيات للفرع
الادبي

مثال (١) تأمل الشكل (٤) (٢٢). ثم أجب عن الأسئلة التي تليه:



الشكل (٢) (٢٢): مثال عن شجرة بحث.

(أ) عدد حالات فضاء البحث التي تمثلها الشجرة. الجواب بالترتيب من المستوى الأول للأخير ويفضل بينهم فاصلة

(A, B, C, D, E, F, G, H, I, J, K, L, M, N, O, P)

(ب) ما الحالة الابتدائية للشجرة؟ الجواب: A ← ففضلي التي (ج) ما جذر الشجرة؟ الجواب: A

(د) أذكر مثالين فقط علم نقاط تحتوي علم علاقة (الأب - الأبناء)؟

النقطة (A) هي أب للنقاط (B, C) أو بصيغة أخرى النقطة (A) هي أب للنقطة (B) والنقطة (A) هي أب للنقطة (C)

النقطة (B) هي أب للنقاط (D, E) أو بصيغة أخرى النقطة (B) هي أب للنقطة (D) والنقطة (B) هي أب للنقطة (E)

اذكر مثالاً على ٣ مسارات من اختيارك

كم عدد النقاط الميتة

تأمل الشكل المجاور ثم أجب عما يلي:

شجرة البحث

(أ) كم عدد حالات الفضاء التي تمثلها هذه الشجرة؟

الجواب: 11 وهي (A-B-C-D-E-F-G-H-I-J-K)

تأمل الشكل الآتي. ثم أجب عن الأسئلة التي تليه:

(ب) ما الحالة الابتدائية للمشكلة؟ الجواب: A

(ج) ما جذر الشجرة؟ الجواب: A

(د) عدد أمثلة على نقاط تحتوي على علاقة (الأب - الأبناء)

النقطة (A) هي أب للنقاط (B, C)

النقطة (B) هي أب للنقاط (D, E)

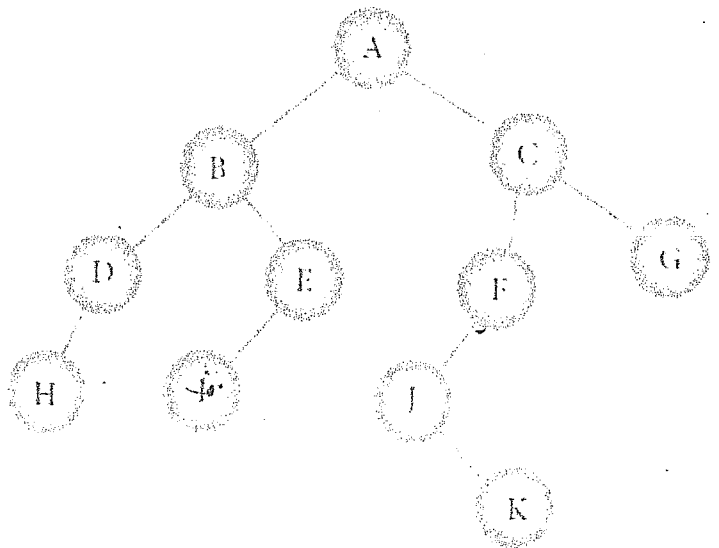
النقطة (C) هي أب للنقاط (F, G) وغيرها

(هـ) ما المسار بين النقطتين (B) و (H)؟

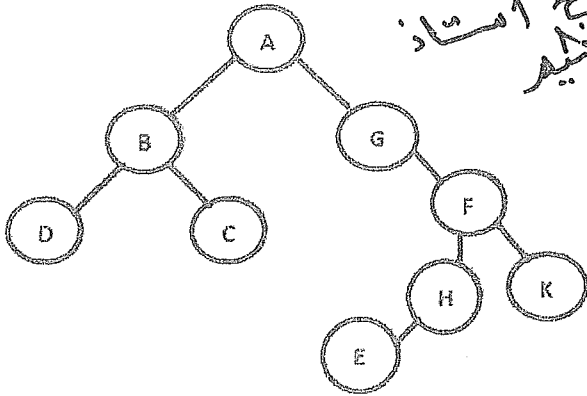
الجواب: B-D-H

(و) عدد النقاط الميتة في الشجرة المجاورة؟

الجواب: H, I, K, G



وراء أبا حالبيا
فانج استاد
عزيب



وزارة 2018 شتوي س5 فرع ج (5 علامات)

ادرس الشكل التجاوز ثم اجب عن الأسئلة التالية :

(1) كم عدد حالات فضاء البحث في الشجرة ؟

الجواب : 9 هي (A, B, G, D, C, F, H, K, E)

كم عدد حالات الفضاء مع ذكرها في المستوى الثالث ؟

الجواب : 3 هي D, C, F

(2) ما هو جذر الشجرة ؟ الجواب : A

(3) كم عدد النقاط الميتة في الشجرة ؟

الجواب : 4 هي (D, C, E, K)

B, C, D, E في
المستوى الثاني

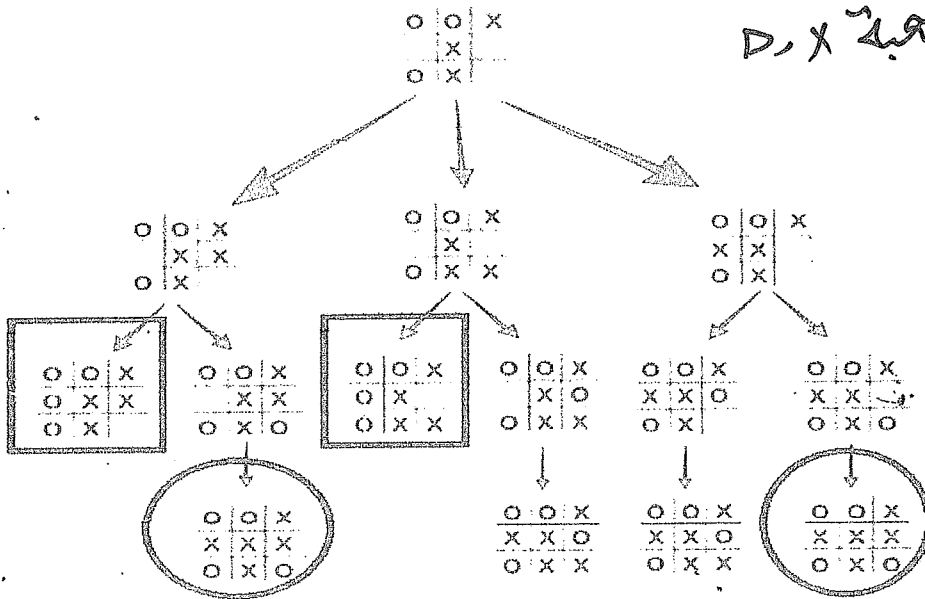
ارسم شجرة البحث كما يلي
النقطة (A) هي جذر الشجرة والنقاط

النقطة M هي ابن ل
النقاط D و X تم ابناء ل E
النقاط D و C نقاط ميتة

مثال (3) تأمل الشكل (2-23). ثم اجب عن الأسئلة التي تليه:

علما بأن هذا الشكل جزء من شجرة بحث للعبة (X O) بين لاعبين، ويقوم اللاعبان باللعب بالتناوب؛ حيث يقود اللاعب الأول (الحاسوب) بوضع الحرف (X)، واللاعب الثاني (المستخدم) بوضع الحرف (O).

لعبة X, O



(1) ما النقطة التي يمثل جذر الشجرة ؟

الجواب : النقطة (A)

(2) كم عدد حالات فضاء البحث مع ذكرها ؟

الجواب : 14 وهي :

(A, B, C, D, E, F, G, H, I, J, K, L, M, N)

(3) أذكر مثال على أي مسار من 4 حالات فضاء

على الأقل ؟ الجواب : A-B-F-K

(4) ما عدد النقاط الميتة ؟ الجواب : 6 وهي :

E, K, G, L, M, N

(5) ما الحالة الهدف في هذه الحالة؟ ولماذا ؟

الحالة الهدف هي الحالة التي تمثل الفوز باللعبة

وهي :

(أ) النقاط (K, N) تمثل فوز الحاسوب

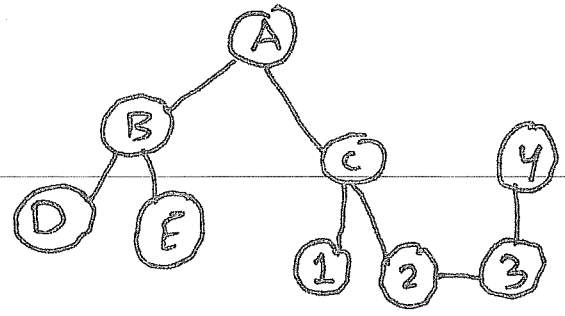
(ب) النقاط (E, G) تمثل حالة الفوز للمستخدم

صفحة رقم (9)

لا يجوز ان تهت لكل حكايات السبب به، جميعه حصلت لانه ناه

٠٧٨٩٩٩٦٤٦٧

✓ اذكر حالات فناء البحث



✓ اذكر مثال على مسار

✓ اذكر عدد العقد

✓ اذكر رقم الحالة الابتدائية

✓ باستخدام الخوارزمية الجشعية جه المسار للوصول الى [3]

✓ البحث في العتق اولاً جه المسار للوصول الى [4]

التشفير " كيف تعمل حجاب "

زغ زغ

شحن ولغنا I Love my Country

I		l		v		v		c		n		t		y

(5) ضع مثلث مقلوب بدلاً للفراغ ▽ في الفراغ الأخير علل؟ الجواب: حتى تكون جميع الأطوال متساوية

I		l		v		y		c		u		t		y

و خانات

و خانات

(6) اكتب النص المشفر:

المسطر الاول المسطر الثاني

Ilv_ycuty_oem_onr

Ilv_ycuty_oem_onr

الان تلغى المثلثات

النص النهائي المشفر

الاكاديمي في علوم الحاسوب ← العلامة الكاملة ١٥٠ / ١٥٠ لجميع التخصصات

٠٧٨٩٩٩٦٤٦٧

إعداد الأستاذ شادي النابلسي

1 Stop thinking about your past mistakes.

2 Never give up on your goals.

مفتاح التشفير أربعة أسطر.

مفتاح التشفير ثلاثة أسطر.

شفر مابلي

Stop thinking about your past mistakes

Stop thinking about your past mistakes

حل فرع 1 اعلاه :

(1) نضع مثلث مقلوب مكان كل فراغ

(2) انشئ جدول مكون من 4 أسطر (مفتاح التشفير المعطى في السؤال) ووزع الاحرف باتجاه قطري وضع مثلث مقلوب مكان اخر فراغ ليتساوى عدد الاطوال (كل سطر 10 خانات)

S		n		g		o		y		t		s		e					
	t		t		k			u		o		p		t		s			
		o		h		i		a		t		u		a		m		a	
			p		i		n		b			r		s		i		k	

السطر الاول

السطر الثاني

السطر الثالث

السطر الرابع

النص المشفر

S ngoy tsettk uop tsohiatuama pinb rsik

S ngoy tsettk uop tsohiatuama pinb rsik

الان تلمي المثلثات

النص النهائي المشفر

Never give up on your goals

Never give up on your goals

حل فرع 2 اعلاه :

(1) نضع مثلث مقلوب مكان كل فراغ

(2) انشئ جدول مكون من 3 أسطر (مفتاح التشفير المعطى في السؤال) ووزع الاحرف باتجاه قطري وضع مثلث مقلوب مكان اخر فراغ ليتساوى عدد الاطوال (كل سطر 10 خانات)

N		e		g		e		p		n		o			a				
	e		r		i							u		g		i			
		v			v		u		o			r		o		s			

السطر الاول

السطر الثاني

السطر الثالث

Negepno eri ugi vuoyros

النص المشفر

Negepno eri

ugi vuoyros

ان المثلثات

وزارة شتوي 2018 (6 علامات)

من خلال دراستك لدرس وحدة أمن المعلومات والتشفير شفر النص الاتي مستخدما خوارزمية (الخط المتعرج) علما بان مفتاح التشفير سطران .

LOST MY CHARGER

الحل: انشئ جدول مكون من سطران (مفتاح التشفير المعطى في السؤال) ووزع الاحرف باتجاه قطري وضع مثلث مقلوب مكان اخر فراغ ليتساوى عدد الاطوال (كل سطر 9 خانات)

I	L	S		Y		C	A	G	R	
			O	T	M		H	R	E	

الان نلقى المثلثات

ILS YCAGR OTM HRE

النص المشفر

ILS YCAGR OTM HRE

النص النهائي المشفر

خریباً دوسیه وریا حنیات للفرع والادبی

والأستاذ شادي النابلسي
هذا جلاب ...
منه فتح

1) جد النص الاصيل للنص المشفر الاتي (أو 2) فك التشفير الاتي

مثال (3) : جد النص الاصيل للنص المشفر الاتي ، علما بان مفتاح التشفير سطران .

ILv ycuty oem onr

ILv ycuty oem onr

الحل : أ) املأ الفراغات بمثلث مقلوب :

ب) قسم النص المشفر الى جزأين ، لان مفتاح التشفير سطران (اذا كان الناتج عددا كسريا نقربه الى اقرب عدد صحيح اكبر منه)
الناتج 8.5 عدد صحيح نقربه الى العدد 9 ومن ثم ، فان الجزء الأول (السطر الاول) يتكون من 9 رموز

oem onr

السطر الثاني :

ILv ycuty

السطر الاول

17
2

ILv ycuty	الجزء الاول
oem onr	الجزء الثاني

I love my country الان نلقى المثلثات

I love my country

النص الاصيل

مثال (4) : جد النص الأصلي للنص المشفر الآتي باستخدام خوارزمية الخط المتعرج ، علما بان مفتاح التشفير هو 5 أسطر .

Spiheayaa|toviakopl|fasesreupleyi ▽ ▽ ▽ s ▽ y ▽ ▽ ▽ ttym ▽ h ▽ l ▽

الحل : (أ) قسم النص المشفر الى اجزاء اعتمادا على عدد الاسطر (مفتاح التشفير)

لتحديد عدد الاحرف في كل جزء مجموع احرف النص المشفر (بما فيها الفراغات) ← $\frac{50}{5}$ الناتج 10 احرف في كل سطر عدد الاسطر (الاجزاء)

S	p	i	h	e	a	y	a	a	i	السطر الأول
t	o	v	i	a	k	o	p	l	f	السطر الثاني
a	s	e	s	r	e	u	p	l	e	السطر الثالث
y	i	▽	▽	▽	s	▽	y	▽	▽	السطر الرابع
▽	t	t	y	m	▽	h	▽	l	▽	السطر الخامس

(ب) يؤخذ الحرف الاول من كل جزء : الحرف S من الجزء الاول والحرف t من الجزء الثاني و h من الجزء الثالث و y من الرابع والمثلث المقلوب من الخامس ونضمها لبعض وهكذا

Stay ▽ positive ▽ this ▽ year ▽ makes ▽ you ▽ happy ▽ all ▽ life

Stay positive this year makes you happy all life النص الأصلي :

وزارة شتوي 2018 (6 كلمات) من خلال دراستك لدرس وحدة أمن المعلومات والتشفير (فك التشفير) للنص الآتي مستخدما خوارزمية (الخط المتعرج) علما بان مفتاح التشفير 4 اسطر

T ▽ U O O P S A A T U W L ▽ L B ▽ R N A ▽ K O Y ▽ ▽ N ▽

T	U	O	O	P	S	السطر الاول
A	A	T	U	W	L	السطر الثاني
L	B	▽	R	N	A	السطر الثالث
K	O	Y	▽	N	▽	السطر الرابع

الحل :

الناتج 7 حروف في كل سطر

$\frac{28}{4}$

TALK ▽ ABOUT ▽ YOUR ▽ OUR ▽ OWN ▽ PLANS ▽ ▽ ▽
TALK ABOUT YOUR OUR OWN PLANS

الان نلغي المثلثات

النص الأصلي بعد فك التشفير

نشاط (٤ - ٣): فك التشفير باستخدام خوارزمية الخط المتعرج.

بالتعاون مع أفراد مجموعتك، فك تشفير النصوص الآتية باستخدام خوارزمية الخط المتعرج.

1. B i e n o ▽ i t s e e ▽ ▽ u a l i ▽ l v i y r b i e ▽.

علمًا بأن مفتاح التشفير ثلاثة أسطر.

2. E o t e r k o d n h m o n ▽ u ▽ e e m e l c i ▽ n ▽ s i a s m t d s g t ▽ o ▽ a ▽ h ▽ i v f r t t.

مفتاح التشفير سبعة أسطر.

B	i	e	n	o	▽	i	t	s	السطر الأول
e	e	▽	▽	u	a	l	i	▽	السطر الثاني
L	v	i	y	r	b	i	e	▽	السطر الثالث

حل فرع 1:

27
3

عدد الحروف
عدد الأسطر

النتيجة 9 حروف في كل سطر

Believe in your abilities

الآن نفي المثلثات

Believe in your abilities

النص الأصلي بعد فك التشفير

E o t e r k o d n h m o n ▽ u ▽ e e m e l c i ▽ n ▽ s i a s m t d s g t ▽ o ▽ a ▽ h ▽ i v f r t t.

حل فرع 2:

49
7

عدد الحروف
عدد الأسطر

النتيجة 7 حروف في كل سطر

E	o	t	e	r	k	o	السطر الأول
d	n	h	m	o	n	▽	السطر الثاني
u	▽	e	e	m	e	l	السطر الثالث
c	i	▽	n	▽	s	i	السطر الرابع
a	s	m	t	d	s	g	السطر الخامس
t	▽	o	▽	a	▽	h	السطر السادس
i	▽	v	f	r	t	t	السطر السابع

Education ▽ is ▽ the ▽ movement ▽ from ▽ darkness ▽ to ▽ light

الآن نفي المثلثات

Education is the movement from darkness to light

النص الأصلي بعد فك التشفير

9) فك تشفير النص الآتي مستخدماً خوارزمية الخط المتعرج Zig zag، علماً بأن مفتاح التشفير 10 أسطر.

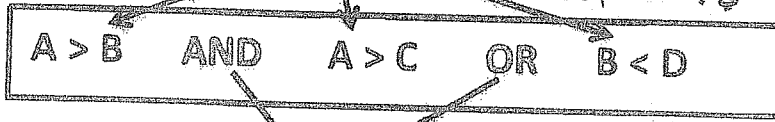
النص المشفر:

T n r ▽ ▽ o ▽ e i c ▽ t ▽ n d b h w v u r e c c c i ▽ ▽ s a g f m t t h u u ▽ i t s i o e u t n n

" الوحدة الأخيرة " هي آخر فحة سي رح فليها جملته


عرف كلا مما يلي مع ذكر مثال :

- (1) التعبير العلائقي : هو جملة خبرية يكون ناتجها إما صواب (1) أو خطأ (0) وتكتب هذه التعبيرات باستخدام عمليات المقارنة ($<$, $>$, \leq , \geq , $=$, \neq , $=$) مثال : $A < 4$, $3 > 2$, $A \geq B$
- (2) المعامل المنطقي : هو رابط يستخدم للربط بين تعبيرين علائقيين أو أكثر لتكوين عبارة منطقية مركبة ومن أهمها : And , OR او نفي التعبير المنطقي باستخدام Not .



رابط

تعبيرين علائقيين أو أكثر



يربط بينهم معاملات منطقية

(3) العبارة المنطقية المركبة :

هي جملة خبرية تتكون من تعبيرين علائقيين أو أكثر ، يربط بينها معاملات منطقية (And , Or) وتكون قيمتها إما صواب (1) وإما خطأ (0) .

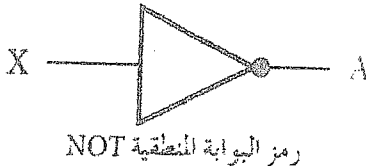
حدد تعريف كلا مما يلي (التعبير العلائقي / المعامل المنطقي / العبارة المنطقية المركبة) في الجمل التالية :

- (1) هو جملة خبرية يكون ناتجها إما صواب (1) أو خطأ (0) وتكتب هذه التعبيرات باستخدام عمليات المقارنة ($<$, $>$, \leq , \geq , $=$, \neq , $=$) . الجواب : ()
- (2) هو رابط يستخدم للربط بين تعبيرين علائقيين أو أكثر لتكوين عبارة منطقية مركبة . ()
- (3) هي جملة خبرية تتكون من تعبيرين علائقيين أو أكثر يربط بينها معاملات منطقية (And , Or) وتكون قيمتها إما صواب (1) وإما خطأ (0) . ()

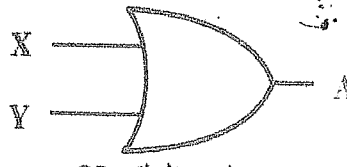
Teacher Shadi AL-Nabisi 0789996467

(1) البوابة المنطقية : هي دائرة إلكترونية بسيطة ، تقوم بعملية منطقية على مدخل واحد أو أكثر وتنتج مخرجا منطقيا واحدا

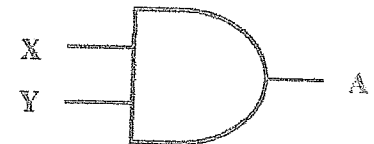
(2) أنواع البوابات المنطقية الأساسية مع رسمها كلاً منها : Not (3) OR (2) And(1)



رمز البوابة المنطقية NOT


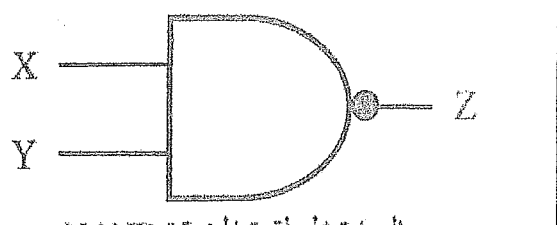

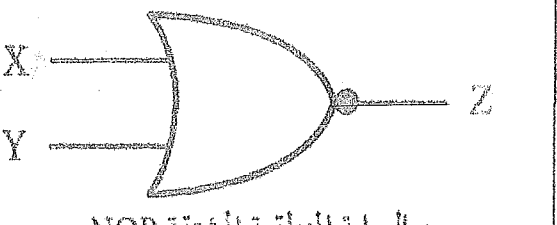


رمز البوابة المنطقية OR

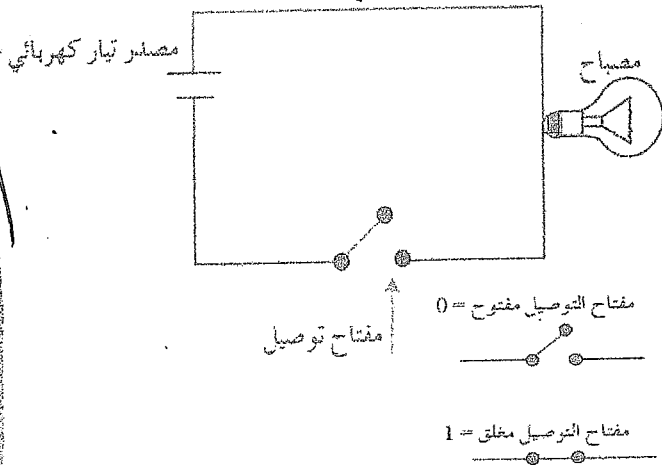


رمز البوابة المنطقية AND

3) اذكر أنواع البوابة المنطقية المشتقة وارسم كلا منها : (أ) Nand (ب) (Not And) Nor (Not OR)

اسم البوابة	رسم البوابة المنطقية باستخدام البوابات المنطقية الأساسية	رسم البوابة المنطقية المشتقة
<u>Nand</u> <u>Not</u> <u>(And)</u>	 تمثيل NAND باستخدام البوابات المنطقية الأساسية	 رمز البوابة المنطقية المشتقة NAND
<u>NOR</u> <u>(Not OR)</u>	 تمثيل NOR باستخدام البوابات المنطقية الأساسية	 رمز البوابة المنطقية المشتقة NOR

مثال : أقرب مثال على مدخلات تعتمد على الصواب 1 أو الخطأ 0 والذي يتحكم بالمخرجات ؟
الجواب : الدارة الكهربائية البسيطة التي تحتوي على مصباحا كهربائيا ومفتاح توصيل
أ) عند إغلاق مفتاح توصيل الدارة: يضيء المصباح وتمثل بالرمز الثنائي (1) (مغلق)
ب) عند فتح مفتاح توصيل الدارة: ينطفئ المصباح وتمثل بالرمز الثنائي (0) (مفتوح)



تأمل الشكل المجاور ثم اجب عما يلي:

1) ماذا يمثل الشكل المجاور ؟

الجواب دارة كهربائية بسيطة

2) عند إغلاق الدارة يضيء المصباح وتمثل هذه الحالة

بالرمز الثنائي :

أ) 1 ب) 0 ج) 10 د) غير ذلك

3) عند فتح الدارة ينطفئ المصباح وتمثل هذه الحالة

بالرمز الثنائي :

أ) 1 ب) 0 ج) 10 د) غير ذلك

ثانياً التوابل المنطقية

س1: عدد أنواع البوابات المنطقية الأساسية : (1 And (2 OR (3 Not

س2: عدد أنواع البوابات المنطقية المشتقة : (1 NAND (2 (Not And) NOR (2 (Not OR)


س3: من البوابات المنطقية التي تدخل في بناء معظم الدوائر المنطقية : (1 Not (ب And (ج OR (د كل ما ذكر

1 AND :

- (أ) تعد واحدة من البوابات المنطقية الأساسية التي تدخل في بناء معظم الدوائر المنطقية .
 (ب) لها مدخلان ومخرج واحد (ج) وتسمى " و " المنطقية .

(د) أرسم رمز البوابة المنطقية الأساسية $A = X \text{ And } Y$ موضعا عدد المدخل والمخارج للبوابة

الجواب : لها مدخلان ومخرج واحد .



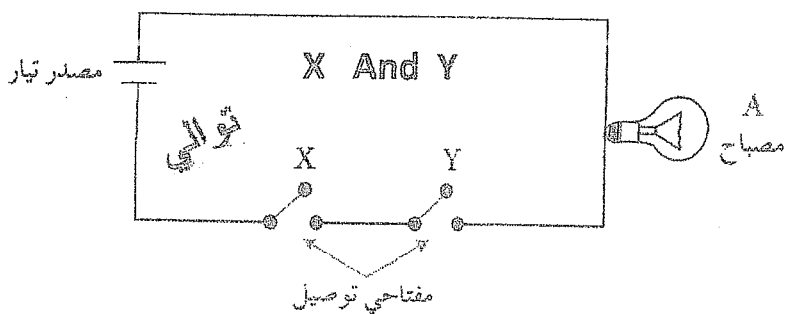
3 من خلال الجدول أعلاه اشرح متى يكون الناتج (المخرج) 1

ومتى يكون الناتج (المخرج) 0

X	Y	A = X AND Y
1	1	1
1	0	0
0	1	0
0	0	0

(أ) يكون الناتج (المخرج) 1 : إذا كانت جميع المدخلات 1 فقط
 (ب) يكون الناتج (المخرج) 0 : إذا كانت قيمة اي من المدخلين 0 او كلاهما 0

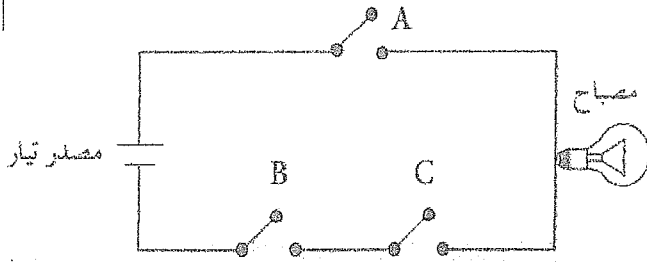
تستطيع تصميم دائرة كهربائية تمثل البوابة المنطقية And بمفاتيح توصيل في وضعية التوالي . بحيث يضيء المصباح عندما يكون كلا المفتاحين في حالة اغلاق .



X	Y	A = X AND Y
1 مغلق	1 مغلق	1 يضيء
1 مغلق	0 مفتوح	0 لا يضيء
0 مفتوح	1 مغلق	0 لا يضيء
0 مفتوح	0 مفتوح	0 لا يضيء

الشكل (3-3): دائرة كهربائية تمثل البوابة المنطقية AND.

بارة المنطقية التي تمثلها الدارة الكهربائية الآتية هي:

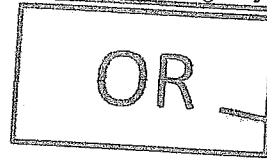



- جواب : (أ) A And (B And C)
 (ب) (B And C) And A
 (ج) A OR (B And C)

(د) أ+ب

(2) OR:

تعد واحدة من البوابات المنطقية الأساسية التي تدخل في بناء معظم الدوائر المنطقية .
 لها مدخلان ومخرج واحد (ج) وتسمى " أو " المنطقية .
 (د) أرسم رمز البوابة المنطقية الأساسية $A = X \text{ OR } Y$ موضحا عدد المدخلات والمخارج للبوابة

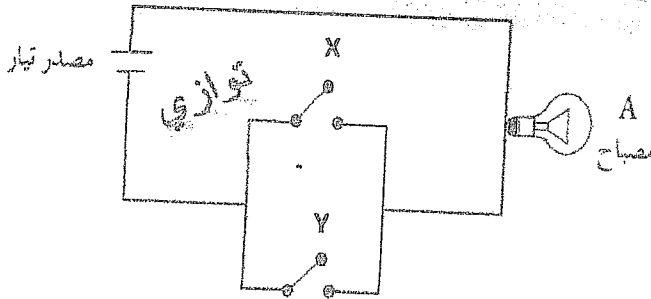


الجواب : لها مدخلان ومخرج واحد .
 يشبه رأس السهم

س4: الشكل السابق يمثل رمز البوابة التالية :

- (أ) X And Y (ب) $A = X \text{ And } Y$
 (ج) X OR Y (د) $A = X \text{ OR } Y$
 (أ) و (ب) أو (ج) Not (د) Nand

س5: الاسم الآخر للبوابة المنطقية الأساسية OR هي : (أ) و



الشكل (٣-٥): دائرة كهربائية تمثل البوابة المنطقية OR.

X	Y	A = X OR Y
1 مغلق	1 مغلق	1 بضئ
1 مغلق	0 مفتوح	1 بضئ
0 مفتوح	1 مغلق	1 بضئ
0 مفتوح	0 مفتوح	0 لا بضئ

اجابة الاحتمان والنهائية على حفتي على والخير ابوك
 = الامتاد شادي النابلسي وعلم قناة جوسات

8 مرات اجابة على التلفاز



أ - جد ناتج كل من البوابات المنطقية الآتية:



الناتج : 0



الناتج : 0



الناتج : 1



الناتج : 1



ب - حدّد قيمة (Z) في كل من البوابات الآتية:



Z = 0



Z = 0



Z = 0



حليين اما Z=1 او Z=0

ثالثاً إعداد ناتج العبارات المنطقية الآتية

تضم العبارات المنطقية المركبة أكثر من بوابة منطقية ، وفي هذه الحالة يجب تطبيق قواعد الأولوية لإيجاد ناتج العبارات المنطقية المركبة ، وتمثيلها باستخدام البوابات المنطقية وحسب التسلسل الآتي :

- (1) في حال وجود الأقواس () ، تنفذ العمليات التي بداخلها (2) البوابة المنطقية Not
- (3) البوابة المنطقية And
- (4) البوابة المنطقية OR
- (5) في حال التكافؤ في الأولوية تنفذ من اليسار لليمين .

رتب الأولويات في العمليات التالية : And ، (الأقواس) ، Not ، OR
 (الجواب : 1) الأقواس () (2) Not (3) And (4) OR

والأمثلة التالية توضح طريقة إيجاد ناتج التعبيرات المنطقية التي تحتوي على أكثر من بوابة منطقية ، مع توضيح الأولوية في حل هذه التعبيرات .

مثال (1): جد ناتج العبارة المنطقية $1 \text{ OR } 0 \text{ AND } 1$

الحل: اتبع الخطوات الآتية:

$$1 \text{ OR } 0 \text{ AND } 1$$

$$1 \text{ OR } 0$$

$$1$$

الأولويات :

(1) الأقواس ()

Not (2)

And (3)

OR (4)

ملاحظة 1: إذا طلب (نتائج العبارة المنطقية) لازم بالأول نعوض قيم المتغيرات المنطقية أولاً ، ثم نتبع (تسلسل التنفيذ) بتطبيق قواعد الأولوية

ملاحظة 2: إذا طلب حساب (عدد خطوات الحل بعد التعويض) = عدد البوابات المنطقية في العبارة المنطقية

1) من خلال المعادلة المجاورة كم عدد خطوات الحل بعد التعويض؟

الجواب : (أ) خطوتين (ب) 3 خطوات (ج) 4 خطوات

2) يتم حساب عدد خطوات حل العبارة المنطقية عن طريق:

أ) عدد المتغيرات المنطقية التي نعوض قيمها

ب) عدد الأسطر بعد تعويض القيم المنطقية

ج) حسب عدد البوابات المنطقية (د) ب+ج

مثال (2): جد ناتج العبارة المنطقية $A \text{ AND } \text{NOT } B \text{ OR } C$

علماً بأن: $A=1, B=0, C=0$

الحل: اتبع الخطوات الآتية:

أولاً نعوض القيم $1 \text{ AND } \text{NOT } 0 \text{ OR } 0$

$$1 \text{ AND } 1 \text{ OR } 0$$

$$1 \text{ OR } 0$$

$$1$$

نشاط (3 - 3): إيجاد ناتج العبارات المنطقية المركبة.

بالتعاون مع أفراد مجموعتك، جد ناتج العبارات المنطقية إذا كانت $A=0, B=1, C=1, D=0$

1 $A \text{ AND } B \text{ OR } \text{NOT } C$

2 $A \text{ OR } B \text{ AND } (C \text{ AND } \text{NOT } D)$

3 $(A \text{ OR } \text{NOT } B) \text{ AND } (\text{NOT } C \text{ AND } D)$

4 $\text{NOT } (\text{NOT } (A \text{ AND } B) \text{ OR } C \text{ AND } D)$

الأستاذ شادي النابلسي

الأكاديمي في علوم الحاسوب ← العلامة الكاملة ١٥. / ١٥. → لجميع التخصصات

٠٧٨٩٩٩٦٤٦٧

إعداد الأستاذ شادي النابلسي

وزارة 2018 شتوي (8 علامات) ادرس العبارة المنطقية الآتية ، ثم اجب عن الأسئلة التي تليها :
(A OR D) AND NOT B OR (A OR C)

(1) كم عدد البوابات المنطقية في العبارة المنطقية .

(2) حد ناتج العبارة المنطقية إذا علمت أن $A=0 . B=1 . C=1 . D=0$



إذا علمت ان

$A=1 \quad B=0 \quad C=1$

$A \text{ and } \text{NOT } B \text{ or } \text{NOT } C$


إذا كانت $A=0 , B=0$

$\text{NOT } A \text{ AND } B$

$\text{NOT } 0 \text{ AND } 0$

$1 \text{ AND } 0$

0



والاستاذ شادي النابلسي

معلم مادة الحاسوب والرياحيات

A	B	NOT B	A OR NOT B
1	1	0	1
1	0	1	1
0	1	0	0
0	0	1	1

بالتعاون مع أفراد مجموعتك، اكتب جدول الحقيقة للعبارات المنطقية الآتية.

- $A \text{ OR } \text{NOT } B$

- $\text{NOT } (A \text{ AND } \text{NOT } B)$

صفحة رقم (٢٣)

لا تجزع ان نوت فعل حكايات السندياء الجميلة حصلت لانه تاه

لجميع التخصصات

العلامة الكاملة ١٥. / ١٥.

الأكاديمي في علوم الحاسوب

٠٧٨٩٩٩٦٤٦٧

إعداد الأستاذ شادي النابلسي

مثل العبارة التالية بامتناع الجواب المنطقي
 $X = \text{NOT } A \text{ And } B$

$$X = A \text{ And } B \text{ And } C \text{ And } D$$

$$X = A \text{ or } B \text{ or } C \text{ or } D$$

$$X = (\text{NOT } A \text{ and } \text{NOT } B) \text{ or } (\text{NOT } C \text{ or } \text{NOT } D)$$

$$X = A \text{ and } B \text{ or } A$$

$$X = \text{NOT } (\text{NOT } A \text{ or } \text{NOT } B)$$

لجميع التخصصات

٠٧٨٩٩٩٦٤٦٧

العلامة الكاملة ١٥٠ / ١٥٠

الأكاديمي في علوم الحاسوب

Shady

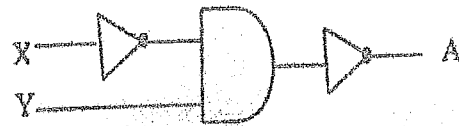
إعداد الأستاذ شادي الشاذلي

بالتعاون مع أفراد مجموعتك، مثل العبارات المنطقية الآتية باستخدام البوابات المنطقية، ثم جد الناتج النهائي، إذا كانت $A=1$ $B=0$ $C=1$ $D=0$.


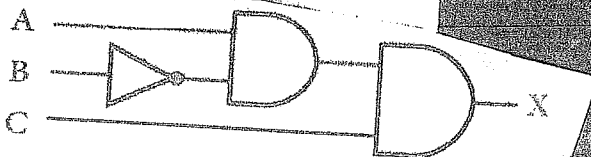
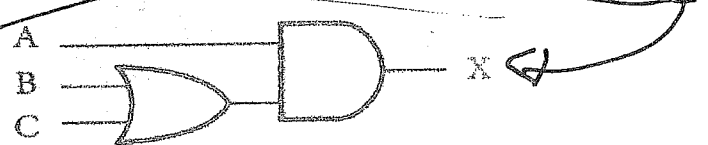
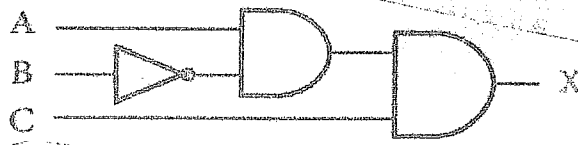
- 1 NOT A OR NOT B
- 2 A OR NOT B AND C
- 3 A AND NOT (B OR NOT C)
- 4 NOT (A AND B) OR C AND D

عند كتابة العبارة المنطقية التي تمثلها البوابات المنطقية، يجب البدء من اليسار الى اليمين، مع مراعاة قواعد الاولوية، فإذا اردت تنفيذ OR قبل AND، فإنه يجب عليك وضعها بين أقواس كما في المثال الآتي :

وزارة 2018 شتوي (5 علامات)

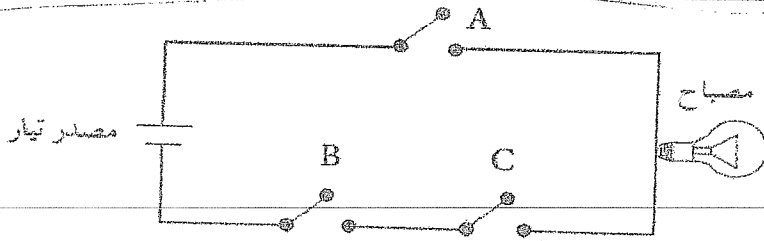


ادرس البوابات المنطقية، ثم أجب عن الأسئلة الآتية :
اكتب العبارة المنطقية التي تمثلها البوابات المنطقية.



صفحة رقم (٢٥)

لا يجوز ان تهت فكل حكايات السندياء الجميلة حصلت لانه تاه



مثال (٤): اكتب العبارة المنطقية

التي تمثلها الدارة الكهربائية الآتية:

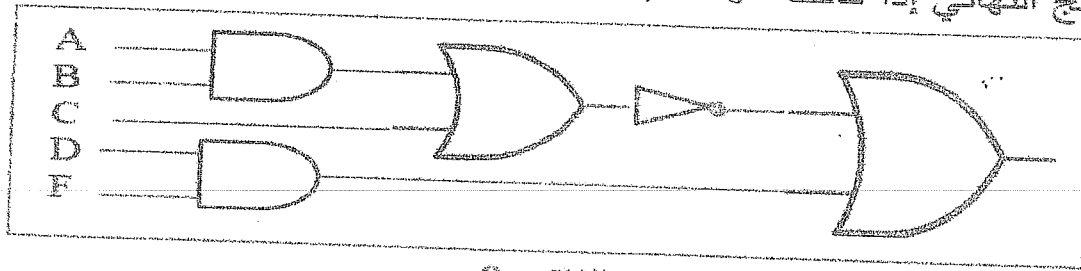
حل 1 : (B AND C) AND A

حل 2 : A AND (B AND C)

٦- مثل العبارة المنطقية الآتية باستخدام البوابات المنطقية:

NOT(A AND B OR C) OR D AND F

ثم جد الناتج النهائي إذا كانت A=0, B=0, C=1, D=1, F=0



الناتج 0

البوابات المنطقية المشتقة

الفصل الثاني

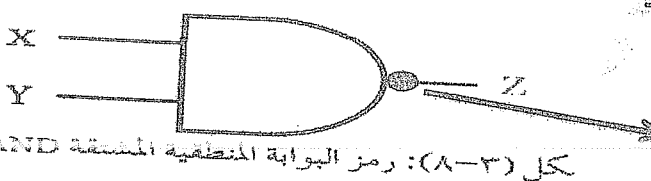
١: عدد أنواع البوابات المنطقية المشتقة : الجواب : (١) AND (٢) OR (٣) NOT

٢: عدد أنواع البوابات المنطقية المشتقة : الجواب : (أ) Nand (ب) Nor

٣: البوابات المنطقية المهمة التي تدخل في تصميم الدوائر المنطقية وتحليلها تدعى .

٤: لماذا سميت البوابات المنطقية المشتقة بهذا الاسم ؟ الجواب : لأنها اشتقت من البوابات المنطقية الأساسية : Not / And / OR

٥) ارسم (تمثيل) Nand باستخدام البوابة المنطقية المشتقة ؟




تمثل البوابة المنطقية المشتقة Nand بوضع دائرة صغيرة عند المخرج وتوكل الى بوابة Not

كل (٣-١): رمز البوابة المنطقية المشتقة NAND

جدول الحقيقة لـ Nand نفس جدول And فقط يتعكس الناتج لانه Nand (معناها Not And)

وتمثل الجدول (٣-٤) جدول الحقيقة للبوابة المنطقية NAND

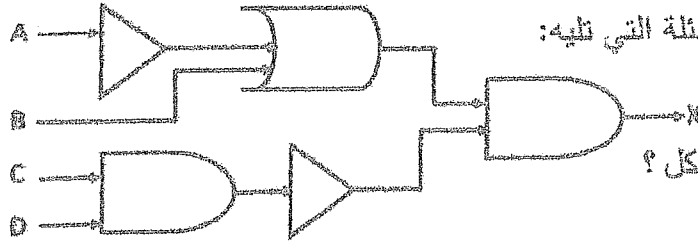
X	Y	Z = X NAND Y
1	1	0
1	0	1
0	1	1
0	0	1



من

وزارة سابق (8 علامات)

(٨ علامات)



تأمل الشكل الآتي ثم أجب عن الأسئلة التي تليه:

١- ما العبارة المنطقية التي يمثلها الشكل ؟

٢- ما قيمة المخرجات X المبينة في الشكل ، علماً أن $A=0, B=1, C=0, D=1$ ؟

X	Y	
1	1	
1	0	
0	1	
0	0	

الحل :

وزارة سابق (6 علامات) تأمل العبارة المركبة التالية :
(اليوم الجمعة او تاريخ اليوم هو 2017-4-21) هذه
العبارة مركبة من جملتين خبريتين ومرتبطينتين بالحرف
(أو) ، اكتب جدول الصواب والخطأ لها على اعتبار ان
رمز الجملة الاولى هو (X) ورمز الجملة الثانية هو (Y)

جد نتائج ما يلي

(1) $A \text{ Nand } \text{NOT } B$

$A=1 \quad B=0$

(2) $\text{NOT } A \text{ Nand } B \text{ Nand } C$

$A=0 \quad B=1 \quad C=0$

إذا ما اجبا يكونا متماثلين

تعارف بين And و NAND

مخرجاتها	رمزها	البوابة المنطقية
(أ) يكون الناتج (المخرج) 1 : إذا كانت جميع المداخل 1 فقط (ب) يكون الناتج (المخرج) 0 : إذا كانت قيمة اي من المدخلين او كلاهما 0		AND
عكس And (أ) يكون الناتج (المخرج) 0 : إذا كانت قيمة المدخلين (1) (ب) يكون الناتج (المخرج) 1 : إذا كانت قيمة كلا المدخلين 0 أو احدهما (0)		NAND

وزارة 2018 شتوى (8 علامات) :

(٨ علامات)

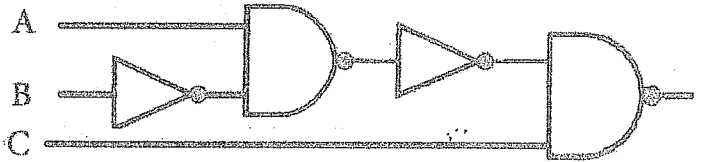
ب) ادرس العبارة المنطقية الآتية، ثم أجب عن الأسئلة التي تليها :

NOT (A NAND NOT B) NAND C

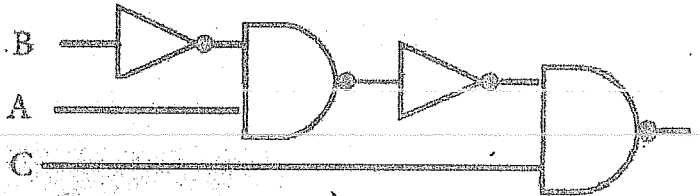
١. مثل العبارة المنطقية باستخدام البوابات المنطقية.

٢. جد ناتج العبارة المنطقية، علماً أن: A=1 ، B=1 ، C=1

حل 1 :



حل اخر :



حل فرع (2)

ما ناتج العبارة المنطقية الآتية علماً بأن :

A=1 , B=1 , C=1

NOT (A NAND NOT B) NAND C

NOT (1 NAND NOT 1) NAND 1

.....

ثانياً بوابات NOR

من خلال دراستك لدرس NOR أجب عما يلي :

١- اذكر افتراضات NOT و NOR ؟ الجواب : NOT (أو نفي) NOR

٢- كيف تتشكل أو طريقة توصيل بوابة NOR ؟ الجواب : عن طريق توصيل مخرج بوابة OR بمدخل بوابة Not .

٣- الاسم الآخر NOR ؟ الجواب : بوابة نفي " أو " المنطقية .

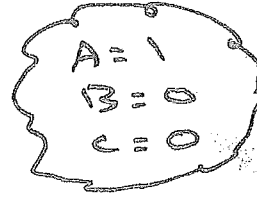


اكتب جدول الحقيقة لـ $X = A \text{ NOR } B$

جد خارج ما يلي
ومثلها

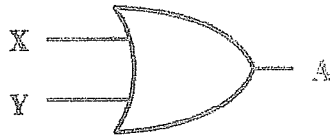

1] $\text{NOT } (A \text{ NOR } B) \text{ NOR } C$

2] $\text{NOT } A \text{ NOR } B$

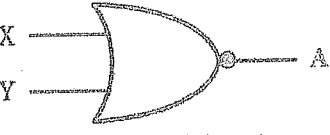
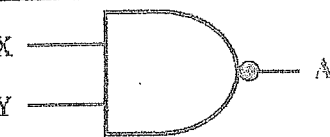


3] $A \text{ NOR } \text{NOT } (B \text{ NOR } \text{NOT } C)$

س1: ما الفرق بين البوابة المنطقية OR والبوابة المنطقية NOR من حيث رمز البوابة ومخرجاتها؟

مخرجاتها	رمز البوابة	البوابة المنطقية
<p>(أ) يكون الناتج (المخرج) 1 : إذا كانت قيمة أي من المدخلين أو كلاهما (1) (ب) يكون الناتج (المخرج) 0 : إذا كانت قيمة كلا المدخلين 0</p>	 رمز البوابة المنطقية OR	OR
<p>(أ) يكون الناتج (المخرج) 0 : إذا كانت قيمة المدخلين (1) و أحدهما (1) (ب) يكون الناتج (المخرج) 1 : إذا كانت قيمة كلا المدخلين 0</p>	 رمز البوابة المنطقية المشتقة NOR	NOR

س6: أكمل الجدول الآتي ، الذي يمثل مقارنة بين البوابات المنطقية المشتقة :

مخرجاتها	رمزها	البوابة المنطقية
<p>(أ) يكون الناتج (المخرج) 0 : إذا كانت قيمة المدخلين (1) و أحدهما (1) (ب) يكون الناتج (المخرج) 1 : إذا كانت قيمة كلا المدخلين 0</p>	 رمز البوابة المنطقية المشتقة NOR	NOR
<p>(أ) يكون الناتج (المخرج) 0 : إذا كانت قيمة المدخلين (1) (ب) يكون الناتج (المخرج) 1 : إذا كانت قيمة كلا المدخلين 0 أو أحدهما (0)</p>	 رمز البوابة المنطقية المشتقة NAND	NAND

سؤال قوي :- اكتب متخي

الجبر البوولي

علبة Not :

أ

س1: علل لماذا سميت Not باسم المتمم؟ الجواب: لأن متممة 0 تساوي 1 ومتممة 1 تساوي 0.

$$A = \overline{X}$$

س2: اكتب العبارة الجبرية المنطقية لعلبة Not؟ الجواب:

حيث تعني (—) المتممة والجدول (3-8) يبين القيم المتممة للمتغير X

جدول الحقيقة للعبارة المنطقية NOT

الجدول (3-8): جدول ناتج متممة X

X A = NOT X

1 0

0 1

X

A = \overline{X}

1

0

0

1

يعبر عن المتممة في العبارة الجبرية بـ (أ) NOT (ب) الشحطة فوق المتغير — (ج) النقطة . (د) إشارة الجمع +
 ناتج ما يلي 0 هو : (أ) 1 (ب) 0 (ج) 0.1 (د) 1.0

علبة AND

ب

النقطة (.) بدلا من And في التعبير الجبري المنطقي

س1: ماذا يعبر عن عملية And في الجبر المنطقي؟ الجواب بإشارة النقطة (.)

$$A = X \cdot Y$$

س2: اكتب العبارة الجبرية المنطقية لعملية And؟ الجواب:

س3: ماذا يشبه استخدام (.)؟ الجواب: يشبه استخدام الضرب العادي .

XY بدلا من X.Y .

س4: ممكن أن تكتب A.B في التعبير المنطقي كما يلي: (أ) A+B (ب) AB (ج) A*B (د) غير ذلك

س1: يعبر عن عملية Not في الجبر المنطقي بـ : (أ) إشارة المتممة — (ب) النقطة (.) (ج) إشارة (+) (د) Nor

س2: يعبر عن عملية AND في الجبر المنطقي بـ : (أ) إشارة المتممة — (ب) النقطة (.) (ج) إشارة (+) (د) NAND

س3: يعبر عن عملية OR في الجبر المنطقي بـ : (أ) إشارة المتممة — (ب) النقطة (.) (ج) إشارة (+) (د) NOR

س4: ممكن أن تكتب X.Y في التعبير المنطقي كما يلي: (أ) X+Y (ب) XY (ج) X*Y (د) ب+ج

بالتعاون مع أفراد مجموعتك، جد ناتج العبارات المنطقية الآتية، علماً بأن: $A=1, B=0, C=0, D=1$

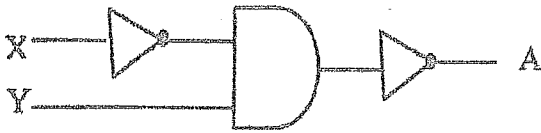
1 $A + B \cdot \overline{C + D}$

2 $(\overline{A} \cdot \overline{B}) + (C \cdot \overline{D})$

3 $\overline{A + B} \cdot C + D$

وزارة شتوى 2018 (10 علامات)

(١٠ علامات)



ب) ادرس البوابات المنطقية ، ثم أجب عن الأسئلة الآتية :
١. اكتب العبارة المنطقية التي تمثلها البوابات المنطقية.

الحل : $A =$

٢. اكتب عبارة الجبر المنطقي التي تمثلها البوابات المنطقية.

الحل : $A =$

نشاط (٣ - ١١) : تحويل العبارات المنطقية إلى عبارات جبرية منطقية.

بالتعاون مع أفراد مجموعتك، حوّل العبارات المنطقية الآتية إلى عبارات جبرية منطقية:

1 $A \text{ AND NOT } B \longrightarrow A \cdot \overline{B}$

2 $\text{NOT } A \text{ OR } B \text{ AND } C \longrightarrow \overline{A} + B \cdot C$

3 $A \text{ AND } B \text{ AND NOT } C \longrightarrow A \cdot B \cdot \overline{C}$

4 $A \text{ OR NOT } (B \text{ AND NOT } C) \longrightarrow A + \overline{(B \cdot \overline{C})}$

5 $\text{NOT } A \text{ OR } (\text{NOT } B \text{ OR } C \text{ AND } D) \longrightarrow \overline{A} + (\overline{B} + C \cdot D)$

نشاط (٣ - ١٢): قميل العبارات الجبرية المنطقية باستخدام البوابات المنطقية.

بالتعاون مع أفراد مجموعتك، مثل العبارات المنطقية الجبرية الآتية باستخدام البوابات المنطقية، ثم

جد الناتج النهائي إذا كانت: $A=0, B=1, C=1, D=0$.

$$- A \cdot \bar{B} + C$$

$$- \bar{A} + (B \cdot \bar{C})$$

$$- \overline{A \cdot B} + C \cdot D$$

$$- A + \bar{B} \cdot (\bar{C} \cdot \bar{D})$$

يا جيبيا قن كنز عليهم والله معلول

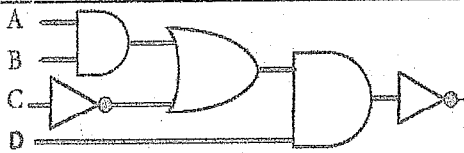
اكتب العبارات المنطقية التي تمثلها كلا من الدوائر الكهربائية التالية:

الدائرة الكهربائية	العبارة المنطقية (4 علامات)	العبارة الجبرية (4 علامات)
	$E \text{ AND } ((A \text{ OR } B) \text{ AND } (C \text{ OR } D))$	$E \cdot ((A + B) \cdot (C + D))$
	$(A \text{ OR } B) \text{ AND } (C \text{ AND } D)$	$(A + B) \cdot (C \cdot D)$
	$((A \text{ OR } B) \text{ OR } (C \text{ AND } D)) \text{ AND } (E \text{ AND } F)$	$((A + B) + (C \cdot D)) \cdot (E \cdot F)$

العبرة الجبرية	العبرة المنطقية	الدائرة الكهربائية
$((A + B) \cdot C) \cdot (E \cdot D \cdot F)$	$((A \text{ OR } B) \text{ AND } C) \text{ AND } (E \text{ AND } D \text{ AND } F)$	
$((A \cdot B) + (C \cdot D)) \cdot (E + F)$	$((A \text{ AND } B) \text{ OR } (C \text{ AND } D)) \text{ AND } (E \text{ OR } F)$	
$((A \cdot B) + C) + D \cdot E$	$((A \text{ AND } B) \text{ OR } C) \text{ OR } D \text{ AND } E$	

ادرس العبرة المنطقية الآتية ثم أجب عما يلي: $\text{Not} \{ (A \text{ OR } B \text{ AND NOT } (C \text{ OR } D)) \}$

استخرج من العبرة المنطقية أعلاه (أ) معاملي منطقي (ب) متغير منطقي (جواب أ) NOT, AND, OR : (جواب ب) A, B, C, D



مثل الشكل المجاور باستخدام العبرة المنطقية.
حل 1: $\text{Not}((A \text{ AND } B) \text{ OR NOT } C) \text{ AND } D$
أو الحل: $\text{Not}(\text{NOT } C) \text{ OR } (A \text{ AND } B) \text{ AND } D$

مثل الشكل المجاور باستخدام العبرة المنطقية الجبرية.
الحل: $((A \cdot B) + C) \cdot D$

مثل العبارات المنطقية الآتية باستخدام البوابات المنطقية:

<p>NOT (A OR B OR C OR D) AND E 2</p>	<p>A OR B AND C AND NOT D 1</p>
<p>NOT(A OR NOT B AND C OR NOT D) 4</p>	<p>NOT (NOT (NOT A OR B AND NOT C)) 3</p>

