

الأسئلة المتوقعه نموذج (ب)

امتحان شهادة الثانوية العامه لعام 2016/2017م دوره الشتويه

الفرع : الادبي +الفنقي

المبحث : الجغرافيا /المستوى الثالث

ملحوظه : اجب عن الاسئله الاتيه وعددها (5).

- بعد دراستك لوحدة الجيومورفولوجيا أجب عما يأتي :

السؤال الاول :

أ) عرف المفاهيم والمصطلحات الاتيه :

1 - اشكال النحت :

2 - التجوية الكيميائية:

3 - الدلتاوات :

4 - المنهج الاصولي :

ب) اعط مثلا لكل مما ياتي

1 - اشكال ارضية متبقية (متخلفة)

2 - شكل ارضي ناجم عن عمليات الحت التراجعي

3 - اشكال ارضية ناتجة عن عمليات الحت والنقل الريحي

السؤال الثاني :

أ) اذكر:

1 - فوائد تحديد الموقع العالمي (GPS).

2 - مناهج الدراسة الجيومورفولوجية.

3 - اربعة مما تقدمه الصور الجوية للتعرف على الاشكال الارضية

ب) فسر :

1 - التغير المستمر لخطوط تقسيم المياه بين الاحواض النهرية .

2 - اسباب نشأة الحماد في المناطق الجافه ذات السطح المنبسط.

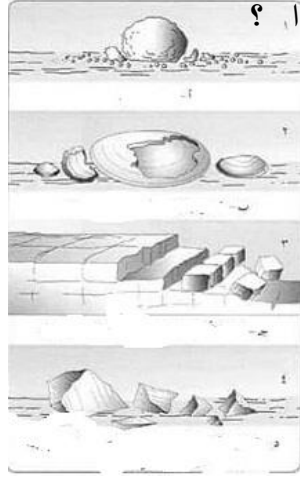
3 - تعد الدلتاوات مناطق جذب للسكان.

ج) وضح عملية تراجع الشلالات نحو المنابع .

السؤال الثالث:

ادرس الشكل التالي ثم اجب عن الاسئلة

(أ)

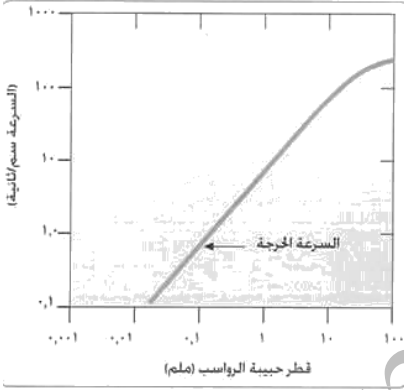


1 - ما شكل الحطام الصخري الذي تشير الارقام (1 2 3 4) ؟

2 - ما نوع التجوية التي نشأت عنها تلك الاشكال ؟

(ب)

- 1 - ما نوع العملية التي يقوم بها نهر سرعته (1سم/ث) لحبيبه قطرها (10ملم)؟
- 2 - ما نوع العملية التي يقوم بها نهر سرعته (100سم/ث) لحبيبه قطرها (0.1ملم)؟



- بعد دراستك لوحدة الجغرافيا السياسية اجب عما يلي :

السؤال الرابع :

(أ) عرف كل من المصطلحات التالية :

- 1 - المنظمات الدولية
- 2 - القطرية
- 3 - العجز المائي
- 4 - التوسع الراسي

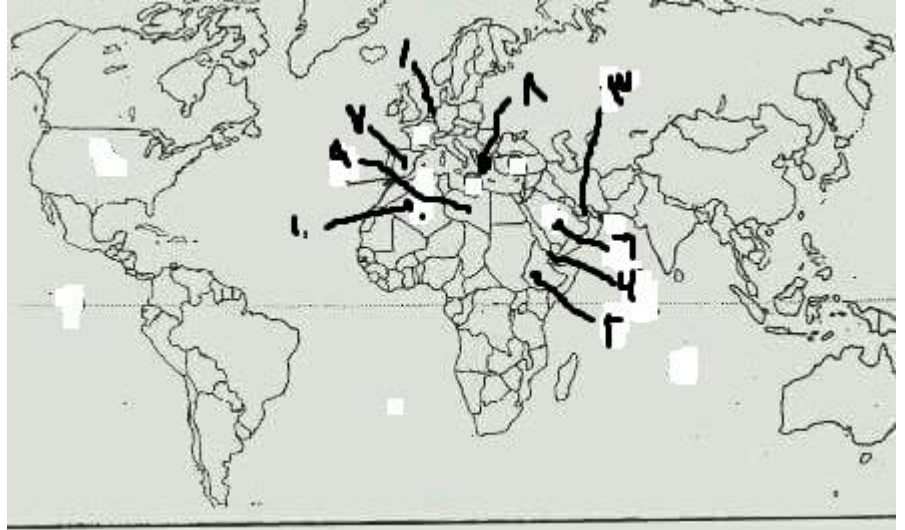
(ب) عدد مشكلات قطاع الرعي في الوطن العربي ؟

(ج) اذكر اربعة من المعوقات التي تعترض التنمية الزراعيه في الوطن العربي ؟

السؤال الخامس :

أ) اذكر انواع النزاعات الحدوديه بين الدول المجاوره كما صنفها الجغرافي (برسكوت).

ب) ادرس خريطة العالم ثم اجب عن الاسئله



- دولة يعيش فيها الوالون والفلمنك (1)
- دوله تعاني من الصراعات العرقيه (2)
- مسطحات وممرات مائيه (3, 4)
- دوله عربيه تمتلك احتياطي نفطي (6)
- دوله انضمت للاتحاد الاوروبي بعد التأسيس (7,8)
- دول اعضاء في جامعه الدول العربيه (9,10)

انتهت الاسئله

الاستاذ ثامر الغرايه

أحمد الغزاليه 0775391338