



مدارس تقارب

القوة وقوانين نيوتن

العام الدراسي
2018 / 2017

ورقة عمل تقويمية
الوحدة الثانية

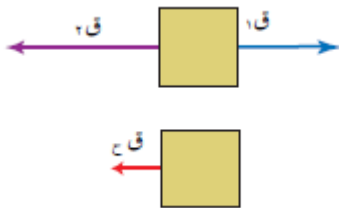
مادة: الفيزياء
الصف: التاسع

تم التحميل من موقع الـأوائل التعليمي

القوة وأنواعها

- القوة :
- الحالة الحركية :
- أنواع القوى :
1. الوزن (قوة الجاذبية):
 2. قوة الاحتكاك :
 3. قوة الشد :
 4. القوة العمودية :
- القوة المحصلة :

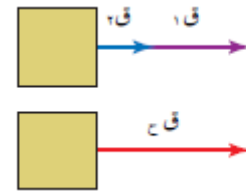
2 - محصلة قوى متعاكسة في الاتجاه =
الفرق بين القوى (باتجاه الأكبر)



$$قح = ق1 - ق2$$

باتجاه الأكبر (اليسار)

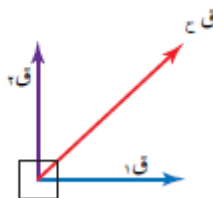
1 - محصلة قوى لها نفس الاتجاه =
مجموع القوى (باتجاه إحداها)



$$قح = ق1 + ق2$$

باتجاه القوتين (اليمين)

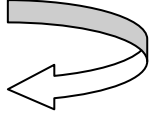
3 - (محصلة قوتان متعامدتان) =
 $(قح)^2 = (ق1)^2 + (ق2)^2$



تم التحميل من موقع الـأوائل

قانون نيوتن الأول

الأجسام المتحركة

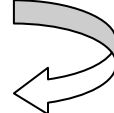


ق م \neq صفر
(يتحرك بسرعة متغيرة)



ق م = صفر
(تتحرك بسرعة ثابتة)

الأجسام الساكنة



ق م \neq صفر
(تتحرك)



ق م = صفر
(لا تتحرك)

• ينص قانون غاليليو على :

لا يلزم استمرار تأثير قوة في الأجسام حتى تستمر في حركتها بسرعة ثابتة في خط مستقيم اذا أهمل الاحتكاك

• ينص قانون نيوتن الأول على :

• سمي قانون نيوتن الأول بقانون :

• القصور الذاتي :-

علل ما يلي تعليلاً علمياً وافياً :-

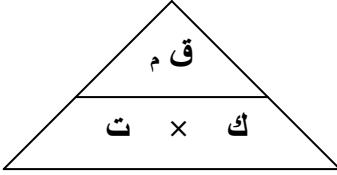
أ - تشعر بحركة السيارة (المصعد) عند الانطلاق و عند التوقف فقط :-

ب - يندفع الشخص للإمام عند توقف السيارة :-

ج - من الضروري جداً ربط حزام الأمان عند قيادة السيارة :-

قانون نيوتن الثاني

• ينص قانون نيوتن الثاني على :



(ق م) : القوة المحصلة (نيوتن)
ك : الكتلة (كغم) .
ت : التسارع (م / ث²)

$$\text{القوة المحصلة} = \text{الكتلة} \times \text{التسارع}$$

$$\text{ق(م)} = \text{ك} \times \text{ت}$$

$$\text{الوزن} = \text{ك} \times \text{ج}$$

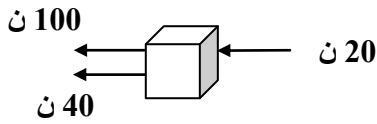
• العلاقة بين القوة و التسارع طردية .

• العلاقة بين الكتلة و القوة طردية .

• النيوتن :

ملاحظة:
إذا كانت السرعة ثابتة فان
ت = صفر ، ق(م) = صفر

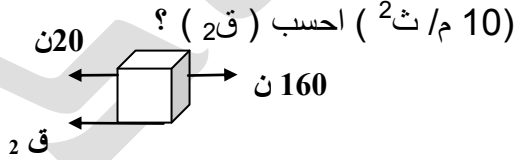
4) في الشكل جسم كتلته (20 كغم) أثرت فيه مجموعة قوى احسب تسارع الجسم ؟



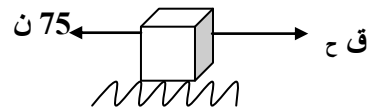
1) أثرت قوة مقدارها (100 ن) في جسم فحركته من السكون وبعد (4 ث) أصبحت سرعته (8 م / ث) احسب كتلة الجسم ؟

2) أثرت قوة مقدارها (99 ن) في جسم فحركته من السكون وبعد (10 ث) أصبحت سرعته (30 م / ث) احسب كتلة الجسم ؟

5) في الشكل جسم كتلته (4 كغم) أثرت فيه مجموعة قوى أكسبته تسارع للجهة اليمنى



3) أثرت قوة مقدارها (75 ن) في جسم فحركته على سطح أفقي خشن بسرعة ثابتة مقدارها 5 م / ث احسب مقدار قوة الاحتكاك ؟



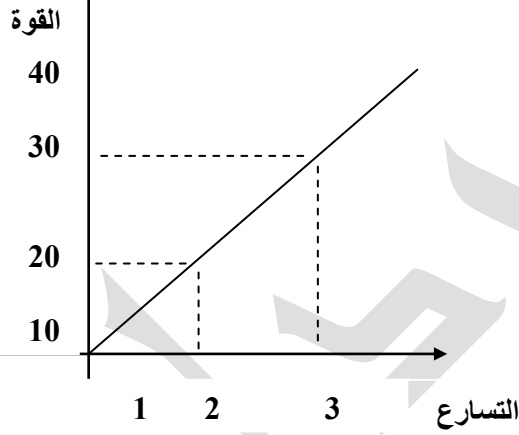
ب (قوة الشد في الحبل اللازمة لإكساب الشجرة تسارع (3 م / ث²))

ج (القوة التي تؤثر بها الشجرة على الأرض ؟

د (القوة التي تؤثر بها الأرض على الشجرة ؟

9 (لديك المنحنى التالي بين القوة و التسارع

ادرسه جيدا ثم اجب عن الأسئلة التي تلهه ؟



أ (جد كتلة الجسم ؟

ب (جد التسارع عندما تكون القوة (40 ن)؟

ج (جد القوة عندما يكون التسارع (1 م / ث) ؟

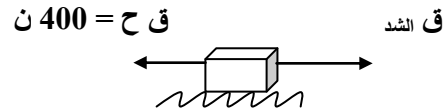
6 (أثرت قوة في جسم كتلته (10 كغم) فتغيرت سرعته من (2 م / ث) إلى (6 م / ث) خلال مسافة مقدارها (8 م) احسب محصلة القوى المؤثرة في الجسم ؟

7 (أثرت قوة مقدارها (77 ن) في جسم فحركته من السكون وبعد (4 ث) أصبح الجسم على بعد (56 م) من نقطة الانطلاق احسب ما يلي :-
أ (التسارع :

ب (كتلة الجسم :

ج (سرعة الجسم بعد (10 ث) :

8 (يجر فيل خشبة كتلتها (1000 كغم) على سطح أفقي بسرعة ثابتة إذا كانت قوة الاحتكاك بين الخشبة والأرض (400 ن) جد مايلي :



أ (قوة الشد في الحبل ؟

قانون نيوتن الثالث

• ينص قانون نيوتن الثالث على :

يتضمن قانون نيوتن الثالث :

أ -

ب -

ج -

علل مايلي تعليلاً علمياً صحيحاً :-

أ) انطلاق الصاروخ ؟

ب) يندفع المدفع للخلف عند قذف القذيفة؟

ج) لا يندفع المدفع للخلف بنفس السرعة التي تتحرك بها القذيفة للأمام ؟

1) (2)

د) عند الفعل و رد الفعل تكون محصلة القوة \neq صفر مع أن القوتين متساويتان في المقدار ومتعاكستان في

الاتجاه؟

قانون الجذب العام

• ينص قانون الجذب العام على :

العوامل التي تعتمد عليها قوة الجذب العام :

أ - (.....) ب - (.....)

علل :-

أ) تشعر بقوة جذب الأرض لك ولا تشعر بقوة جذب زميلك :

ب) وزنك على القمر اقل من وزنك على الأرض :

ج) قوة جذب الشمس لكوكب الزهرة اكبر من قوة جذب الشمس للأرض مع أن لهما نفس الكتلة :

