

مع اميناتي لكم بالتفوق والنجاح
الأحياء

مكتف فصل المناعة / الاحياء

مع اميناتي لكم بالتفوق والنجاح
الأحياء

الفرع العلمي والاقتصاد المنزلي الفصل الثاني / تنقية الدم والمناعة
(الدورة الشتوية ٢٠١٧)

مكتف مادة العلوم الحياتية ٢٠١٧

الوحدة الثانية / الفصل الثاني

تنقية الدم والمناعة في الجسم

فرع الاقتصاد المنزلي
إعداد

استاذ العلوم الحياتية: رامي نصار

0786150260 / 0786470012 / 0796787362

الصفحة ١

مكثف فصل المناحة / الاحياء

مع امتياني لكم بالتفوق والنجاح
الأحياء

مع امتياني لكم بالتفوق والنجاح
الأحياء

الفرع العلمي والاقتصاد المنزلي الفصل الثاني / تقنية الدم والمناحة
(الدورة الشتوية ٢٠١٧)

اولاً: وضع التكامل بين جهاز الدوران واجهزة الجسم التالية:

- ١- **الجهاز التنفسي:** (١) ينقل الأكسجين من الجهاز التنفسي إلى خلايا الجسم .
(٢) ينقل ثاني أكسيد الكربون الناتج من عملية التنفس الخلوي إلى جهاز التنفس للتخلص منه.
- ٢- **الجهاز الهضمي:** ينقل المواد الغذائية الممتصة في الأمعاء من الجهاز الهضمي إلى خلايا الجسم ، لاستهلاكها أو تخزينها.
- ٣- **الجهاز البولي:** ينقل الفضلات النيتروجينية السامة من خلايا الجسم إلى الكلية والجلد للتخلص منها.
- ٤- **جهاز الغدد:** ينقل الهرمونات من الغدد الصم إلى الخلايا الهدف في مختلف أنحاء الجسم.
- ٥- **الجهاز الليمفي:** يتعاون مع الجهاز الليمفي في مقاومة مسببات الأمراض.

ثانياً: فيما يتعلق بتبادل المواد في منطقة الشعيرات الدموية:

- ١- ما المقصود بالشعيرات الدموية؟
أوعية دموية تربط بين الشرايين والأوردة الدقيقة، ويتكون جدارها من طبقة واحدة من خلايا طلائية مبطنة.
- ٢- على ماذا يعتمد تبادل المواد عند الشعيرات الدموية في الجسم؟
يعتمد على الفرق بين ضغط الدم والضغط الاسموزي في الشعيرة الدوية.
- ٣- على ماذا يعتمد ارتشاح الماء المواد في منطقة الشعيرات الدموية؟
وصول الدم إلى الجانب الشرياني من الشعيرة الدموية بضغط مرتفع.
- ٤- ما سبب ارتفاع الضغط الاسموزي في الجانب الوريدي من الشعيرة الدموية؟
البروتينات كبيرة الحجم والتي تبقى في الدم ولا ترتشح بعد عملية الارتشاح.
- ٥- ماذا تسمى كمية السائل بين خلوي والتي لا تعود إلى الشعيرة الدموية وكيف تعود؟
الليمف: يعود عبر أوعية ليمفية تصب في الدورة الدموية.
- ٦- ما هو الليمف؟
جزء من السائل بين الخلوي الذي لا يتمكن من العودة عبر الشعيرات الدموية لذلك يعود عبر أوعية ليمفية تصب في الدورة الدموية.

ثالثاً: تبادل الغازات عند الحويصلات الهوائية والانسجة:

- ١- كيف يتلائم تركيب الحويصلات الهوائية مع وظيفتها؟
تتكون من طبقة واحدة من الخلايا الطلائية.
- ٢- كيف ينتقل الاكسجين من الحويصلات الهوائية الى الدم؟
١- عند الشهيق، يدخل إلى الرئتين هواء ترتفع فيه نسبة الأكسجين (٢١ %) ، ليصل إلى الحويصلات الهوائية.
٢- ينتقل الأكسجين من الحويصلات الهوائية إلى الدم في الشعيرات الدموية بسبب الفرق في التركيز بين الدم والهواء في الحويصلات ويتم ذلك بواسطة الانتشار البسيط.

مكثف فصل المناحة / الاحياء

مع امتياني لكم بالتفوق والنجاح
الأحياء

مع امتياني لكم بالتفوق والنجاح
الأحياء

الفرع العلمي والاقتصاد المنزلي الفصل الثاني / تنقية الدم والمناحة
(الدورة الشتوية ٢٠١٧)

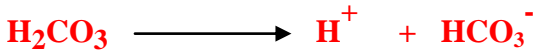
رابعاً: نقل الأوكسجين وثاني أكسيد الكربون

- ١- ما العوامل التي تعتمد عليها عملية تشبع الهيموغلوبين بالأوكسجين؟
١- تركيز الاكسجين
٢- درجة حرارة الجسم
٣- الرقم الهيدروجيني للدم
 - ٢- يتحلل مركب اوكسيهيموغلوبين بفعل عوامل عدة منها:
أ- عندما يقل تركيز الأوكسجين في النسيج عما هي عليه في الدم.
ب- عندما ينخفض الرقم الهيدروجيني عن الرقم الطبيعي للدم هو (٧.٤).
ج- عندما ترتفع درجة حرارة الأنسجة عن (٣٧ س).
 - ٣- الهيموغلوبين: مركب بروتيني يتكون من اربع ذرات حديد وترتبط كل ذرة منها مع جزئ واحد من اكسجين بتفاعل منعكس.
اكسجين + هيموغلوبين \rightleftharpoons اوكسيهيموغلوبين
 - ٤- يتم نقل ثاني أكسيد الكربون في الدم بطرق ثلاث هي:
أ) ٧% ذائب في البلازما.
ب) ٢٣% ينقل عن طريق الارتباط بالهيموغلوبين لتكوين مركب (كاربامينو هيموغلوبين).
ج) ٧٠% على هيئة أيونات (الكربونات الهيدروجينية HCO_3^-).
- ٣- وضح بخطوات كيفية انتقال ثاني أكسيد الكربون على هيئة أيون الكربونات الهيدروجينية في الدم حتى يصل الرنتين؟

١) يتحد (CO_2) مع الماء داخل خلايا الدم الحمراء ، ويسرع إنزيم (كربونيك أنهيدريز) هذا الإتحاد وينتج عن ذلك تكوين (حمض الكربونيك) حسب المعادلة التالية:



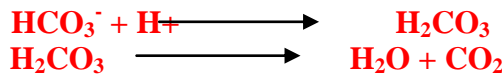
٢) يتحلل حمض الكربونيك معطياً أيون الهيدروجين (و) أيون كربونات هيدروجينية (كما يلي:



٣) ينتشر أيون الكربونات الهيدروجينية من خلايا الدم الحمراء إلى البلازما ، ويحمل حتى الرنتين.

٣- وضح بخطوات كيفية انتقال ثاني أكسيد الكربون الى الحويصلات الهوائية؟

- ١) تنتقل ايونات الكربونات الهيدروجينية إلى خلايا الدم الحمراء وترتبط مع ايون الهيدروجين لينتج حمض الكربونيك.
- ٢) يتحلل حمض الكربونيك إلى ماء وثاني أكسيد الكربون كما في المعادلتين:



- ٣) كما ينحل كاربامينو هيموغلوبين داخل خلايا الدم الحمراء إلى هيموغلوبين وثاني أكسيد الكربون.
- ٤) ينتشر ثاني أكسيد الكربون من الشعيرات الدموية إلى الحويصلات الهوائية ، لان تركيزه في الدم أعلى من تركيزه بالحويصلات.
- ٥) تتخلص الحويصلات الهوائية من ثاني أكسيد الكربون بعملية الزفير.

مكثف فصل المناعة / الاحياء

مع امتياني لكم بالتفوق والنجاح
الأحياء

مع امتياني لكم بالتفوق والنجاح
الأحياء

الفرع العلمي والاقتصاد المنزلي الفصل الثاني / تنقية الدم والمناعة
(الدورة الشتوية ٢٠١٧)

خامساً: تنقية الدم من الفضلات النيتروجينية:

١- مم يتكون البول؟ ١- الماء ٢- المواد النيتروجينية ٣- أيونات ملحية زائدة ٤- نواتج ايض العقاقير

٢- ما هي مراحل تكوين البول؟ ١- الارتشاح ٢- الإفراز الأنبوبي ٣- إعادة الامتصاص ٤- تركيز البول

٣- ما اسم العملية / العمليات التي تحدث في كل من الأجزاء التالية؟

١- الكبة (الارتشاح) ٢- الأنبوبة الملتوية القريبة (إعادة امتصاص الماء والايونات)

٣- التواء هنلي (تركيز البول) ٤- الأنبوبة الملتوية البعيدة (الإفراز الأنبوبي)

٤- القناة الجامعة (إعادة امتصاص الماء والايونات)

٤- يعمل هرمون الدوستيرون مع هرمونات أخرى على تنظيم عمل الوحدة الأنبوبية الكلوية ، المطلوب

١- ما اسم الغدة التي تفرز هذا الهرمون؟ قشرة الغدة الكظرية

٢- في أي الأجزاء من الوحدة الأنبوبية يؤثر؟ الأنبوبة الملتوية البعيدة

٣- حدد وظيفته؟ زيادة إعادة امتصاص الماء وايونات الصوديوم من الانبوبة الملتوية البعيدة

٤- بين كيف يؤثر هذا الهرمون في زيادة حجم الدم وضغطه؟

١- ارتفاع مستوى ايونات الصوديوم في الدم

٢- ارتفاع الضغط الاسموزي للدم

٣- انتقال الماء من الانبوبة البعيدة والجامعة الى الدم بالخاصية الاسموزية.

٥- متى يفرز؟ عند انخفاض ضغط الدم وحجمه

٥- يعمل هرمون (المانع لإدرار البول) مع هرمونات أخرى على تنظيم عمل الوحدة الأنبوبية الكلوية.

١- ما اسم الغدة التي تفرز هذا الهرمون؟ النخامية الخلفية

٢- في أي الأجزاء من الوحدة الأنبوبية يؤثر؟ الأنبوبة الملتوية البعيدة

٣- حدد وظيفته؟ زيادة نفاذية الانبوبة البعيدة والجامعة للماء وإعادة امتصاصه نحو الدم.

٤- متى يفرز؟ عند ارتفاع الضغط الاسموزي للدم

٦- يعمل (العامل الأذيني المدر للصوديوم) مع هرمونات أخرى على تنظيم عمل الوحدة الأنبوبية الكلوية.

١- من اين يفرز هذا الهرمون؟ الأذنين في القلب

٢- حدد وظيفته؟ يعمل بصورة معاكسة لانزيم الرنين ويثبط افراز هرمون الدوستيرون

٣- متى يفرز؟ عند ارتفاع ضغط الدم وحجمه

٧- ما المواد الاخراجية التي يتم ارتشاحها في الانبوبة الملتوية البعيدة؟ ١- نواتج ايض العقاقير ٢- ايونات الهدروجين

٨- ما هي العوامل التي تزيد من فاعلية عملية الأرتشاح

(أ) وصول الدم إلى الكبة تحت ضغط عالي (وهو الضغط الشرياني) .

(ب) رقة جدران الشعيرات الدموية في الكبة ونفاذيتها العالية .

(ج) مرور الدم ببطء في الكبة .

الصفحة ٤

مكثف فصل المناعة / الاحياء

مع امتياني لكم بالتفوق والنجاح
الأحياء

مع امتياني لكم بالتفوق والنجاح
الأحياء

الفرع العلمي والاقتصاد المنزلي الفصل الثاني / تقنية الدم والمناعة
(الدورة الشتوية ٢٠١٧)

٩- ماذا يحدث عند زيادة شرب الماء وزيادة امتصاصه من الأمعاء الى الدم؟

- ١) يؤدي ذلك إلى زيادة حجم الدم.
- ٢) ينقص الضغط الأسموزي للدم.
- ٣) يثبط ذلك إفراز ADH.
- ٤) تنخفض النفاذية للأنيوية الملتوية البعيدة والقناة الجامعة للماء.
- ٥) تقل إعادة امتصاص الماء في هذه الأنابيب.
- ٦) ينقص حجم الدم ويزداد تركيزه.
- ٧) يرتفع الضغط الأسموزي للدم.

١٠- ماذا يحدث عندما يرتفع مستوى ايونات الصوديوم في الدم؟

يزداد الضغط الأسموزي للدم وينتقل الماء من الأنيوية الملتوية البعيدة والقناة الجامعة باتجاه الدم حسب الخاصية الأسموزية أي ان الماء يتبع الصوديوم في حركته. فيزداد حجم الدم وضغطه.

سادساً: المناعة: (المناعة نوعان طبيعية ومكتسبة)

١- ما هي مكونات خط الدفاع الأول في جهاز المناعة؟ ١- الجلد السليم ٢- المخاط ٣- العرق ٤- الدموع

٢- ما هي مكونات خط الدفاع الثاني في جهاز المناعة؟

١- الخلايا الاكولة ٢- البروتينات المتممة ٣- الخلايا القاتلة الطبيعية ٤- الالتهابات

٣- خط الدفاع الثالث: ينتج خلايا خاصة ومواد تتفاعل مع مسبب المرض نفسه دون غيره.

٤- ما المقصود بمولد الضد؟ مادة أو جسم غريب يحفز الاستجابة المناعية المتخصصة من قبل جهاز المناعة.

٥- وضح دور كل مما يلي في إحداث الاستجابة المناعية:

- ١- الجلد: يمنع الجلد السليم مرور مسببات المرض إلى الجسم.
- ٢- المخاط: يشكل مصائد للكائنات الممرضة.
- ٣- إفرازات الجلد (العرق): توفر رقم هيدروجيني من (٣-٥) يحد من نمو البكتيريا
- ٤- دموع العين: تحتوي الدموع على إنزيمات هاضمة ومذيبات لما قد يصل إليهما

٥- الخلايا الأكولة: لها القدرة على بلعمة مسببات الأمراض وتحليلها وهي نوعان الاكولة الكبيرة والبيضاء القاعدية

٦- الخلايا الصارية: أ. تنشيط البروتينات المتممة. ب. تحدث حالات من الحساسية. ج. ترفع درجة حرارة النسيج المصاب

٧- البروتينات المتممة: مجموعة من البروتينات إذا حفز أحدها تحدث سلسلة من التفاعلات، تؤدي في النهاية إلى تحلل مسبب

٨- الخلايا القاتلة الطبيعية: تحلل الخلايا المصابة بالفيروس والسرطانية

٩- البروتينات الخاصة: تسبب بدأ الالتهاب في النسيج.

٦- ما هي مكونات جهاز المناعة الرئيسية: ١- نخاع العظم (تتميز فيه خلايا B) ٢- الغدة الزعترية (تتميز فيه خلايا T)

٧- ما هي مكونات جهاز المناعة الثانوية: ١- العقد اللمفية (تحتوي خلايا اكولة كبيرة و خلايا ليمفية)

٢- الطحال (يحتوي دم وخلايا ليمفية وخلايا اكولة)

٩- النسيج المصاحب للطبقات الجلدية

نسيج ليمفي يبطن أجزاء من الطبقة الجلدية للأعضاء الدقيقة. ٢- يحتوي على خلايا ليمفية B.

الصفحة

مكثف فصل المناعة / الاحياء

مع امتياني لكم بالتفوق والنجاح
الأحياء

مع امتياني لكم بالتفوق والنجاح
الأحياء

الفرع العلمي والاقتصاد المنزلي الفصل الثاني / تقنية الدم والمناعة
(الدورة الشتوية ٢٠١٧)

أنواع الخلايا التي لها دور أساسي في مناعة الجسم:

- ١- الخلايا ذات الزوائد: خلايا مشهورة لمولدات الضد الغريبة توجد في: أ. الجلد. ب. الطبقة المخاطية. ج. الأنسجة الليمفية. الوظيفة: أ. تنشيط الخلايا الليمفية. ب. إفراز سايتوكاينات. ج. خلايا مشهورة
- ٢- الخلايا الأكلة الكبيرة: خلايا بلعمية وظيفتها: إظهار مسبب المرض وإفراز سايتوكاينات.
- ٣- الخلايا القاتلة الطبيعية: خلايا ليمفية كبيرة محبة السيترولازم. تفرز السايتوكاينات تقتل الخلايا السرطانية والمصابة بالفيروسات.
- ٤- خلايا (B): أ. إظهار مسبب المرض. ب. إفراز السايتوكاينات. ج. تمتاز إلى خلايا بلازمية تفرز الأجسام المضادة.
- ٥- خلايا (T): أ. إفراز السايتوكاينات. ب. تقتل الخلايا المصابة بالفيروسات.

سابعاً: آلية عمل جهاز المناعة

- ١- ما هي انواع الاستجابة المناعية؟ أ- استجابة خلوية ب- استجابة سائلة
- ٢- ما المقصود بالخلايا المشهورة؟ هي خلايا تشهر (تظهر) مولد الضد المسبب للمرض على غشائها البلازمي ، لها دور في الاستجابة المناعية.
- ٣- ماهي انواع الخلايا المشهورة؟ أ. الخلايا الأكلة الكبيرة. ب. الخلايا ذات الزوائد. ج. خلايا B.
- ٤- ما أنواع الخلايا الليمفية (T)؟ ١- خلايا T مساعدة. ٢- خلية T القاتلة. ٣- خلايا T الذاكرة. ٤- خلايا T المثبطة.
- ٥- ما أنواع الخلايا الليمفية (B)؟ ١- خلايا B البلازمية ٢- خلايا B ذاكرة
- ٦- ما وظيفة خلايا T مساعدة؟ تفرز السايتوكاينات
- ٧- ما هي وظيفة السايتوكاينات؟ أ. تنشيط خلايا T المساعدة الحاملة لمستقبل مولد الضد نفسه على الانقسام. ب. تحفز خلايا T القاتلة على مهاجمة الخلايا المصابة. ج. تحفز خلايا B على الانقسام لإنتاج [خلايا بلازمية تفرز أجساماً مضادة وخلايا B ذاكرة.]
- ٨- ما هي وظيفة البرفورين الذي تفرزه خلايا T القاتلة؟ (١) يسبب هذا البروتين إحداث ثقب في الغشاء البلازمي للخلية المصابة بالمرض. (٢) مما يؤدي إلى دخول سوائل الجسم إليها وانفجارها.
- ٩- ما هي وظيفة خلايا T المثبطة؟ (١) إفراز مواد توقف إنتاج الأجسام المضادة من الخلايا البلازمية. (٢) إفراز مواد توقف عمل خلايا (T) القاتلة.
- ١٠- كيف تتعرف الخلايا القاتلة على الخلايا السرطانية؟ الخلايا السرطانية تتعرف عليها الخلايا القاتلة لأنها تحمل على غشائها البلازمي مولدات ضد تختلف عن تلك الموجودة على الغشاء البلازمي للخلايا الطبيعية.
- ١١- ما وظيفة خلايا B البلازمية؟ إنتاج اجسام مضادة
- ١٢- ما هي وظيفة الأجسام المضادة؟ ١- تنشيط البروتينات المتممة. ٢- ترسيب مولدات الضد. ٣- تجميع مولدات الضد. ٤- اغلاق مواقع الارتباط لمولدات الضد.
- ١٣- ما هي وظيفة الانزيمات الخاصة الذي تفرزه خلايا T القاتلة؟ تدخل للخلية المصابة وتحلل نواتها

الصفحة

مكثف فصل المناعة / الاحياء

مع امتياني لكم بالتفوق والنجاح
الأحياء

مع امتياني لكم بالتفوق والنجاح
الأحياء

الفرع العلمي والاقتصاد المنزلي الفصل الثاني / تقنية الدم والمناعة
(الدورة الشتوية ٢٠١٧)

ثامناً: يهاجم فيروس نقص المناعة البشري خلايا T المساعدة لذا يتأثر جهاز المناعة بثلاث طرق:

- أ. يتكاثر الفيروس داخل خلايا T المساعدة المصابة و يسبب انفجارها والقضاء عليها وانطلاق نسخ من الفيروس جديدة.
- ب. تفرز خلايا T المساعدة المصابة مواد تثبط استجابة خلايا T الأخرى لمسببات الأمراض الأخرى.
- ج. يمنع إشهار مولد الضد على خلايا T المساعدة المصابة.

تاسعاً: نقل الدم

فصيلة الدم	مولد الضد على خلايا الدم الحمراء	الجسم المضاد في البلازما
A	A	Anti-B
B	B	Anti- A
AB	A , B	لا يوجد
O	لا يوجد	Anti-B و Anti-A

- ١- على ماذا يعتمد الاطباء في عمليات نقل الدم؟ ١- نوع مولد الضد للشخص المعطي ٢- نوع الاجسام المضادة للشخص المستقبل
- ٢- ماذا يحدث اذا اجتمع في الدم مولد ضد معين مع جسم مضاد من النوع نفسه؟
يحدث تفاعل تخثر يؤدي الى تجمع خلايا الدم الحمراء وترسبها في الاوعية الدموية مما يؤدي الى انسدادها

٣- تقسم فصائل الدم حسب هذا النظام إلى نوعين هما:

- ١) موجب النظام الريزي (Rh⁺) : يوجد على خلايا الدم الحمراء مولد الضد لهذا النظام واجسام مضادة.
- ٢) سالب النظام الريزي (Rh⁻) : لا يوجد على خلايا الدم الحمراء مولد الضد لهذا النظام وتنتج الاجسام المضادة.

*** اسئلة المقارنة

وجه المقارنة	الجانب الشرياني	الجانب الوريدي
ضغط الدم	مرتفع	منخفض
اتجاه انتقال الماء والمواد الذائبة	الى خارج الشعيرة	الى داخل الشعيرة
فرق ضغط الدم	الى خارج الشعيرة	الى داخل الشعيرة

وجه المقارنة	الشعيرة الدموية	محفظة بومان
نوع السائل الراشح	السائل بين خلوي	السائل الراشح

وجه المقارنة	الاكسجين	ثاني اكسيد الكربون
اسم المركب الناتج نتيجة ارتباطه بالهيموغلوبين	اوكسيهيموغلوبين	كاربامينو هيموغلوبين

وجه المقارنة	الهيموغلوبين	الماء
اسم المركب الناتج نتيجة ارتباطه ثاني اكسيد الكربون	كاربامينو هيموغلوبين	حمض الكربونيك

وجه المقارنة	والاستجابة الخلوية	الاستجابة السائلة
نوع الخلايا المسؤولة عنها	خلايا T	خلايا B بمساعدة خلايا T

الصفحة ٧

مكثف فصل المناعة / الاحياء

مع امتياني لكم بالتفوق والنجاح
الأحياء

مع امتياني لكم بالتفوق والنجاح
الأحياء

الفرع العلمي والاقتصاد المنزلي الفصل الثاني / تقنية الدم والمناعة
(الدورة الشتوية ٢٠١٧)

وجه المقارنة	خلايا T	خلايا B
مكان التمايز	الغدة الزعترية	نخاع العظم

وجه المقارنة	A+	AB-	O+	AB+	O-	B-
عدد مولدات الضد	2	2	1	3	صفر	1

وجه المقارنة	خلايا T المساعدة النشطة	خلايا B اللمفية	خلايا T القاتلة
نوع المواد التي تنتجها	سايتوكاينات	اجسام مضادة	برفورين

*** أسئلة علل:

- ١- يعد جهاز الدوران من الأجهزة وثيقة الصلة بالأجهزة الأخرى في جسم الإنسان؟
لانه جهاز نقل داخلي يربط بين اجهزة الجسم ويحافظ على الاتزان الداخلي للجسم.
- ٢- طريقة توصيل الأكسجين إلى أنسجة الجسم عن طريق خلايا الدم الحمراء أكثر فعالية مقارنة مع انتقاله في بلازما الدم؟
لان ذائبية الاكسجين في بلازما الدم منخفضة
- ٣- يمر الدم ببطء في الكبة؟
لان الشريان الصادر اضيق من الشريان الوارد.
- ٤- تعد عملية إعادة الامتصاص من العمليات المهمة جداً؟
لولاها لاضطر الانسان لشرب كميات كبيرة من الماء.
- ٥- يسهم التواء هنلي في تركيز البول لدرجة كبيرة؟
لان تركيز المواد مرتفع في السائل بين خلوي المحيط بالتواء هنلي.
- ٦- ينتشر ثاني اكسيد الكربون من الشعيرات الدموية الى الحويصلات الهوائية؟
لان تركيزه في الدم اعلى من تركيزه في الحويصلات.
- ٧- يؤدي زواج رجل موجب العامل الريزيسي من امراة سالبة العامل الريزيسي الى انجاب طفل موجب العامل الريزيسي؟
لان جين وجود مولد الضد Rh سائد على عدم وجود مول الضد Rh.
- ٨- عند تسرب خلايا دم حمراء من دم الجنين موجب العامل الريزيسي الى دم امه سالبة العامل الريزيسي تكون اجسام مضاد لا تؤثر فيها؟
لان دمها لا يحتوي على مولدات ضد Rh.
- ٩- يتم إعطاء الأم حقنة من الأجسام المضادة لمولد الضد Rh بعد الولادة مباشرة لطفل موجب العامل الريزيسي؟
يؤدي إلى تحلل الخلايا الدم الحمراء العائدة للطفل الموجب التي تسربت الى دم الام.
- ١٠- في عمليات نقل الدم قد يؤدي اجتماع مولد الضد مع الجسم المضاد له من النوع نفسه الى الموت؟
يحدث تفاعل تخثر يؤدي الى تجمع خلايا الدم الحمراء وترسبها في الاوعية الدموية مما يؤدي الى انسدادها.

الصفحة

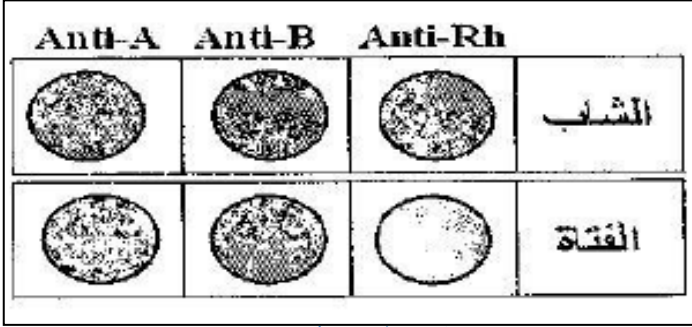
مكثف فصل المناحة / الاحياء

مع امتياني لكم بالتفوق والنجاح
الأحياء

مع امتياني لكم بالتفوق والنجاح
الأحياء

الفرع العلمي والاقتصاد المنزلي الفصل الثاني / تقنية الدم والمناحة
(الدورة الشتوية ٢٠١٧)

أ- يمثل الشكل المجاور عملية تحديد فصيلتي دم لشاب وفتاة. المطلوب:



١- ما فصيلة دم كل من الشاب والفتاة؟

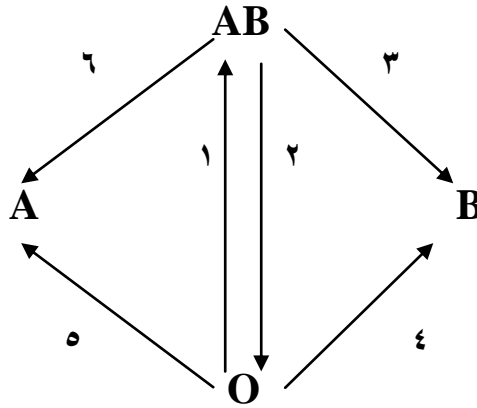
الشاب: AB+ الفتاة: AB-

٢- هل يمكن نقل دم من الشاب إلى الفتاة إذا احتاجت لذلك فسر اجابتك؟

لا: لان الفتاه ستكون اجسام مضادة للعامل Rh+ وحدث تخثر و ترسيب في دمها وموتها

ب- تشير الأسهم من (١ - ٦) في الرسم المجاور إلى عمليات نقل دم من فصيلة إلى أخرى، المطلوب

١- ما الأرقام التي تدل على عمليات النقل الخطأ؟



٢، ٣، ٤

ج) يمثل الجدول الآتي إمكانية نقل الدم بين أشخاص ذوي فصائل دم مختلفة، والمطلوب

١- ما الأرقام التي تشير إلى الحالات التي يجوز فيها نقل الدم والحالات التي لا يجوز فيها نقل الدم؟

٢، ٤، ٧، ٨

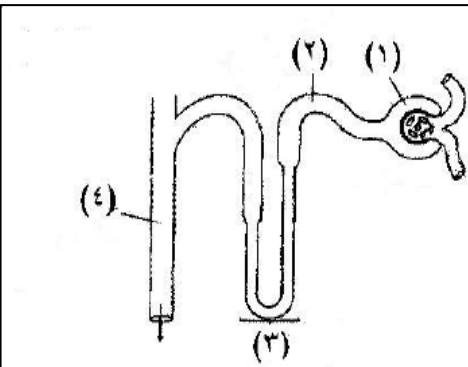
AB	B	A	دم المستقبل / دم المعطي
٣	٢	١	A
٦	٥	٤	B
٩	٨	٧	AB
١٢	١١	١٠	O

د- يمثل الشكل المجاور تركيب الوحدة الأنبوبية الكلوية في الإنسان، والمطلوب:

١- ما أسماء الأجزاء المشار إليها بالأرقام (١، ٢، ٤)؟

١- محفظة بومان ٢- انبوبة قريبة ٣- انبوع جامع

٢- ما وظيفة الجزء المشار إليه بالرقم (٣)؟ تركيز البول



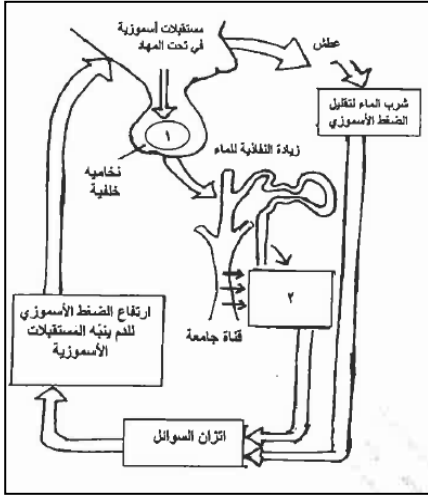
مكثف فصل المناعة / الاحياء

مع امتياني لكم بالتفوق والنجاح
الأحياء

مع امتياني لكم بالتفوق والنجاح
الأحياء

الفرع العلمي والاقتصاد المنزلي الفصل الثاني / تقنية الدم والمناعة
(الدورة الشتوية ٢٠١٧)

هـ- يبين الشكل المجاور دور المستقبلات الأسموزية في تنظيم عمل الكلية، والمطلوب:

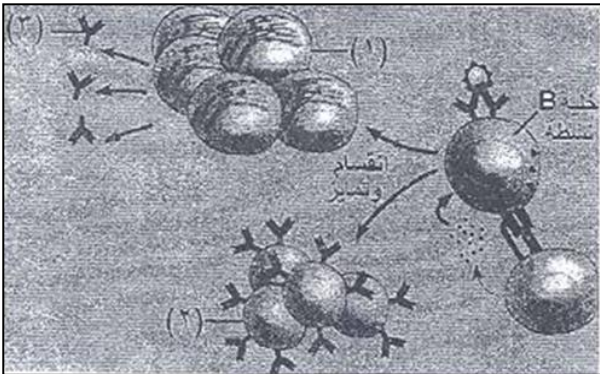


١- أين توجد المستقبلات الأسموزية في منطقة تحت المهاد؟ مراكز العطش

٢- ما اسم الهرمون المفرز من النخامية الخلفية ولمشار اليه بالرقم (١)؟
الهرمون المانع لادرار البول ADH

٣- ما العملية المشار اليها بالرقم (٢) والتي تمثل إحدى عمليات تكوين البول؟
إعادة امتصاص الماء نحو الدم

و- يبين الشكل المجاور آلية عمل الخلايا الليمفية (B) والمطلوب:

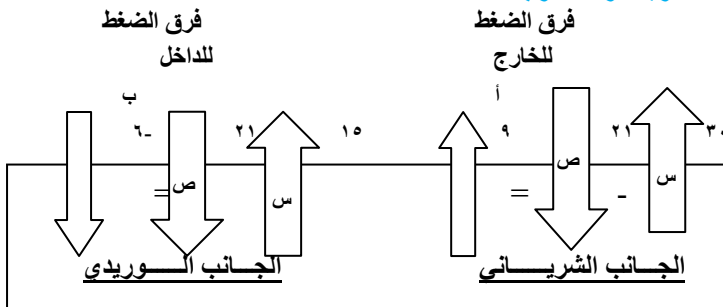


١- أذكر طريقتين يتم بهما تنشيط خلايا (B) للانقسام والتمايز؟
ارتباط مولد الضد بها الساييتوكاينات

٢- ما أسماء الخلايا التي تشير إليها الأرقام (١ ، ٢)؟
١- B بلازمية ٢- B ذاكرة

٣- إلى ماذا يشير الرقم (٣)؟ اجسام مضادة

ز- يمثل الشكل المجاور عملية تبادل المواد في الشعيرة الدموية، والمطلوب:



١- ماذا يمثل كل من الضغط (س ، ص)؟
٢- كمية السائل بين خلوي التي تعود للدورة الدموية في الجانب الوريدي أقل من التي تخرج من الجانب الشرياني؟ فسّر ذلك؟
٣- ماذا تسمى الكمية القليلة من السائل الراشح والتي لا تعود للجانب الوريدي من الشعيرة الدموية؟ وكيف تعود؟

تفرّع من شريان دقيق

١- س ضغط الدم ص الضغط الاسموزي
٢- لان ضغط الدم في الجانب الوريدي منخفض
٣- الليمف. تعود إلى الشعيرات اللمفية التي تصب في الاوعية اللمفية إلى الدم

الصفحة ١