

بسم الله الرحمن الرحيم



المملكة الأردنية الهاشمية
وزارة التربية والتعليم
إدارة الامتحانات والإقباراة
قسم الامتحانات العامة

مكتبة طارق بن زياد
مختصون في التوجيهي
أسئلة الوزارة مع إجاباتها النموذجية
خلوي: ٠٦٨٢٨٢-٠٧٨/٨٥٦٠٠٢٦


امتحان شهادة الدراسات الثانوية العامة لعام ٢٠١٨ / الدورة الشتوية

(وثيقة محمية / محدودة) مادة العربية / ثانوية العامة
المبحث : الجغرافيا / المستوى الثالث + الجغرافيا الإضافية
الفرع : الأدبي + الفندقية والسياحي (نفس الورقة الامتحانية)
ملحوظة : أجب عن الأسئلة الآتية جميعها وعددها (٥)، علماً بأن عدد الصفحات (٣).
مدة الامتحان : ٣٠ : ١ : ٣٠
اليوم والتاريخ : الخميس ٢٠١٨/١/١١

السؤال الأول : (١٦ علامة)

عرّف المفاهيم والمصطلحات الآتية :

- ١- الارتفاع النسبي.
- ٢- الوادي النهري.
- ٣- المراوح الفيضية.
- ٤- حق النقض (الفيتو).
- ٥- الأمن الغذائي العربي.
- ٦- الفائض المائي.
- ٧- العواصف الرملية.



السؤال الثاني : (١٨ علامة)

اذكر :

- ١- مميزات نموذج ارتفاع الأرض الآلي. (٤ علامات)
- ٢- الطرق التي تتم من خلالها التجوية الميكانيكية. (٦ علامات)
- ٣- المعوقات الطبيعية التي تؤدي إلى انخفاض الإنتاجية الزراعية في الوطن العربي. (٤ علامات)
- ٤- أسباب عدم إمكانية الجامعة العربية من تحقيق أهدافها. (٤ علامات)

يتبع الصفحة الثانية ...

الصفحة الثانية

السؤال الثالث : (١٤ علامة)

يتكوّن هذا السؤال من (٧) فقرات، اختر الإجابة الصحيحة من البدائل التي تلي كل فقرة، وكتبها في دفتر إجابتك :



١- الخرائط التي تُمثّل البُعد الثالث أو عنصر الارتفاع هي الخرائط :
(الطبوغرافية ، الاقتصادية ، السياسية ، الموضوعية)

٢- الحت الذي يتعمّق به النهر باتجاه عمودي على قاع المجرى هو الحت :
(الجانبي ، الرأسي ، التراجعي ، الأفقي)

٣- أنشئ سدّ الوحدة على الحدود السورية الأردنية على نهر :
(الزرقاء ، اليرموك ، الأردن ، بردى)

٤- النزاع بين الدول بسبب الانتقال غير المشروع عبر الحدود سواء كان للأشخاص أو البضائع هو مثال للنزاع على :
(وظيفة الحدود ، وضع الحدود ، ملكية مناطق حدودية ، المصادر الطبيعية)

٥- تقع جزيرة قبرص في البحر :

(الأحمر ، الأسود ، الكاريبي ، المتوسط)

٦- يُشكّل إنتاج الوطن العربي من الفوسفات من الإنتاج العالمي ما نسبته :
(٢٢% ، ٣٢% ، ٤٢% ، ٦٢%)

٧- أكثر القطاعات الاقتصادية استهلاكاً للمياه في الوطن العربي هو القطاع :
(الصناعي ، المنزلي ، الزراعي ، التجاري)

السؤال الرابع : (١٦ علامة)

(أ) فسّر ما يأتي :

(٣ علامات)

١- يدعم العدد السكاني الكبير للوطن العربي أمنه القومي.

(٤ علامات)

٢- رغم الصلة الوثيقة بين الجغرافيا السياسية والبشرية إلا أنه يوجد فوارق بينهما.

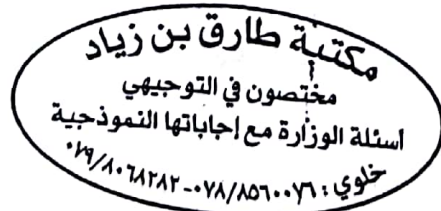
(٤ علامات)

٣- سبب نشأة السرير أو الرق (الصحاري العرقية).

(٥ علامات)

(ب) وضّح مزاي النفط العربي.

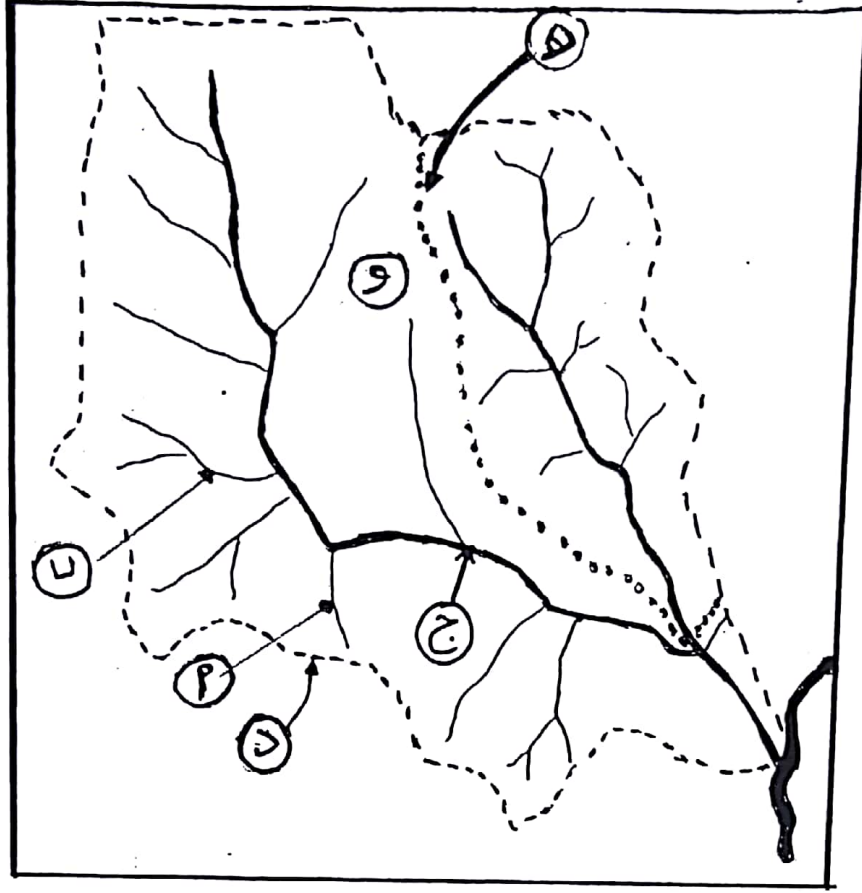
يتبع الصفحة الثالثة ...



السؤال الخامس : (١٦ علامة)

(٦ علامات)

أ) ادرس الشكل الآتي، ثم أجب عن الأسئلة التي تليه :



١- ما رتب الأنهار التي تُمثّلها الرموز (أ ، ب ، ج) ؟

٢- ماذا يُمثّل الرمز (د) ؟

٣- ماذا يُمثّل الرمز (هـ) ؟

٤- ما المساحة المحصورة داخل الخط المتقطع التي يُمثّلها الرمز (و) ؟

ب) أعطِ مثالا لكل مما يأتي :

١- شكل أرضي ذو مرتبة أولى.

٢- شكل أرضي ذو مرتبة ثانية.

٣- شكل أرضي ناجم عن الإرساب النهري.

٤- دولة تتعايش فيها القوميات بالرغم من تعددها.

٥- عالم مسلم له آراء في الفكر الجيومورفولوجي.

(١٠ علامات)

انتهت الأسئلة

