

زمن الاختبار : ساعة

اسم المدرسة :

الشعبة :

اسم الطالب :

( ٤ علامات )

اسم السؤال : ارسم دائرة حول الإجابة الصحيحة فيما يأتي:

١- موطن أشجاره كثيرة وكبيرة، تعيش فيه حيوانات كثيرة:

- أ- الصحراء      ب- الغابة      ج- النهر

٢- يلوث تخان المصانع والسيارات:

- أ- التربة      ب- الماء      ج- الهواء

٣- عند منع صيد الأسماك نزل:

- أ- الأفاعي      ب- الفراشات      ج- الأسود

٤- المكان وما يوجد فيه من مكونات حية وغير حية هو:

- أ- الغابة      ب- البيئة      ج- الموطن

( ٥ علامات )

اسم السؤال : صنف مكونات البيئة إلى مكونات حية أو غير حية:









مكونات حية

مكونات غير حية

- الأشجار
- الصخور
- الحيوانات
- الأنهار






( ٥ علامات )

اسم السؤال : صل بخط بين الكائن الحي وموطنه المناسب:

الغبار العنقود الثاني نموذج B

السؤال الرابع: استعن بالصورة واكتب اسم كل حيوان على الترتيب في الفراغ.

				
السُّجَابُ	الثَّعْلَبُ	الفَيْدُ	الثَّغْلَبُ	الثَّنْبَابُ

أ- يَتَغَذَّى السُّجَابُ عَلَى .....

ب- يَتَغَذَّى الثَّعْلَبُ عَلَى .....

ج- يَتَغَذَّى الثَّنْبَابُ عَلَى .....

د- يَتَغَذَّى الفَيْدُ عَلَى .....

السؤال الخامس: ضع إشارة (✓) أمام العبارة الصحيحة وإشارة (x) أمام العبارة الخاطئة: (4 علامات)




أ- ( ) مياه المجاري تلوّث آبار الماء.

ب- ( ) يمكن الاستفادة من النفايات الصلبة وإعادة استخدامها.

ج- ( ) جمعية أصدقاء البيئة تساعد في الحفاظ على النظافة.

د- ( ) زراعة الأشجار يضر البيئة.

السؤال السادس: ضع إشارة (✓) تحت السلوك الصحيح وإشارة (x) تحت السلوك الخاطئ: (3 علامات)

		
( )	( )	( )