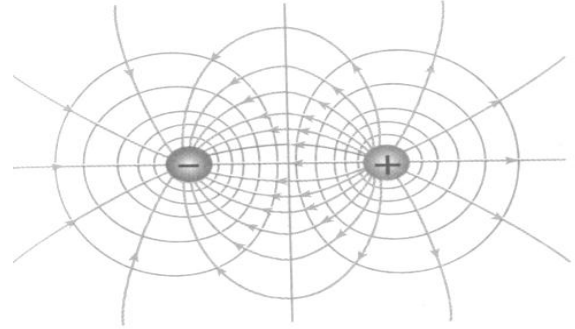
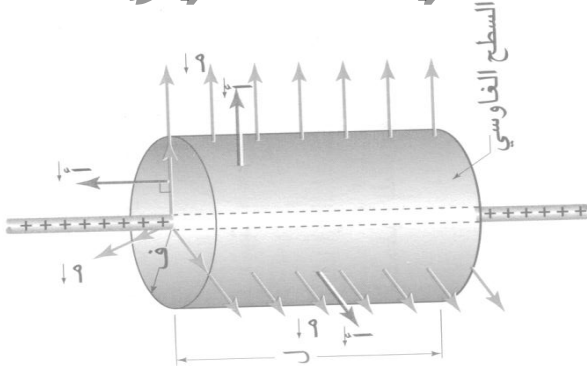


بِسْمِ اللَّهِ الرَّحْمَنِ الرَّحِيمِ

مادة الفيزياء للصف الثاني ثانوي

علمي

الفصل الثاني : الجهد الكهربائي



المحاضر الأستاذ : جمعة عليان

ت / 0788243842-0775152141

المفاتيح المشفرة للنجاح

*عزيزي الطالب تأمل النقاط التالية قبل دراسة المادة فهي اختصار لكتاب " المفاتيح العشرة للنجاح " للكاتب والمحاضر العالمي د. ابراهيم الفقي ، وهو مؤسس علم قوة الطاقة البشرية :

1. الدوافع :

ان الرغبة هي اول قاعدة للنجاح ، فالرغبة هي غرس البذور في ارض النجاح ، وسر النجاح هو الرغبة المشتعلة.

2. الطاقة " وقود الحياة " :

تجنب مصاحبة الاشخاص الذين نطلق عليهم لصوص الطاقة وهم دائمي الشكوى لانهم سيهبطون من عزيمتك ويسرقون طاقتك ويشعرونك بالاحباط ، وبالتالي ستجد ان مستواك في هبوط مستمر .

3. الممارسة (المعرفة) :

المعرفة هي قوة ، وبمقدار المعرفة التي لديك ستكون مبدعا وستكون لديك فرصا اكبر لتصبح سعيدا وناجحا ..فبالمعرفة ترتفع درجة ذكائك و يفتح ذهنك لآفاق ومجالات جديدة.

4-التصور:

دع خيالك يبسح ، ان خيالك له القوة التي يمكن ان تساعدك على تغيير حياتك ، ثق بنفسك وكرر كثيرا " باستطاعتي ان انجح..انا واثق من قدرتي على النجاح ، وستصل باذن الله لأعلى الدرجات " .

5-الفعل :

المعرفة وحدها لا تكفي ، لا بد أن يصحبه التطبيق ..والاستعداد وحده لا يكفي فلا بد من العمل .

6-التوقع :

ابتداء من اليوم ارتفع بتوقانك وكن دائما متفائلا ..كيف تتسى الحديث الشريف الذي يقول " تفاعلوا بالخير تجدوه " ، ونحن الآن حيث احضرتنا افكارنا وسنكون غدا حيث تاخذنا افكارنا .

7- الالتزام :

ألزم نفسك ان تكون الافضل في كل شئ ، وان تكون وسط الأشخاص الايجابيين والناجحين ، وان تقوم بعبادة الله ، وبتأدية صلواتك واطلب من الله المساعدة وستكون اسعد الناس .

8-المرونة:

المرونة والتاقلم يقربانك اكثر من تحقيق اهدافك ، فقائد الطائرة يكون دائما مستعدا لتعديل مساره طوال الرحلة الى ان يصل الى غايته في النهاية .

9-الصبر

يقول توماس أديسون (مخترع المصباح) :كثير من حالات الفشل في الحياة كانت لاشخاص لم يدركو كم كانوا قريبين من النجاح عندما اقدموا على الاستسلام .

10- الانضباط

قم بعمل الواجبات المفروضة عليك الان ولا تقم بعمل أي شئ آخر حتى تؤدي هذه الواجبات ، ابدأ بالتدريج بناء عضلة الانضباط الذاتي ، وستجد نفسك متجها لحياة مليئة بالسعادة والصحة والنجاح .

والله ولي التوفيق



الفصل الثاني : الجهد الكهربائي

فرق الجهد الكهربائي

في الشكل المقابل عند محاولة قوة خارجية نقل الشحنة الكهربائية من الموقع (أ) الى الموقع (ب) فاننا نبذل شغلا يخزن على شكل طاقة وضع :

$$\Delta \text{ط و} = \text{كهربائية} = (\text{ط و})_{\text{ب}} - (\text{ط و})_{\text{أ}} = \text{الشغل ب} \leftarrow \text{أ}$$

حيث (ط و : طاقة الوضع) .

ويعرف فرق الجهد الكهربائي على انه :

" التغير في طاقة الوضع الكهربائية لكل وحدة شحنة "

، أي أن :

$$\frac{\text{ط و ب} - \text{ط و أ}}{\text{ش.}} = \frac{\Delta \text{ط و}}{\text{ش.}} = \text{ج ب} - \text{ج أ} = \text{ج ب} - \text{ج أ}$$

وقد اصطلح على ان جهد نقطة موجودة في الملائنهاية (∞) يساوي صفرو بالتالي يمكن تعريف الجهد الكهربائي

على انه:

" هو الشغل المبذول من قبل قوة خارجية لنقل وحدة الشحنات الموجبة من الملائنهاية إلى تلك النقطة بسرعة ثابتة "

اذن شغل القوة الخارجية :

$$\frac{\text{الشغل أ} \leftarrow \text{ب}}{\text{ش.}} = \text{ج ب} - \text{ج أ} = \text{ج ب} - \text{ج أ}$$

اذن شغل القوة الكهربائية :

$$\frac{\text{الشغل ب} \leftarrow \text{أ}}{\text{ش.}} = \text{ج ب} - \text{ج أ} = \text{ج ب} - \text{ج أ}$$

- نلاحظ عكس الرموز في شغل القوة الخارجية
- ونلاحظ توافق الرموز في شغل القوة الكهربائية وطاقة الوضع.



الفصل الثاني : الجهد الكهربائي

وبما أن فرق الجهد هو التغير في طاقة وضع وحدة الشحنات، فإن وحدته هي وحدة طاقة مقسومة على وحدة شحنة أي: جول/ كولوم؛ وتعرف هذه الوحدة باسم الفولت.

والجهد كمية غير متجهة؛ إذ إنه ناتج قسمة كميتين غير متجهتين هما الشغل (أو طاقة الوضع) على الشحنة.

ان نظام (الشحنة الكهربائية - المجال الكهربائي) نظام محافظ ، أي ان الطاقة الكلية الميكانيكية للنظام محافظ :

$$\Delta ط م = \Delta ط و + \Delta ط ح = \text{صفرا}$$

$$\Delta ط و = - \Delta ط ح$$

تؤدي حركة الشحنة الحرة الموجبة تحت تأثير القوة الكهربائية فقط الى نقصان طاقة الوضع الكهربائية المخزنة فيها ، ويقابلها زيادة مساوية في الطاقة الحركية ، فالقوة الكهربائية تبذل شغلا (ش ك) على الشحنة تحول طاقة الوضع الكهربائية المخزنة فيها الى طاقة حركية ، أي أن :

$$\text{ش ك} = - \Delta ط و = \Delta ط ح$$



الفصل الثاني : الجهد الكهربائي

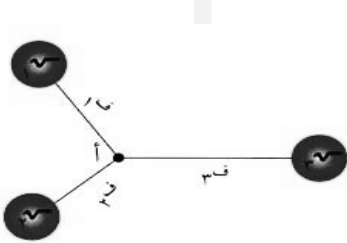
سؤال : ماذا نعني بقولنا: إن الجهد الكهربائي في نقطة ما 6 فولت؟
هذا يعني : اننا نحتاج الى شغل مقداره 6 جول لنقل وحدة الشحنات الموجبة من الملائنهاية الى تلك النقطة.

سؤال : ماذا نعني بقولنا: إن الجهد الكهربائي في نقطة ما -6 فولت؟
هذا يعني : اننا نحتاج الى شغل مقداره 6 جول لنقل وحدة الشحنات الموجبة من تلك النقطة الى الملائنهاية.

سؤال : ماذا يحدث لطاقة وضع شحنة الاختبار عند اقترابها من الشحنة الموجبة؟
يزداد التنافر وبالتالي تزداد طاقة وضعها .

سؤال : ماذا يحدث لطاقة وضع شحنة الاختبار عند اقترابها من الشحنة السالبة؟
يقل التنافر وبالتالي تقل طاقة وضعها .

يمكن حساب جهد نقطة معينة تقع في مجال شحنة ما من خلال القانون :




$$ج = 9 \times 10^9 \frac{ش}{ف}$$

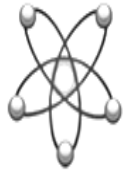
حيث ش : مقدار الشحنة .

ف : المسافة بين الشحنة والنقطة المراد حساب الجهد عندها .
وإذا كانت النقطة في مجال عدة شحنات فان :

$$ج = 9 \times 10^9 \left(\frac{ش1}{ف1} + \frac{ش2}{ف2} + \frac{ش3}{ف3} + \dots \right)$$

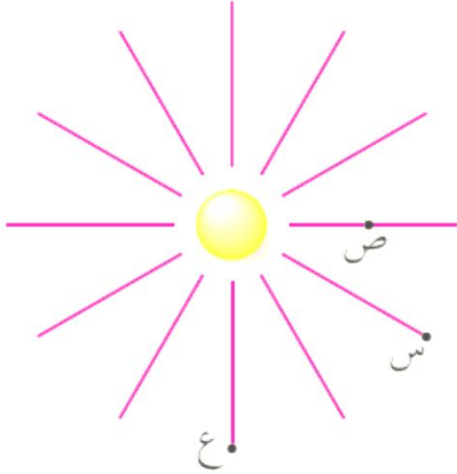


ملاحظة : الجهد كمية قياسية لذلك يجب تعويض اشارة الشحنة .



الفصل الثاني : الجهد الكهربائي

مثال 1 : يبين الشكل ثلاث نقاط (س ، ص ، ع) تقع ضمن المجال الكهربائي لشحنة نقطية ، بعد النقطة (س) عن الشحنة يساوي بعد النقطة ع ، وجد (ج س ص = 3 فولت) . أجب عما يأتي :



1. أي النقطتين (س ، ص) جهدا اعلى ؟
2. ما نوع الشحنة المولدة للمجال الكهربائي ؟
3. حدد اتجاه خطوط المجال الكهربائي ؟
4. قارن بين جهد (ج س ص ، ج ص ع) .

مثال 2 : يبين الشكل نقطة (س) تقع بين شحنتين نقطيتين وعلى الخط الواصل بينهما ، اذا كانت ش1 موجبة و (ج س = صفر) . فأجب عما يأتي :



1. ما نوع الشحنة ش2 ؟
2. ايهما اكبر مقدارا (ش1) أم (ش2) ؟



اعداد الاستاذة: جمعة وليان ت/0775152141-0788243842



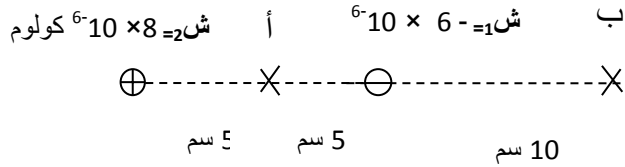
الفصل الثاني : الجهد الكهربائي

- مثال 3 : شحنة مقدارها 3×10^{-6} كولوم ، موضوعة في النقطة أ جهدها (8) فولت ، احسب :
- 1- طاقة الوضع الكهربائية للشحنة في النقطة أ .
 - 2- الشغل اللازم لنقلها الى النقطة ب جهدها 12 فولت .
 - 3- التغير في طاقة وضع الشحنة لنقلها الى النقطة ب والتي جهدها 12 فولت .
 - 4- شغل القوة الخارجية اللازم لنقل الشحنة من النقطة أ الى مالانهاية .

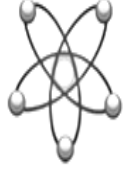


الفصل الثاني : الجهد الكهربائي

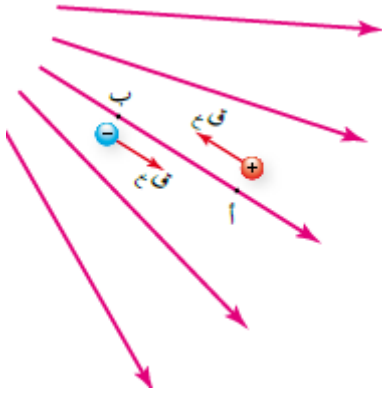
مثال 4 : في الشكل التالي ، احسب ما يلي :



- 1- جهد النقطة أ .
- 2- جهد النقطة ب .
- 3- طاقة الوضع لشحنة مقدارها (4×10^{-6}) كولوم موضوعة في النقطة أ .
- 4- فرق الجهد بين النقطتين (أ و ب) .
- 5- شغل القوة الخارجية اللازم لنقل الشحنة 4×10^{-6} من النقطة أ الى النقطة ب .



الفصل الثاني : الجهد الكهربائي



مثال (5) ص 34 : شحنة نقطية (2×10^{-9}) كولوم نقلت من النقطة أ الى النقطة ب في مجال كهربائي بسرعة ثابتة كما يبين الشكل ، اذا بذلت القوة الخارجية شغلا (14×10^{-9}) جول فاحسب :

1. فرق الجهد الكهربائي بين النقطتين ب وأ (ج ب - ج أ)
2. الشغل الذي تبذله قوة خارجية لنقل شحنة (-2×10^{-9}) كولوم من ب الى أ بسرعة ثابتة



الفصل الفانف : الففم الكفرففانف

مفالف 6: شففانف نفففانف : -5×10^{-9} كولوم، 6×10^{-9} كولوم، المسافة بفنفما 10 سم. افسب:

أ- ففد النففة (د) الفف فف مفنصف مسافة بفنفما.

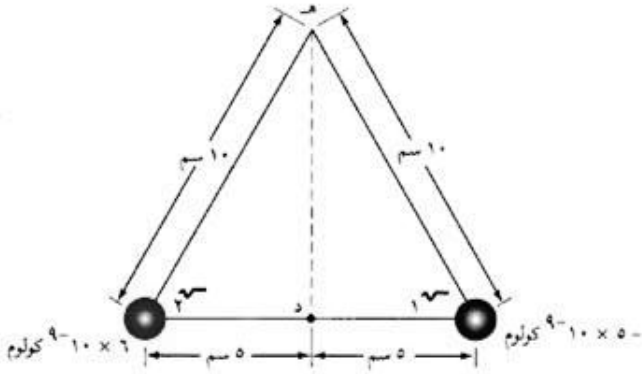
ب- ففد النففة (هـ) الفف ففبف عن كلففهما 10 سم.

ج- شغل الففة الفارفة الفلزم لنقل شففة مقدارها -2×10^{-9}

كولوم من النففة د إلى النففة (هـ).

د- طاقة الوضف الكفرففانفة للشففة -2×10^{-9} كولوم فف

النففة هـ .

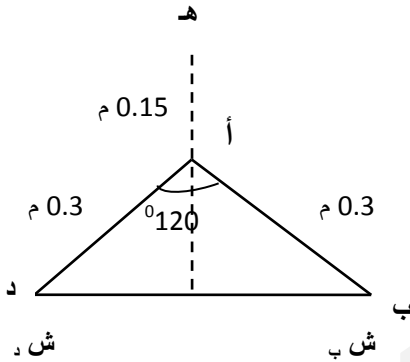




الفصل الثاني : الجهد الكهربائي

مثال 7 : وزارة 2005 / بالاعتماد على المعلومات المثبتة على الشكل المجاور ، وإذا علمت ان (ش ب = ش د = 5×10^{-9} كولوم) والشحنات نقطية وموضوعة في الهواء ، فاحسب مايلي :

- 1- الجهد المحصل عند النقطة أ .
- 2- مقدار ونوع الشحنة النقطية الواجب وضعها في النقطة (ه) ليصبح الجهد الكهربائي الكلي في النقطة (أ) = صفر .





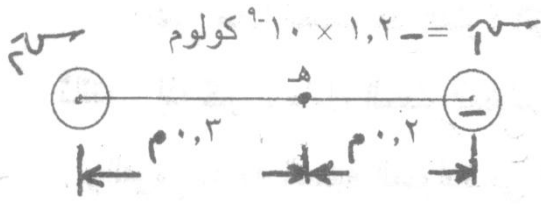
الفصل الثاني : الجهد الكهربائي

مثال (8) وزارة 2006 الدورة الشتوية : بالاعتماد على المعلومات المثبتة على الشكل (ش 1 ، ش 2) شحنتان نقطيتان موضوعتان في الهواء ، اذا كان الجهد الكهربائي في النقطة (هـ) يساوي صفر فاجب عما يأتي :

1 - احسب مقدار ونوع الشحنة (ش 2) .

2- احسب المجال الكهربائي في النقطة هـ مقدارا واتجاها .

3- ماذا نعني بقولنا " شحنة نقطية "



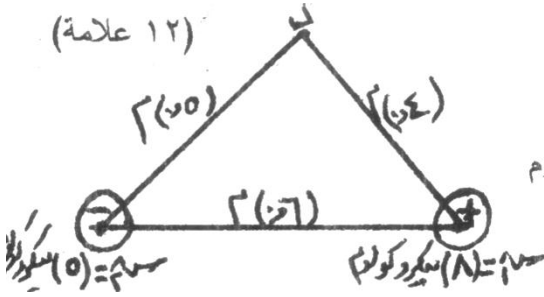


الفصل الثاني : الجهد الكهربائي

مثال 9 : وزارة 2007 دورة صيفية / شحنتان كهربائيتان نقطيتان موضوعتان في الهواء كما في الشكل ، بالاعتماد على المعلومات المثبتة عليه احسب ما يأتي :

1- القوة الكهربائية المتبادلة بينهما مقداراً واتجاهاً.

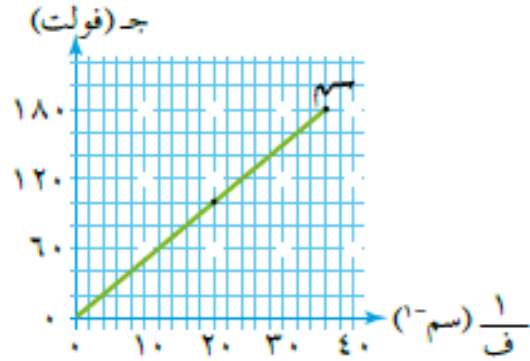
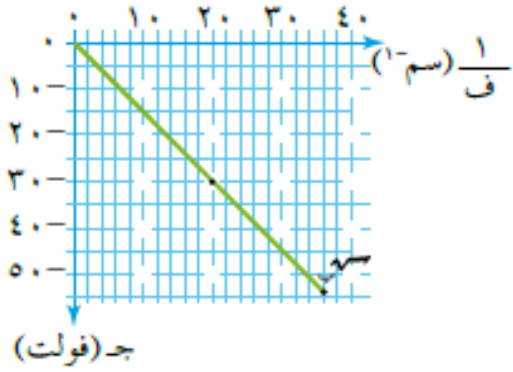
2- شغل القوة الخارجية المبذول لنقل شحنة موجبة مقدارها (2×10^{-6}) كولوم من الملائمة الى النقطة د .





الفصل الثاني : الجهد الكهربائي

مثال (10) : سؤال (3) ص 56 يبين الشكل تمثيلا بيانيا للعلاقة بين الجهد الناشئ عن كل من شحنتين نقطيتين (ش أ ، ش ب) ومقلوب البعد عن كل منهما ، اعتمادا على البيانات جد مقدار كل من الشحنتين ونوعهما .





الفصل الثاني : الجهد الكهربائي

طاقة الوضع الكهربائية لنظام يتكون من شحنتين
نقطيتين

يمكن القول في هذه الحالة طاقة الوضع الكهربائية لنظام يتالف من شحنتين موضوعتين في الهواء وتفصل بينهما مسافة (ف) يعطى بالعلاقة الرياضية الآتية :

$$W = 9 \times 10^9 \left(\frac{q_1 q_2}{f} \right)$$

- إذا كانت الشحنتان متشابهتين في النوع فان طاقة الوضع للنظام تكون موجبة (+) ، وهذا يتطلب قوة خارجية تؤثر في احدهما فتبذل شغلا للتغلب على قوة التنافر الكهربائية ، وهذا ظهر على شكل زيادة في طاقة الوضع الكهربائية المخزنة في النظام .

$$W = 9 \times 10^9 \left(\frac{q_1 q_2}{f} \right)$$

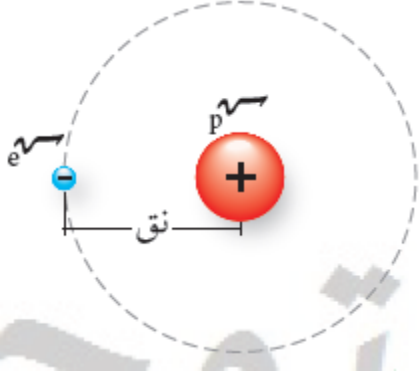
- إذا كانت الشحنتان مختلفتين في النوع فان طاقة الوضع للنظام تكون سالبة (-) ، وهذا يتطلب قوة خارجية تؤثر في احدهما فتبذل شغلا بعكس قوة التجاذب الكهربائية، فتبذل القوة الخارجية شغلا سالبا يسحب طاقة من النظام .

$$W = -9 \times 10^9 \left(\frac{q_1 q_2}{f} \right)$$

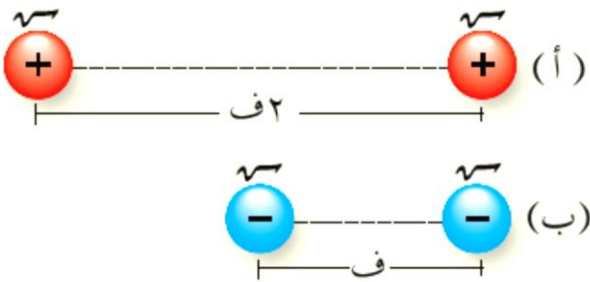


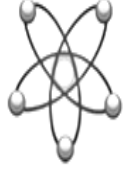
الفصل الثاني : الجهد الكهربائي

مثال 1 : يفصل بين الالكترون والبرتون في ذرة الهيدروجين مسافة ($5,29 \times 10^{-11}$) تقريبا ، احسب طاقة الوضع الكهربائية لذرة الهيدروجين .



مثال 2 : الشكل المقابل يمثل نظامين للشحنات (أ و ب) قارن بين مقدار طاقة الوضع الكهربائية المخزنة في كل نظام .





الفصل الثاني : الجهد الكهربائي


مثال 3 : وزارة 2007 دورة شتوية : شحنتان كهربائيتان نقطيتان موضوعتان في الهواء (ش₁ = -4 × 10⁻⁹ كولوم ، ش₂ = +9 × 10⁻⁹ كولوم) ، كما في الشكل ، بالاعتماد على المعلومات المثبته عليه ، أجب عما يأتي :

أولا : احسب المجال الكهربائي في النقطة ه مقدارا واتجاها .

ثانيا : اذا وضعت في النقطة ه شحنة كهربائية نقطية (ش₃ = +2 × 10⁻⁶ كولوم ، فاحسب ما يأتي :

1- القوة الكهربائية والمؤثرة في ش₃ مقدارا واتجاها .

2- طاقة الوضع الكهربائية للنقطة ش₃ .

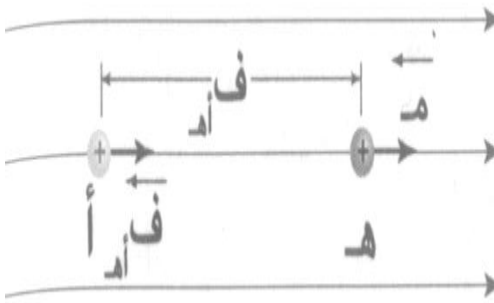




الفصل الثاني : الجهد الكهربائي

فرق الجهد الكهربائي في مجال كهربائي منتظم

في الشكل المقابل :

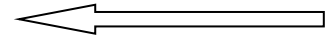


$$\begin{aligned} \text{الشغل } \leftarrow \text{ق} = \text{ق} \cdot \text{ف} \cdot \cos \theta \\ \text{ش} = \text{م.ش.ف} \cdot \cos \theta \end{aligned}$$

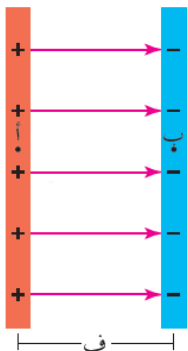
$$\frac{\text{الشغل}}{\text{ش.}} = \text{ج.أ.ب}$$

$$\frac{\text{م.ش.ف}}{\text{ش.}} = \text{ج.أ.ب}$$

$$\Delta \text{ج.ب} = \text{م.ف} \cdot \cos \theta$$



تبين المعادلة السابقة، العلاقة بين فرق الجهد والمجال، عندما يكون المجال منتظماً. ومن هذه المعادلة نلاحظ أنه يمكن حساب المجال بوحدة أخرى غير نيوتن/كولوم ، هي فولت/م.



ومن العلاقة السابقة يمكن حساب فرق الجهد بين صفيحتين مشحونتين ، أي ان :

$$\text{ج.أ.ب} = \text{م.ف} \cdot \cos \theta$$

$$\text{ج.ب} = \text{م.ف} \cdot \cos \theta$$

$$\text{ج.ب} = \text{م.ف}$$

اعداد الاستاذ: جمعة وليان ت/ 0775152141-0788243842

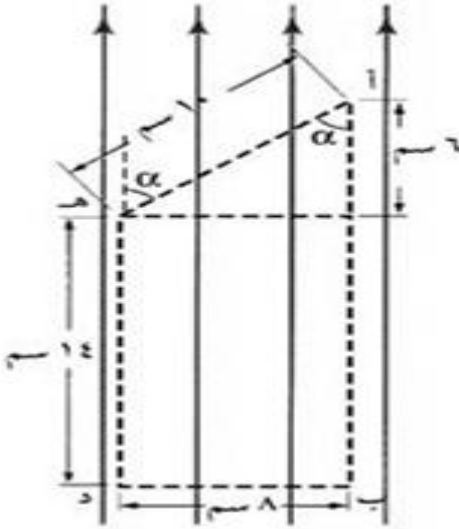


الفصل الثاني : الجهد الكهربائي

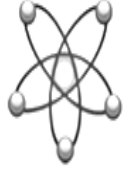


مثال 1 : مجال كهربائي منتظم مقداره 10^3 فولت/م، إذا علمت أن أ ب = 20سم؛ ب د = 8سم؛ د ه = 14سم. كما يوضح الشكل المقابل .

احسب: 1- ج ا ب 2- ج ب د 3- ج د ا 4- ج ه ا .



اعداد الاستاذ: جمعة وليان / ت/ 0775152141-0788243842



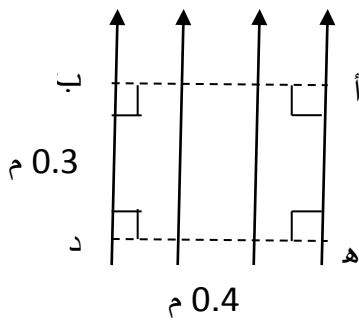
الفصل الثاني : الجهد الكهربائي

مثال 2 : وزارة 2005 دورة صيفية/ يمثل الشكل المجاور مجالا كهربائيا منتظما (10^3 فولت / م ، اعتمادا على القيم المثبتة عليه ، احسب :

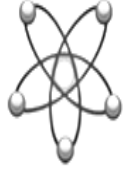
1- ج ا هـ (الجهد من أ الى هـ)

2- الشغل اللازم لنقل شحنة مقدارها مقداره (1) ميكروكولوم

من النقطة هـ الى النقطة ب.



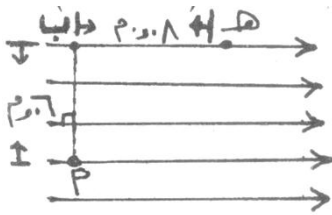
اعداد الاستاذ: جمعة عليان / ت/ 0775152141-0788243842



الفصل الثاني : الجهد الكهربائي

مثال 3 : وزارة 2008 دورة شتوية: يمثل الشكل مجالا كهربائيا منتظما مقداره (10^4) فولت / م ، (أ ، ب ، هـ) نقاط واقعة داخله ، اعتمادا على الابعاد المبينة في الشكل :

- 1- احسب الشغل المبذول لنقل شحنة مقدارها (1×10^{-9}) كولوم من هـ الى أ بسرعة ثابتة .
- 2- حدد نقطتان على الشكل فرق الجهد بينهما يساوي صفر . فسر ذلك .



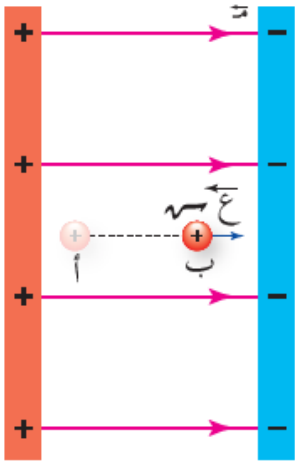
اعداد الاستاذ: جمعة وليان ت/0775152141-0788243842



الفصل الثاني : الجهد الكهربائي



مثال 4: تحرك بروتون شحنته (ش.) وكتلته (ك) من السكون من النقطة (أ) عند الصفيحة الموجبة الى النقطة (ب) عند الصفيحة السالبة في الحيز بين صفيحتين كما في الشكل ، اذا كان فرق الجهد بين الصفيحتين (ج) ، فاثبت ان سرعة البرتون بعد قطعه الازاحة بين الصفيحتين يعطى بالعلاقة الاتية :



$$v = \sqrt{\frac{2 \cdot \text{ج} \cdot \text{ك}}{\text{ك}}}$$

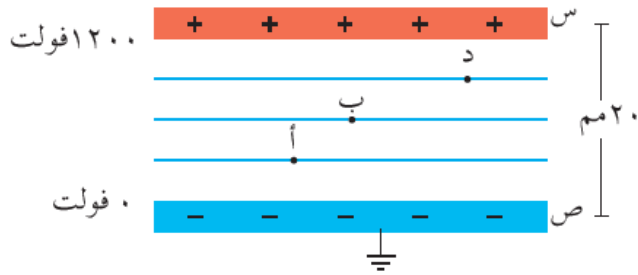


الفصل الثاني : الجهد الكهربائي

مثال 5: صفيحتان موصلتان متوازيتان شحنة الصفيحة (س) بشحنة موجبة ، ووصلت الصفيحة (ص) بالارض فشنت بالحث بشحنة سالبة ، والشكل يبين سطوح تساوي الجهد في الحيز بين الصفيحتين . احسب :

1. المجال الكهربائي بين الصفيحتين مقدارا واتجاها.

2. الجهد الكهربائي عند النقاط (أ ، ب ، د) .





امداد الاستاذ: جامعة عليان ت/ 0775152141-0788243842

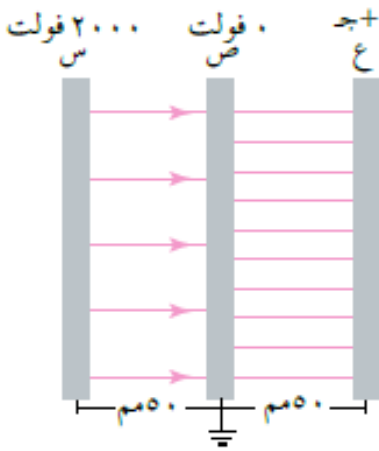


الفصل الثاني : الجهد الكهربائي

مثال (6) : سؤال 6 ص 121 : معتمدا على البيانات المثبتة على الشكل ، والذي يبين ثلاث صفائح موصلة مختلفة في الجهد ، اجب عن الاسئلة الاتية :

أ. كيف يتناسب عدد خطوط المجال الكهربائي مع كثافة الشحنة السطحية ؟

ب. احسب :



1. المجال الكهربائي بين الصفحتين (ص) و (س) .

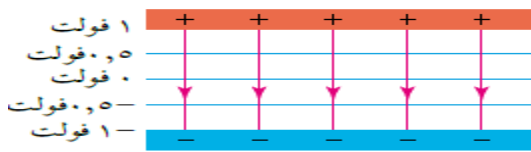
2. المجال الكهربائي بين الصفحتين (ص) و (ع) مقدارا واتجاها .

3. جهد الصفيحة (ع)

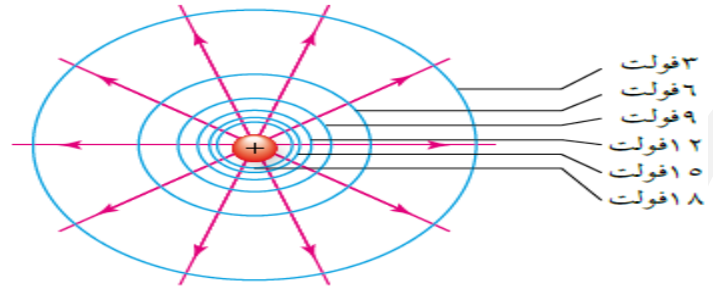


الفصل الثاني : الجهد الكهربائي

سطوح تساوي الجهد

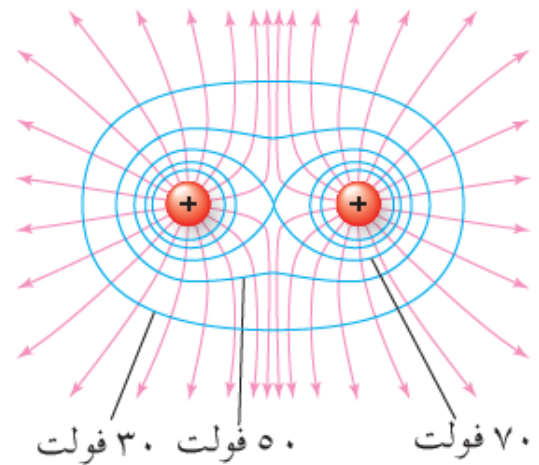
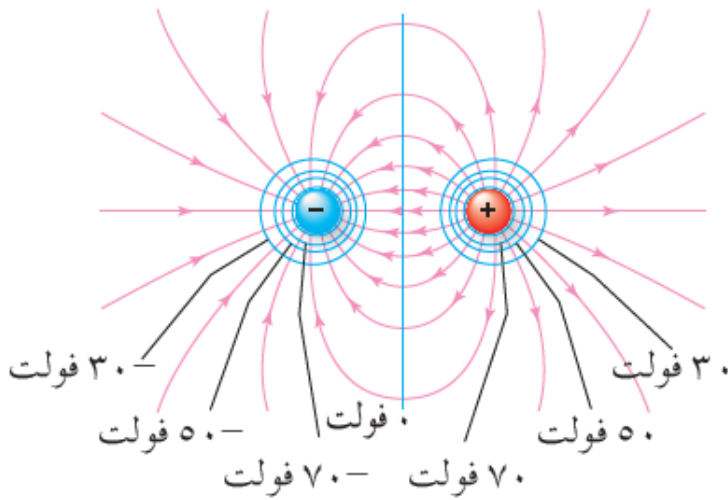


(ب)



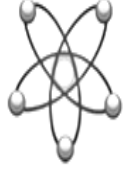
(ا)

سطح تساوي الجهد : هو السطح الذي لا تحتاج القوة الكهربائية الى بذل الى شغل لنقل الشحنة عليه .



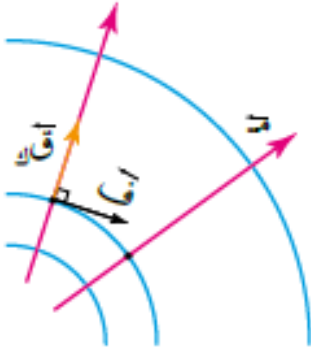
صفات سطوح تساوي الجهد :

- 1- سطوح وهمية تسهم في تصور توزيع قيم الجهد.
- 2- سطوح تساوي الجهد تحيط بالشحنة.
- 3- سطوح تساوي الجهد لا تتقاطع.
- 4- سطوح تساوي الجهد متعامدة مع خطوط المجال.



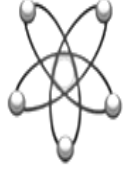
الفصل الثاني : الجهد الكهربائي

سؤال : اثبت رياضيا ان سطوح تساوي الجهد متعامدة مع خطوط المجال ؟





امارة الامارات : جامعة وليمين ت/ 0775152141-0788243842



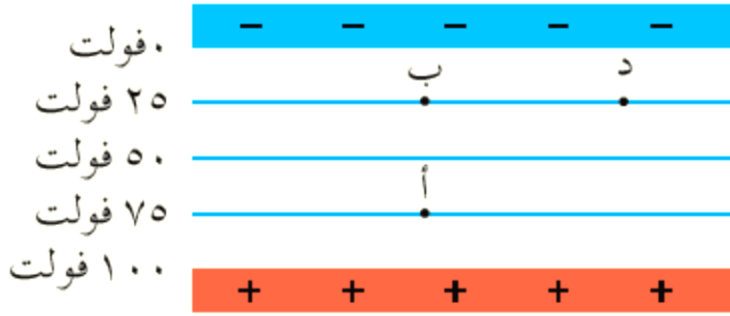
الفصل الثاني : الجهد الكهربائي

مثال (1) : يبين الشكل سطوح تساوي الجهد في

الحيز بين صفحتين موصلتين متوازيتين . احسب :

أ. فرق الجهد (ج أ ب) .

ب. شغل القوة الكهربائية المبذول عند نقل شحنة (2) نانوكولوم من (ب) الى (د) .





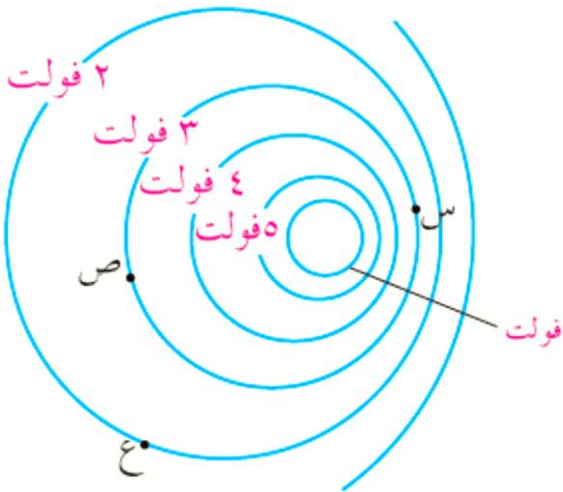
امارة الامارات : جامعة وليان ت/ 0775152141-0788243842

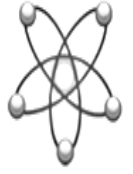


الفصل الثاني : الجهد الكهربائي

مثال (2) : يبين الشكل سطوح تساوي الجهد لتوزيع من الشحنات الكهربائية معتمدا على البيانات المثبتة في الشكل أجب عما يأتي :

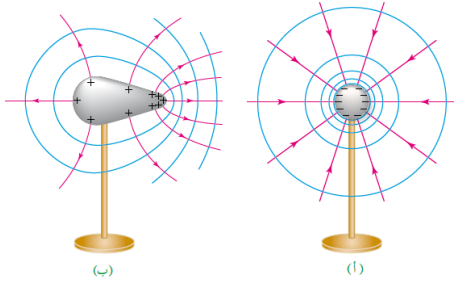
- هل الجهد عند النقطة (س) يساوي الجهد عند النقطة (ص) ؟ فسر اجابتك
- قارن بين مقدار المجال الكهربائي عند النقطتين (س) و (ص) مفسرا اجابتك .
- احسب الشغل اللازم لنقل بروتون من النقطة (ع) الى النقطة (ص) بسرعة ثابتة .





الفصل الثاني : الجهد الكهربائي

الجهد الكهربائي لموصل مشحون



عند شحن موصل فان الشحنات تتنافر وتتباعد ويسمح لها الموصل بالانتقال والاستقرار على سطحها الخارجي فقط.
الشحنات تتوزع بانتظام على سطح الموصل الكروي .
بينما تتوزع الشحنات بشكل غير منتظم على السطوح غير المنتظمة وتكون متركزة على الرؤوس المدببة لاحظ الاشكال المقابلة .

سؤال : يعد سطح الموصل سطح تساوي جهد ؟

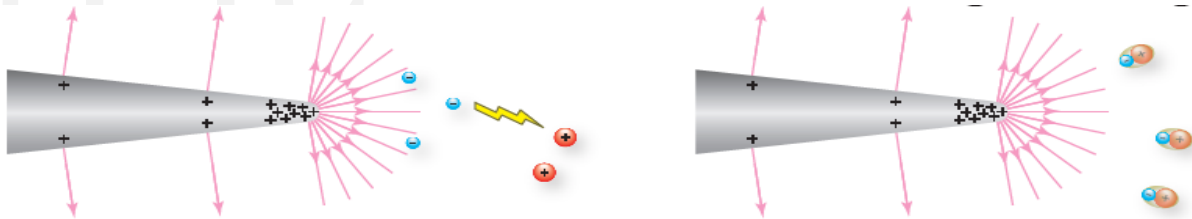
لان الشحنات على سطح الموصل مستقرة وساكنة ، فان الشحنات في حالة اتزان أي من محصلة القوى (المجالات المماسية) تكون صفرا ، وبالتالي يكون فرق الجهد الكهربائي بين أي نقطتين صفرا .

سؤال : كيف اثبت العالم (غاوس) ان الجهد داخل الموصل متساوي ويساوي قيمته على سطح الموصل ؟



بما ان المجال داخل الموصل يساوي صفر ، فانه لايلزم شغل لنقل شحنة بين نقطتين داخل الموصل وبالتالي فرق الجهد بين أي نقطتين يساوي صفر وبالتالي جهد النقطتين متساوي .

• تحدث ظاهرة بالقرب من الموصلات ذات الجهد العالي او بالقرب من الرؤوس المدببة ، اذ يتولد حول الرأس المدبب مجال كهربائي قوي يعمل على تأيين جزيئات في تلك



المنطقة فيصبح الهواء موصلا فيحدث تفريغ كهربائي للشحنات ، أي ينشأ تيار كهربائي ، فيظهر توهج أو وميض



الفصل الثاني : الجهد الكهربائي



مثال (1) : يبين الشكل سطوح تساوي الجهد وخطوط المجال الكهربائي لموصل كروي مشحون أجب عما يأتي :

أ. رتب قيم المجال الكهربائي عند النقاط (أ ، ب ، ه ، د) .

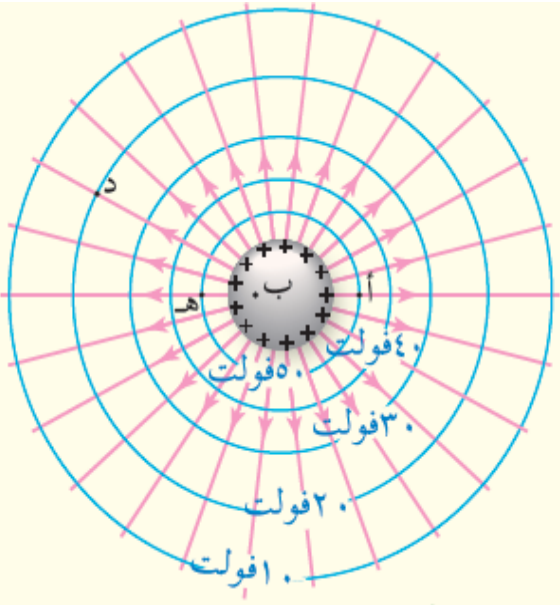
ب. رتب قيم الجهد الكهربائي عند النقاط (أ ، ب ، ه ، د) .

ج . هل تتغير طاقة الوضع الكهربائية لالكترون عند انتقاله من

النقطة (ب) الى سطح الموصل ؟ فسر اجابتك .

د. لماذا يجب الحذر من الرؤوس المدببة عند التعامل مع اجسام

فلزية ذات جهد كهربائي عالي ؟





امداد الاستاذ: جمعة وليان ت/ 0775152141-0788243842
الفصل الاول: الكهرباء السكونية (المقوانين)



القانون	الوحدة	الاستخدام
$ط و = ج ش$ موضوعة	جول	لحساب طاقة الوضع الكهربائية لشحنة عند وضعها في نقطة ما
$\Delta ط و = \Delta ج ش$ منقولة	جول	لحساب التغير في طاقة الوضع لشحنة ما عند نقلها من نقطة الى اخرى.
الشغل $أ ب = ج ب أ ش$ منقولة الشغل $ب أ = ج أ ب ش$ منقولة	جول	لحساب الشغل اللازم لنقل شحنة بين نقطتين في مجال كهربائي غير منتظم (شحنات او كرات) .
$\Delta ج = م ف جتا \theta$	فولت	لحساب فرق الجهد بين نقطتين في مجال كهربائي منتظم
$\sigma = \frac{ش}{أ}$	كولوم/م ²	حساب كثافة الشحنة السطحية على سطح كرة.
$ط و = 9 \times 10^9 \left(\frac{ش1 ش2}{ف} \right)$	جول	حساب طاقة الوضع لشحنتين متشابهتين.
$ط و = - 9 \times 10^9 \left(\frac{ش1 ش2}{ف} \right)$	جول	حساب طاقة الوضع لشحنتين مختلفتين.
ش ك = - $\Delta ط و = \Delta ط ح$	جول	العلاقة بين الشغل وطاقة الحركة وطاقة الوضع