

# أساسيات الفيزياء

للثانوية العامة

Fundamentals of Physics

Rasheed M Taji



يتكون الحمض النووي ( DNA ) من سلسلتين طويلتين ، وترتبط كل سلسلة بالأخرى بقوى تجاذب كهربائية

رشيد التاجي

*rastaji@hotmail.com*

0777 46 10 11

يحتوي هذا الفصل...

الموضوع	القانون	الاستخدام
تكميم الشحنة	$q = Ne$ جسم $e$	لحساب شحنة الجسم إذا علم عدد الإلكترونات، أو العكس، ومنه نتحقق فيما إذا كانت الشحنة ممكنة أم لا.
قانون كولوم	$F = \frac{q_1 q_2}{4\pi\epsilon_0 r^2}$	لحساب القوة الكهربائية المتبادلة بين شحنتين نقطيتين
المجال الكهربائي ووصفه	$E = \frac{q}{4\pi\epsilon_0 r^2}$	لحساب القوة إذا علم المجال $q = \epsilon_0 E$ ، أو لسحاب المجال الكهربائي بغض النظر عن مصدر المجال.
المجال الكهربائي للشحنات النقطية	$E = \frac{q}{4\pi\epsilon_0 r^2}$	لحساب مجال الشحنات النقطية
المجال الكهربائي المنتظم	$\sigma = \frac{q}{A}$ $E = \frac{\sigma}{\epsilon_0}$	لحساب كثافة الشحنة السطحية. لحساب المجال الكهربائي المنتظم
حركة جسيم مشحون في المجال الكهربائي المنتظم	$t = \frac{m \cdot v}{k}$ $E = E_1 + E_2 + E_3$ $E_1 = \frac{q_1}{4\pi\epsilon_0 r_1^2}$ $E_2 = \frac{q_2}{4\pi\epsilon_0 r_2^2}$ $E_3 = \frac{q_3}{4\pi\epsilon_0 r_3^2}$	لوصف حركة جسيم مشحون في مجال كهربائي منتظم عن طريق حساب تسارعه، وسرعته النهائية والمسافة المقطوعة.
حماية الأجهزة الكهربائية		

مقدمة

أولاً : تكميم الشحنة

تتكون المادة من ذرات. و من مكونات الذرة بروتونات موجبة الشحنة تدور حولها إلكترونات سالبة الشحنة. و في الوضع الطبيعي تكون الذرة متعادلة كهربائياً (عدد الإلكترونات السالبة مساوي لعدد البروتونات الموجبة) و يصبح الجسم مشحوناً عندما يفقد أو يكسب عدداً صحيحاً من الإلكترونات؛ لذلك فإن " شحنته أي جسم يجب أن تكون من المضاعفات الصحيحة لشحنة الإلكترون ". و هذا ما يسمى بـ **مبدأ تكميم الشحنة**.

$$Q_{\text{جسم}} = n \cdot e \quad \text{أو} \quad n = \frac{Q_{\text{جسم}}}{e}$$

حيث :

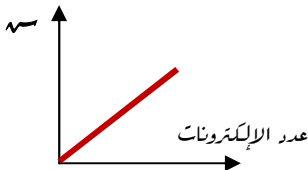
$Q_{\text{جسم}}$  : شحنة الجسم ، الشحنة المكتسبة  $\Delta Q$  .

$e$  : شحنة الإلكترون =  $1,6 \times 10^{-19}$  كولوم .

$n$  : عدد الإلكترونات المكتسبة أو المفقودة .

ملاحظات:

- الشرط في هذه العلاقة أن تكون (ن) عدداً صحيحاً . و السبب في ذلك أن أصغر شحنة حرة في الطبيعة هي شحنة الإلكترون . لذلك سُميت بالشحنة الأساسية .
- إذا اكتسب الجسم إلكترونات إضافية يصبح سالب الشحنة وإذا فقد إلكترونات يصبح موجب الشحنة.
- لا تعوض إشارة الشحنة في هذا القانون كما أن ( ن ) تعوض موجبة دائماً بغض النظر فيما إذا اكتسب الجسم إلكترونات أم فقد إلكترونات .
- من هذه العلاقة نستطيع تحديد العوامل التي تعتمد عليها شحنة الجسم . و نستطيع تمثيلها بيانياً كما في الشكل المجاور :



علاقة طردية خطية :  $Q = n \cdot e$  ميلها هو  $e$

**بعض البادئات ...**

الملي (m) =  $10^{-3}$  .

الميكرو (μ) =  $10^{-6}$  .

النانو (n) =  $10^{-9}$  .

البيكو (p) =  $10^{-12}$  .

- الشحنة كمية قياسية و تقاس بوحدة الكولوم في النظام العالمي للوحدات، لكن عملياً هذه الوحدة كبيرة جداً فنستخدم البادئات مثل : الملي و الميكرو و النانو و البيكو .

## المجال الكهربائي

**مثال ( ١ )** هل يمكن لجسم أن يحمل الشحنات التالية ؟ مع بيان السبب :

أ ( ٤ نانوكولوم ؟      ب (  $3,2 \times 10^{-19}$  كولوم ؟      ج (  $3,2 \times 10^{-11}$  كولوم ؟

**الحل :** نجد عدد الإلكترونات فإذا كان عدداً صحيحاً تكون مقبولة علمياً.

$$e \cdot n = q \quad (أ)$$

$$1,6 \times 10^{-19} \times n = 4 \times 10^{-9}$$

شحنة الإلكترون ثابتة  
تعليق في الامتحان

$n = 2,5 \times 10^{10}$  إلكترون . بما أنه رقم صحيح إذا تعتبر نتيجة مقبولة علمياً.

$$e \cdot n = q \quad (ب)$$

$$1,6 \times 10^{-19} \times n = 3,2 \times 10^{-9}$$

$$n = 2 \text{ إلكترون}$$

بما أنه رقم صحيح إذا تعتبر نتيجة مقبولة علمياً.

### خطأ شائع ...

يعتقد بعض الطلبة أن شحنة الجسم يجب أن تكون عدداً صحيحاً . وهذا غير صحيح و إنما عدد الإلكترونات هو الذي يجب أن يكون عدداً صحيحاً .

ج ( لا يمكنه ، لأن هذه الشحنة أصغر من شحنة الإلكترون ولا يوجد شحنة أصغر من شحنة الإلكترون .

لاحظ أن شحنة الجسم قد تكون رقم غير صحيح لكن المهم أن تكون من المضاعفات الصحيحة لشحنة الإلكترون .

**مثال ( ٢ )** أوجد مقدار و نوع شحنة جسم اكتسب ( ٣٠ ) إلكترون في الحالات التالية :

أ ( إذا كان الجسم غير مشحون .

ب ( إذا كانت شحنته  $48 \times 10^{-19}$  كولوم .

ج ( إذا كانت شحنته  $-48 \times 10^{-19}$  كولوم .

**الحل :** عدد الإلكترونات معلوم فنستخدم قانون تكبير الشحنة لحساب شحنة الجسم المكتسبة ثم نضيفها لشحنته الأصلية .

وعليه تكون :  $q_{\text{نهائية}} = q_{\text{ابتدائية}} + q_{\text{مكتسبة}}$  حيث :  $q_{\text{مكتسبة}} = n \cdot e$

$$q_{\text{نهائية}} = n \cdot e \quad (أ)$$

$$= 30 \times 1,6 \times 10^{-19} = 48 \times 10^{-19} \text{ كولوم} , \text{ وبما أنه غير مشحون تكون هذه هي شحنته النهائية} ,$$

ونوعها سالب لأنه اكتسب إلكترونات .

المجال الكهربائي

مرشيد التاجي

ب)  $q_{\text{نهائية}} = q_{\text{ابتدائية}} + q_{\text{مكتسبة}}$

$q_{\text{مكتسبة}} = n \times e$

$q_{\text{مكتسبة}} = 30 \times 1,6 \times 10^{-19}$

$q_{\text{مكتسبة}} = 48 \times 10^{-19}$  كولوم، وهي سالبة

$\therefore q_{\text{نهائية}} = 48 \times 10^{-19} + 48 \times 10^{-19}$

$= \text{صفر}$

ج)  $q_{\text{نهائية}} = q_{\text{ابتدائية}} + q_{\text{مكتسبة}}$

$q_{\text{نهائية}} = 48 \times 10^{-19} + 48 \times 10^{-19}$

$= 96 \times 10^{-19}$  كولوم

**مثال ( ٣ )** جسم شحنته  $(50 \times 10^{-9})$  كولوم . وبعد عملية شحن أصبحت شحنته  $(-30 \times 10^{-9})$

كولوم . احسب عدد الإلكترونات المنتقلة إلى الجسم .

**الحل :** نجد الشحنة المكتسبة ثم نكمها ( أي نجد عدد الإلكترونات التي تحويها )

$q_{\text{نهائية}} = q_{\text{ابتدائية}} + q_{\text{مكتسبة}}$  ،

$-30 \times 10^{-9} = 50 \times 10^{-9} + q_{\text{مكتسبة}}$

$q_{\text{مكتسبة}} = -80 \times 10^{-9}$  كولوم .

ومن هنا نجد عدد الإلكترونات ...

$q_{\text{مكتسبة}} = n \times e$

$80 \times 10^{-9} = 1,6 \times 10^{-19} \times n$

$n = 5 \times 10^{11}$  إلكترون .

طريقة أسرع ..

$n = \frac{q_{\Delta}}{e}$

$n = \left| \frac{50 \times 10^{-9} - (-30 \times 10^{-9})}{1,6 \times 10^{-19}} \right|$

$n = 5 \times 10^{11}$  إلكترون

## المجال الكهربائي

### الأسئلة

**س٦:** ما هي العوامل التي تعتمد عليها شحنة الجسم؟

الجواب: عدد الإلكترونات المكتسبة أو المفقودة فقط.

**س٧:** جسم شحنته  $3,2 \times 10^{-18}$  كولوم اكتسب (٥٠) إلكترون، فكم تصبح شحنته؟

$$q_{\text{نهائية}} = q_{\text{ابتدائية}} + q_{\text{مكتسبة}}$$

$$q_{\text{مكتسبة}} = n \times e$$

$$q_{\text{مكتسبة}} = 50 \times 1,6 \times 10^{-19}$$

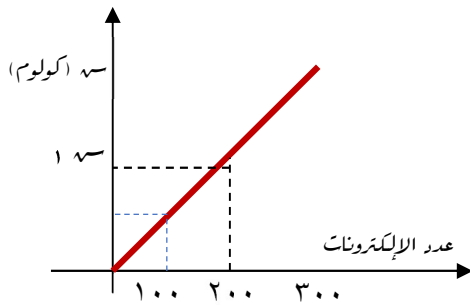
$$= 8 \times 10^{-18} \text{ كولوم، وهي سالبة}$$

$$q_{\text{نهائية}} = 3,2 \times 10^{-18} + 8 \times 10^{-18}$$

$$= 1,2 \times 10^{-17} \text{ كولوم}$$

**س٨:** الشكل المجاور يمثل العلاقة بين شحنة جسم وعدد الإلكترونات المكتسبة أجب عما يلي: ١- ماذا يمثل ميل العلاقة؟

٢- ما مقدار ونوع (١٨٥) في الشكل؟



الميل هو شحنة الإلكترون، هو الثابت في العلاقة:

$$q = n \times e$$

عند التعويض بقيمة (ن) ٢٠٠ يكون مقدار الشحنة  $3,2 \times 10^{-17}$

كولوم ونوعها سالب؛ لأنه اكتسب إلكترونات.

**س١:** ما وحدة الشحنة الكهربائية في النظام العالمي للوحدات؟ وماذا تكافئ من الوحدات الأساسية؟

كولوم، تكافئ: أمبير. ثانية. (كما سيأتي لاحقاً)

**س٢:** احسب عدد الإلكترونات التي يفقدها الجسم لتصبح شحنته (١) كولوم.

أو: كم إلكترون في وحدة الشحنات الكهربائية؟

$$q = n \times e$$

$$1 = n \times 1,6 \times 10^{-19}$$

$$n = 6,25 \times 10^{18} \text{ إلكترون}$$

نلاحظ ان الكولوم الواحد يحوي عدداً كبيراً جداً من الإلكترونات لذلك يعد الكولوم وحدة كبيرة فنلجأ إلى استخدام البادئات.

**س٣:** كيف يكتسب الجسم شحنة كهربائية؟

المادة مكونة من ذرات تحوي نواة موجبة الشحنة تدور حولها إلكترونات سالبة الشحنة وتكون في الوضع الطبيعي متعادلة كهربائياً (عدد الإلكترونات السالبة يساوي لعدد البروتونات الموجبة) فإذا اكتسب الجسم إلكترونات أصبح سالب الشحنة وإذا فقد إلكترونات أصبح موجب الشحنة. (إذاً الذرات هي مصدر الشحنات)

**س٤:** أذكر نص مبدأ تكميم الشحنة.

" شحنة أي جسم يجب أن تكون مضاعفات صحيحة من شحنة الإلكترون "

**س٥:** لماذا يجب أن تكون شحنة أي جسم مضاعفات صحيحة لشحنة الإلكترون؟

لأن أصغر شحنة حرة في الطبيعة هي شحنة الإلكترون.

## المجال الكهربائي

### ثانياً : قانون كولوم

تنشأ بين الأجسام المشحونة قوى كهربائية تكون تنافراً أو جاذباً. وقد تمكن العالم كولوم من تحديد العوامل التي يعتمد عليها مقدار القوة الكهربائية المتبادلة بين شحنتين نقطيتين: حيث توصل إلى أن : "مقدار القوة الكهربائية ( ق<sub>ك</sub> ) يتناسب طردياً مع مقدار كل من الشحنتين النقطيتين ( q<sub>١</sub> ، q<sub>٢</sub> ) وعكسياً مع مربع المسافة بينهما ( ف )". وتعتمد القوة الكهربائية أيضاً على طبيعة الوسط الذي توجد فيه الشحنات .

ويُعبر عن مقدار القوة الكهربائية بالعلاقة الرياضية الآتية والتي تعرف **بقانون كولوم**:

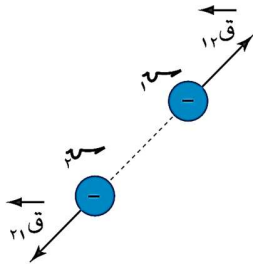
$$Q_k = \frac{q_1 q_2}{f^2}$$

و يسمى الثابت ( أ ) في القانون بـ ثابت كولوم . و يعتمد فقط على طبيعة الوسط الذي توجد فيه الشحنات . ويُعبر عنه بالمقدار :  $\frac{1}{\epsilon \pi \epsilon_0}$  حيث (  $\epsilon$  ) السماحية الكهربائية للوسط . فإذا كان الوسط فراغاً أو هواءً فإنه يعبر عن السماحية الكهربائية بالرمز (  $\epsilon_0$  ) و تساوي :  $8,85 \times 10^{-12}$  كولوم<sup>٢</sup> / نيوتن . م<sup>٢</sup> .

### ملاحظات:

- القوة كمية متجهة تحدد بالمقدار والاتجاه معاً. والقوة الكهربائية بين شحنتين هي قوة متبادلة أي أن كل شحنة تؤثر في الأخرى بنفس المقدار لكن باتجاهين متعاكسين. وذلك حسب القانون الثالث لنيوتن (كل نعل

رد نعل مساو له في المقدار ومعاكس له في الاتجاه).

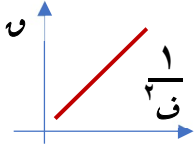


$$Q_{12} = -Q_{21}$$

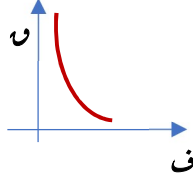
- تعد القوة الكهربائية قوة مجال لأنها تؤثر عن بعد دون الحاجة إلى تلامس الأجسام.
- المقصود بالشحنة النقطية هي التي يمكن إهمال أبعادها وكأن شحنتها في نقطة (في المركز) وذلك عندما تكون المسافات بين الأجسام أكبر بكثير من أبعاد الجسم.
- من خلال قانون كولوم نستطيع تحديد العوامل التي تعتمد عليها القوة المتبادلة بين شحنتين نقطيتين و بيان أثرها على القوة فهذه العوامل هي :

## المجال الكهربائي

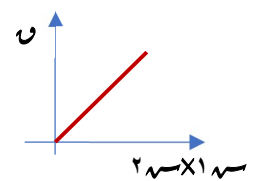
مقدار كل من الشحنتين و التناسب طردياً . البعد بينهما و التناسب عكسياً تربيعياً . السماحية الكهربائية للوسط العازل بين الشحنتين و التناسب عكسياً و الأشكال البيانية التالية توضح أثر كل عامل بثبوت العوامل الأخرى :



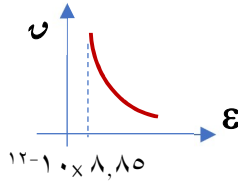
القوة مع مقلوب مربع البعد



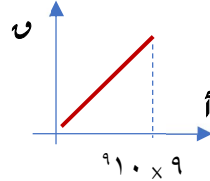
القوة مع البعد بين الشحنتين



القوة مع مقدار الشحنتين



القوة مع السماحية الكهربائية للوسط



القوة مع ثابت كولوم

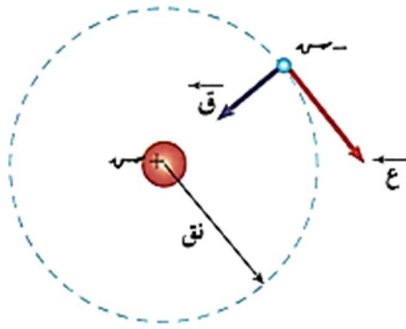
- تتناسب القوة مع البعد بين الشحنتين تناسباً عكسياً تربيعياً . أما مع مقلوب مربع البعد فيصبح التناسب طردياً .
- لاحظ أن القوة تتغير بتغير ثابت كولوم لأنه ليس بثابت مطلق فهو ثابت للوسط الواحد و يتغير بتغير الوسط لكن أكبر قيمة له  $9 \times 10^9$  نيوتن.م<sup>2</sup>/كولوم<sup>2</sup> . و هي للهواء ( أو الفراغ ) .
- أقل قيمة للسماحية الكهربائية للوسط هي للفراغ أو للهواء و قيمتها  $8.85 \times 10^{-12}$  كولوم<sup>2</sup>/نيوتن.م<sup>2</sup> . و غير مطالبين بحفظ أي ثابت .
- لكل علاقة طردية خطية ميل ثابت يتم حسابه باستخدام قانون الميل :  
الميل =  $\frac{\Delta \text{ص}}{\Delta \text{س}}$  و نجد ماذا يمثل من خلال العلاقة الرياضية .



## المجال الكهربائي

**مثال (1)** احسب القوة المتبادلة بين الإلكترون والبروتون في ذرة الهيدروجين مستقرة (الإلكترون في المدار الأول) علماً بأن:  $e = 1,6 \times 10^{-19}$  كولوم، ونصف قطر المدار الأول  $r = 5 \times 10^{-11}$  م. وكم تصبح هذه القوة إذا أصبح الإلكترون في المدار الثاني الذي يبلغ نصف قطره أربع أضعاف نصف قطر المدار الأول؟

**الحل :** القوة الموجودة بين شحنتين نقطيتين كالألكترون والبروتون هي قوة كهربائية تحسب من خلال قانون كولوم :



$$ق_{كهربائية} = 9 \times 10^9 \frac{q_1 q_2}{r^2}$$

$$= \frac{9 \times 10^9 \times 1,6 \times 10^{-19} \times 1,6 \times 10^{-19}}{(5 \times 10^{-11})^2} \times 9 \times 10^9 =$$

$$ق_{كهربائية} = 9,2 \times 10^{-8} \text{ نيوتن، تجاذب.}$$

عندما تتضاعف المسافة بين الشحنتين ( ٤ ) أضعاف سوف تقل القوة ( ١٦ ) ضعف لأنها تتناسب عكسياً مع مربع البعد، وهذا ما

يعرف بقانون التربيع العكسي:

$$\left( \frac{ق_2}{ق_1} \right)^2 = \frac{١٥}{٢٥}$$

يتم استنتاجه من قانون كولوم بسهولة. . حاول

$$\left( \frac{ق_٤}{ق_٥} \right)^2 = \frac{٩,٢}{٢٥}$$

$$\frac{٩,٢}{١٦} = ٢٥$$

$$\therefore ٢٥ = ٠,٥٧٥ \times 10^{-٨} \text{ نيوتن.}$$

## المجال الكهربائي

### الأسئلة

**س١:** أوجد وحدة ثابت كولوم، ووحدة السماحية الكهربائية.

**ملاحظة...**

وضع الكمية الفيزيائية بين قوسين مربعين يعني الوحدة التي تقاس بها تلك الكمية في النظام العالمي للوحدات .

$$ق = \frac{أ \cdot س_١ \cdot س_٢}{ف^٢} \leftarrow [١] = \frac{[ق][ف^٢]}{[س_١][س_٢]} = \frac{نيوتن \cdot م^٢}{كولوم^٢}$$

وبما أن ثابت كولوم (أ) =  $\frac{١}{٤\pi\epsilon}$  فتكون وحدة (ε) هي معكوس وحدة ثابت كولوم أي: (كولوم<sup>٢</sup> / نيوتن. م<sup>٢</sup>).

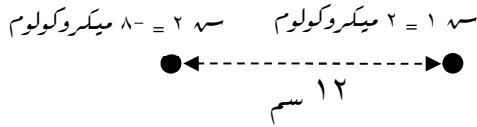
**س٢:** أذكر عاملين تعتمد عليها القوة المتبادلة بين شحنتين نقطيتين في الهواء.

الجواب : ١- مقدار كل من الشحنتين ٢- البعد بينهما

( بما أنه ذكر أنهما في الهواء فيكون نوع الوسط ليس من ضمن العوامل لأنه تم تحديده بوسط معين )

**س٣:** إذا كانت (س١ = ١ س٢ = ٢) وكانت القوة التي تؤثر فيها الشحنة الأولى في الثانية (٥) نيوتن شرق، فما مقدار واتجاه القوة التي تؤثر فيها الشحنة الثانية في الأولى؟

الجواب: ( ٥ نيوتن، غرب )، لأنها زوج من القوى المتبادلة



**س٤:** في الشكل المجاور أوجد مقدار واتجاه (٢١٥).

وما العلاقة بينها وبين (١٢٥).

**خطأ شائع ...**

يعتقد بعض الطلبة أن تأثير الشحنة الكبرى في الشحنة الصغرى أكبر من تأثير الصغرى في الكبرى، وهذا خطأ وإنما هما متساويتان في المقدار .

للإشارة السالبة  
للعوض القانون، لأن  
الشحنة في كسرية متجهة  
القوة

$$ق = \frac{ق_١ \cdot ق_٢}{ف^٢} = \frac{٩ \times ١٠}{٢} = \frac{٩ \times ١٠ \times ١٠ \times ١٠}{٢ \times (١٠ \times ١٢)^٢} = \frac{٩ \times ١٠ \times ١٠ \times ١٠}{٢ \times (١٢٠)^٢}$$

من سم إلى متر  
للتحويل  
نضرب بـ ١٠٠

( ٥ نيوتن، يمين، ٢١٥ = ١٢٥ )

## المجال الكهربائي

### أولاً: المجال الكهربائي

كيف يمكن لشحنة أن تؤثر في شحنة أخرى دون أن تلامسها؟ لتفسير ذلك اقترح العالم مايكل فارادي مفهوم المجال الكهربائي. إذ يُعد المجال الكهربائي خاصية للحيز المحيط بالشحنة الكهربائية يظهر تأثيره على شكل قوة كهربائية تؤثر في شحنة أخرى توضع في هذا الحيز.

و يعرف **المجال الكهربائي عند نقطة** بأنه القوة الكهربائية المؤثرة في وحدة الشحنات الموجبة الموضوعة عند تلك النقطة. و يعبر عنه بالعلاقة الرياضية التالية :

$$\vec{E} = \frac{\vec{F}}{q}$$

من خلال قانون تعريف المجال نجد:

١- وحدة المجال الكهربائي : نيوتن / كولوم.

٢- من خصائص المتجهات يكون اتجاه المجال عند نقطة هو اتجاه القوة على الشحنة الموجبة عند تلك النقطة كما هو موضح في الشكل المجاور.

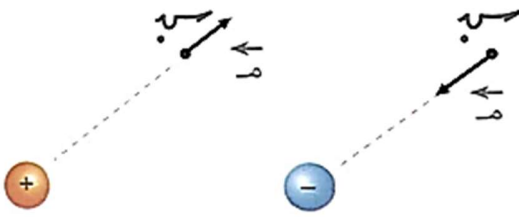
٣- إذا كانت شحنة الاختبار سالبة فلن يتغير اتجاه المجال ، وإنما سيتغير

اتجاه القوة فقط كما هو موضح في الشكل المجاور :

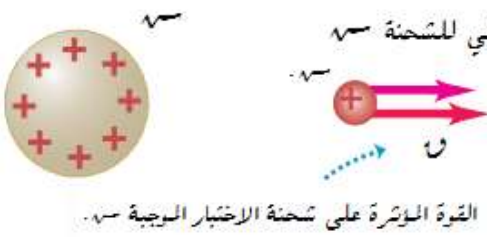
٤- إذا تغيرت شحنة الاختبار فلن يتغير المجال و إنما

سوف تتغير القوة المؤثرة على (سـ) بحيث

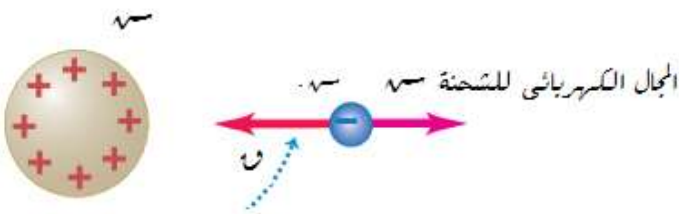
تبقى النسبة  $\frac{F}{q}$  وهي المجال ثابتة .



تحديد اتجاه المجال الكهربائي



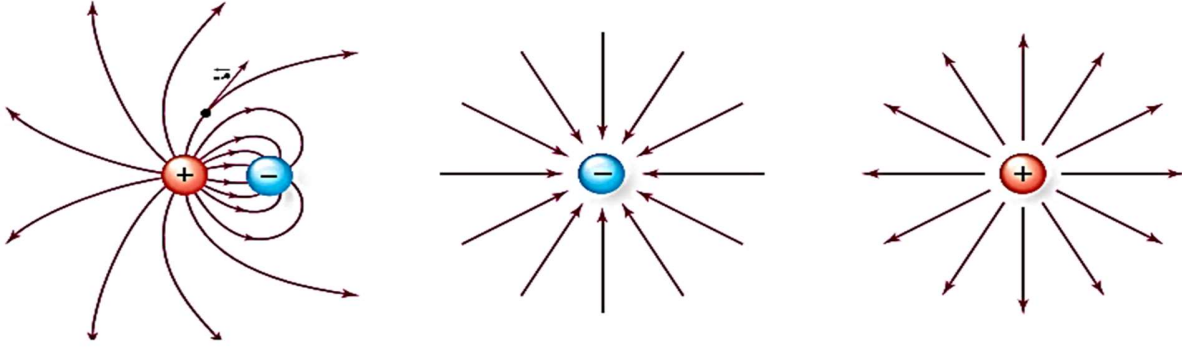
القوة المؤثرة على شحنة الاختبار الموجبة (سـ).



القوة المؤثرة على شحنة الاختبار السالبة (سـ).

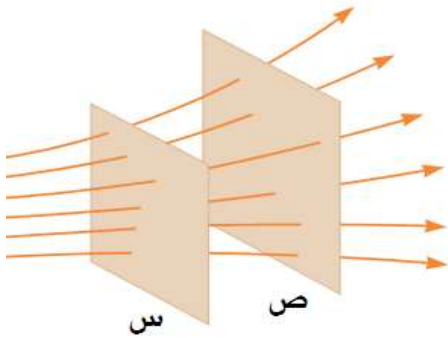
## المجال الكهربائي

و من أجل التعرف على المجال الكهربائي و وصفه مقداراً و اتجاهاً يُخطط برسم خطوط وهمية تسمى خطوط المجال الكهربائي . إذ يمثل **خط المجال الكهربائي** المسار الذي تسلكه شحنة اختبار موجبة حرة الحركة عند وضعها في المجال الكهربائي . و يبين الشكل أدناه خطوط المجال الكهربائي حول شحنات نقطية مختلفة .



و تدل كثافة خطوط المجال الكهربائي في منطقة ما ( عدد الخطوط التي تخترق وحدة المساحة عمودياً ) على **مقدار المجال** : حيث يكون المجال الكهربائي كبيراً في المنطقة التي تتقارب فيها الخطوط . بينما يكون مقداره صغيراً في المنطقة التي تتباعد فيها الخطوط .

يحدد **اتجاه المجال الكهربائي** عند نقطة برسم مماس لخط المجال الكهربائي عند تلك النقطة .



يمثل الشكل المجاور خطوط مجال كهربائي تخترق سطحين ( س ) و ( ص ) . أي العبارات التالية صحيحة :

- ( أ )  $E_S = E_V$  ( ب )  $E_S < E_V$  ( ج )  $E_S > E_V$

الإجابة : ( ب ) لأن كثافة الخطوط أكبر

## المجال الكهربائي

### الأسئلة

س ١: وضح المقصود بالمجال الكهربائي عند نقطة.

هو القوة المؤثرة على وحدة الشحنات الكهربائية عند تلك النقطة.

\* س ٢: إذا قيس المجال الكهربائي عند نقطة باستخدام شحنة اختبار مقدارها (١ نانو كولوم) فكان

(٠,٦ نيوتن / كولوم،  $15^\circ$ ). فكيف يتغير المجال لو تغيرت شحنة الاختبار وأصبحت (-٢ نانوكولوم)؟

له يتغير المجال فهو لا يعتمد على شحنة الاختبار وإنما سوف تتغير القوة المؤثرة عليها فإذا كانت  $0,6 \times 10^{-9}$  نيوتن.  $15^\circ$  سوف تصبح  $1,2 \times 10^{-9}$

نيوتن.  $195^\circ$ ؛ (ن = سه × م) (ينعكس اتجاه القوة أي نضيف  $180^\circ$  لاجتازها الأول)

س ٣: أذكر خصائص خطوط المجال الكهربائي.

١- لا تتقاطع ٢- تبدو خارجة من الشحنة الموجبة وداخلية في الشحنة السالبة. ٣- وهمية

س ٤: لماذا تبدو خطوط المجال الكهربائي خارجة من الشحنة الموجبة وداخلية في الشحنة السالبة؟

لأنها المسارات التي تسلكها شحنة موجبة. فنتأثر مع الشحنة الموجبة وتتجه نحو الشحنة السالبة.

س ٥: كيف يمكن الاستفادة من خطوط المجال الكهربائي في معرفة المجال الكهربائي من حيث:

أ- المقدار ب- الاتجاه

**المقدار:** تدل كثافة خطوط المجال الكهربائي في منطقة ما على مقدار المجال حيث يكون المجال الكهربائي كبيراً

في المنطقة التي تتقارب فيها الخطوط، بينما يكون مقداره صغيراً في المنطقة التي تتباعد فيها الخطوط

**الاتجاه:** يكون اتجاه المجال عند نقطة هو اتجاه المماس عند تلك النقطة.

س ٦: وضعت شحنة اختبار (سه) عند نقطة فتأثرت بقوة باتجاه محور الصادات السالب. أجب عما يلي:

١- ما اتجاه المجال الكهربائي عند تلك النقطة؟

٢- لو وضعت شحنة اختبار (-٢ سه) بدلا من (سه) فهل يتغير المجال الكهربائي بالمقدار أو بالاتجاه؟ فسر

إجابتك.

١- اتجاه المجال الكهربائي بنفس اتجاه القوة على الشحنة الموجبة. أي باتجاه محور الصادات السالب.

٢- له يتغير المجال، لأنه لا يعتمد على شحنة الاختبار. فإذا تضاعفت شحنة الاختبار سوف تتضاعف القوة عليها فيبقى حاصل قسمتها وهو المجال

الكهربائي ثابتاً.

## المجال الكهربائي

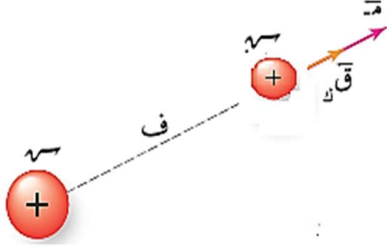
### ثانياً : المجال الكهربائي الناشئ عن شحنات نقطية

لحساب المجال الكهربائي لشحنة نقطية عند نقطة نستخدم شحنة اختبار صغيرة موجبة نضعها عند تلك النقطة فيكون مقدار المجال في نقطة هو مقدار القوة المؤثرة على وحدة الشحنة الكهربائية عند تلك النقطة. أي أن:

$$E = \frac{Q}{r^2}$$

$$E = \frac{9 \times 10^9 \times Q}{r^2}$$

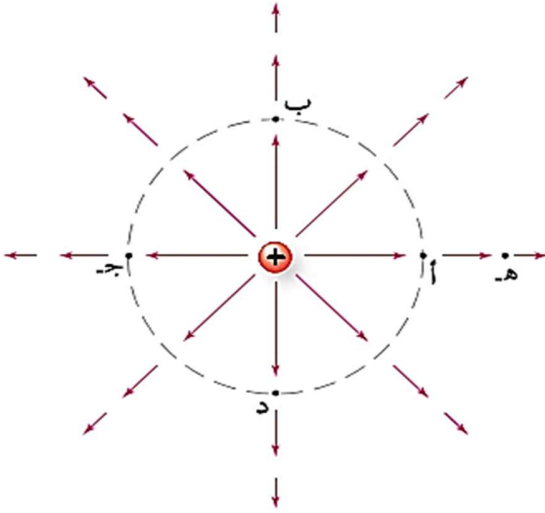
$$E = 9 \times 10^9 \times \frac{Q}{r^2} \leftarrow$$



المجال الكهربائي عند نقطة في مجال شحنة نقطية.

لاحظ أن مقدار المجال عند نقطة لا يعتمد على شحنة الاختبار ولا على القوة المؤثرة عليها وإنما يعتمد على الشحنة المؤثرة وبعد النقطة عنها ونوع الوسط الفاصل بينهما (ثابت كولوم).

ونلاحظ من خلال خطوط المجال الكهربائي لشحنة نقطية أنه مجال غير منتظم (المجال المنتظم هو الثابت مقداراً وإجهاً). ففي الشكل المجاور يكون للمجال عند النقاط (أ، ب، ج، د) نفس المقدار لكن باتجاهات مختلفة. أما المجال عند النقطة (هـ) فهو بنفس اتجاه المجال عند النقطة (أ) لكن بمقدار أقل.



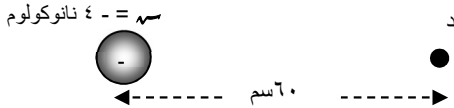
المجال الكهربائي لشحنة نقطية موجبة.

## المجال الكهربائي

لحساب محصلة المجال الكهربائي الناتج عن عدة شحنات نقطية، نجد مجال كل شحنة على حده ثم نجمعها جمع متجهات كما مرّ معك سابقاً. فإذا كانت المتجهات بنفس الاتجاه نجمع جمعاً جبرياً. وإذا كانت باتجاهين متعاكسين، نطرح الأصغر من الأكبر والناتج باتجاه الأكبر. أما إذا كان المتجهان متعامديهما فنجد المحصلة عن طريق نظرية فيثاغورس. فإذا كان غير ذلك نجد المحصلة باستخدام طريقة تحليل المتجهات والأمثلة التالية توضح ذلك.

**مثال (١)** في الشكل المجاور شحنة نقطية موضوعة في الهواء أوجد

مقدار واتجاه المجال الكهربائي عند النقطة (د).



**الحل:** النقطة (د) تقع في مجال شحنة نقطية نستخدم قانون مجال الشحنة النقطية كالتالي:

$$E = \frac{q \times 10^9}{r^2} = \frac{4 \times 10^{-9} \times 10^9}{(0.6)^2} = 11.11 \text{ م/كولوم}$$

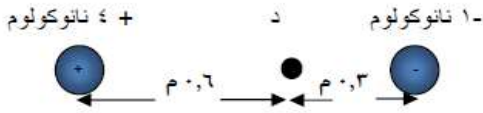
$$E = \frac{q \times 10^9}{r^2} = \frac{9 \times 10^{-9} \times 10^9}{(0.1)^2} = 900 \text{ م/كولوم}$$

تذكر، تم تحديد الاتجاه بوضع شحنة اختبار موجبة عند النقطة (د) يكون اتجاه المجال هو اتجاه القوة على الاختبار.

م = ١٠٠ نيوتن / كولوم، باتجاه محور السينات السالب. (س<sup>-</sup>)

**مثال (٢)** في الشكل المجاور أوجد محصلة المجال الكهربائي عند

النقطة (د).



**الحل:** النقطة (د) تقع في مجال شحنتين نقطيتين. نحسب مجال كل شحنة على حده، ثم نجمعها جمع متجهات. في هذه الحالة يكون المجالان على استقامة واحدة فتكون المحصلة إما بجمع المجالين أو طرحهما.

نجمعها جمع متجهات. في هذه الحالة يكون المجالان على استقامة واحدة فتكون المحصلة إما بجمع المجالين أو طرحهما.

**خطأ شائع ...**

يحدد بعض الطلبة اتجاه المجال باتجاه القوة على الشحنة المؤثرة و إنما اتجاهه هو اتجاه القوة على شحنة الاختبار الموجبة التي نرضها في تلك النقطة ...

$$E = \frac{q \times 10^9}{r^2} = \frac{4 \times 10^{-9} \times 10^9}{(0.6)^2} = 11.11 \text{ م/كولوم}$$

$$E = \frac{q \times 10^9}{r^2} = \frac{1 \times 10^{-9} \times 10^9}{(0.3)^2} = 11.11 \text{ م/كولوم}$$

م = ١٠٠ نيوتن / كولوم (س<sup>+</sup>)

$$E = \frac{q \times 10^9}{r^2} = \frac{9 \times 10^{-9} \times 10^9}{(0.6)^2} = 25 \text{ م/كولوم}$$

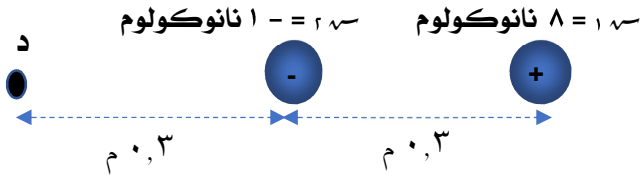
$$E = \frac{q \times 10^9}{r^2} = \frac{1 \times 10^{-9} \times 10^9}{(0.3)^2} = 11.11 \text{ م/كولوم}$$

م = ١٠٠ نيوتن / كولوم، باتجاه اليمين: (س<sup>+</sup>)

م = المحصلة = م + م = ٢٠٠ نيوتن / كولوم. (س<sup>+</sup>)

## المجال الكهربائي

**مثال ( ٣ )** في الشكل المجاور أوجد محصلة المجال الكهربائي عند النقطة (د).



**الحل:** النقطة (د) تقع في مجال شحنتين نقطيتين فنجد مجال كل شحنة على حده ثم نجد المحصلة. لاحظ أن الشحنة (١) تؤثر في النقطة (د) على الرغم من وجود جسم بينهما. وفي هذه الحالة أيضاً يكون المجالان على استقامة واحدة فتكون المحصلة إما بجمع المجالين أو طرحهما.

$$E_1 = \frac{9 \times 10^9 \times 1 \times 10^{-9}}{(0.3)^2} = 100 \text{ م / كولوم / س}^+$$

$$E_2 = \frac{9 \times 10^9 \times 8 \times 10^{-9}}{(0.6)^2} = 200 \text{ م / كولوم / س}^-$$

$$E_{\text{محصلة}} = 100 - 200 = -100 \text{ م / كولوم / س}^-$$

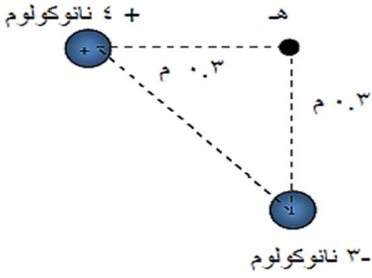
$$E_1 = \frac{9 \times 10^9 \times 1 \times 10^{-9}}{(0.3)^2} = 100 \text{ م / كولوم / س}^+$$

$$E_2 = \frac{9 \times 10^9 \times 8 \times 10^{-9}}{(0.6)^2} = 200 \text{ م / كولوم / س}^-$$

$$E_{\text{محصلة}} = 100 - 200 = -100 \text{ م / كولوم / س}^-$$

بما أن المجالين متعاكسان. نطرح الأصغر من الأكبر والناتج باتجاه الأكبر.

$$E_{\text{محصلة}} = 100 - 200 = -100 \text{ م / كولوم / س}^-$$



**مثال ( ٤ )** في الشكل المجاور أوجد القوة الكهربائية المؤثرة على وحدة الشحنتات الكهربائية عند النقطة (هـ).

**الحل:** القوة الكهربائية المؤثرة على وحدة الشحنتات الكهربائية هو المجال الكهربائي أي أن المطلوب هو حساب المجال الكهربائي، والنقطة (هـ) تقع في مجال شحنتين نقطيتين. فنجد مجال كل شحنة على حده ثم نجد المحصلة. لكر في هذه الحالة المجالين متعامدان فتكون المحصلة باستخدام نظرية فيثاغورس.

$$E_1 = \frac{9 \times 10^9 \times 4 \times 10^{-9}}{(0.3)^2} = 1600 \text{ م / كولوم / س}^+$$

$$E_2 = \frac{9 \times 10^9 \times 3 \times 10^{-9}}{(0.3)^2} = 1200 \text{ م / كولوم / س}^-$$

$$E_{\text{محصلة}} = 1600 + 1200 = 2800 \text{ م / كولوم / س}^+$$

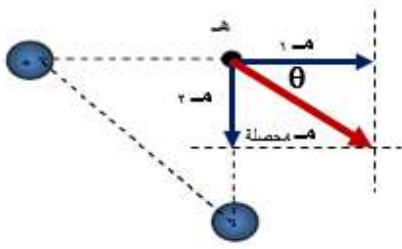
$$E_1 = \frac{9 \times 10^9 \times 4 \times 10^{-9}}{(0.3)^2} = 1600 \text{ م / كولوم / س}^+$$

$$E_2 = \frac{9 \times 10^9 \times 3 \times 10^{-9}}{(0.3)^2} = 1200 \text{ م / كولوم / س}^-$$

$$E_{\text{محصلة}} = 1600 + 1200 = 2800 \text{ م / كولوم / س}^+$$



المجال الكهربائي



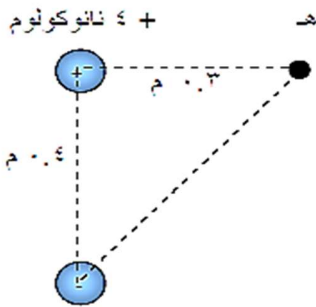
$$= \sqrt{(300)^2 + (400)^2} = \text{م- المحصلة}$$

$$= 500 \text{ نيوتن / كولوم، والاتجاه } \theta = \tan^{-1} \left( \frac{4}{3} \right)$$

**مثال ( ٥ )** في الشكل المجاور أوجد ما يلي:

١- محصلة المجال الكهربائي عند النقطة (هـ)

٢- القوة المؤثرة على إلكترون عند وضعه عند (هـ).



- ٢٥ نانوكولوم

**الحل:** النقطة (هـ) تقع في مجال شحنتين نقطيتين، فنجد مجال كل شحنة على حده ثم نجد المحصلة، لكن في هذه الحالة المجالين غير متعامدين وليس على استقامة واحدة فنكون المحصلة باستخدام تحليل التجزئات.

١-

$$= \frac{9 \times 10^9 \times 4 \times 10^{-9}}{3^2} = \text{م-}$$

$$= \frac{9 \times 10^9 \times 25 \times 10^{-9}}{(0,5)^2} = \text{م-}$$

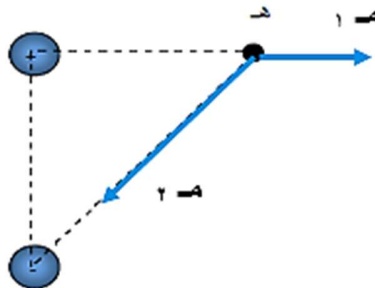
تم حساب المسافة من نظرية فيثاغورس

$$= \frac{9 \times 10^9 \times 4 \times 10^{-9}}{3^2} = \text{م-}$$

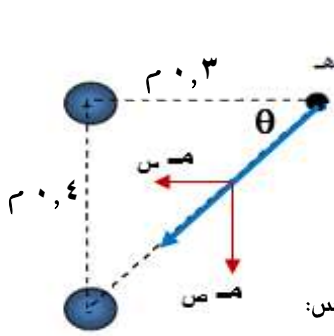
$$= \frac{9 \times 10^9 \times 4 \times 10^{-9}}{(0,3)^2} = \text{م-}$$

٢ = ٩٠٠ نيوتن / كولوم والاتجاه كما في الشكل.

١ = ٤٠٠ نيوتن / كولوم، س+



## المجال الكهربائي



لحل المتجه المائل (م ٢) إلى مركبتين سينية وصادية:

$$\begin{aligned} \text{م ٢ ص} &= \text{م ٢ جتا } \theta \\ \frac{٤}{٥} \times ٩٠٠ &= \\ ٧٢٠ \text{ نيوتن / كولوم ص-} &= \end{aligned}$$

$$\begin{aligned} \text{م ٢ ج} &= \text{م ٢ جتا } \theta \\ \left(\frac{٣}{٥}\right) \times ٩٠٠ &= \\ ٥٤٠ \text{ نيوتن / كولوم ص-} &= \end{aligned}$$

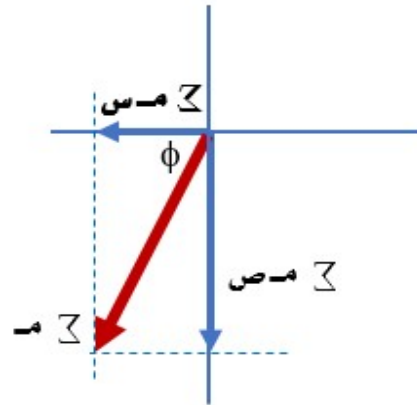
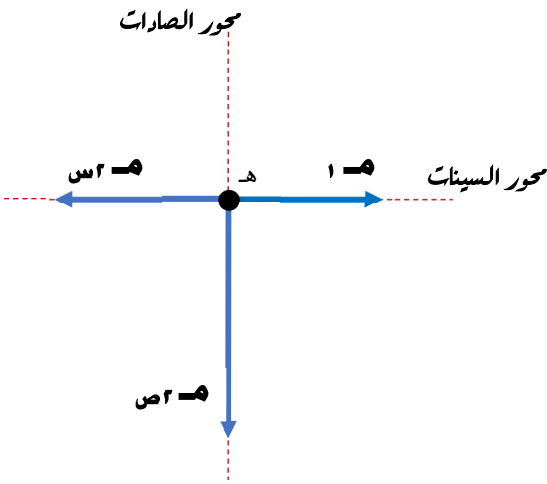
نجمع المركبات السينية معاً والمركبات الصادية معاً. ثم نستخدم نظرية فيثاغورس:

$$\Sigma \text{ م ص} = ٤٠٠ - ٥٤٠ = ١٤٠ \text{ نيوتن / كولوم ص-}$$

$$\Sigma \text{ م ج} = ٧٢٠ \text{ نيوتن / كولوم ص-}$$

$$\text{م المحصلة} = \sqrt{(٧٢٠)^2 + (١٤٠)^2}$$

$$= ٧٣٣,٥ \text{ نيوتن / كولوم. والاتجاه: } \phi = \tan^{-1} \frac{٧٢٠}{١٤٠}$$



٢- عند وضع إلكترون عند النقطة (هـ) في الشكل السابق، فإنه سيتأثر بقوة من (سـ) وبقوة من (جـ) يمكن حسابهما باستخدام قانون كولوم، لكن بما أن المجال عند النقطة (هـ) معلوم، فنستخدم القانون:

$$(\text{ق} = \text{س} \times \text{م}) \text{ يعطي نفس الجواب بطريقة أسرع.}$$

$$\text{ق} = \text{س} \times \text{م}$$

$$= ١,٦ \times ١٠^{-١٩} \times ٧٣٣,٥$$

$$= ١,١٧٣٦ \times ١٠^{-١٣} \text{ نيوتن. عكس اتجاه المجال لأن الشحنة سالبة.}$$

## المجال الكهربائي

**مثال ( ٦ )** الشكل المجاور ثلاث شحنات متساوية ( ٨ ) نانوكولوم على رؤوس

مثلث متساوي الأضلاع. طول ضلعه ٤٠ سم. احسب ما يأتي:

١- محصلة المجال عند النقطة (أ).

٢- القوة المؤثرة على الشحنة (أ)

**الحل :**

$$E = \frac{Q}{r^2}$$

$$E = \frac{9 \times 10^9 \times 8 \times 10^{-9}}{(0,4)^2} = 450 \text{ نيوتن/كولوم}$$

١ = ٤٥٠ نيوتن/كولوم . و الاتجاه كما في الشكل .

٢ = ٤٥٠ نيوتن/كولوم . و الاتجاه كما في الشكل . ( نفس مقدار الشحنة و نفس البعد )

نحلل المتجهين إلى مركبتين سينية وصادية

$$E_1 = E_2 = 450 \cos \theta$$

$$= 450 \times \cos 60^\circ \text{ (زاوية كل متجه مع محور السينات } 60^\circ \text{)}$$

$$= 225 \text{ نيوتن/كولوم س-}$$

$$E_1 = E_2 = 225 \text{ نيوتن / كولوم س-}$$

$$E_{1x} = E_{2x} = 225 \cos 60^\circ = 112,5 \text{ نيوتن/كولوم ص+}$$

$$E_{1y} = E_{2y} = 225 \sin 60^\circ = 192,4 \text{ نيوتن/كولوم ص-}$$

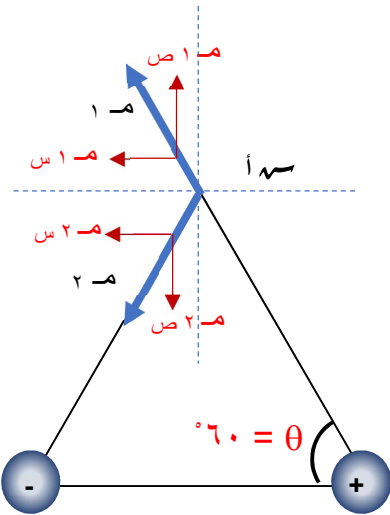
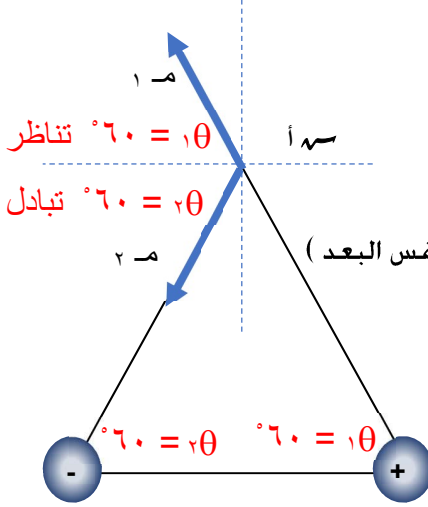
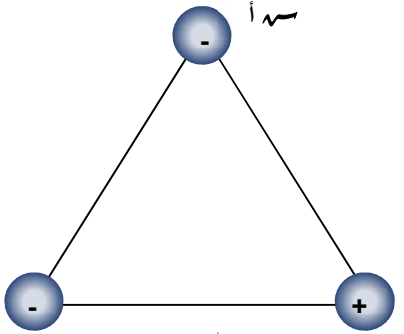
$$E_{1y} = E_{2y} = 192,4 \text{ نيوتن/كولوم ص-}$$

٢ = ٣٨٩,٧ ص- ( نفس المقدار لكن عكس الاتجاه . لاحظ الشكل )

$$\Sigma E_x = 112,5 + 112,5 = 225 \text{ نيوتن/كولوم ص+}$$

$$\Sigma E_y = 192,4 - 192,4 = 0 \text{ نيوتن/كولوم ص}$$

$$E = 225 \text{ نيوتن/كولوم ص+}$$

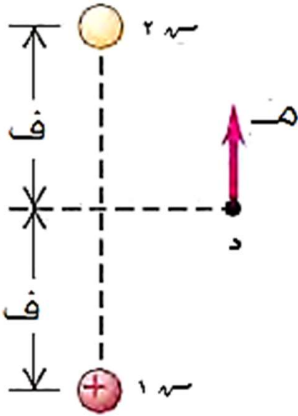
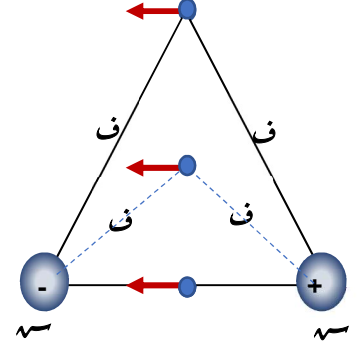
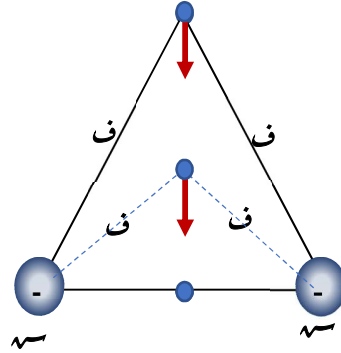
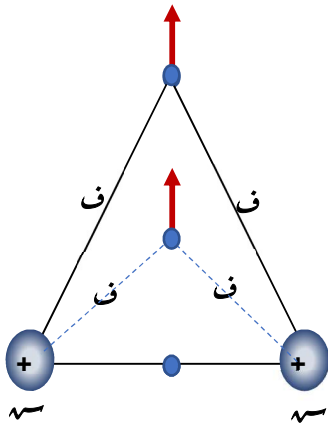


## المجال الكهربائي

### نتيجة: حالة خاصة:

إذا كانت الشحنتان متساويتين و مختلفتين في النوع يكون اتجاه المجال الكهربائي عند نقطة على بعد متساوي بين الشحنتين موازٍ للخط الواصل بين الشحنتين و باتجاه الشحنة السالبة و قيمته  $E = \frac{Q}{r^2}$  م جثا.

و إذا كانت الشحنتان متماثلتين يكون اتجاه المجال في أي نقطة على بعد متساوٍ من الشحنتين متعامد على الخط الواصل بينهما للأعلى إذا كانت الشحنتان موجبتين و للأسفل إذا كانتا سالبتين و قيمته  $E = \frac{Q}{r^2}$  م جثا.



ماذا تتوقع أن تكون قيمة و نوع  $E$  . إذا كانت محصلة المجال عند النقطة ( د ) كما في الشكل المجاور؟



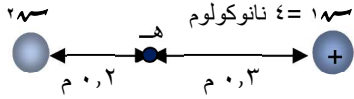
الإجابة : قيمتها نفس قيمة  $E_1$  و نوعها سالبة لأن النقطة على بعد متساوٍ بين الشحنتين و محصلة المجال موازية للخط الواصل بينهما .

## المجال الكهربائي

في الأمثلة السابقة تم حساب محصلة المجال عند نقطة بمعرفة الشحنات المؤثرة و بعد النقطة عنها ، فماذا لو كانت محصلة المجال معلومة والمراد هو حساب الشحنات أو المسافة ؟... الأمثلة التالية توضح ذلك ..

**مثال (٧)** في الشكل المجاور إذا علمت أن محصلة المجال الكهربائي عند

النقطة (هـ) يساوي ٥٠٠ نيوتن / كولوم. س+ . فما مقدار ونوع س٢ ؟



**الحل:** بما أن محصلة المجال معلومة ، نحسب مجال س١ فنعرف مجال س٢ ومنه نحسب منه مقدار س٢ .

$$E = \frac{Q}{r^2}$$

$$E_1 = \frac{9 \times 10^9 \times 2 \times 10^{-6}}{(0,2)^2} = 112500 \text{ ن/كولوم}$$

١ م = ٤٠٠ نيوتن / كولوم س-

محصلة = ١ م + ٢ م (جمع متجهات)

٢ م = ٤٠٠ س+ س-

٢ م = ٩٠٠ نيوتن / كولوم ، س+ (إذاً ، نوع س٢ موجبة ، و بما أن مجالها عُلِمَ فنستطيع إيجاد مقدارها)

$$E = \frac{Q}{r^2}$$

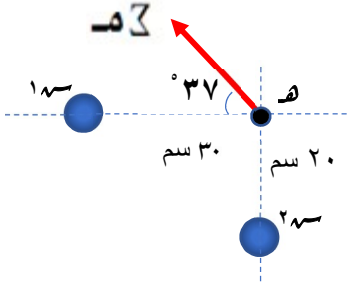
$$900 = \frac{9 \times 10^9 \times S_2}{(0,2)^2}$$

∴ س٢ = ٤ نانوكولوم

التوضيح:  
٥٠٠ س+ - ٤٠٠ س-  
لا يجوز التعامل مع المتجهات كأرقام القياسية إلا إذا كانت بنفس الاتجاه فنعكس اتجاه أحد المتجهات و نعكس قيمته  
٥٠٠ س+ - ٤٠٠ س-  
٩٠٠ س+

## المجال الكهربائي

**مثال ( ٨ )** في الشكل المجاور إذا علمت أن محصلة المجال الكهربائي عند النقطة (هـ) يساوي ٩٠٠ نيوتن / كولوم، بالاجته الموضح في الشكل . أوجد مقدار ونوع كل من  $q_1$  و  $q_2$  ؟



**الحل:** بما أن محصلة المجال معلومة في المقدار والاتجاه فنستطيع إيجاد المركبة السينية للمحصلة فتكون هي مجال  $q_1$  والمركبة الصادية هي مجال  $q_2$ ، وبمعرفة مجال كل شحنة نجد مقدار ونوع الشحنتين..

$$\begin{aligned} m_1 &= m \sin \\ \frac{q_1}{r^2} &= \theta \text{ جتا} \end{aligned}$$

$$\frac{q_1 \times 9 \times 10^9}{(0,2)^2} = 900 \times \text{جتا } 37$$

$$q_1 = 2,4 \times 10^{-9} \text{ كولوم}$$

موجبة لأن المجال بعيداً عنها.

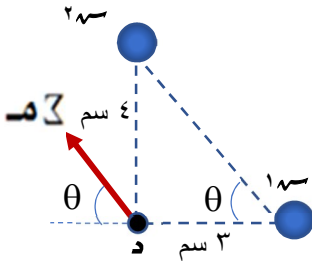
$$\begin{aligned} m_2 &= m \cos \\ \frac{q_2}{r^2} &= \theta \text{ جتا} \end{aligned}$$

$$\frac{q_2 \times 9 \times 10^9}{(0,3)^2} = 900 \times \text{جتا } 37$$

$$q_2 = 7,2 \times 10^{-9} \text{ كولوم}$$

سالبة لأن المجال باتجاهها

**مثال ( ٩ )** في الشكل المجاور إذا علمت أن  $q_1 = (2,7 \text{ نانوكولوم})$  وأن محصلة المجال الكهربائي عند النقطة (د) بالاجته الموضح في الشكل . أوجد محصلة المجال و مقدار ونوع  $q_2$  ؟



**الحل:** المركبة السينية للمحصلة هي مجال  $q_1$  وبما أن معلومة نجد مجالها فنجد محصلة المجال . والمركبة الصادية للمحصلة هي مجال  $q_2$  فنجد منها  $q_2$  ..

$$\begin{aligned} m_1 &= m \sin \\ \frac{q_1}{r^2} &= \theta \text{ جتا} \end{aligned}$$

$$\frac{q_1 \times 9 \times 10^9}{(2-1 \times 4)^2} = 0,8 \times 10^4 \times 0,6$$

$$q_2 = 6,4 \times 10^{-9} \text{ كولوم} . \text{ سالبة لأن المجال متجه نحوها.}$$

$$\begin{aligned} m_2 &= m \cos \\ \frac{q_2}{r^2} &= \theta \text{ جتا} \end{aligned}$$

$$\frac{q_2 \times 9 \times 10^9}{(2-1 \times 3)^2} = 0,6 \times 10^4$$

$$m = 0,6 \times 10^4 \text{ نيوتن/كولوم}$$

## المجال الكهربائي

### ملاحظة:

قد ينعقد المجال الكهربائي عند نقطة بسبب وجود مجالين كهربائيين متساويين و متعاكسين ، أو بسبب وجود عدة مجالات كهربائية محصلتها صفر ، وتسمى هذه النقطة **نقطة التعادل** .

و **موقع نقطة التعادل** لشحنتين نقطيتين تكون بين الشحنتين المتشابهتين وخارج المختلفتين . و في الحالتين تكون بالقرب من الشحنة الصغرى بغض النظر عن نوع الشحنة .

في الشكل المجاور. أي النقاط يمكن أن تكون محصلة المجال الكهربائي عندها = صفر؟



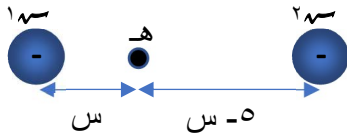
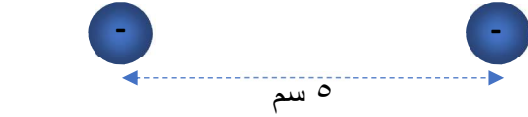
الجواب: ج



**مثال ( ١٠ )** في الشكل أوجد بعد نقطة التعادل عن إحدى الشحنتين . أوجد بعد نقطة عن إحدى الشحنتين لو وضعت شحنة ثالثة عندها لن تتأثر بقوة كهربائية .

الحل: أولاً نفرص موقعها ونكتسها ( هـ ) . بين الشحنتين المتشابهتين وأقرب للشحنة (-٤) نانوكولوم لأنها أصغر ، بغض النظر عن نوعها ...

ونفرص بعدها عن الشحنة الصغرى ( س ) فيكون بعدها عن الشحنة الكبرى ( ٥ - س ) ثم نطبق شرط الاتزان وهو أن محصلة المجال = صفر ...



$$\sum m = \text{صفر}$$

$$m_1 = m_2$$

$$\frac{q_1 \times r_1^2}{4\pi\epsilon_0} = \frac{q_2 \times r_2^2}{4\pi\epsilon_0}$$

$$\frac{1 \times 9}{(s)^2} = \frac{4 \times 10}{(5-s)^2}$$

$$\frac{9}{s^2} = \frac{40}{(5-s)^2}$$

$$\frac{9}{s^2} = \frac{40}{(5-s)^2}$$

أسرع طريقة لإيجاد الناتج هو أخذ الجذر التربيعي للطرفين...

∴ س = ٢ سم

## المجال الكهربائي

### أسئلة

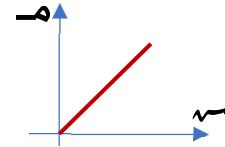
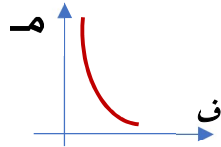
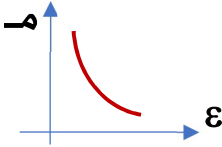
**س ١:** أذكر العوامل التي يعتمد عليها كل من مقدار واتجاه المجال الكهربائي عند نقطة و الناتج عن شحنة نقطية، ومثل العلاقة البيانية لكل عامل.

الإجابة: مقدار المجال يعتمد على: ١- مقدار الشحنة الكهربائية

٢- بعد النقطة عن الشحنة

٣- المساحة الكهربائية للوسط العازل بين الشحنة والنقطة (نوع الوسط)

أما اتجاهه فيعتمد على نوع الشحنة فقط.



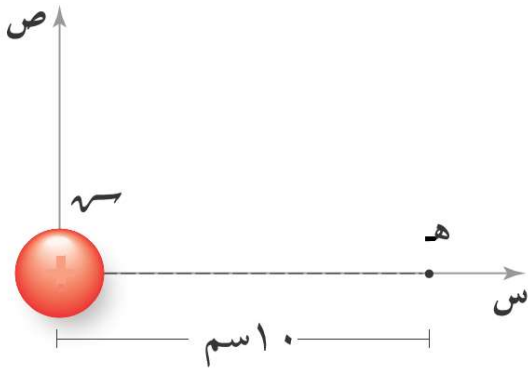
**س ٢:** في الشكل المجاور تأثر إلكترون بقوة (١٤٤ × ١٠<sup>-١٨</sup>) نيوتن باتجاه محور السينات السالب، عندما كان في

النقطة (هـ) أوجد ما يلي:

١- مقدار واتجاه المجال الكهربائي عند النقطة (هـ).

٢- مقدار ونوع الشحنة س.

**الحل:**



$$١- \text{ق} = \text{س} \cdot \text{م}$$

$$١٤٤ \times ١٠^{-١٨} = ١,٦ \times ١٠^{-١٩} \times \text{م}$$

م = ٩٠٠ نيوتن / كولوم، س<sup>+</sup> (لأن اتجاه القوة عكس اتجاه المجال عندما تكون الشحنة المتأثرة سالبة)

٢- الشحنة (س) موجبة لأن اتجاه مجالها عند (هـ) لليمين بعيداً عنها، أما مقدارها:

$$\text{م} = \frac{\text{أ} \cdot \text{س}}{\text{ف}^٢} \leftarrow \text{م} = ٩٠٠ = \frac{٩ \times ١٠^{-٩}}{(٠,١)^٢} \leftarrow \text{س} = ١ \text{ نانوكولوم.}$$

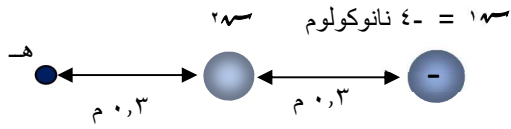


## المجال الكهربائي

**س٣:** تأثر إلكترون بقوة (  $3,2 \times 10^{-17}$  ) نيوتن، باتجاه محور السينات السالب عند وضعه عند النقطة ( هـ ) في

الشكل المجاور، احسب مقدار ونوع س٢.

**الحل:**



ق = س٢. م

$$3,2 \times 10^{-17} \times 1,6 = 10^{-19} \times 1,6 \times 10^{-19} \text{ م}$$

= ٢٠٠ نيوتن / كولوم ، س<sup>+</sup> (لأن اتجاه القوة عكس اتجاه المجال عندما تكون الشحنة المتأثرة سالبة)

∴ س٢ = ١٠٠ س<sup>+</sup> (إذاً ، نوع س٢ سالبة لأن اتجاه المجال باتجاه الشحنة)

$$\frac{أس}{ف٢} = م$$

$$\frac{١٠٠ \times ٩}{٢ (٠,٣)^2} = ١٠٠$$

∴ س٢ = ١ نانوكولوم

$$\frac{أس}{ف٢} = م$$

$$\frac{١٠ \times ٩}{٢ (٠,٦)^2} = ١ م$$

١ م = ١٠٠ نيوتن / كولوم ، س<sup>+</sup>

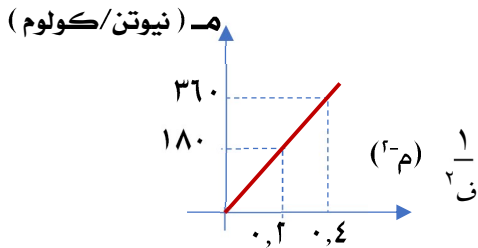
محصلة = ١ م + ٢ م (جمع متجهات)

٢٠٠ س<sup>+</sup> = ١٠٠ س<sup>+</sup> + ٢ م

**س٤:** يبين الشكل المجاور علاقة المجال الكهربائي لشحنة نقطية مع مقلوب مربع البعد عنها ، اعتماداً على

الشكل أوجد مقدار الشحنة

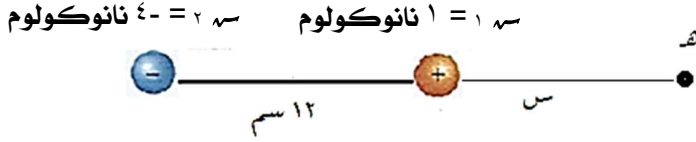
( الجواب : س = ١٠٠ نانوكولوم )



## المجال الكهربائي

**س ٥:** احسب بعد نقطة عن إحدى الشحنتين ينعدم عندها المجال الكهربائي في الشكل المجاور .

**الحل:**



في هذا السؤال تكون على يمين الشحنة الثانية لأنهما مختلفتين و س<sub>٢</sub> أصغر من س<sub>١</sub> بغض النظر عن الإشارة السالبة للشحنة لأنها تعبر عن نوع الشحنة ،

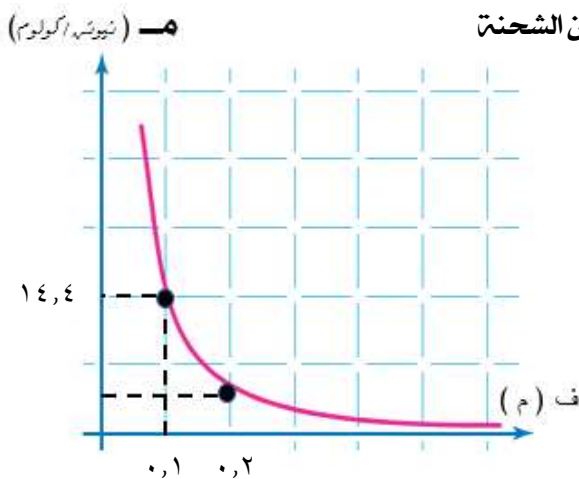
فنفرض النقطة (هـ) نقطة الاتزان وبعدها (س) عن الشحنة الصغرى ثم نطبق شرط الاتزان ...

$$F_1 = F_2$$

$$\frac{1 \times 10^{-9}}{s^2} = \frac{4 \times 10^{-9}}{(s + 12)^2}$$

∴ س = ١٢ سم

**س ٦:** يمثل الشكل المجاور علاقة المجال الكهربائي لشحنة نقطية مع البعد عنها بالمتر ، أوجد ما يلي :



١- القوة المؤثرة على شحنة (٢) ميكروكولوم على بعد (٠,١) م عن الشحنة

٢- المجال على بعد ٠,٢ م

٣- مقدار الشحنة النقطية

**الجواب:** ١- ٢٨,٨ ميكرونيوتن

٢- ٣,٦ نيوتن/كولوم      ٣- س = ١٦ بيكو كولوم.

رابط الاختبار الإلكتروني الأول : الاختبار الأول

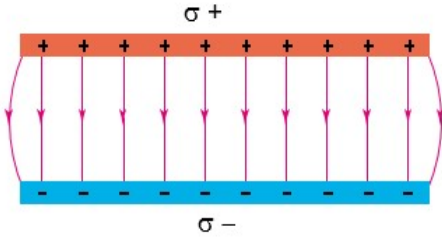
<https://goo.gl/forms/KcfaZ0WDTAwRPq7١٢>

## المجال الكهربائي

### ثالثاً : المجال الكهربائي المنتظم

يُعد المجال الكهربائي الناشئ عن الشحنات النقطية مجالاً كهربائياً غير منتظم، لأنه غير ثابت مقداراً ولا اتجاهاً .  
فالمجال الكهربائي المنتظم هو الثابت مقداراً واتجاهاً فكيف نحصل عليه ؟ وكيف نُعبّر عنه رياضياً ؟

نحصل عليه ( مصدره ) :



من صفيحتين موصلتين متوازيتين أحدهما مشحونة بشحنة سالبة والأخرى بشحنة موجبة كما يبين الشكل المجاور .

خطوطه ( كيفية تمثيله ) :

خطوط المجال الكهربائي لصفيحتين متوازيتين ومشحونتين بشحنتين مختلفتين ، لاحظ توازي الخطوط وتساوي البعد بينها وانحنائها عند الأطراف ، وعدم وجود مجال كهربائي خارج الصفيحتين لأن محصلته تكون صفراً .

يمثل خطوط مستقيمة متوازية والبعد بينها متساوٍ اتجاهها يمثل اتجاه المجال الكهربائي، وكثافتها تُعبّر عن مقداره .

كيفية حسابه :

عند شحن إحدى الصفيحتين بشحنة موجبة ( + ) و الأخرى بشحنة سالبة ( - ) تتوزع هذه

الشحنة على الصفيحتين بانتظام فتكون الشحنة على وحدة المساحة من الصفيحة (  $\sigma$  ) وتسمى

الكثافة السطحية للشحنة و تعطى بالعلاقة :

كثافة الشحنة السطحية (  $\sigma$  )

هي كمية الشحنة الكهربائية لكل وحدة مساحة

$$\sigma = \frac{q}{p} \text{ كولوم / م}^2$$

و يتناسب المجال الكهربائي المنتظم طردياً مع مقدار كثافة الشحنة السطحية و عكسياً مع

السماحية الكهربائية للوسط بين الصفيحتين، فإذا كانت كثافة الشحنة السطحية على الصفيحتين

متساوية أحدها موجبة (  $\sigma +$  ) و الأخرى سالبة (  $\sigma -$  ) يكون المجال الكهربائي بين الصفيحتين :

الإجابة ..

$$E = \frac{\sigma}{\epsilon_0}$$

١- كثافة الشحنة السطحية

٢- السماحية الكهربائية

للوسط بين الشحنتين .

ما هي العوامل التي يعتمد عليها مقدار المجال الكهربائي المنتظم ؟



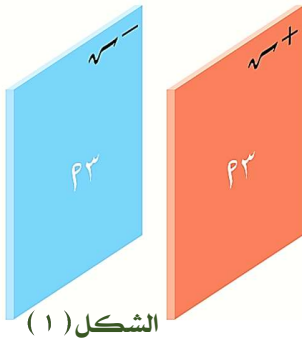
## المجال الكهربائي

**مثال ( ١ )** صفيحتان متوازيتان مساحتهما ( أ ) يفصل بينهما الهواء شُحنتا بشحنتين متساويتين و مختلفتين ( س٢ ) . وضّح كيف يتغير المجال الكهربائي بين الصفيحتين في الحالات التالية :

- ١- إذا أصبحت الشحنة على كل صفيحة ( س٢ ) ؟
- ٢- إذا نقصت مساحة الصفيحتين إلى النصف مع ثبات الشحنة ؟
- ٣- إذا أدخلت مادة عازلة بين الصفيحتين سماحتها ضعفي سماحية الهواء ؟
- ٤- إذا اقتربت الصفيحتين من بعضهما إلى نصف المسافة السابقة ؟

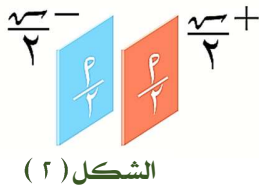
**الحل :** بمعرفة العوامل التي يعتمد عليها المجال المنتظم و نوع التناسب طردياً أم عكسياً نستطيع الإجابة على هذا السؤال و العوامل مخدفاً منه :  $\sigma = \frac{Q}{A}$

- ١- يتضاعف المجال و يصبح ٢ م . لأنه عند زيادة الشحنة على الصفيحتين تزداد كثافة الشحنة السطحية و يزداد المجال لأن  $\sigma \propto \alpha$  ( المجال يتناسب طردياً مع كثافة الشحنة السطحية ) .
- ٢- يزداد المجال الكهربائي و يصبح ٢ م . لأن كثافة الشحنة السطحية سوف تزداد بنقصان المساحة مع ثبات الشحنة . ( ملاحظة : إذا نقصت المساحة مع الشحنة بنفس المقدار يثبت المجال فلن تتغير كثافة الشحنة السطحية عندئذ )
- ٣- يقل المجال الكهربائي إلى النصف (المجال يتناسب عكسياً مع السماحية الكهربائية )  $\alpha = \frac{1}{\epsilon}$
- ٤- لا يؤثر البعد بين الصفيحتين على المجال الكهربائي فحسب العلاقة الرياضية لا يوجد عامل المسافة .



**مثال ( ٢ )** في أي الشكلين المجاورين يكون المجال الكهربائي بين الصفيحتين أكبر ؟  
وضح إجابتك .

**الحل :** بحساب المجال الكهربائي لكل من الشكلين مخدداً أي المجالين أكبر .



$$\frac{\sigma}{\epsilon} = m \leftarrow \frac{\sigma}{\epsilon} = m$$

$$m = \frac{\sigma}{\epsilon} = \frac{\frac{P}{2}}{\epsilon} = \frac{P}{2\epsilon} \quad \text{لكن} \quad m = \frac{\sigma}{\epsilon} = \frac{P}{\epsilon}$$

إذاً  $m_2 < m_1$  .  $m_2 = \frac{1}{3} m_1$

## المجال الكهربائي

**مثال ( ٣ )** صفيحتان متوازيتان مساحة كل منهما ٢٠٠ سم<sup>٢</sup> شحنتا بشحنتين متساويتين ومختلفتين (١٧,٧) نانوكولوم . أوجد ما يلي :

- ١- كثافة الشحنة السطحية لكل صفيحة .
- ٢- المجال الكهربائي بين الصفيحتين .
- ٣- القوة المؤثرة على إلكترون بين الصفيحتين .

**الحل : (١)**

$$\sigma = \frac{q}{A} = \frac{17,7 \times 10^{-9}}{200 \times 10^{-4}} = 8,85 \times 10^{-10} \text{ كولوم / م}^2$$

**(٢)**

$$E = \frac{\sigma}{\epsilon_0} = \frac{8,85 \times 10^{-10}}{8,85 \times 10^{-12}} = 100 \text{ نيوتن / كولوم}$$

**(٣)**  $q = m \times a$

$$100 = 9 \times 10^{-31} \times a \Rightarrow a = 1,1 \times 10^{14} \text{ نيوتن}$$

**مثال ( ٤ )** وضعت شحنة (-٤,٤٢٥) ميكروكولوم بين صفيحتين متوازيتين ومشحونتين بشحنتين مختلفتين مساحتهما (٢,٥) سم<sup>٢</sup> فتأثر بقوة (٢٠) نيوتن . احسب شحنة كل صفيحة .

**الحل :**  $q = m \times a$  خلال القوة المؤثرة على الشحنة نجد المجال الكهربائي ( $q = m \times a$ ) . ثم  $E = \frac{\sigma}{\epsilon_0}$  نجد كثافة الشحنة السطحية :  $\sigma = \frac{q}{A}$  نجد شحنة الصفيحة .... لكم نستطيع حساب شحنة الصفيحة

دون إجمار المجال كالتالي :

تعريف المجال :  $E = \frac{q}{\epsilon_0 A}$  و المجال هنا مجال بين الصفيحتين :  $E = \frac{\sigma}{\epsilon_0}$  و  $\sigma = \frac{q}{A}$

$$\frac{q}{\epsilon_0 A} = \frac{\sigma}{\epsilon_0} \Rightarrow \frac{q}{A} = \sigma$$

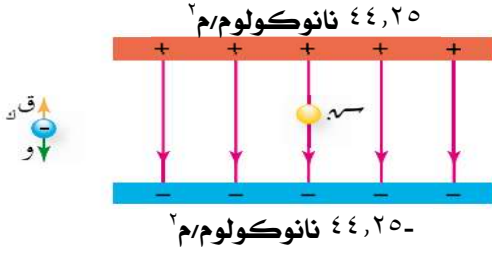
$$\frac{20}{2,5 \times 10^{-4}} = \frac{q}{2,5 \times 10^{-4}} \Rightarrow q = 2,5 \times 10^{-4} \times 20 = 5 \times 10^{-4} \text{ كولوم}$$

$$\therefore q = 1 \times 10^{-4} \text{ كولوم}$$

## المجال الكهربائي

**مثال ( ٥ )** اكتسبت قطرة زيت كتلتها  $(5 \times 10^{-10})$  كغ عدداً من الإلكترونات

فاتزنت بين الصفيحتين في الشكل المجاور احسب عدد الإلكترونات التي اكتسبتها قطرة الزيت .



**الحل :** بما أن القطرة اتزنت فإن محصلة القوى على الجسم = صفر . نحدد القوى بمخطط الجسم المرتسم نطبق شرط الاتزان ، و القوى هنا الوزن للأسفل و القوة الكهربائية للأعلى :

$$\sum \vec{F} = 0 \quad \leftarrow \text{صفر} \quad \text{ق ك} = \text{و}$$

$$m \cdot g = q \cdot E$$

$$n \cdot e \cdot \frac{\sigma}{\epsilon} = m \cdot g \quad \therefore n = \frac{m \cdot g \cdot \epsilon}{\sigma \cdot e}$$

عوضنا هنا بقانون تكميم الشحنة و بقانون المجال المنتظم

$$n = \frac{12 \cdot 10^{-10} \times 8,85 \times 10^{-12} \times 9,8}{1,6 \times 10^{-19} \times 44,25 \times 10^{-6}}$$

$$\therefore n = 1,25 \times 10^{11} \text{ إلكترون}$$

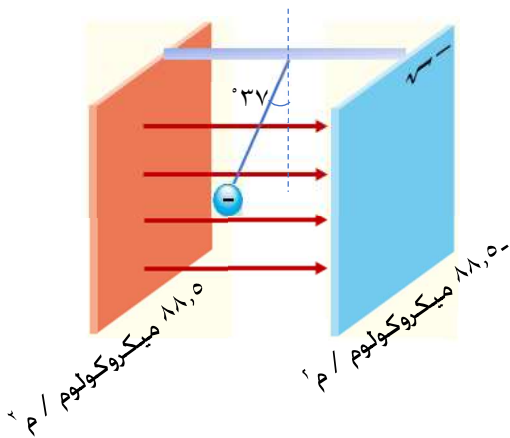
**مثال ( ٦ )** في الشكل المجاور اتزنت كرة كتلتها  $(2 \times 10^{-3})$  كغ

بين الصفيحتين . احسب عدد الإلكترونات على الكرة .

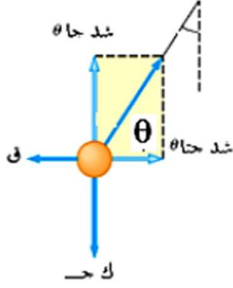
**الحل :** بما أن القطرة اتزنت فإن محصلة القوى على الجسم = صفر . نحدد القوى

بمخطط الجسم المرتسم نطبق شرط الاتزان ، و القوى هنا الوزن للأسفل و القوة

الكهربائية لليسار و الشد باتجاه الجبل . لكمة قوة الشد تحلل إلى مركبتين...



## المجال الكهربائي



$$\Sigma U = 0 \text{ صفر}$$

شد جتا  $\theta = q$  ..... معادلة ١

شد جا  $\theta = w$  ..... معادلة ٢

بقسمة المعادلتين على بعضهما نتخلص من قوة الشد ...

$$\frac{\text{جا } \theta}{\text{جتا } \theta} = \frac{w}{q}$$

$$\frac{\text{جا } 53}{\text{جتا } 53} = \frac{3-10 \times 20}{q}$$

$$\therefore q = 15 \times 10^{-3} \text{ نيوتن، لكن } q = m \times s \text{ و } m = \frac{\sigma}{\epsilon} = \frac{6-10 \times 88,5}{12-10 \times 8,85} = 710 \times 1 \text{ نيوتن/كولوم}$$

$$15 \times 10^{-3} = s \times 710 \times 1 \therefore s = 1,5 \times 10^{-9} \text{ كولوم لكن } s = n \times e$$

$$1,5 \times 10^{-9} = n \times 1,6 \times 10^{-19} \therefore n = 9,375 \times 10^9 \text{ إلكترون}$$

## المجال الكهربائي

### رابعاً : حركة جسم مشحون في مجال كهربائي منتظم

إذا وضع جسم شحنته (  $q$  ) في مجال كهربائي منتظم (  $E$  ) فإنه سيتأثر بقوة كهربائية ثابتة (  $F = qE$  ) و حسب القانون الثاني لنيوتن فإنها ستكسبه تسارعاً باتجاهها يتناسب طردياً مع القوة و عكسياً مع الكتلة ..

$$F = qE$$

$$qE = ma \quad \leftarrow \quad a = \frac{qE}{m}$$

و بما أن القوة ثابتة يكون التسارع ثابتاً و عندها توصف حركة الجسم بمعادلات الحركة الثلاث ...

$$v = at + v_0$$

$$\Delta s = \frac{1}{2}at^2 + v_0t$$

$$v^2 = v_0^2 + 2a\Delta s$$

حيث (  $v$  ) : السرعة النهائية للجسيم، (  $a$  ) : السرعة الابتدائية للجسيم، (  $\Delta s$  ) : الإزاحة التي يقطعها الجسيم، (  $t$  ) : الزمن اللازم للحركة.

#### ملاحظات :

- اتجاه التسارع باتجاه القوة دائماً . أما اتجاه القوة فتكون باتجاه المجال إذا كانت الشحنة موجبة و عكس اتجاه المجال إذا كانت الشحنة سالبة .
- يتباطأ الجسم إذا كانت القوة معاكسة لاتجاه سرعته الابتدائية و عندها يعوض التسارع سالباً في معادلات الحركة .

**مثال ( ١ )** جسم شحنته ( ٣ ) ميكروكولوم و كتلته (  $4 \times 10^{-13}$  ) كغ وضع في مجال كهربائي منتظم مقداره ( ٥٠٠ ) نيوتن / كولوم . أوجد ما يلي :

- ١- تسارع الجسم ٢- سرعته بعد مرور ( ٤ ) ميكروثانية . ٣- الإزاحة التي يقطعها في هذه الفترة .



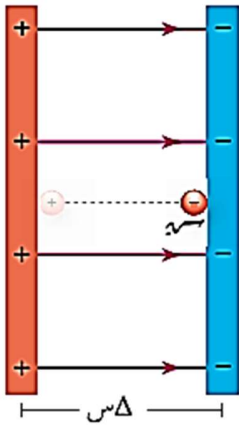
المجال الكهربائي

الحل:

$$\begin{array}{l}
 (1) \quad \frac{q \cdot m}{K} = T \\
 T = \frac{500 \times 10^{-6} \times 3}{12 - 10 \times 4} \\
 T = 3,75 \times 10^{-9} \text{ م/ث}^2
 \end{array}
 \quad
 \begin{array}{l}
 (2) \quad E = E + T \\
 E = 10 \times 4 \times 10^{-9} + 3,75 \times 10^{-9} \\
 E = 15 \times 10^{-9} \text{ م/ث}^2
 \end{array}
 \quad
 \begin{array}{l}
 (3) \quad \Delta s = E \cdot z + \frac{1}{2} T z^2 \\
 \Delta s = 10 \times 4 \times 10^{-9} \times 1 + \frac{1}{2} \times 3,75 \times 10^{-9} \times 1^2 \\
 \Delta s = 10 \times 10^{-9} \text{ م}
 \end{array}$$

مثال ( ٢ ) في الشكل المجاور . تحرك جسيم كتلته (٢,١) غ من السكون من الصفحة السالبة فوصل إلى

الصفحة الموجبة بسرعة (٢١٠×١) م/ث . إذا كان البعد بين الصفيحتين (١) ميكروكولوم / م<sup>٢</sup> - ٨٨,٥ ميكروكولوم / م<sup>٢</sup> ٨٨,٥ ميكروكولوم / م<sup>٢</sup> سم . بإهمال وزن الجسيم احسب شحنته .



الحل: مه معارلات الحركة نجد التسارع ثم نستخدم قانون تسارع الجسيم في مجال منتظم لكنه نجد المجال بين الصفيحتين أولاً :

المعطيات : ك = ٢ × ١٠<sup>-٤</sup> كغ . ع = صفر . ع = ٢١٠ × ١ م / ث . Δس = ١ × ١٠<sup>-٢</sup> م

$$E = E' + 2T \Delta s$$

$$210 \times 1 = 2 \times T \times 1 + 0$$

$$T = 105 \text{ م/ث}^2$$

$$T = \frac{q \cdot m}{K} \quad \text{لكن}$$

$$\frac{105 \times 2 \times 10^{-4}}{2 \times 10^{-4}} = 105 \times 18$$

∴ سه = ٣٦ ملي كولوم.

$$\sigma = \frac{q}{A}$$

$$\sigma = \frac{36 \times 10^{-6}}{12 \times 10^{-4}} = 3 \times 10^{-3} \text{ كولوم}$$

$$\sigma = 3 \times 10^{-3} \text{ نيوتن / كولوم}$$

## المجال الكهربائي

**مثال ( ٣ )** وضع إلكترونين بين صفيحتين متوازيتين مشحونتين بشحنتين مختلفتين فتأثر بقوة (١٤,٤ × ١٠<sup>-١٨</sup>)

نيوتن أوجد ما يلي : ( علماً أن  $e = ١,٦ \times ١٠^{-١٩}$  كولوم .  $e = ٩ \times ١٠^{-٣١}$  كغ )

١- تسارع الإلكترون	٢- المجال الكهربائي	٣- سرعته بعد ١ ميكروثانية
١- $ق = ك ت$	٢- $ق = س م$	٣- $ع = ع + ت ز$
$١٤,٤ \times ١٠^{-١٨} = ٩ \times ١٠^{-٣١} ت$	$١٤,٤ \times ١٠^{-١٨} = ١,٦ \times ١٠^{-١٩} م$	$١٠^{-١٨} \times ١٠^{-٣١} \times ١,٦ + ٠ = ع$
$ت = ١,٦ \times ١٠^{-٣١} م/ث^٢$	$م = ٩٠ \text{ نيوتن / كولوم}$	$ع = ١,٦ \times ١٠^{-٣١} م/ث$

**مثال ( ٤ )** في الشكل المجاور قذف جسيم كتلته (١,٢ × ١٠<sup>-١٨</sup>) كغ بسرعة ابتدائية (٨ × ١٠<sup>-٤</sup>) م/ث في مجال

كهربائي منتظم فتوقف بعد أن قطع مسافة (١,٦) سم . أوجد ما يلي

١. مقدار و اتجاه القوة الكهربائية على الجسيم ٢- شحنة الجسيم .



**الحل :**

$$١- ع^٢ = ع^٢ + ٢ ت \Delta س$$

$$٠ = (٨ \times ١٠^{-٤})^٢ + ٢ ت \times ١,٦ \times ١٠^{-٢}$$

$\therefore ت = - ٢٠ \times ١٠^{-٤} م/ث$  ( الإشارة السالبة تعني أن الجسم يتباطأ )

ومنه  $ق = ك ت = ١,٢ \times ١٠^{-١٨} \times ٢٠ \times ١٠^{-٤} = ٢٤ \times ١٠^{-٢٢} \text{ نيوتن ، س-}$

$$٢- ت = \frac{م-س}{ك}$$

$$٢٠ \times ١٠^{-٤} = \frac{م-س}{١,٢ \times ١٠^{-١٨}}$$

$$٢,٤ \times ١٠^{-٢٢} = م-س$$

$\therefore س = ١,٢ \text{ نانوكولوم .}$

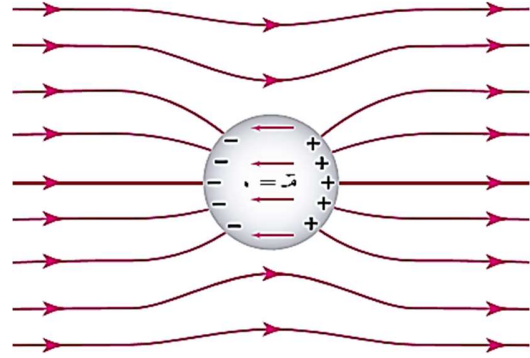
## المجال الكهربائي

### خامساً : حماية الأجهزة الإلكترونية من المجالات الكهربائية الخارجية

تحتوي الموصلات على إلكترونات حرة. وعندما يوضع موصل في مجال كهربائي خارجي تتأثر هذه الإلكترونات بقوة كهربائية تدفعها للحركة بعكس اتجاه المجال الكهربائي المؤثر. فيشحن الموصل بالحث. وتتوزع الشحنات على السطح الخارجي للموصل. كما هو مبين في الشكل المجاور فينشأ داخل الموصل مجال كهربائي مساو للمجال الكهربائي الخارجي. ومعاكس له في الاتجاه. فيكون المجال الكهربائي المحصل داخل الموصل صفراً. وبذلك يمنع الموصل المجال الكهربائي الخارجي من اختراقه.



أكياس مصنوعة من مادة موصل لحماية الأجهزة الإلكترونية.



وبناء على ما سبق نستطيع تفسير ما يلي :

١. استخدام الموصلات لتغليف الأجهزة الإلكترونية إذ تشكل درعاً واقياً لحمايتها من المجالات الكهربائية الخارجية .



٢. لا يمكن الاتصال مع الهاتف الموجود داخل إناء فلزي .

٣. البقاء داخل السيارة خلال العاصفة المصحوبة بالبرق أكثر أماناً من الخروج منها .



رابط الاختبار الإلكتروني الثاني : [الاختبار الثاني](https://goo.gl/forms/X٥٦zDUutkrO٤KFCi١)

<https://goo.gl/forms/X٥٦zDUutkrO٤KFCi١>

## المجال الكهربائي

### اختبر نفسك

**السؤال الأول:** يتكون هذا السؤال من ١٤ فرع لكل فرع أربع إجابات واحدة منها فقط صحيحة . اختر رمز الإجابة الصحيحة لكل فرع .

١. جسم شحنته ( - ٨ ) ميكروكولوم . إن عدد الإلكترونات التي يحتاجها لتصبح شحنته ( ٨ ) ميكروكولوم هو:

- أ) اكتساب  $١٤١٠$  إلكترون  ب) اكتساب  $١٣١٠ \times ٥$  إلكترون   
ج) فقد  $١٤١٠$  إلكترون  د) فقد  $١٣١٠ \times ٥$  إلكترون

٢. إذا كانت  $١٨٨ = ٤٢٨٨$  . وكانت القوة التي تؤثر فيها  $١٨٨$  على  $٢٠$  نيوتن . فإن القوة التي تؤثر فيها  $٢٨٨$  على  $١٨٨$  تساوي :

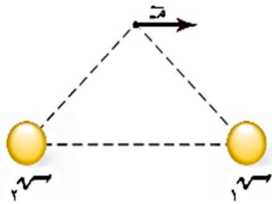
- أ)  $٢٠$  نيوتن , شرق  ب)  $١٠٠$  نيوتن , شرق   
ج)  $٢٠$  نيوتن , غرب  د)  $١٠٠$  نيوتن , غرب

٣. بين الشكل إلكترونات وبروتونات موضوعين على المحور السيني . يكون اتجاه المجال الكهربائي المحصل عند النقطتين س و ص على الترتيب هو :



- أ) س+ , س-  ب) س+ , س+   
ج) س- , س-  د) س- , س+

٤. نقطة تبعد عن الشحنتين ( $١٨٨$  ,  $٢٨٨$ ) المسافة نفسها . إذا علمت أن الشحنتين متساويتان في المقدار فإن:

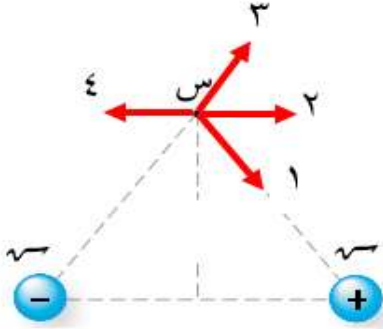


- أ)  $١٨٨$  موجبة ,  $٢٨٨$  موجبة .  ب)  $١٨٨$  موجبة ,  $٢٨٨$  سالبة .   
ج)  $١٨٨$  سالبة ,  $٢٨٨$  موجبة .  د)  $١٨٨$  سالبة ,  $٢٨٨$  سالبة .

## المجال الكهربائي

٥. في الشكل المجاور شحنتان متساويتان في المقدار و مختلفتان في النوع . إذا وُضع إلكترون عند

النقطة ( س ) على نفس البعد من الشحنتين فإن الاتجاه الذي سيتحرك فيه الإلكترون هو :



أ <input type="checkbox"/> ١

ب <input type="checkbox"/> ٢

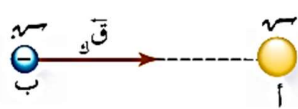
ج <input type="checkbox"/> ٣

د <input type="checkbox"/> ٤

٦. يبين الشكل المجاور شحنة نقطية (س) عند النقطة (أ) تولد حولها مجالاً كهربائياً. عندما وضعت

شحنة (س-) عند النقطة (ب) تأثرت بقوة كهربائية باتجاه المحور السيني الموجب. يكون (اتجاه

المجال الكهربائي عند النقطة (ب)، ونوع الشحنة الكهربائية (س)) على الترتيب:



أ <input type="checkbox"/> (س، سالبة)

ب <input type="checkbox"/> (س، موجبة)

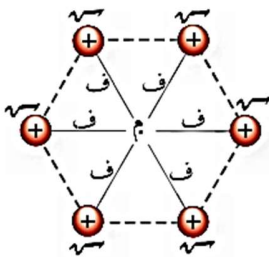
ج <input type="checkbox"/> (س، سالبة)

د <input type="checkbox"/> (س، موجبة)

٧. وزعت شحنات نقطية مقدار كل منها (س+) على رؤوس مضلع

سداسي كما في الشكل المجاور . إذا أزيلت شحنة نقطية واحدة

فإن مقدار المجال الكهربائي المحصل عند النقطة (م) يساوي:



أ <input type="checkbox"/> صفرًا

ب <input type="checkbox"/>  $5 \times \left(\frac{س}{ف}\right)$

ج <input type="checkbox"/>  $6 \times \left(\frac{س}{ف}\right)$

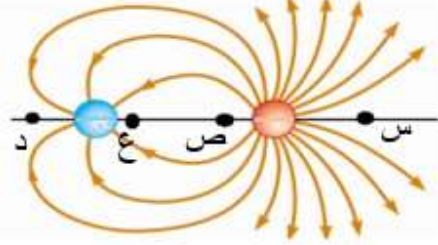
د <input type="checkbox"/>  $5 \times \left(\frac{س}{ف}\right)$

ج <input type="checkbox"/>  $6 \times \left(\frac{س}{ف}\right)$

د <input type="checkbox"/>  $5 \times \left(\frac{س}{ف}\right)$

## المجال الكهربائي

٨. في الشكل المجاور النقطة التي يمكن أن تكون محصلة المجال الكهربائي عندها صفراً هي :

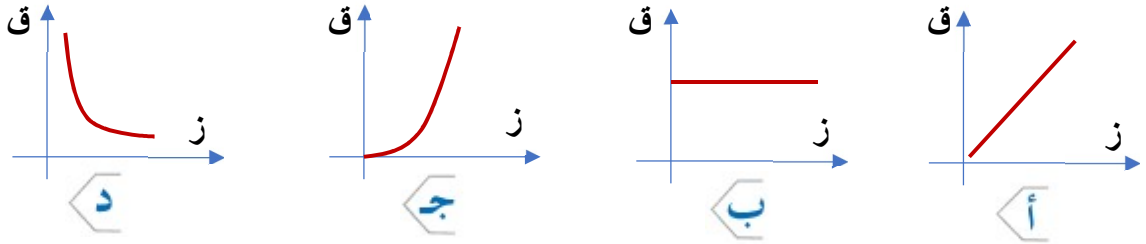
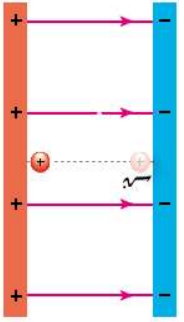


- ا <input type="checkbox"/> س      ب <input type="checkbox"/> ص  
ج <input type="checkbox"/> ع      د <input type="checkbox"/> د

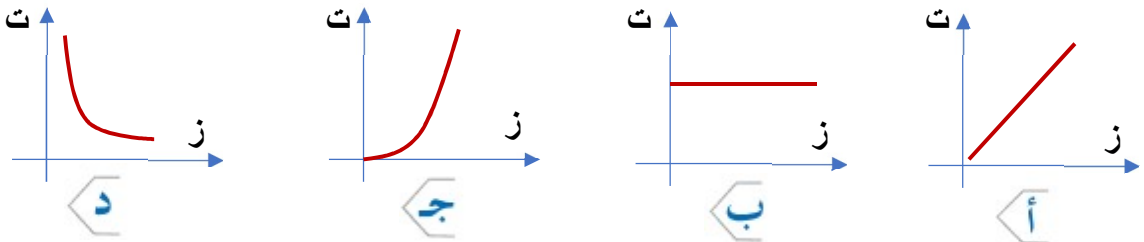
٩. وُضعت شحنة موجبة عند اللوح الموجب بين صفيحتين متوازيتين مشحونتين بشحنتين

مختلفتين كما في الشكل المجاور إن العلاقة البيانية الصحيحة للقوة المؤثرة على الشحنة

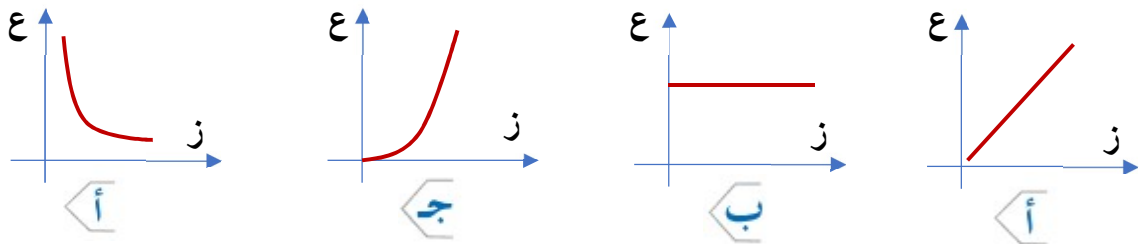
مع الزمن هي :



١٠. في السؤال السابق تكون العلاقة البيانية الصحيحة لتسارع الشحنة مع الزمن هي :

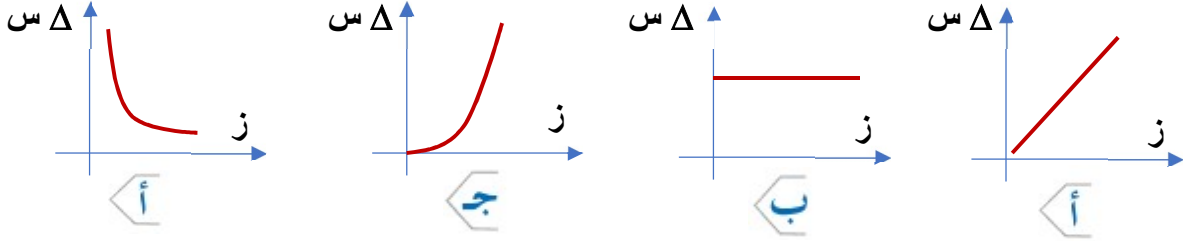


١١. في السؤال السابق تكون العلاقة البيانية الصحيحة لسرعة الشحنة مع الزمن هي :

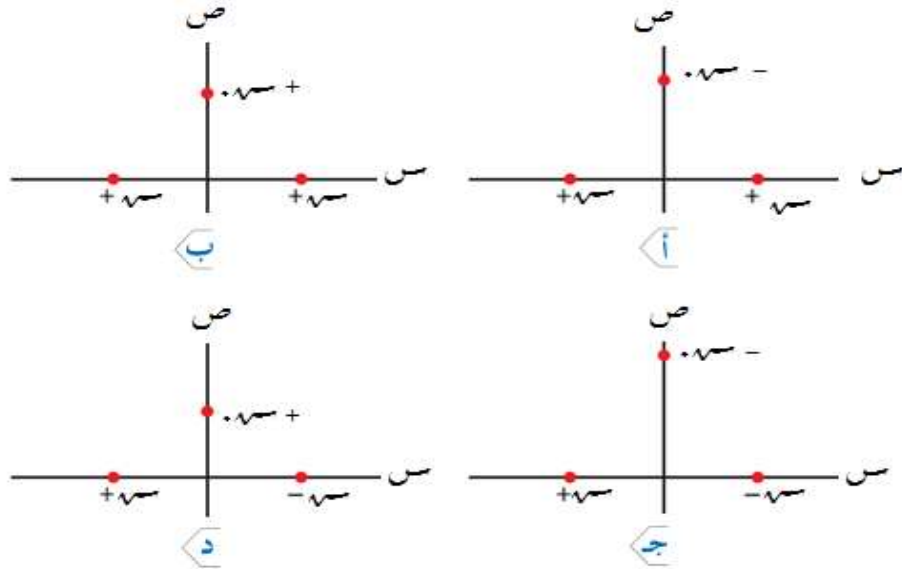


## المجال الكهربائي

١٢. في السؤال السابق أيضاً تكون العلاقة الصحيحة لإزاحة الجسم مع الزمن هي :



١٣. في أي شكل تكون محصلة القوة على الشحنة (س.) نحو محور الصادات السالب ؟



١٤. إذا وُضع إلكترون و بروتون في مجال كهربائي منتظم ، فإن :

أ تسارع الإلكترون يساوي تسارع البروتون ، و باتجاهين متعاكسين .

ب الإزاحة التي يحققها البروتون أكبر من إزاحة الإلكترون بنفس الفترة الزمنية .

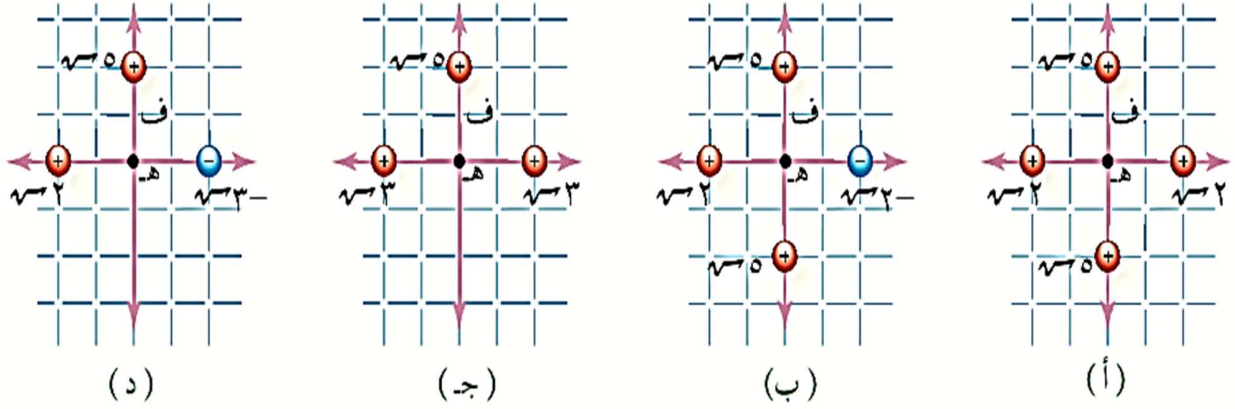
ج القوة المؤثرة في البروتون أكبر من القوة المؤثرة في الإلكترون .

د القوة المؤثرة في الجسمين متساوية في المقدار و متعاكسة في الاتجاه .

## المجال الكهربائي

### السؤال الثاني:

يبين الشكل توزيعات مختلفة من الشحنات النقطية . إذا كان (ف) يمثل بعد كل شحنة عن النقطة (هـ). فجد المجال الكهربائي المحصل مقداراً واتجهاً عند النقطة (هـ) في كل شكل بدلالة كل من (س، ف) .




الإجابة: (أ) صفر (ب)  $\frac{4}{F^2} أسه$  (ج)  $\frac{5}{F^2} أسه$  (د)  $\frac{375}{F^2} أسه$

### السؤال الثالث:

تأثرت شحنة نقطية ( - 5 ) بيكوكولوم . بقوة كهربائية ( 20 ) نانو نيوتن . باتجاه محور الصادات الموجب عندما وضعت عند نقطة الأصل . أوجد مقدار واتجاه المجال الكهربائي عند تلك النقطة .  
الإجابة :  $m = 4 \times 10^{-11}$  نيوتن / كولوم ، ص

### السؤال الرابع:



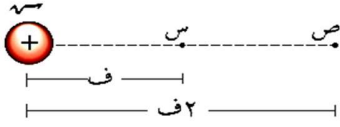
الإجابة :  $س = 24$  ميكروكولوم ، موجبة

شحنتان نقطيتان (س، س) موضوعتان في الهواء، والبعد بينهما (90) سم، إذا علمت أن المجال الكهربائي المحصل عند النقطة (س) يساوي صفراً، ومعتمداً على البيانات المثبتة في الشكل المجاور فجد مقدار الشحنة (س) ونوعها.



## المجال الكهربائي

### السؤال الخامس:



نقطتان (س، ص) تقعان في المجال الكهربائي لشحنة نقطية موجبة، كما يبين الشكل المجاور ، وضعت شحنة مقدارها  $(1 \times 10^{-1})$  كولوم عند النقطة (س) فتأثرت بقوة كهربائية مقدارها  $(8 \times 10^{-3})$  نيوتن. جد:

أ) المجال الكهربائي عند النقطة (س) مقدارًا واتجاهًا.

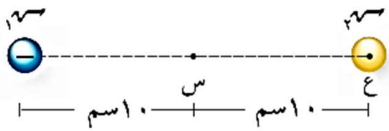
ب) القوة الكهربائية المؤثرة في شحنة نقطية مقدارها  $(-1 \times 10^{-1})$  كولوم توضع عند النقطة (ص)، مقدارًا واتجاهًا.

الإجابة : (أ)  $8 \times 10^{-3}$  نيوتن / كولوم

(ب) 2 ملي نيوتن ، - س .

### السؤال السادس:

وضعت شحنة  $(2 \times 10^{-1})$  كولوم على بعد (10) سم من النقطة (س) كما في المجاور .

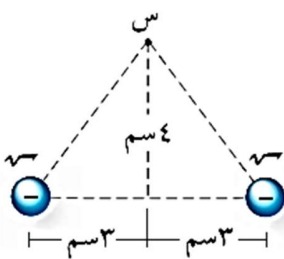


احسب مقدار الشحنة الكهربائية الواجب وضعها عند النقطة (ع)، وحدد نوعها ، ليكون مقدار المجال الكهربائي المحصل عند النقطة (س) مساويًا

$(4 \times 10^{-6})$  نيوتن / كولوم ويكون اتجاهه نحو النقطة (ع).

الإجابة :  $2 \times 10^{-6}$  كولوم ، -

### السؤال السابع:

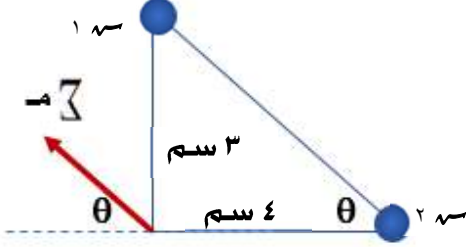


شحنتان نقطيتان متماثلتان  $(5 \times 10^{-1})$  كولوم، موضوعتان في الهواء. معتمدًا على البيانات المثبتة في الشكل المجاور ، احسب المجال الكهربائي عند النقطة (س) مقدارًا واتجاهًا.

الإجابة :  $2,88 \times 10^{-7}$  نيوتن / كولوم ، - ص

## المجال الكهربائي

### \* السؤال الثامن:



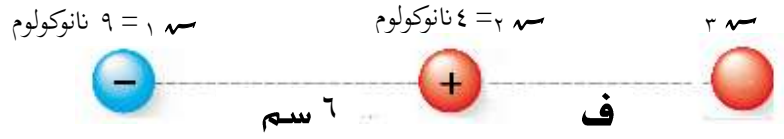
في الشكل المجاور إذا كانت محصلة المجال الكهربائي تساوي ٤٥٠ نيوتن/ كولوم و بالأجاه المبين في الشكل ، أوجد مقدار و نوع الشحنتين .

الإجابة :  $q_1 = -27$  بيكوكولوم ،

$q_2 = +64$  بيكوكولوم .

### \* السؤال التاسع:

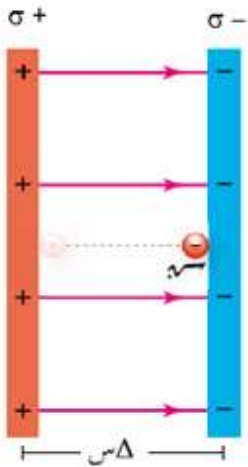
في الشكل المجاور ثلاث شحنات على استقامة واحدة ، أوجد مقدار و نوع و بعد الشحنة الثالثة بحيث تكون الشحنات الثلاث متزنة .



الإجابة : ف = ١٢ سم .

$q_3 = 36$  نانوكولوم سالبة .

### \* السؤال العاشر:

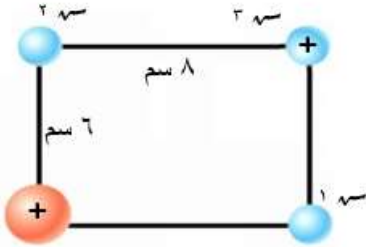


جسم كتلته ( ك ) و شحنته ( - س ) وضع عند الصفيحة السالبة بين صفيحتين متوازيتين مشحونتين بشحنتين مختلفتين كثافة الشحنة السطحية لهما (  $\sigma$  ) و البعد بينهما (  $\Delta s$  ) أثبت أن سرعته عند وصوله الصفيحة الموجبة و طاقته الحركية تعطى بالعلاقة :

$$E = \sqrt{\frac{2 \sigma s \Delta s}{\epsilon}} = \frac{\sigma s \Delta s}{\epsilon}$$

## المجال الكهربائي

### السؤال الحادي عشر:



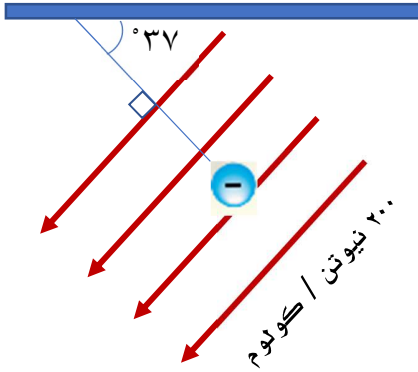
س = 100 نانوكولوم

في الشكل المجاور أوجد مقدار و نوع  $1\text{ س}$  و  $2\text{ س}$  علماً أن  $2\text{ س}$  متزنة .

الإجابة :  $1\text{ س} = 21,6$  نانوكولوم ،

$2\text{ س} = 51,2$  نانوكولوم ، سالتان .

### \* السؤال الثاني عشر:



أثر مجال كهربائي على كرة معلقة بشكل رأسي فالحرفت و استقرت كما في الشكل المجاور . إذا علمت أن قوة الشد في الحبل (  $0,12$  ) نيوتن أوجد شحنة الكرة .

الإجابة :  $800 =$  ميكروكولوم

### السؤال الثالث عشر:



اتزن جسيم (أ) شحنته ( $-1\text{ س}$ ) وكتلته (ك) في مجال كهربائي منتظم كما هو مبين في الشكل أجب عن الأسئلة الآتية:

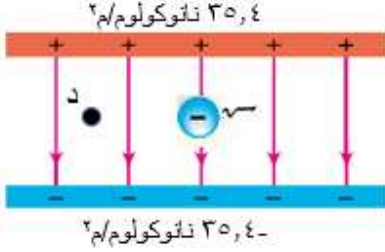
أ < حدد نوع الشحنة الكهربائية على الصفيحتين .

ب < إذا أدخل جسيم (ب) شحنته ( $-1\text{ س}$ ) وكتلته ( $2\text{ ك}$ ) في المجال الكهربائي نفسه، فهل يتزن؟ فسر إجابتك .

ج < إذا زادت الشحنة الكهربائية على الصفيحتين فهل يبقى الجسيم (أ) محافظاً على اتزانه؟ فسر ذلك .

## المجال الكهربائي

### \* السؤال الرابع عشر:



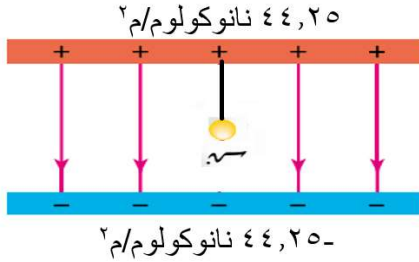
في الشكل المجاور وضعت شحنة نقطية (  $q = -3 \times 10^{-8}$  ) كولوم داخل مجال منتظم تبعد عن النقطة (د) مسافة (  $30$  ) سم . أوجد ما يلي :

الإجابة : (١)  $120$  ميكرونيوتن .

(٢)  $310 \times 10^{-3}$  نيوتن/كولوم

١- القوة المؤثرة على الشحنة (  $q$  )

٢- محصلة المجال عند النقطة ( د )



### \* السؤال الخامس عشر:

عُلقت كرة كتلتها (  $4$  ) غ و شحنتها (  $-2$  ) ميكروكولوم بين الصفيحتين كما في الشكل المجاور أوجد ما يلي :

الإجابة : (١)  $0.3$  نيوتن .

(٢)  $177$  نانو كولوم /  $m^2$  .

١- قوة الشد في الحبل

٢- مقدار كثافة الشحنة السطحية للصفيحتين بحيث ينعدم الشد في الحبل

### \* السؤال السادس عشر:

شحنتان  $q_1 = 12$  ميكروكولوم ،  $q_2 = 27$  ميكروكولوم و البعد بينهما (  $10$  ) سم ، أين يمكن وضع شحنة ثالثة بحيث تكون الشحنتات الثلاث متزنة ؟ ثم أوجد مقدارها و نوعها .

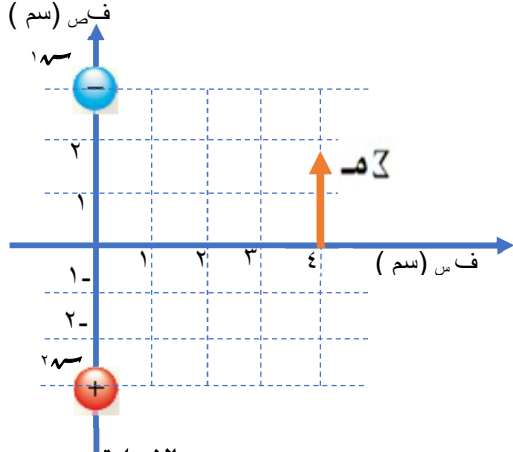
الإجابة : بينهما على بعد  $4$  سم من الشحنة

الصغرى و قيمتها  $4.32$  ميكروكولوم و هي

سالبة .

## المجال الكهربائي

\*\* السابع عشر :



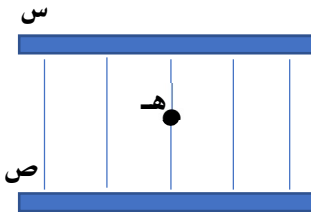
الإجابة :  $q = 250$  نانوكولوم

في الشكل المجاور إذا علمت أن محصلة المجال الكهربائي على بعد (  $4$  ) سم من محور الصادات تساوي (  $10 \times 10^8$  ) نيوتن / كولوم . ص + . أوجد مقدار كل من الشحنتين .

إجابة السؤال الأول

الفرع	١	٢	٣	٤	٥	٦	٧	٨	٩
الإجابة	ج	ج	د	ج	ب	د	د	د	ب
الفرع	١٠	١١	١٢	١٣	١٤				
الإجابة	ب	أ	ج	أ	د				

وزارة ٢٠١٨ / الدورة الشتوية



في الشكل المجاور صفيحتان موصلتان متوازيتان ( س ، ص ) مساحة كل منهما (  $1 \times 10^{-2}$  ) م<sup>٢</sup> . شُحنت إحداهما بشحنة موجبة و الأخرى بشحنة سالبة فنشأ بين الصفيحتين مجال كهربائي منتظم . فإذا وُضع عند النقطة ( هـ ) جسيم شحنته (  $2-$  ) نانوكولوم . و كتلته (  $8 \times 10^{-5}$  ) كغ . فاتزن . أجب عما يأتي :

الإجابة (١) س: موجبة ، ص : سالبة

[ ٩ علامات ]

(٢)  $q = 35.4$  نانوكولوم

١- حدد نوع الشحنة على كل صفيحة .

٢- احسب مقدار الشحنة الكهربائية على كل صفيحة .