

المملكة الأردنية الهاشمية

وزارة التربية والتعليم

مديرية التربية والتعليم /لواء الجيزة

مدرسة الطالبة الثانوية الشاملة للبنات

الامتحان النهائي للثانوية العامة لعام ٢٠١٧-٢٠١٨ م

مدة الامتحان: ساعتين

المَبِحَث: الفيزياء/المستوى الثالث

الفرع: العلمي والصناعي

ملحوظة: اجبني عن الاسئلة جميعها وعددها (٦) ، علما بأن عدد الصفحات (٣) .

ثوابت فيزيائية: $\mu_0 = 4\pi \times 10^{-7}$ وبيبر/أمبير.م ، $\pi = 3.14$ ، $\tau = 1.6 \times 10^{-19}$ ، $h = 6.6 \times 10^{-34}$ جول.ث ، $ev = 1.6 \times 10^{-19}$ جول
او.ك.ذ = 9.3×10^8 مليون الكترون فولت ، $R = 1.1 \times 10^{-7}$ م ، $\epsilon_0 = 8.85 \times 10^{-12}$ نيوتن.م/كولوم ، سرعة الضوء = 3×10^8 م/ث ،
شحنة الالكترون = -1.6×10^{-19} كولوم

السؤال الاول (٢٠ علامة):

أ) يبين الجدول المجاور قيم المقاومة لثلاث مواد (أ، ب، ج) عند درجة حرارة (٢٠ أس)، بالاعتماد على الجدول أجب عما يلي:

المقاومة (Ω .م)	المادة
1.6×10^{-8}	أ
٥	ب
1×10^{-4}	ج

(٤ علامات)

١- أي المواد يفضل استخدامها في التوصيلات الكهربائية؟ ولماذا؟

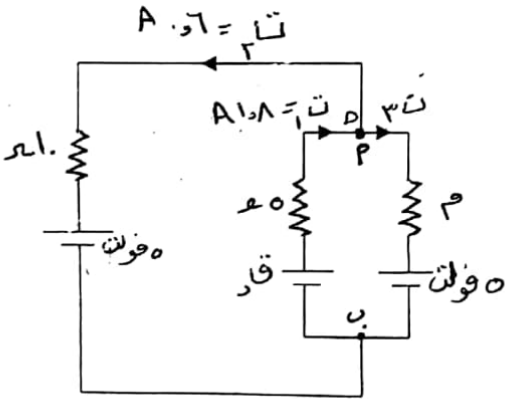
٢- ماذا يعني ان مقاومة المادة ب تساوي 0.5Ω م؟

ب) اعتمادا على البيانات المبينة على الشكل المجاور ، وبإهمال المقاومات الداخلية . احسب (١١ علامة)

١- القوة الدافعة الكهربائية للبطارية (قد).

٢- مقدار المقاومة (م).

٣- الطاقة الكهربائية المستهلكة في المقاومة (10Ω) خلال دقيقة.

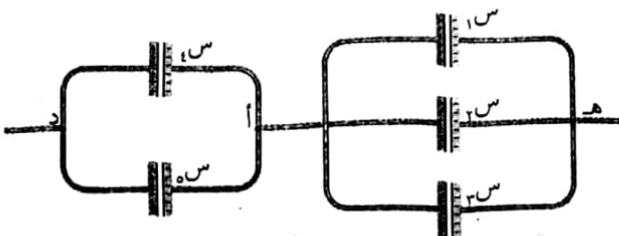


ج) يبين الشكل (المجور) مجموعة من المواسعات بين النقطتين (هـ، د)، إذا علمت أن المواسعات

متساوية في المواسعة، ومواسعة كل منها (٣) ميكروفاراد و(٦ فولت، احسب:

١ الشحنة الكلية لمجموعة المواسعات.

٢ جهد



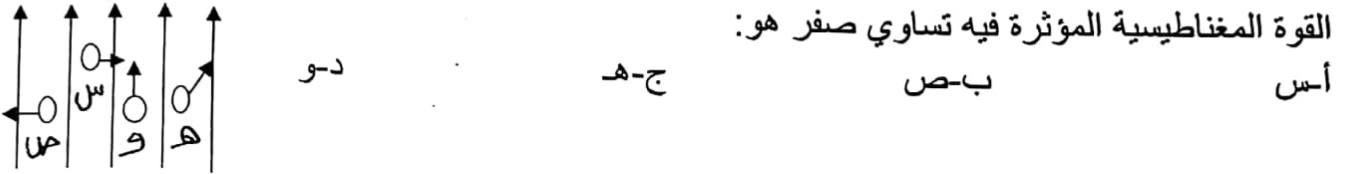
السؤال الثاني (٢٥ علامة): على الدُغيب سؤاا صاع داره في الوزر سوزع على عيج صا مزع ونبض مركه للاخر.

يتكون هذا السؤال من (١٠) فقرات لكل فقرة أربع اجابات، واحدة منها فقط صحيحة. انقل الى دفتر اجابتك رقم الفقرة ورمز الاجابة الصحيحة لها على الترتيب.

(١) ينشأ مجال كهربائي منتظم في الحيز بين صفيحتين موصلتين متوازيتين مشحونتين بشحنتين متساويتين في المقدار ومختلفتين في النوع، فاذا قلت المساحة الى نصف ما كانت عليه وزادت الشحنة الى الضعف فان المجال الكهربائي:

أ- يقل الى النصف ب- يتضاعف مرتين ج- يتضاعف اربع مرات د- يبقى كما هو

(٢) أربع جسيمات مشحونة تتحرك داخل مجال مغناطيسي منتظم (غ) كما في الشكل، الجسم الذي تكون القوة المغناطيسية المؤثرة فيه تساوي صفر هو:



(٣) عند اصطدام فوتون بالكترون حر ساكن في ظاهرة كومبتون فان الفوتون المتشتت يماثل الفوتون الساقط في مقدار:

أ- زخمه الخطي ب- تردده ج- سرعته د- طوله الموجي

(٤) وظيفة الغرافيت في المفاعل النووي هي:

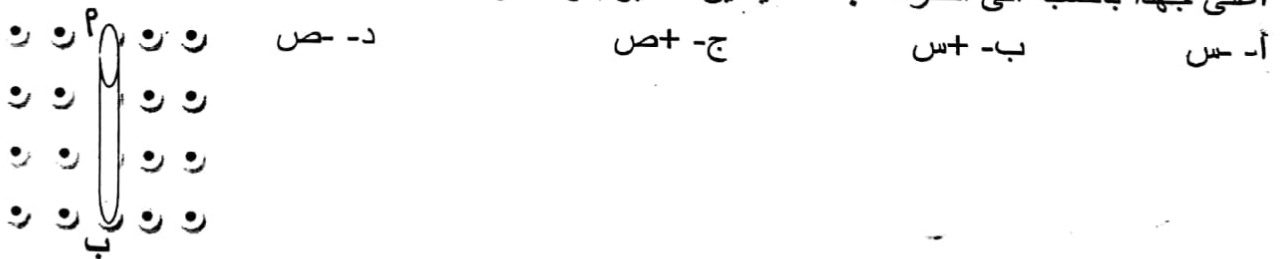
أ- امتصاص بعض النيوترونات ب- إيقاف النيوترونات
ج- زيادة سرعة النيوترونات د- ابطاء سرعة النيوترونات

(٥) لكي يتحول العنصر X الى عنصر Y تلقائيا لابد للعنصر X من ان:

أ- يكتسب نيوترونا ب- يبعث دقيقة بيتا الموجبة و النيوترونو

ج- يبعث أشعة غاما د- يبعث دقيقة بيتا الموجبة و ضد النيوترونو

(٦) موصل مستقيم أب موضوع في مجال مغناطيسي منتظم كما في الشكل اذا أردنا أن يكون الطرف أ اعلى جهدا بالنسبة الى الطرف ب فانه يتعين التأثير بقوة خارجية لتحريك الموصل باتجاه:

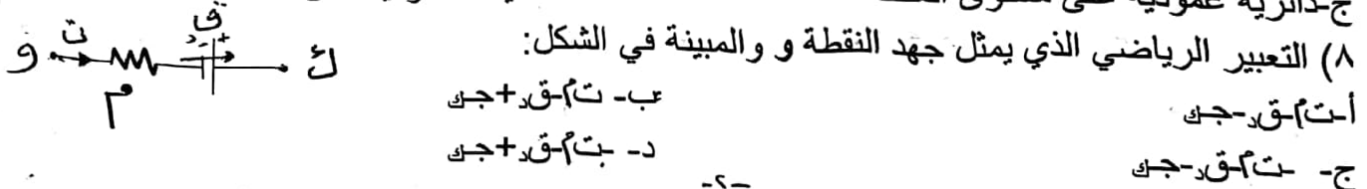


(٧) عندما يمر تيار كهربائي في ملف دائري فإنه يولد مجالا مغناطيسيا، خطوطه عند مركز الملف:

أ- دائرية منطبقة على مستوى الملف ب- مستقيمة موازية لمستوى الملف

ج- دائرية عمودية على مستوى الملف د- مستقيمة عمودية على مستوى الملف

(٨) التعبير الرياضي الذي يمثل جهد النقطة و والمبينة في الشكل:

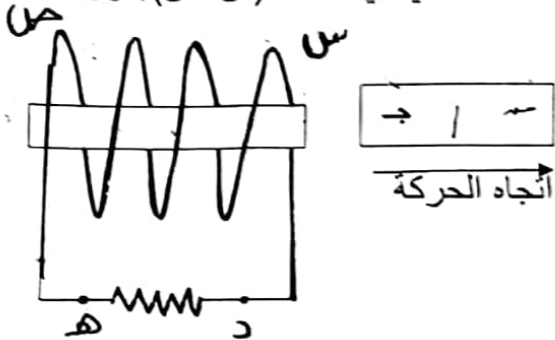


أ- $\frac{kq}{r^2}$ ب- $\frac{kq}{r}$ ج- $\frac{kq}{r^2}$ د- $\frac{kq}{r}$

ج- $\frac{kq}{r^2}$ د- $\frac{kq}{r}$

- ٩) لكي تصبح النوى غير المستقرة أكثر استقراراً فإنها تتحول إلى نوى ذات:
- أ- كتلة أقل و طاقة ربط أعلى
 ب- كتلة أكبر و طاقة ربط أقل
 ج- كتلة أكبر و طاقة ربط أعلى
 د- كتلة أقل و طاقة ربط أقل

١٠) في الشكل عند إبعاد القطب الجنوبي عن الملف يتولد مجال مغناطيسي في الملف (س، ص) يكون اتجاهه داخل الملف:



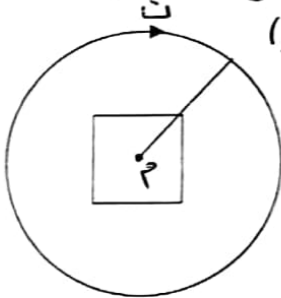
- أ- (س إلى ص) وتيار اتجاهه من (د إلى هـ)
 ب- (ص إلى س) وتيار اتجاهه من (هـ إلى د)
 ج- (س إلى ص) وتيار اتجاهه من (هـ إلى د)
 د- (ص إلى س) وتيار اتجاهه من (د إلى هـ)

السؤال الثالث (١٨ علامة):

أ) أثبت أن الطاقة المخزنة داخل الملف اللولبي يمكن أن تعطى بالعلاقة التالية:

$$W = \frac{1}{2} L I^2$$

ب) بين الشكل مقطعا لملف لولبي مكون من (١٠٠ لفة) طوله (٢٠٠م) ومساحة مقطعه (٣٠سم^٢) ويمر فيه تيار كهربائي (٣ أمبير) باتجاه دوران عقارب الساعة وضع في مركزه ملف مربع الشكل طول ضلعه (١سم) وعدد لفاته واحدة جد:



١- المجال المغناطيسي داخل الملف اللولبي.

٢- التنفق المغناطيسي عبر الملف المربع.

٣- متوسط القوة الدافعة الكهربائية الحثية الذاتية المتولدة في الملف المربع، إذا تلاثى التيار الكهربائي في الملف اللولبي خلال (٣ ثواني).

ج) أولا: ما المقصود بـ "أن معامل الحث الذاتي لملف يساوي ٥ هنري؟

ثانيا: يوجد إلكترون نرة الهيدروجين في مستوى الاثارة الثالث وإذا انتقل الإلكترون إلى مستوى الاستقرار، أجب عما يلي:

(٤ علامات)

* ما اسم المتسلسلة الاشعاعية التي ينتمي إليها هذا الفوتون المنبعث؟

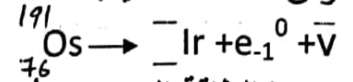
* ما أقصر طول موجة لفوتون ينتمي لهذه المتسلسلة؟

السؤال الرابع (٢٥ علامة)

أولا: تتضمن نواة عنصر ¹⁹¹Os باعثة دقيقة بيتا سالبة طاقتها (١,٤) مليون إلكترون فولت في المرحلة الأولى لاحظ الشكل، ثم أشعة غاما طاقتها (٠,٠٤٢) مليون إلكترون فولت في المرحلة الثانية ثم أشعة غاما طاقتها (٠,١٢٩) مليون إلكترون فولت في المرحلة الثالثة لكي تصل إلى حالة الاستقرار تأمل الشكل ثم أجب عما يلي:

(٦ علامات)

أجدي العدد الذري والكتلي للنواة الناتجة المستقرة وفق المعادلة الآتية:



ب- ما الطاقة التي يجب أن تبعثها نواة Os في مرحلة واحدة حتى تستقر؟

ج- فسر كل من :

تتبعث دقائق بيتا سالبة من النواة بالرغم من أنها ليست من مكونات النواة.
تعد نواة الثوريوم ${}^{234}_{90}\text{Th}$ من النوى غير المستقرة.

ثانيا: احسب طاقة الربط النووي لكل نيوكليون بوحدة الكترون فولت لنواة البريليوم ${}^9_4\text{Be}$ علما بان كتلة نواة البريليوم (9,0150) و.ك.ذ ، ك.ب = 1.008 و.ك.ذ ، ك.ج = 1.009 و.ك.ذ
(6 علامات)

ثالثا: سقط فوتون تردده (1×10^8) هيرتز على فلز دالة الشغل له (3×10^{-19}) جول. احسب
١- تردد العتبة.

٢- الطاقة الحركية العظمى للالكترونات المنبعثة بوحدة الجول.

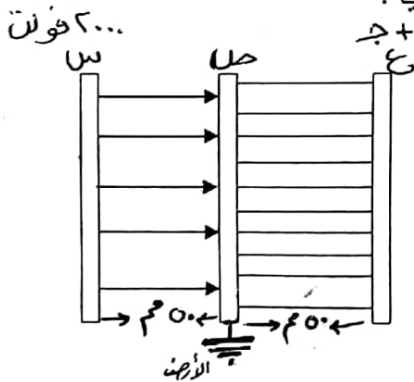
٣- الزخم الخطي للفوتون الساقط.

السؤال الخامس (٢٢ علامة):

أولا: معتمدا على البيانات المثبتة على الشكل، والذي يبين ثلاث صفائح موصلة مختلفة في الجهد، أجب عن الاسئلة الآتية:

(١١ علامة)

أ- كيف يتناسب عدد خطوط المجال الكهربائي مع كثافة الشحنة السطحية؟
ب- احسب:



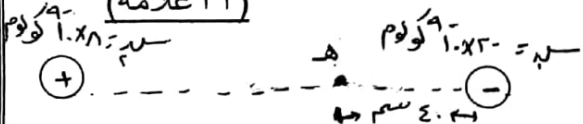
١- مقدار المجال الكهربائي بين الصفيحتين (س) و(ص)

٢- المجال الكهربائي بين الصفيحتين (ص) و(ع) مقدارا واتجاها

٣- جهد الصفيحة (ع)

ثانيا: يبين الشكل المجاور شحنتان نقطيتان، المسافة بينهما (١٠٠) سم مستعينا بالشكل والبيانات المبينة عليه احسب:

(١١ علامة)



١- الشغل اللازم لنقل شحنة مقدارها (5×10^{-6}) كولوم من المالا نهاية الى النقطة هـ.

٢- بعد النقطة التي ينعدم فيها المجال عن الشحنة الموجبة

عزيزي الطالب:

هذا الامتحان بحري ومصحح للتدريب
لكم جميع احسانات في السؤال الاول فرع (ع)
-٤-

شكر خاص جدا لمعلمة المادة التي لا اعلم من هي على هذا الامتحان الرائع والشامل ولم يمنعي من كتابة امتحان مقترح مسالة ضيق الوقت وإنما روعة الامتحان والتعب والجهد الموضوع فيه يفوق الخيال أتمنى من كل طلابي الدعوة لمعلمة المادة بالخير.

