



* الوحدة الثالثة ...
* الفصل الثاني ...

«الفيزياء النووية»

إعداد الأستاذ:
عمار السعود
ماجستير فيزياء

0787255846

* بنية النواة وبعض خصائصها *



* مكونات النواة:

- ١- بروتونات موجبة الشحنة.
- ٢- نيوترونات متعادلة الشحنة.

* ملاحظة مهمة:

نواة الهيدروجين تتكون من بروتون واحد فقط.

* النيوكليونات: هي البروتونات و النيوترونات معا في النواة



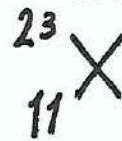
* حيث:-

* A : العدد الكتلي :: وهو مجموع عدد البروتونات و النيوترونات.

$$N + Z = A$$

* Z : العدد الذري :: وهو عدد البروتونات في النواة ، ويسوي عدد الإلكترونات.

* مثال توضيحي *



$$A = 23$$

$$Z = 11$$

* عدد النيوترونات

$$= 23 - 11 = 12$$

- عدد الإلكترونات = 11

- النظائر:

ذرات العنصر نفسه تتساوى أنويتها في العدد الذري وتختلف في العدد الكلي.

- أمثلة:

1. الهيدروجين ^1_1H ← يتكون من بروتون واحد فقط.
2. الديتيريوم ^2_1H ← يتكون من (1) بروتون و (1) نيوترون.
3. تريتيوم ^3_1H ← يتكون من (1) بروتون و (2) نيوترون.

* النظير ^1_1H هو أكثر النظائر موجودة في الطبيعة.

* نظائر الكربون:



- نظراً لصغر كتلة الجسيمات الذرية فإنها تقاس بوحدة تسمى "وحدة الكتلة الذرية" ويرمز لها بالرمز (و.ك.ذ.).

- وحدة الكتلة الذرية (و.ك.ذ.) :: تكافؤ (1/12) من كتلة نظير الكربون



$$(1) \text{ و.ك.ذ.} = 1.67 \times 10^{-27} \text{ كغ.}$$

* كتلة الأجسام الذرية:

1. البروتون (ك.م) = 1.672×10^{-27} كغ ← 1.0073 و.ك.ذ.
2. النيوترون (ك.م) = 1.674×10^{-27} كغ ← 1.0087 و.ك.ذ.
3. الإلكترون (ك.م) = 9.11×10^{-31} كغ ← 0.000548 و.ك.ذ.

الأستاذ:
عمار السعود
ماجستير فيزياء
0787255846

* بعض خصائص النواة :-

□ نصف قطر النواة:

$$R = r_0 A^{1/3}$$

حيث:

r_0 : العدد الكلي.

$$R = r_0 A^{1/3}$$

* مثال:

احسب نصف قطر نواة الليثيوم ${}^6_3\text{Li}$.

$$R = r_0 A^{1/3}$$

$$R = 1.2 \times 10^{-15} \times 6^{1/3}$$

$$R = 1.2 \times 10^{-15} \times 1.817 = 2.18 \times 10^{-15} \text{ م}$$

* مثال *

إذا علمت أن نصف قطر نواة الليثيوم ${}^6_3\text{Li}$ يساوي 2.18×10^{-15} م احسب العدد الكلي له.

$$R = r_0 A^{1/3}$$

$$2.18 \times 10^{-15} = 1.2 \times 10^{-15} \times A^{1/3}$$

$$A^{1/3} = 1.817 \rightarrow \text{بتكبير الطرفين}$$

$$\boxed{A = 6}$$

* لا يمكن للنجوم
أن تلمع دون
الظلام.....

* الكتلة التقريبية للنواة :-

لما أن N بروتون

$$N + P = A$$

$$* \rho \approx A * \rho$$

* حجم النواة :-

$$C = \frac{4}{3} \pi R^3 = \frac{4}{3} \pi (r A^{1/3})^3$$

$$* C = \frac{4}{3} \pi r^3 A$$

* كثافة النواة :-

$$\frac{\rho}{\frac{4}{3} \pi r^3 A} = \frac{\text{الكتلة}}{\text{الحجم}}$$

$$\frac{\rho}{\frac{4}{3} \pi r^3} = \text{الكثافة}$$

لاحظ أن جميع الكميات ثابتة ويترتب على ذلك أن كثافة جميع الأنوية ثابتة.



* physics *

* مثال: احسب الكتلة التقريبية والحجم والكثافة لنواة ${}^4_2\text{He}$.

$$(1) \text{ كتلة } \text{He} = \rho \times V = 4 \times 1.6 \times 10^{-27} = 6.4 \times 10^{-27} \text{ ك.ج.}$$

$$(2) \rho = \frac{m}{V} \Rightarrow V = \frac{m}{\rho}$$

$$= \frac{6.4 \times 10^{-27}}{1.6 \times 10^{17}} = 4 \times 10^{-44} \text{ م}^3$$

$$= 4 \times 10^{-44} \text{ م}^3$$

الأستاذ:
عمار السعود
ماجستير فيزياء
0787255846
عمان - مادبا

$$(3) \text{ الكثافة} = \frac{m}{V} = \frac{6.4 \times 10^{-27}}{4 \times 10^{-44}}$$

$$= \frac{6.4 \times 10^{-27}}{4 \times 10^{-44}} = 1.6 \times 10^{17} \text{ ك.ج. م}^{-3}$$

$$= 1.6 \times 10^{17} \text{ ك.ج. م}^{-3}$$

* كثافة الهيليوم تساوي كثافة الأكسجين والحديد وبشكل عام كثافة جميع الأنوية ثابتة.

* مثال :-

(س، ح) نواتان ، إذا علمت أن العدد الكتلي للنواة (س) يساوي نصف العدد الكتلي للنواة (ح) فأوجد النسبة في كل مما يأتي :-

٢- كثافة النواة (س) إلى كثافة النواة (ح).

ب- الكتلة التقريبية للنواة (س) إلى الكتلة التقريبية للنواة (ح)

ج- قطر النواة (س) إلى قطر النواة (ح).

د- حجم النواة (س) إلى حجم النواة (ح).

* الحل :-

٢- $\rho = \frac{M}{V} = 1$ لأن كثافة جميع الأنوية ثابتة.

ب- $\frac{M_{(س)}}{M_{(ح)}} = \frac{\rho_{(س)} V_{(س)}}{\rho_{(ح)} V_{(ح)}} = \frac{\rho_{(س)}}{\rho_{(ح)}} \left(\frac{r_{(س)}}{r_{(ح)}}\right)^3 = \frac{\rho_{(س)}}{\rho_{(ح)}} \left(\frac{1}{2}\right)^3 = \frac{\rho_{(س)}}{8\rho_{(ح)}}$

ج- القطر = 2r

$\frac{D_{(س)}}{D_{(ح)}} = \frac{2r_{(س)}}{2r_{(ح)}} = \frac{r_{(س)}}{r_{(ح)}} = \frac{1}{2}$

د- $\frac{V_{(س)}}{V_{(ح)}} = \frac{\frac{4}{3}\pi r_{(س)}^3}{\frac{4}{3}\pi r_{(ح)}^3} = \left(\frac{r_{(س)}}{r_{(ح)}}\right)^3 = \left(\frac{1}{2}\right)^3 = \frac{1}{8}$

الأستاذ :-
عمار السعود
ماجستير فيزياء
0787255846
عمان - مادبا

* مراجعة (1-8) ح 24 (هـ)

هـ (هـ)

- عدد البروتونات هو نفسه العدد الذري = (19)
 - عدد النيوترونات = العدد الكلي - العدد الذري
 $39 - 19 =$
 $= 20$ نيوترون .

س (هـ)

(ب، ج) لأنها تحتوي على نفس العدد الذري وتختلف في العدد الكلي (النيوترونات) .

س (هـ)

أ) كثافة النواة (س) = كثافة النواة (ج) لأن مكونات النواة هي نفسها لجميع العناصر

ب) أنقاس : أنقاص

$$\frac{\sqrt[3]{\omega A^3}}{\sqrt[3]{\omega A^3}} ; \frac{\sqrt[3]{\omega A^3}}{\sqrt[3]{\omega A^3}}$$

$$\sqrt[3]{\omega} = \frac{\sqrt[3]{\omega A^3} \times \sqrt[3]{\omega}}{\sqrt[3]{\omega A^3}} = \frac{\sqrt[3]{\omega A^3 \omega}}{\sqrt[3]{\omega A^3}} = \frac{\sqrt[3]{\omega^4 A^3}}{\sqrt[3]{\omega A^3}}$$

$$\Delta (-) \quad \frac{\epsilon}{3} \times \text{نق}^3 = \text{نق} = \text{نق} \cdot \text{نق} \cdot \text{نق}$$

$$\sqrt[3]{\omega} = \frac{\omega A^3}{\omega A} = \frac{\frac{\epsilon}{3} \pi (\text{نق} \cdot \text{نق} \cdot \text{نق})}{\frac{\epsilon}{3} \pi (A^3)}$$

** الأستاذ (هـ) *

* عمار السعود *

* ماجستير فيزياء *

* استقرار النواة *

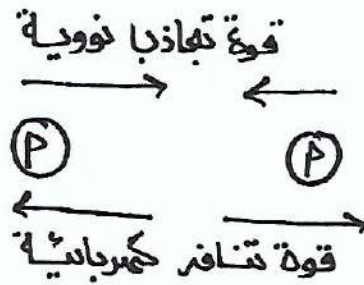


* القوة النووية :-

- هي قوة تجاذب ذات مدى قصير جداً تربط النيوكليونات المتجاورة في النواة.

* أين تنشأ القوة النووية !!؟


١- بين بروتونين :-



* يوجد بين البروتونين :-


- ١- قوة تجاذب نووية
- ٢- قوة تنافر كهربائية

٢- بين بروتون و نيترون



يوجد بينهما قوة تجاذب نووية فقط

٣- بين نيترون و نيترون



تنشأ بينهما قوة تجاذب نووية فقط

* سؤال !!؟

- من هو المسؤول عن استقرار النواة !!؟

* الجواب :- النيترون

* سؤال :- ماهي وظيفة النيترون في لنواة !!؟

* يعمل على استقرار لنواة *

الأستاذ:
عمار السعود
ماجستير فيزياء
0787255846
عمان - مادبا

* خصائص القوة النووية :-

(أ) كبر مقدارها وقصر مداها في حال كان النيوكليونات متجاورين
(ب) تكون أكبر ما يمكن إذا كان النيوكليونات متجاورين والبعد بينهما
(٤١ و 1.0×10^{-10}) تقريباً.

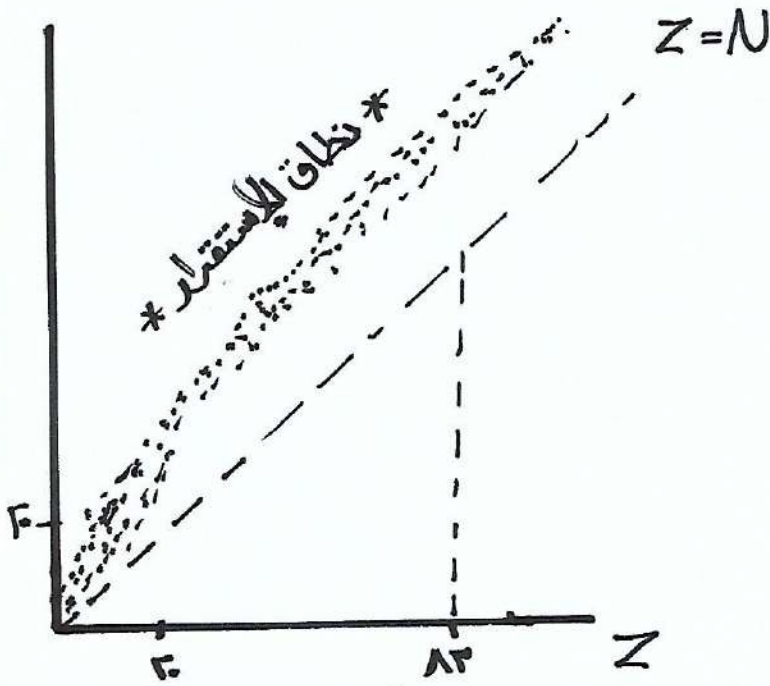
(ج) تصبح قوة التنافر الكهربائية بين بروتونين في نواة أكبر من القوة النووية إذا زاد البعد بينهما إلى أربعة أضعاف هذا المقدار.

علل/ يشكّل عدد النيوترونات في النواة عملاً مهم في استقرارها ؟
ج- لأن النيوترونات متعادلة كهربائياً فتأثر بالقوة النووية فقط.

علل/ استقرار النواة رغم احتوائها على بروتونات متماثلة في الشحنة ؟
* لأن قوة الجذب النووي أكبر من قوة التنافر الكهربائي.

علل/ يوجد أنوية غير مستقرة رغم احتوائها على نيوترونات
* لأن قوة التنافر الكهربائية أكبر من قوة الجذب النووية.

الأستاذ
عمار السعوي
ماجستير فيزياء
078 7255846
عمان - مادبا



* نطاق الأستقرار :-
هي الأنوية المستقرة التي يكون عدد
بروتوناتها أقل من (13).

* تقسم الأنوية حسب استقرارها إلى
ثلاث أنواع :-

* منحنى الإستقرار *

- 1- أنوية خفيفة مستقرة :-
هي الأنوية التي يكون فيها ($Z \geq 2$)
ويكون فيها عدد النيوترونات مساوياً لعدد بروتوناتها مثل نواة الليثوجين ${}^7_3\text{Li}$
قنقع على خط $Z = N$ ، أو يزيد عدد البروتونات عن عدد النيوترونات
مثل نواة الصوديوم ${}^{23}_{11}\text{Na}$ ،
 $13 = N$ ، $11 = Z$

2) الأنوية المتوسطة المستقرة :- هي التي تكون ضمن المدى
($13 > Z > 2$)

* يوجد فيها عدد كبير من البروتونات لكن عدد النيوترونات يفوق عدد
البروتونات فتسود قوة التجاذب النووية على قوة التجاذب
الكهربائية *.

الأستاذ :-
عمار السعور
ماجستير فيزياء
0787255846
عمان - مادبا

* مثال :-

$$\begin{aligned} 40 = Z & \quad \leftarrow \quad \begin{matrix} 90 \\ Zr \\ 40 \end{matrix} \\ 50 = N \\ Z < N \end{aligned}$$

$$\begin{aligned} 79 = Z & \quad \leftarrow \quad \begin{matrix} 197 \\ Au \\ 79 \end{matrix} \\ 118 = N \\ Z < N \end{aligned}$$

٣. أنوية الثقيلة الغير مستقرة :- هي التي تكون عددها الذري أكبر من 83 . $83 < Z$

* تكون غير مستقرة للأسباب التالية :-

- ١- كبر حجم النواة
- ٢- تباعد النيوكليونات عند بعضها
- ٣- تكون قوة التنافر الكهربائية أكبر من قوة التجاذب النووية .
- ٤- لا تستطيع قوة التجاذب النووية التغلب على قوة التنافر الكهربائية .

وإذا تحتم عليك
السقوط
كن فيزيكياً
♥♥♥

الأستاذ :-
عمار السعود
ماجستير فيزياء
0787255846
عمان - مادبا

* علل/ تعد النواة ${}_{90}^{234}\text{Th}$ غير مستقرة
لأن عدد $Z < 83$ فتكون قوة التنافر الكهربائية أكبر من
قوة التجاذب النووية.

* علل/ النواة ${}^4_2\text{He}$ مستقرة *

- لأنها من الأنوية الخفيفة المستقرة. ($N = Z$)

* علل/ النواة ${}^{80}_{30}\text{X}$ مستقرة. *

* لأنها ضمن نطاق الأنوية المتوسطة المستقرة.
($13 > Z > 2$)

* عدد النيوترونات أكبر من عدد البروتونات
فتسود قوة التجاذب النووي على قوة
التنافر الكهربائي.

$$0 = N \quad 3 = Z$$

علل/ يلاحظ إنحراف نطاق الإستقرار نحو الأعلى مع زيادة العدد
الذري في منحنى الإستقرار !!؟

* بسبب زيادة عدد النيوترونات لكي تغلب قوة التجاذب النووي على
قوة التنافر الكهربائي.

الأستاذ
عمار لسهود
مهندس فيزياء
0787255846
عمان - حادجا

* مراجعة (١-٢) ص ٢٤٣ (٥)

س (٥) قوى تجاذب ذات مدى قصير، تربط بين النيوكليونات المتجاورة ولذا تتأثر بشحنة النيوكليونات وكبيرة المقطار عندما تكون بين نيوكليونين متجاورين .

س (٥) أ) لأن عددها الذري أكبر من ٨٣ وهذه تصنف بالنوى الغير مستقرة نظراً لكبر حجم النواة وتباعد النيوكليونات عن بعضها .

ب) لأن النوى المتوسطة والمستقرة تقع عددها الذري ضمنه المدى $2 < Z < 83$ فإن عدد نيوتروناتها يعوّض عدد البروتونات فيها ولذلك تبقى قوى الجذب النووية سائدة على قوى التنافر الكهربائية في هذه النوى مما يجعل ميل نواتها للإستقرار أكبر من أن فيتحرف نحو الأعلى .



حقيقة الربط النووي

* طاقة الربط النووية: هي مقدار الطاقة التي يجب تزويد النواة بها لفصل مكوناتها عن بعضها نهائياً

* معادلة اينشتين التي تعادل الكتلة بالطاقة:

$$* \Delta = \Delta k \times s^2 * \quad \langle E = mc^2 \rangle$$

- حيث :-

Δk :- فرق الكتلة بوحدة الكيلوغرام .

s :- سرعة الضوء $(3 \times 10^8 \text{ م/ث})$.

Δ :- الطاقة بوحدة الجول .

* الطاقة المكافئة لكتلة (1.0 و.ك.غ) تساوي (93100 Mev)

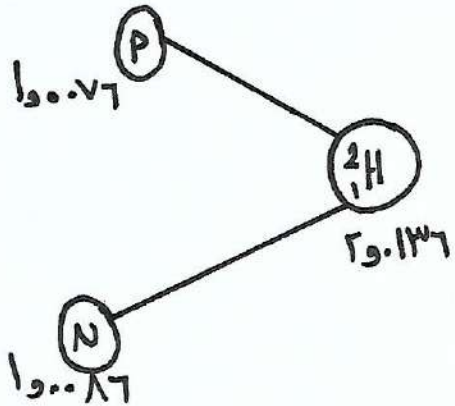
* يمكن حساب الطاقة بوحدة المليون إلكترون فولت المكافئة لكتلة (Δk) بوحدة (و.ك.غ) بالعلاقة:

$$\Delta = \Delta k \times 93100 \text{ Mev} \quad \text{« مليون إلكترون فولت »}$$

الأستاذ :-
عمار السعور
ماجستير فيزياء
0787255846
عمان - مادبا

* لحساب فرق الكتلة (ΔK) نقوم بالمثال التوضيحي التالي :

* نواة الديتيريوم (نظير الهيدروجين) ${}^2_1\text{H}$ يتكون من بروتون p ونيوترون ويمكن حساب كتلة الديتيريوم من العلاقة :-



$$\Delta K = K_{\text{مكونات}} + Z K_Z + N K_N$$

$$= 1.0076 \times 1 + 1.0087 \times 1 =$$

$$= 2.0163$$

* ولكن التجارب العملية تبين أن كتلة الديتيريوم تساوي 2.0136 و.ك.ذ.

* لاحظ أن كتلة المكونات أكبر من كتلة النواة الأصلية.

$$\Delta K = K_{\text{مكونات}} - K_{\text{نواة}}$$

$$= (Z K_Z + N K_N) - K_{\text{نواة}}$$

$$= 0.0024 \text{ و.ك.ذ.}$$

* فرق الكتلة ليتحول إلى طاقة ربط وفق العلاقة :-

$$E = \Delta K \times 931.5 \text{ Mev}$$

الأستاذ :-
عمار السعود
ماجستير فيزياء
0787255846
عمان - ماديا

* عمل/ كتلة مكونات النواة أكبر من كتلة النواة الأصلية!؟

* لأن جزء من كتلة النواة تتحول إلى طاقة ربط

$$\frac{ط}{ربط} = \Delta K \times 431,0 \text{ Mev}$$

$$= [K \text{ نواة} - (N K_N + Z K_Z)] \times 431,0 \text{ Mev}$$

* يمكن حساب طاقة الربط لكل نيوكلين حسب العلاقة:-

$$\frac{ط}{ربط لكل نيوكلين} = \frac{ط}{ربط}$$



* مثال * احسب طاقة الربط لنواة البوتاسيوم (الكل نيوكلين)

$$\frac{ط}{ربط} = \Delta K \times 431,0 \text{ Mev}$$

$$= [K \text{ نواة} - (N K_N + Z K_Z)] \times 431,0 \text{ Mev}$$

$$Z - A = N \quad \leftarrow \quad 39 = A$$

$$19 - 39 = \quad \quad \quad 19 = Z$$

$$20 =$$

$$ط = 431,0 \times [20 \times 1,008 + 19 \times 1,007] - 39 \times 431,0 = 320,1 \text{ Mev}$$

$$\frac{ط}{ربط لكل نيوكلين} = \frac{ط}{ربط} = \frac{320,1}{39} = 8,2 \text{ Mev}$$

مثال

إذا علمت أن طاقة الربط لنواة اليورانيوم ${}_{92}^{235}\text{U}$ تساوي 1743058 Mev احسب كتلة نواة اليورانيوم.

الحل

$$\text{ط.ربط} = \Delta K \times 93160 \text{ Mev}$$

$$\frac{\text{Mev } 1743058}{\text{Mev } 93160} = \Delta K \times \frac{\text{Mev } 93160}{\text{Mev } 93160}$$

$$\Delta K = 18.7 \text{ و.ك.ذ.}$$

$$\Delta K = (Z K_p - N K_n) - K_{\text{نواة}}$$

$$K_{\text{نواة}} = Z K_p - N K_n - \Delta K$$

$$= (92 \times 1.007276 + 143 \times 1.008665) - 18.7$$

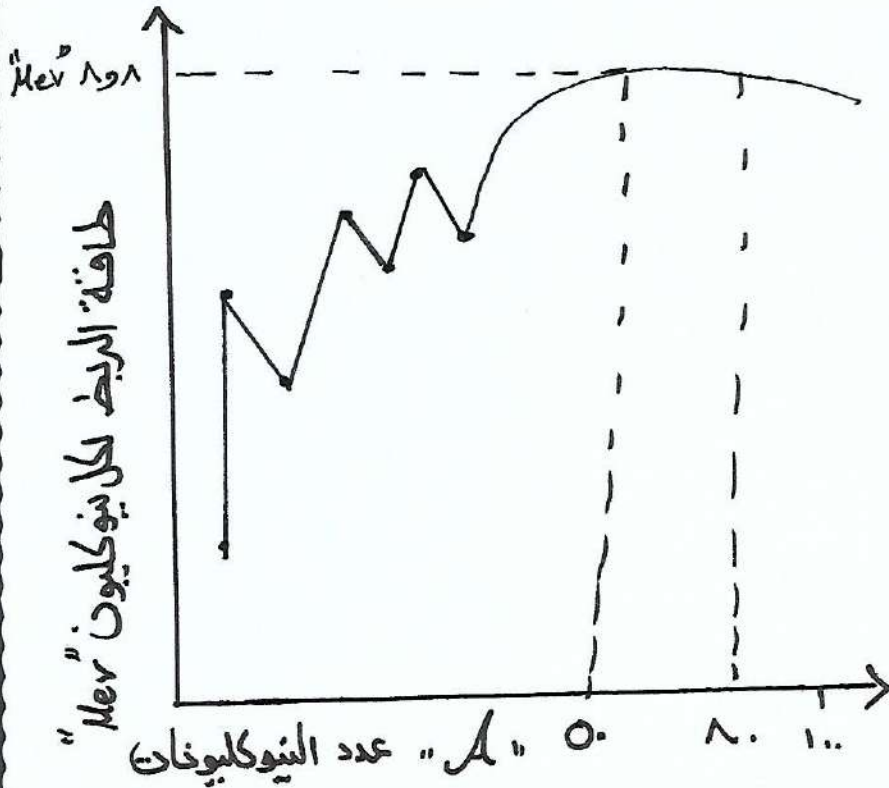
$$\begin{array}{l} 92 = Z \\ 235 = A \\ 143 = N \end{array}$$

$$K_{\text{نواة}} = 144144 + 147926 - 18.7$$

$$K_{\text{نواة}} = 292070.3 \text{ و.ك.ذ.}$$

الأستاذ :-
عمار السعود
ماجستير فيزياء
0787255846
عمان - مادبا

* العلاقة بين طاقة الربط لكل نيوكلون و عدد النيوكليونات.



* تقسم الأنوية حسب استقرارها إلى ثلاث أقسام وهي:

(أ) النوى المتوسطة ($0 < A < 10$) لها أعلى طاقة ربط لكل نيوكلون ما يجعلها أكثر استقرار من غيرها إذ يظهر من المنحنى أن القيمة العظمى لطاقة الربط لكل نيوكلون (8.8 MeV) تكون ذوات الحديد $^{56}_{26}\text{Fe}$ إحدى النوى المستقرة.

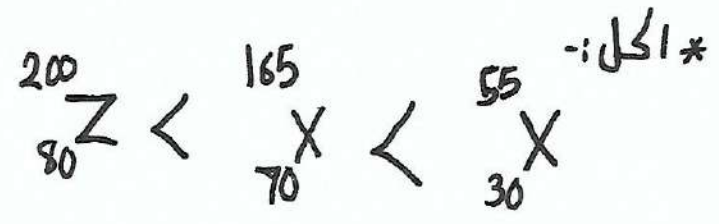

(ب) النوى الخفيفة ($A > 0$) فإن طاقة الربط النووية لكل نيوكلون فيها تكون أقل بالنسبة إلى النوى المتوسطة. لذلك يمكنها الاندماج لتكون نوى كتلتها أقرب إلى ذوات الحديد وأكثر استقراراً ويصاحب ذلك انبعاث طاقة.

الأستاذ
عمار السعيد
ماجستير فيزياء
07987255846
عمان - مادبا

٣- النوى الثقيلة ($A > 10$) فإن طاقة الربط النووية لكل نيوكلون فيها تكون (أقل بالنسبة إلى النوى المتوسطة) لذلك يمكنها الإشتطار لتكوين نواتين، كتلة كل منهما أقرب إلى كتلة ذرة الحديد، مع تحرر قدر من الطاقة.

* سؤال :- رتب النوى التالية أيها أكثر استقراراً وفقاً لطاقة الربط لكل نيوكلون.

الأستاذ :-
عمار السعوي
ماجستير فيزياء
0787255846
عمان - حادبا



* سؤال :- اعتماداً على الجدول التالي و طاقة الربط لكل نواة أي الأنوية أكثر إستقراراً. فسر إجابتك

$\begin{matrix} 9 \\ 3 \end{matrix} Z$	$\begin{matrix} 54 \\ 31 \end{matrix}$	$\begin{matrix} 4 \\ 2 \end{matrix} X$	النواة
45	30	28	طاقة الربط

* لكسب طاقة الربط لكل نيوكلون ($\frac{E_{\text{ربط}}}{A} = \frac{E}{A}$)

$$6 = \frac{30}{5} = \frac{3}{0.5} \quad 7 = \frac{28}{4} = X$$

النواة الأكثر استقراراً (X) لأنها $\frac{E}{A}$ أقرب إلى 8 و 10 MeV/نيوكلون $0 = \frac{45}{9} = Z$

* سؤال :-

نواتان (س، ح) خفيفتان لوهما نفس العدد الكتلي إذا علمت أن النواة (ح) تمتلك طاقة ربط أكبر من النواة (س) فأبي النواتين أكثر استقراراً .

* الحل :- للمقارنة يجب حساب طاقة الربط لكل نيوكليون

$$\frac{H_s}{A} , \frac{H_H}{A}$$

$$A \text{ ثابت} , H_H < H_s .$$

$$\Leftarrow \frac{H_H}{A} < \frac{H_s}{A} \Leftarrow$$

س :- النواة ح أكثر استقراراً من النواة س # .

الأستاذ :-
عمار السعود
ماجستير فيزياء
0787255846
عمان - مادبا

*مراجعة (٨-٣) ص ٢٤٨ (٥)

بالمليون إلكترون فولت

(١٥) بوحدة الجول :-

$$\frac{1.9 \times 10^{13}}{1.6 \times 10^{19}} = \frac{1}{10^6}$$

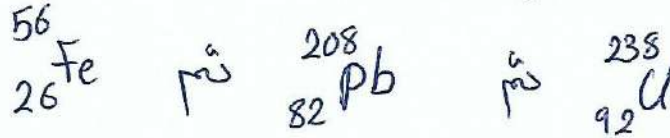
$$\frac{1}{10^6} = 1 \times 10^{-6} \text{ جول}$$

$$\text{MeV } 1.9 \times 10^6 =$$

$$1.9 \times 10^6 \text{ جول}$$

(٢٥) -

الترتيب التصاعدي هو:



(٣٥) - لأنها تفقد جزءاً من طاقتها على شكل طاقة ربط.

(٤٥) - تحدد طاقة الربط لكل نيوكلون أي الأنوية استقراراً وتعتمد طاقة الربط لكل نيوكلون على طاقة الربط والعدد الكلي وبما أن العدد الكلي للنواتين متساوي فإن طاقة الربط ستحدد مقدار طاقة الربط لكل نيوكلون وبما أن طاقة الربط للنواة س أكبر منها للنواة ص فإن طاقة الربط لكل نيوكلون للنواة (س) أكبر من طاقة الربط لكل نيوكلون للنواة (ص).

الأستاذ
عمار السعود
ماجستير فيزياء
0787255846

الاستاذ: عمار السعور
ماجستير فيزياء
0787255846
عمان - مادبا

ورقة عمل (1) الفيزياء النووية

س1 :- 1- وضح اكتشاف كل من البروتون والنيوترون

- 2- عرف كل من :- 1- النظائر
- 3- وحدة كتل ذرية
- 4- النيوكليون
- 5- طاقة الربط النووية
- 6- الديتيريوم

س2 :- 1- اكتب معادله اينشتين التي تكافئ الكتلة بالطاقة ؟!

2- اثبت ان كثافة كل الانوية ثابتة

3- اذكر خصائص القوة النووية

4- اين تنشأ القوة النووية

5- من هو المسؤول عن استقرار النواة

س3 :- 1- علا كل محايلي :-

1- استقرار النواة رغم (حواذها على بروتونات متماثلة السحنة

2- كتلة النواة تكون دائماً اقل من مجموع كتل مكوناتها

الدكتور: عمار السور
 ما حبيتر فيزياء
 0787255846
 عمان - مادبا

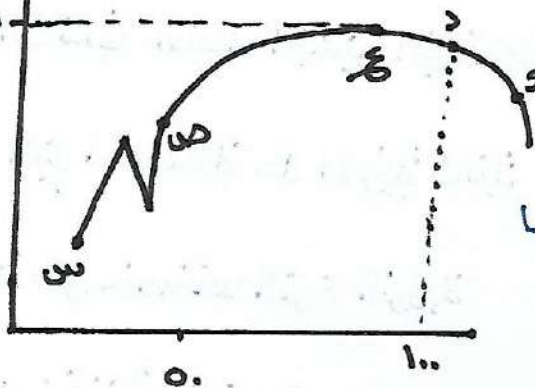
د) نواة ليشيوم ${}^8_3\text{Li}$ اجب عما يلي :-

- ١- عدد البروتونات
- ٢- عدد النيوترونات
- ٣- الكتلة التقريبية
- ٤- نصف قطر النواة
- ٥- طاقة الربط لكل نيوكليون علماً بأن :-
 ${}^1_1\text{H} = 1.0078$ و ${}^1_0\text{n} = 1.0087$

هـ) اعتماداً على الشكل المجاور اجب عما يلي :-

طاقة الربط لكل
 نيوكليون

Mev ${}^A_Z\text{X}$



١- اي العناصر اكثر استقراراً ولماذا

٢- قارن بين العنصرين (س و ع) ايها اكثر استقراراً

٣- قارن بين العناصر (ص و و) ايها اكثر استقراراً

٤- اي العناصر قابلة للانقسام

٥- اي العناصر قابلة للاندماج

٦- تفكيك العناصر المتوسطة يتطلب طاقة كبيرة فسر ذلك ؟!

٧- احسب طاقة الربط لنواة X

٨- احسب فرق الكتلة لنواة X

و) اعتماداً على الجدول المجاور الذي يمثل طاقة الربط النووية لثلاث انوية اجب عما يلي :-

النواة	${}^4_2\text{X}$	${}^6_3\text{Y}$	${}^4_2\text{Z}$
طاقة الربط	٢٨	٣٣	٥٨٥٥

١- اي الانوية اكثر استقراراً ولماذا ؟

٢- احسب كتلة النواة ${}^4_2\text{X}$

وزارة التعليم
احسب طاقة الربط بوحدة الالكترون فولت التي يجب تزويدها بنواة عنصر
السيريليوم (${}_{4}^{90}\text{B}\text{o}$) لفصل مكوناتها علماً بأن :-

$$\text{كتلة } B\text{o} : 90.100 \text{ و.ك.ذ.} , \text{ ك } p = 1.007 \text{ و.ك.ذ.}$$
$$\text{ك } n = 1.008 \text{ و.ك.ذ.}$$

وزارة التعليم
إذا علمت ان فرق الكتلة بين كتلة نيوكليونات نواة (${}_{5}^{11}\text{B}$) وكتلة هذه
النواة لتساوي (0.0810) و.ك.ذ. اجب عما يلي

- 1- احسب طاقة الربط لكل نيوكليون لهذه النواة
- 2- احسب كتلة نواة (${}_{5}^{11}\text{B}$) علماً بأن
 $n = 1.008 \text{ و.ك.ذ.} , \text{ ك } p = 1.007 \text{ و.ك.ذ.}$

3- أيهما اكبر كتلة النواة ${}_{21}\text{Mg}$ مجموع كتل نيوكليوناتها ولماذا ؟

الاستاذ: عمار السعور

ما حسيتر فيزياء

0787255846

عمان - مادبا

* النشاط الإشعاعي *

* النواة المشعة :-

هي نواة غير مستقرة تحاول الوصول إلى حالة الإستقرار فتتحول هذه النواة في الطبيعة إلى نواة أخرى عن طريق التخلص من جزء من طاقتها على شكل انبعاث اشعاع أو جسيمات فتتغير مكونات النواة.

* النشاط الإشعاعي *

هي عملية الانبعاث التلقائي للإشعاع النووي غير المستقرة.

* هناك ثلاث أنواع من الأشعة المنبعثة :-

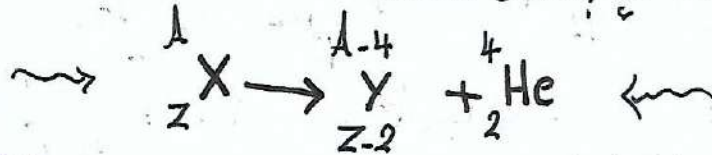
١- أشعة ألفا ب- أشعة بيتا ج- أشعة غاما.

٢- أشعة ألفا (α) :-

- ① هي دقائق (جسيمات) موجبة الشحنة.
- ② تتكون من ٢ بروتون و ٢ نيوترون مما يمثل ذرة الهيليوم (${}^4_2\text{He}$).
- ③ تمتاز بقدرتها العالية على التأين بسبب كبر كتلتها و كبر شحنتها.

④ قدرتها على النفاذية قليلة إذ لا تخترق ورقة من الورق

⑤ تمثل هذه المعادلة «إضمحلال ألفا» :-



X ← النواة المشعة

Y ← النواة الناتجة

* الأستاذ :-
عمار السعود
ماجستير فيزياء
0787255846
عمان - حادجا

← عندما تتبعث النواة لجسيم ألفا فإن النواة المشعة تفقد (٢) بروتون و (٢) نيوترون فيقل عددها الكتلي (٤) و يعدد الذري (٢).

* تخضع المعادلة إلى أربع مبادئ هي :-

١- مبدأ حفظ العدد الكتلي :-

* مجموع العدد الكتلي قبل الإضمحلال يساوي العدد الكتلي بعد الإضمحلال

٢- مبدأ حفظ العدد الذري :-

* مجموع العدد الذري قبل الإضمحلال يساوي العدد الذري بعد الإضمحلال

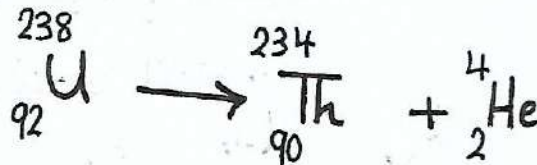
٣- مبدأ حفظ (الطاقة - الكتلة) :-

* مجموع الكتل و الطاقة للواد المتفاعلة يساوي مجموع الكتل و الطاقة للمواد الناتجة.

٤- مبدأ حفظ الزخم الخطي :-

* أن الزخم الخطي للنوى و الجسيمات المتفاعلة والمضمحلة يساوي الزخم الخطي للنوى و الجسيمات الناتجة من التفاعل أو الإضمحلال .

* مثال توضيحي *



$$A_{\text{قبل}} = 238 = A_{\text{بعد}} = 234 + 4 \quad (٤)$$

$$Z_{\text{قبل}} = 92 = Z_{\text{بعد}} = 90 + 2 \quad (٢)$$

$$238 = 4 + 234 = A_{\text{بعد}} \quad , \quad 238 = A_{\text{قبل}}$$

$$92 = 2 + 90 = Z_{\text{بعد}} \quad , \quad 92 = Z_{\text{قبل}}$$

* الأستاذ :-
عمار السعود
ماجستير فيزياء
0787255846
عمان - مادبا

* علل: تمتاز ألفا بالقدرة الكبيرة على التأين ١٢٢

* بسبب كبر حجمها وكبر شحنتها .

* علل: تمتاز ألفا بقدرتها القليلة على الاختراق ١٢٢

* بسبب كبر حجمها وكبر شحنتها .

(٥) اضعف ال بيتا :-

١ هي إلكترونات سالبة الشحنة ولا يعبّر عنها بالرمز e^- وتسمى بيتا

السالبة (B)

٢ تنتقل بسرعة عالية .

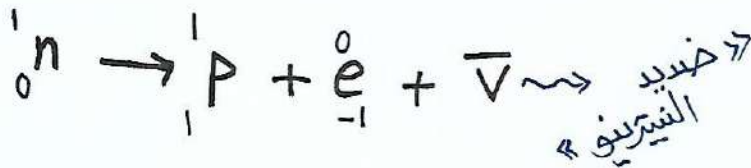
٣ قدرتها على التأين قليلة ، بسبب صغر شحنتها

٤ لصغر كتلتها تكون نفاذيتها أكبر .

* علل:

* تفتت النواة للجسيم بيتا السالب رغم عدم احتوائها على إلكترونات

* بسبب تكامل أحد النيوترونات في النواة فينتج بروتون وإلكترون وبسبب صغر كتلة الإلكترون فتبعته النواة خارجها بينما يبقى البروتون ذو الكتلة الأكبر



* Physics *

* الأستاذ *
« عمار السعور »
« ماجستير فيزياء »
« 0787255846 »
« عمان - مادبا »

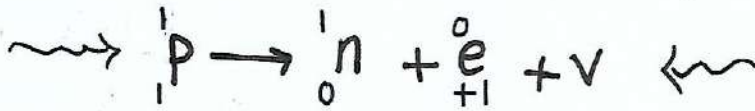
* النيوترون :-

- هي دقائق لها خصائص الإلكترون نفسها إلا أنها تحمل شحنة موجبة
(e^+) وتسمى بيتا الموجبة (β^+)

* علل *

تفت النواة جسم بيتا الموجب رغم عدم احتوائها على النيوترون؟!

* بسبب تحلل البروتونات إلى نيوترون و e^+ بسبب صغر كتلة النيوترون
تبعته النواة خارجها ويبقى النيوترون ذو الكتلة الأكبر

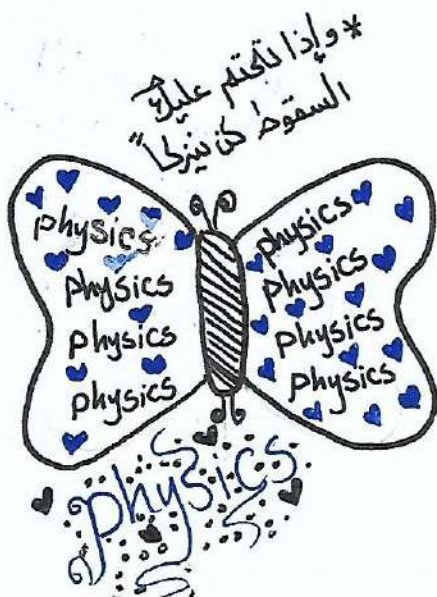


* النيتريو :-

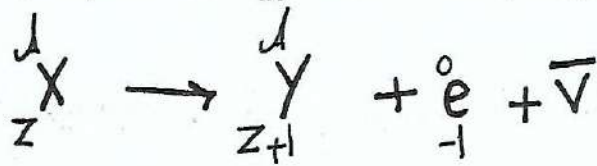
* هو جسم صغير مهمل الكتلة وغير مشحون يرافق النيوترون ويمر
له بالرمز (ν) .

* ضديد النيتريو :-

* هو جسم صغير مهمل الكتلة و غير مشحون يرافق الإلكترون ويمر
له بالرمز ($\bar{\nu}$) .

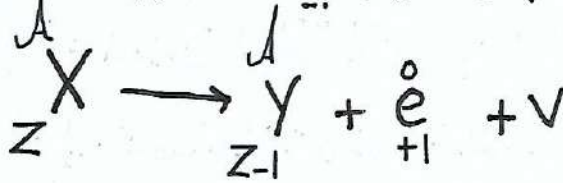


* المعادلة التالية تمثل انبعاث النواة بيتا السالبة :-





A ← ثابت
Z ← يزيد بمقدار (1)

* المعادلة التالية تمثل انبعاث النواة بيتا الموجبة :-



A ← ثابت
Z ← يقل بمقدار (1)

* أمثلة *



* الأستاذ:
عمار السعود
ماجستير فيزياء
0787255846
عمان - ماجبا

YES!
com

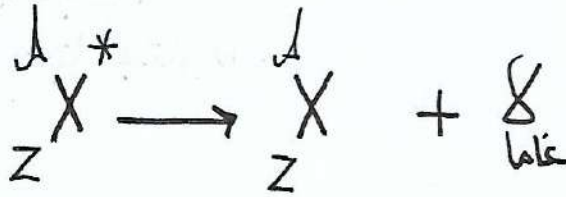
٣- اضمحلال غاما *



- ① هي أشعة كهرومغناطيسية (فوتونات) ليس لها كتلة .
- ② طاقتها عالية جداً .
- ③ قدرتها على التأين منخفضة لأنه لا شحنة لها .
- ④ قدرتها على النفاذ هائلة .

* علل:- يصاحب انبعاث النواة لدقائق ألفا وبيتا انبعاث أشعة غاما ؟

* لأن النواة المثارة لإحتلاكها طاقة زائدة عن الوضع الطبيعي فتتخلص النواة منها بإعثة أشعة غاما .



A ← ثابت ، Z ← ثابت

* من ثم نعلم أن النواة المثارة تمتلك طاقة زائدة .

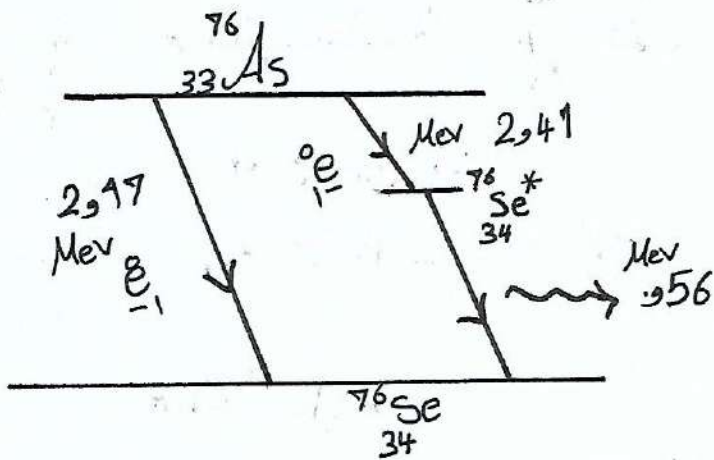
الأستاذ :-
عمار السعود
ماجستير فيزياء
0787255846
عمان - مادبا

« ادفع نفسك للتقدم وللوصول
إلى أهدافك فإنه لا يوجد
أحد سيفعل ذلك من أجلك »



* سؤال :-

- يمثل الشكل المجاور اضمحلال نواة الزرنيخ $^{76}_{33}\text{As}$ الفعّلة . أجب عن الأسئلة التالية :-



① ماهي الطاقة الكلية اللازمة أن تبعث نواة « ^{76}As » لتصل إلى نواة « $^{76}_{34}\text{Se}$ » .

* الجواب *

. MeV 2.17

② ماهي الطاقة الكلية اللازمة أن تبعث نواة « ^{76}As » للوصول إلى « $^{76}\text{Se}^*$ » ؟؟

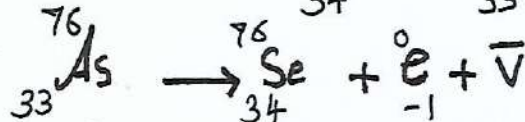
* الجواب *

. MeV 2.41

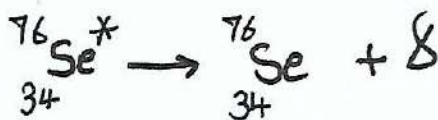
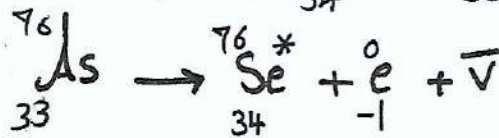
③ ما طاقة أشعة غاما ؟!

. MeV 0.56

④ اكتب معادلة اضمحلال $^{76}_{33}\text{As}$ إلى $^{76}_{34}\text{Se}$ بالطريقة المباشرة .



⑤ اكتب معادلة اضمحلال $^{76}_{33}\text{As}$ إلى $^{76}_{34}\text{Se}$ بالطريقة الثانية :



الأستاذ :-
« عمار السعود »
« ماجستير فيزياء »
« 0787255846 »
« عمان - مادبا »

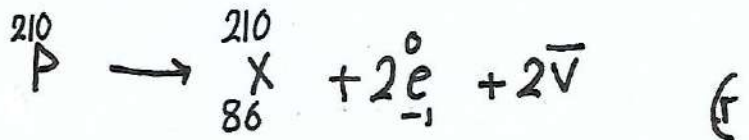
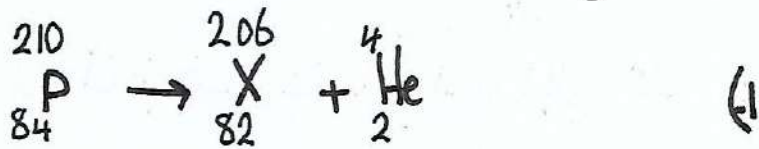
* سؤال:

* اكتب معادلة ${}_{84}^{210}\text{P}$ عندما تبقى :-

أ. جسيم ألفا

ب. بيتا السالب.

* الحل *



الأستاذ
عمار السعود
ماجستير فيزياء
0787255846
عمان - مادبا

(س) قارن بين أشعة ألفا وبيتا وجاما من حيث :-

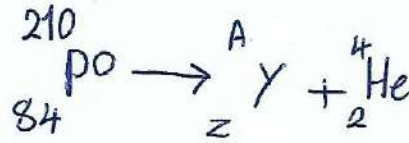
أوجه المقارنة	نوع الأشعة	ألفا	بيتا	جاما
الطبيعية	جسيمات	${}^4_2\text{He}$	جسيمات . e^- , e^+	موجات كهرومغناطيسية (أشعة غاما)
الشحنة	موجبة	موجبة	موجبة ، سالبة بروتون إلكترون	متعادلة الشحنة
الكتلة	كبيرة تمثل كتلة ذرة الهيليوم ${}^4_2\text{He}$ و ${}^4_2\text{He}$	كبيرة تمثل كتلة ذرة الهيليوم ${}^4_2\text{He}$ و ${}^4_2\text{He}$	قليلة تمثل كتلة الإلكترون	لا تمتلك كتلة لأنها فوتون
القدرة على النفاذ	قليلة بسبب كتلتها وكثافتها	قليلة بسبب كتلتها وكثافتها	متوسطة	هائلة
القدرة على التأين	كبيرة بسبب كتلتها وكثافتها	كبيرة بسبب كتلتها وكثافتها	قليلة بسبب حجمها وكثافتها	لا تتأين لأن ليس لها كتلة

الأستاذة
عمار السعود
مأجستير فيزياء
0787255846
عمان - مادبا



* مراجعة (٨-٤) ص ٢٥٣ *

(س-١)



* بتطبيق مبدأ حفظ العدد الكتلي :-

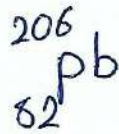
$$A + 4 = 210$$

$$\boxed{206 = A}$$

* بتطبيق مبدأ حفظ العدد الذري :-

$$2 + Z = 84$$

$$\boxed{82 = Z}$$



وعليه تكون النواة الناتجة

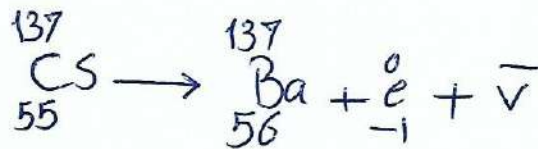
** الأستاذة *
* عمار السعيد *
* ماجستير فيزياء *
* 0787255846 *

(س-٢) (أ) (١) ← بيتا السالب

(٢) ← بيتا السالب

(ب)

طاقة الفوتون المنبعث = ٧٢ و١ - ٥١١ و٠ = ٦٦١ و٠ Mev



(٤)

(س-٣) لأن النواة عندما يتحول احد نيوترونها الى بروتون وإلكترون وبسبب صغر حجم الإلكترون يكون طول موجة دي بروي له كبير مقارنة بأبعاد النواة ووفق فرضية دي بروي فإن النواة تبعث الكترون خارجها ويبقى البروتون ذي الشحنة الموجبة داخلها أما عندما يتحول احد بروتونات النواة الى نيوترون وبيزترون فتبعث النواة البزترون خارجها لذات السبب الذي انبعث فيه الإلكترون ويبقى النيوترون داخل النواة.

* الإشعاع النووي الطبيعي *

* سلاسل الإضمحلال الطبيعي :-

* هي مجموعة من التحويلات المتتالية التلقائية التي تبدأ بنواة نظير مشع لعنصر ثقيل وتنتهي بنواة نظير مستقر.

* أشهر سلاسل الإضمحلال الطبيعي :-

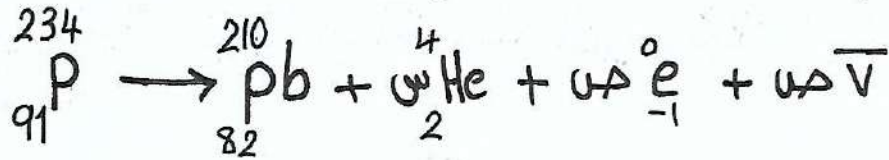
- 1- سلسلة اليورانيوم \rightarrow تبدأ بنظير اليورانيوم $^{238}_{92}\text{U}$
- 2- سلسلة الأكتينيوم \rightarrow تبدأ بنظير اليورانيوم $^{235}_{92}\text{U}$
- 3- سلسلة الثوريوم \rightarrow تبدأ بنظير $^{232}_{90}\text{Th}$

* تنتهي جميع سلاسل الإضمحلال الطبيعي بنواة أحد نظائر الرصاص المستقر.

الأستاذ :-
عمار السهود
ماجستير فيزياء
0787255846
عمان - حادبا

مثال

* احسب عدد اضمحلال ألفا بيتا في المعادلة التالية :-



$$\cancel{\Delta \times 0} + 34 + 210 = 234$$

$$34 + 210 = 234$$

$$\Delta = 6 \quad 24 = 34$$

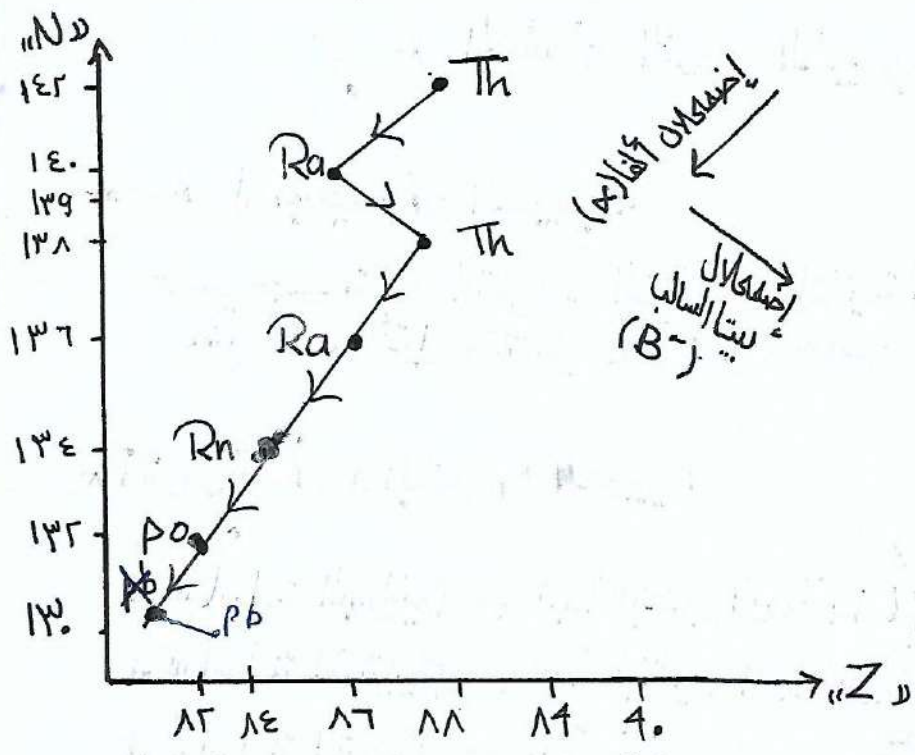
$$\Delta \times (-1) + 2 \times 6 + 82 = 91$$

$$\Delta - 12 + 82 = 91$$

$$\Delta - 94 = 91$$

$$\Delta = 3 \quad \Delta = 3 -$$

* الأستاذ :-
عمار السعود
ماجستير فيزياء
0787255846
عمان - مادبا

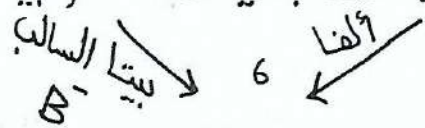


* الشكل المجاور يمثل أحد سلاسل الإضمحلال الطبيعي.

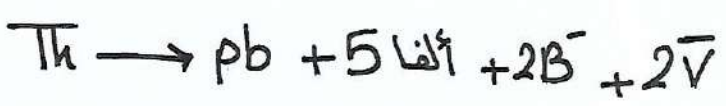
* ملاحظتان مهمة:

① اسم السلسلة هو أول عنصر في رأس السلسلة (Th) الثوريوم

② يتم حساب عدد جسيمات ألفا وبيتا من الرسم :-



③ كتابة معادلة الإضمحلال "Th" إلى "Pb"



* العدد الكتلي و العدد الذري يحسب من الرسمة.

Th ← العدد الذري = Z = 90 (من الرسم)

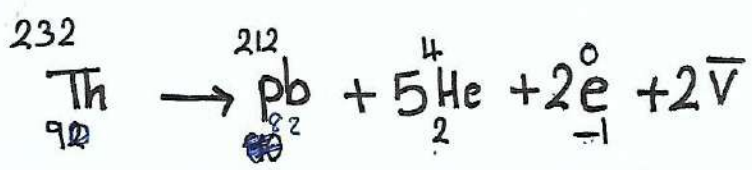
$$90 + 142 = Z + N = A = \text{العدد الكتلي}$$

$$232 =$$

$$82 = Z \leftarrow \text{P}$$

$$212 = 130 + 82 = A$$

← المعادلة النهائية :-



الأستاذ
عمار السعود
ماجستير فيزياء
0787255846
عمان - مادجا

ع- أكثر نواة استقراراً هي التي تكون آخر السلسلة وهنا تمثل $^{212}_{82}\text{Pb}$

0- النظائر:- هي الأنوية التي يكون لها نفس العدد الذري و تختلف في العدد الكلي

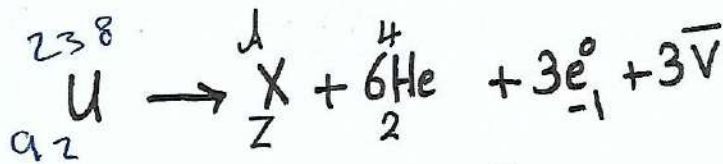
في الرسم يوجد $^{232}_{92}\text{Th}$ ، $^{228}_{92}\text{Th}$ هي نظائر

و النظير $^{228}_{92}\text{Th}$ أكثر استقراراً لأنه ناتج

إحتمالاً $^{228}_{92}\text{Th}$ إلى عدد من الذرات .

وهو النظير الأكثر استقراراً $^{224}_{88}\text{Ra}$ ، $^{228}_{88}\text{Ra}$

* مثال:- تفضل نواة اليورانيوم وفق المعادلة الآتية. احسب العدد الكلي (A) و العدد الذري (Z) للنواة الناتجة.



$$\cancel{3 \times 3} + 4 \times 6 + A = 238$$

$$214 = A \iff 24 + A = 238$$

$$1 - 3 + 2 \times 6 + Z = 92$$

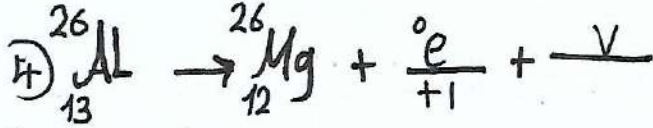
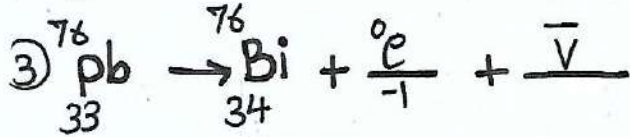
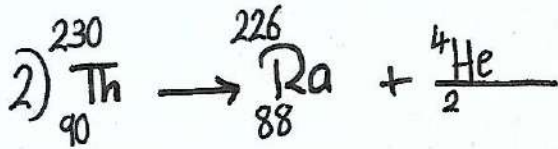
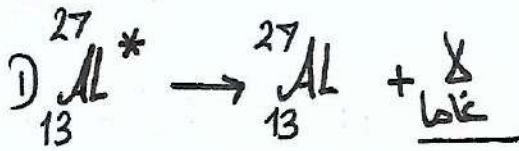
$$83 = Z \iff 3 - 12 + Z = 92$$

$$\# \quad ^{214}_{83}\text{X} \quad \iff$$



الأستاذ:
عمار السعود
ماجستير فيزياء
0787255846
عمان - مادبا

س) أكمل المعادلات التالية:-

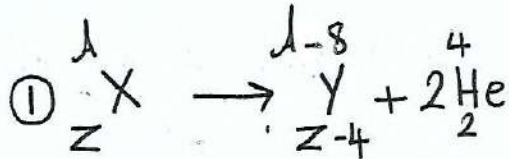


س) ما التغييرات لكل من العدد الكتلي (A) و العدد الذري (Z) للنواة (${}^A_Z\text{X}$) عندما تتعرض:

① دقيقتين ألفا (α)

② 3 دقائق بيتا الموجب (β₊)

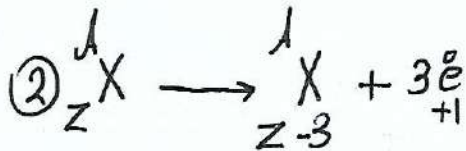
③ أشعة غاما (γ).



A يقل 8

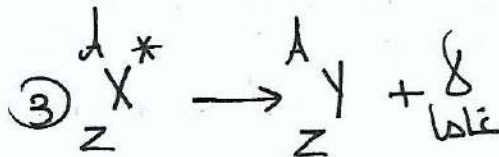
Z يقل 4

* الحل *



A ثابت

Z يقل 3




A ثابت


Z ثابت

الأستاذ:-
عمار السعود
ماجستير فيزياء
0787255846
الرياض - كذا

١ اسم المتسلسلة؟؟

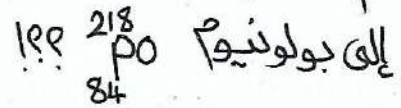


٢ أي نظائر الرصاص الناتجة أكثر استقراراً ولماذا؟



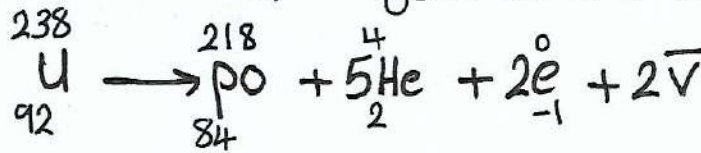
$^{238}_{92}\text{U}$

٣ كم عدد كل من دقائق ألفا وبيتا المنبعثة من تحول اليورانيوم

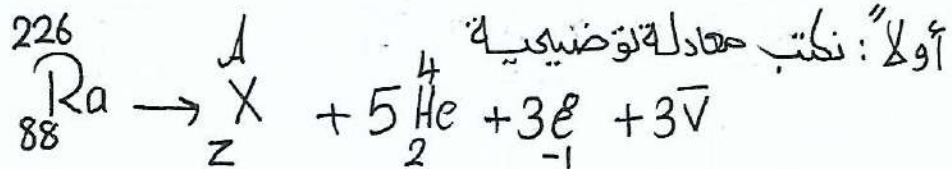


« ٥ ألفا ، ٢ بيتا »

٤ اكتب معادلة انحلال الفرع السابق .



٥ ما العدد الكتلي و العدد الذري للنواة الناتجة من سلسلة تحولات تبدأ بنواة الراديوم $^{226}_{88}\text{Ra}$ في (٥) دقائق ألفا و (٣) دقائق بيتا السالب؟؟



$$0 + 20 + A = 226$$

$$* 206 = A *$$

$$3 - 10 + Z = 88$$

$$* 81 = Z *$$

الأستاذ :-
عمار السعود
ماجستير فيزياء
0787255846
عمان - مادبا

* استخدامات الإشعاع الصناعي في المجال الطبي :-

١- التقب ٢- العلاج بالإشعاع .

١] التقب :-

- ١] تستخدم التقب للكشف عن وجود الإلتهابات في الأوعية الدموية عن طريق التقب .
- ٢] يمكن المريض بهلول ليحتوي على صوديوم مستع في وريد الساق ، لمعرفة نشاط الدورة الدموية .
- ٣] تستخدم أجهزة خاصة لتقب المادة المشعة ويعرف إذا كان الدم ينساب بشكل طبيعي في الأوعية الدموية ٢٤ لا .

٢] العلاج بالإشعاع :-

- ١] يكون مفيد جداً لقتل الخلايا السرطانية ذات الإفترسات السريعة .
- ٢] عندما يتركز الورم في منطقة محددة في الجسم القضاء عليها بتوجيه حزمة طيفية عالية التركيز من أشعة غاما لكو النسيج السرطاني .
- ٣] تستخدم أشعة غاما المنبعثة من أحد النظائر المشعة مثل الكوبالت $^{60}_{27}\text{Co}$.
- ٤] يمكن استخدام الأشعة السينية أو النيوترونات لهذا الغرض .

الأستاذ:
عمار السعود
ماجستير فيزياء
0787265846
عمان - ٥٠

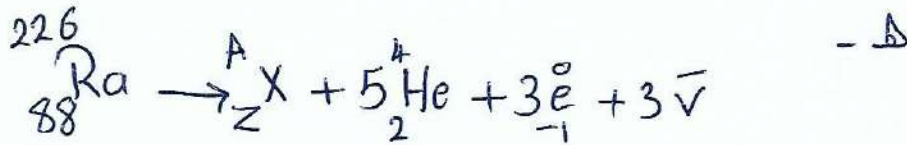
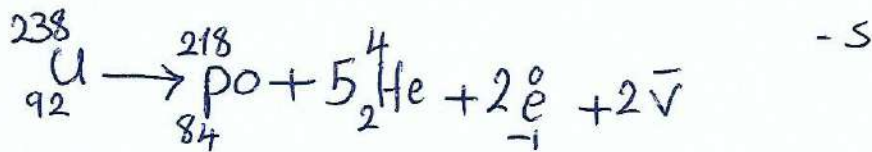
مراجعة (٨-٥) حصة ٢٥٧

١- هي مجموعة التحولات المتتالية التلقائية التي تبدأ بنواة نظير مشع وتنتهي بنواة نظير مستقر لعنصر آخر.

٢- سلسلة اليورانيوم.

٣- لأن السلسلة انتهت بـ $^{206}_{82}\text{Pb}$.

٤- الفنا $\leftarrow 0$
بيتا السالبة $\leftarrow 2$



* تطبيق مبدأ حفظ العدد الكتلي

$$Z + A = 226$$

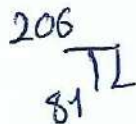
$$\boxed{206 = A}$$

* تطبيق مبدأ حفظ العدد الذري

$$3 - 1 + Z = 88$$

$$3 + 1 - 3 + 1 -$$

$$\boxed{81 = Z}$$



النواة الناتجة هي:

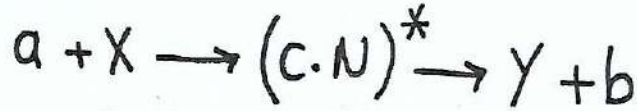
* * الأستاذ *
* * عمار السعود *
* * ماجستير فيزياء *
* * 0787255846 *

* الإشعاع النووي الصناعي *

* التفاعل النووي *

* هي العملية التي يتم فيها أحداث تغير في مكونات ذرة ما.

* التفاعل الصناعي *



* ملاحظات مهمة:

- 1] a: القذفية ، تمتلك طاقة حركية كبيرة تكفيها من اختراق النواة.
- 2] X: النواة الهدف تكون ساكنة.
- 3] $(c.N)^*$ النواة المركبة: هي حالة انتقالية مؤقتة تتحلل سريعاً في التفاعل النووي تحدث عندما تمتص النواة الهدف للقذفية.
- 4] γ النواة الناتجة وتكون سريعاً قليلة.
- 5] b: الجسم الناتج تكون سرعته كبيرة مقارنة مع النواة الناتجة.
- 6] الزخم الخطي للنواة الناتجة = الزخم الخطي للجسيم الناتج.
- 7] يسمى الجسم الناتج اشعاعاً صناعياً.

* سؤال * مهم

ما التغيرات التي تحدث على النواة الهدف عند التهامها بالقذفية؟

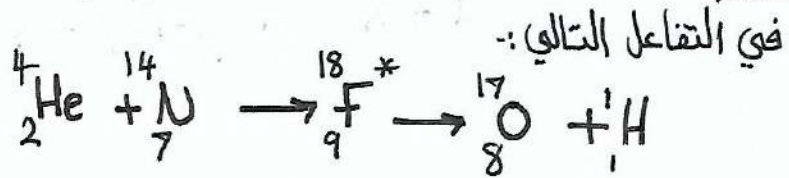
* تصبح في حالة إثارة و عدم استقرار ثم تضعف خلال فترات زمنية قصيرة جداً.

الأستاذ:
عمار السعود
ماجستير فيزياء
0787255846
عمان - مادبا

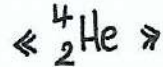
(س) ماهي أهمية التفاعلات الصناعية؟

- ① إمكانية تكوين عنصر معين إلى عنصر آخر.
- ② إنتاج النظائر المشعة.
- ③ الحصول على جسيمات أو أشعة ذات طاقة عالية.

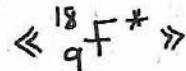
مثال



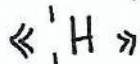
١- ما التزينة المستهدفة؟؟



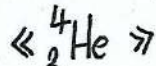
٢- حدد النواة المركبة في التفاعل.



٣- أي النوى الناتجة تمتلك أكبر طاقة حركية؟؟



٤- أي النوى المتفاعلة يمتلك أكبر طاقة حركية؟؟



٥- اذكر المبادئ التي يخضع لها هذا التفاعل؟؟

١- حفظ العدد الذري.

٢- حفظ العدد الكتلي.

٣- حفظ الزخم.

٤- حفظ (الطاقة - الكتلة).

الأستاذ:-
عمار السعيد
ماجستير فيزياء
0787255846
عمان - مادبا

س) اذكر اربع امثلة على القذائف المستخدمة في التفاعلات النووية الصناعية:

* الجواب *




- ١- البروتون (${}^1_1\text{H}$) ، (البروتون = الهيدروجين)
- ٢- ذرّة ألفا (${}^4_2\text{He}$)
- ٣- الديتيريوم (${}^2_1\text{H}$)
- ٤- النيوترون (${}^1_0\text{n}$)

* علل *

- ليعد النيوترون أفضل القذائف المستخدمة في التفاعل النووي الصناعي؟؟
- لأنه متعادل كهربائياً ، فلا يتفاعل مع النواة لتجاوزها أو تناثر.

* أمثلة على التفاعل الصناعي :-



* النواة الناتجة ${}^7_4\text{Be}$

* الجسم الناتج ${}^1_0\text{n}$

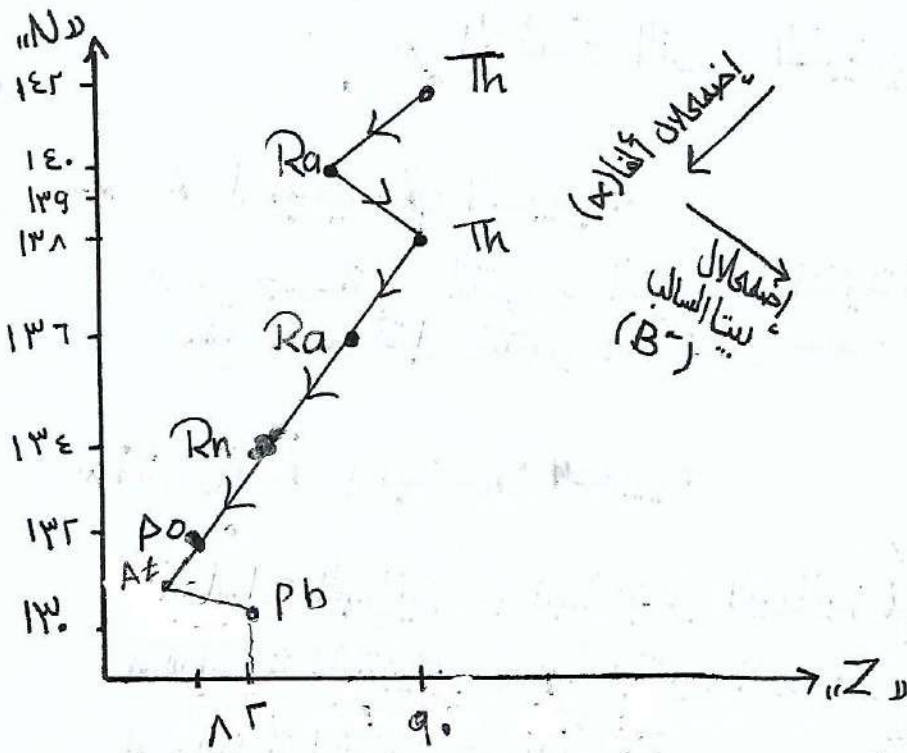
* القذيفة $({}^1_1\text{H})$

* النواة الهدف ${}^7_3\text{Li}$

* النواة المركبة ${}^8_4\text{Be}^*$

* الإشعاع الصناعي ${}^1_0\text{n}$ [الجسم الناتج]

* الطاقة الحركية للجسيم الناتج (${}^1_0\text{n}$) أكبر من سرعة النواة الناتجة (${}^7_4\text{Be}$) وفقاً لقانون حفظ الزخم.




* الشكل المجاور يمثل
أحد سلاسل الإضمحلال
الطبيعي.

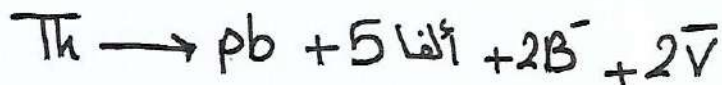
* ملاحظتان مهمة:

① اسم السلسلة هو أول
عنصر في رأس السلسلة
(Th) الثوريوم

② يتم حساب عدد جسيمات ألفا وبيتا من الرسم :-



③ كتابة معادلة الإضمحلال "Th" إلى "Pb".



* العدد الكتلي و العدد الذري يحسب من الرسمة.

Th ← العدد الذري = Z = 90 (من الرسم)

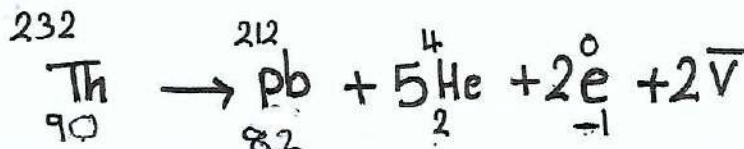
$$90 + 142 = Z + N = A = \text{العدد الكتلي}$$

$$232 =$$

$$82 = Z \leftarrow \text{Pb}$$

$$232 = 130 + 82 = A$$

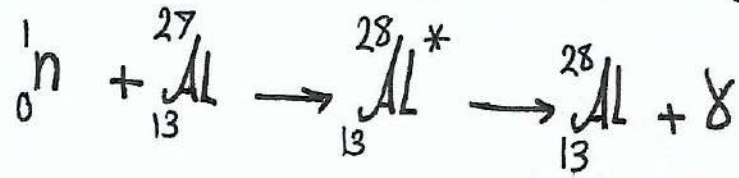
← المعادلة النهائية :-



الأستاذ
عمار السعود
ماجستير فيزياء
0787255846
عمان - مادجا

* سؤال *

أكمل المعادلة التالية:



الأستاذ:
عمار السعوي
ماجستير فيزياء
0787255846
عمان - مادبا

* مراجعة (٨-٦) حبات (٥)

* السؤال الأول ٥٥٥٥
هي العملية التي يتم فيها إحداث تغيير في مكونات نواة ما.

* السؤال الثاني ٥٥٥٥
تمتص النواة الهدف القذفية مشكولة نواة مركبة في حالة إثارة وعدم استقرار ثم ما تلبث النواة الجديدة أن تتحلل في فترة زمنية قصيرة جداً.

* السؤال الثالث ٥٥٥٥

- أ- أشعة غاما لأنها أكثر قدرة على النفاذ.
- ب- أشعة ألفا لأنها أكثر قدرة على التأين.



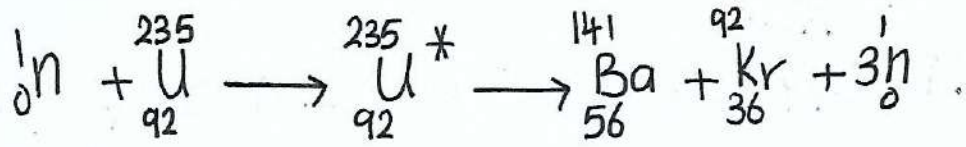
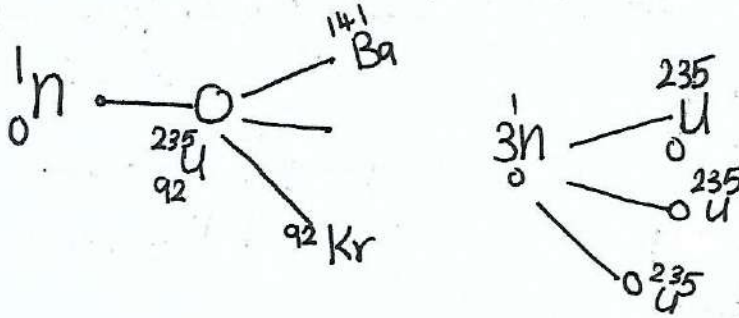
» تطبيقات على التفاعلات ٥٥٥٥ النوية «

□ الإنشطار النووي :-

الإنشطار النووي ← هو تفاعل نووي يحدث فيه انقسام نواة ثقيلة ، عند قذفها ببنيرون ، إلى نواتج متوسطي الكتلة ويصاحب ذلك نقص في الكتلة يتحول إلى طاقة .

* التفاعل النووي المتسلسل :-

- هو تتابع إنشطار النوى الثقيلة مثل اليورانيوم (${}_{92}^{235}\text{U}$) نتيجة قذفها ببنيرونات لتبعث من نوى يورانيوم انشطرت ساجاً .



* تكون أهمية هذا التفاعل بكمية الطاقة الهائلة الناتجة عنه .

الأستاذ :-
عمار السعود
ماجستير فيزياء
0787255846
عمان - ص.ب. ١٥٠١

س) اذكر ثلاث من الأشعة المستخدمة في العلاج النووي ١٢٢

- ١- أشعة غاما (أ)
- ٢- الأشعة السينية
- ٣- النيوترونات

س) ماهي الأمور التي يجب مراعاتها في العلاج الإشعاعي ١١٩

- ١- يجب تكديد نوع الإشعاع وطرقته والعنصر المعرض له.
- ٢- تكديد زمن التعرض للأشعة ومدى قرب الجسم من مصدر الأشعة لكي يكون الضرر أقل ما يمكن.

* سؤال *

حدد مع بيان السبب الأشعة النووية الأكثر خطورة على جسم الإنسان عند التعرض لها:-

- ١ من مصدر خارج الجسم .
- ٢ من مصدر داخل الجسم .

* الأستاذ:
عمار السعود
ماجستير فيزياء
0787255846
عمان - مادبا

* الجواب *

١ خارج الجسم تكون أخطر الأشعة هي أشعة غاما لأنها أكثر قدرة على النفاذ.

٢ داخل الجسم أخطر الأشعة هي أشعة ألفا بسبب قدرتها الكبيرة على التأين فتؤدي إلى:-

- ١ إتلاف الخلايا السليمة و تكويلها إلى خلايا سرطانية
- ٢ حدوث طفرات و تغيرات في المادة الوراثية مما يؤدي إلى ولادة أطفال مشوهين.

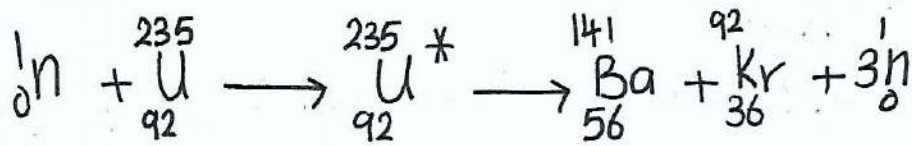
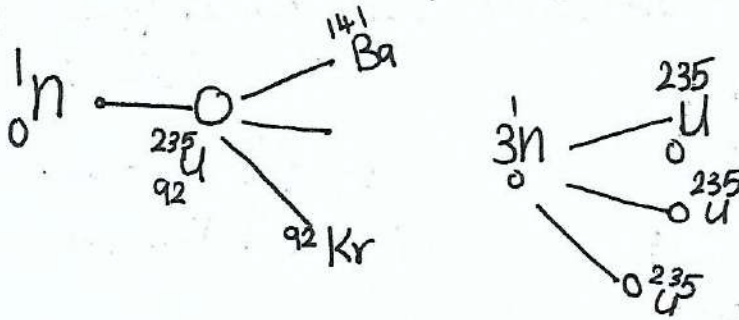
» تطبيقات على التفاعلات ٥٥٥٥ النوية «

□ الإنشطار النووي :-

الإنشطار النووي ← هو تفاعل نووي يحدث فيه انقسام نواة ثقيلة ، عند قذفها ببنيرون ، إلى نواتج متوسطي الكتلة ويصاحب ذلك نقص في الكتلة يتحول إلى طاقة .

* التفاعل النووي المتسلسل :-

- هو تفاعل إنشطار النوى الثقيلة مثل اليورانيوم (${}_{92}^{235}\text{U}$) نتيجة قذفها ببنيرونات لتبعث من نوى يورانيوم انشطرت ساجداً .



* تكمن أهمية هذا التفاعل بكمية الطاقة الهائلة الناتجة عنه .

الأستاذ :-
عمار السعود
ماجستير فيزياء
0787255846
عمان - ص.ب. ١٠١١

س) اذكر ثلاث من الأشعة المستخدمة في العلاج النووي ١٢٢

- ١- أشعة غاما (أ)
- ٢- الأشعة السينية
- ٣- النيوترونات

س) ماهي الأمور التي يجب مراعاتها في العلاج الإشعاعي ١١٩

- ١- يجب تكديد نوع الإشعاع وطرقته والعنصر المعرض له.
- ٢- تكديد زمن التعرض للأشعة ومدى قرب الجسم من مصدر الأشعة لكي يكون الضرر أقل ما يمكن.

* سؤال *

حدد مع بيان السبب الأشعة النووية الأكثر خطورة على جسم الإنسان عند التعرض لها:-

- ١ من مصدر خارج الجسم .
- ٢ من مصدر داخل الجسم .

* الأستاذ:
عمار السعود
ماجستير فيزياء
0787255846
عمان - مادبا

* الجواب *

١ خارج الجسم تكون أخطر الأشعة هي أشعة غاما لأنها أكثر قدرة على النفاذ.

٢ داخل الجسم أخطر الأشعة هي أشعة ألفا بسبب قدرتها الكبيرة على التأين فتؤدي إلى:-

- ١ إتلاف الخلايا السليمة و تحويلها إلى خلايا سرطانية
- ٢ حدوث طفرات و تغيرات في المادة الوراثية مما يؤدي إلى ولادة أطفال مشوهين.

* الكتلة الحرجة *

* هو الحد الأدنى من كتلة اليورانيوم اللازم لمنع تسرب النيوترونات وإدامة التفاعل.

* المفاعل النووي *

* هو نظام يعمل على توفير الظروف المناسبة لاستمرار تفاعل الانشطار النووي والسيطرة عليه.

س- اذكر شرطي حدوث التفاعل المتسلسل؟؟

- 1- يجب ابطاء سرعة النيوترونات لكي تمتصها النواة.
- 2- يجب أن تكون كتلة اليورانيوم كتلة حرجة لمنع تسرب النيوترونات واستمرار عملية الانشطار النووي.

س- ماهي الأمور الواجب مراعاتها عند بناء المفاعل النووي؟؟

- 1- أن يكون المكان بعيد عن التجمعات السكانية.
- 2- أن يكون المكان قريب من مصادر وافرة للمياه.
- 3- ضرورة وجود هيئات دولية تضبط بناء المفاعلات وتشغيلها.

الأستاذ:
عمار السعود
ماجستير فيزياء
0787255846
عمان - مادبا

سـ) ماهي وظيفة الهيئات الدولية عند بناء المقاعلات النووية؟

١- تقنى برقابة سلامة تصريف نفايات المواد المشعة عند استبدال الوقود النووي.

٢- تقنى لفحص الحاويات المستخدمة فى نقل الوقود النووي بإستمرار.

الأستاذ :-
عمار السعود
ماجستير فىزياء
0787255846
عمان - ماديا

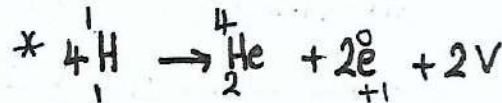
□ الإندماج النووي :-

* الإندماج النووي :-

هو عملية إتحاد نواتين خفيفتين لتكوين نواة جديدة كتلتها أقل من مجموع كتلتيهما.

س/ اين يحدث تفاعل الإندماج !؟

□ في النجوم ← يعد الهيدروجين (^1_1H) الوقود النووي للنجوم وتستمد النجوم طاقتها من تفاعل الإندماج.



□ على سطح الأرض ← يتم دمج نظيري الهيدروجين الديوتيريوم (^2_1H) و التريتيوم (^3_1H) وتكون كتلة النواة الناتجة أقل من مجموع كتلتيهما.



* ينتج عن تفاعل الإندماج طاقة هائلة جداً تكون أصغاف مضاعفة من الطاقة الناتجة عن تفاعل الإنشطار النووي.

الأستاذ :-
عمار السعود
ماجستير فيزياء
0789255846
عمان - مادبا

س- يسهل تفاعل الاندماج بالتفاعل النووي الحراري ؟؟

* لأنه يجب رفع درجة حرارة المكونات لكي تزداد سرعتها و تزداد طاقتها الحركية. ويمكنها من الإقتراب من بعضها و التقلب على قوة التناثر الكهربائية لئتم الاندماج.

س- اذكر شرطي حدوث تفاعل الاندماج النووي ؟؟

- 1- رفع درجة الحرارة إلى ما يقارب 10^8 كلفن
- 2- أن يحدث التفاعل تحت ضغط عالي.

* يحدث تفاعل الاندماج النووي في الشمس و النجوم بحيث تتوفر شروط الاندماج من الحرارة و الضغط.

س- ماهي الأسباب التي تمنع حدوث تفاعل الاندماج على سطح الأرض ؟؟

* عدم توافر درجة الحرارة و الضغط اللازمة لحدوث التفاعل.



س) قارن بين تفاعلي الانشطار والاندماج النووي من حيث الوقود النووي
 و الطاقة الناتجة وشروط حدوث التفاعل؟؟

من حيث	الانشطار	الاندماج
١- الوقود المستخدم	235 U 92	في النجوم ^1_1H سطح الأرض ^2_1H , ^3_1H
٢- الطاقة الناتجة	كبيرة	اضعاف مضعفة عند الطاقة الناتجة من الانشطار النووي
٣- شروط حدوث كل تفاعل	١- النيوترون بطويء ٢- كتلة اليورانيوم كتلة حرجية	١- درجة الحرارة 10^7 ٢- ضغط كبير جداً

الأستاذة:
 دعاء السعود
 ماجستير فيزياء
 0787255846
 عساي - مادبا

☆
 ☆
 Physics

(س) اعطي أهمية واحدة لكل من :-

١. طاقة الربط :-

هي الطاقة اللازمة لتزويد النواة بها لفصل مكوناتها .

٢. الكتلة المرحبة :-

أقل كتلة - تلزم لمنع تسرب النيوترونات و استمرار التفاعل المتسلسل .

٣. نظير الكوبالت المشع $^{60}_{27}\text{Co}$:-

* يصدر عنه اشعة غاما المستخدمة في العلاج النووي الإشعاعي .

٤. عملية التقب :-

معرفة أماكن انسداد الشرايين في جسم الإنسان باستخدام حقنة من الصوديوم المشع .

* الأستاذ :-

عمار السعود

ماجستير فيزياء

0781255846

عمان - مادبا

PhysiCS

* مراجعة (٧-٨) ص ٢٦٥ (٥)

* السؤال الأول ٥٥٥٥

* الانشطار النووي \leftarrow تفاعل نووي يحدث فيه انقسام نواة ثقيلة عند قذفها بنيوترون إلى نواتين متوسطتي الكتلة ويصاحب ذلك نقص في الكتلة يتحول إلى طاقة.

(235) * التفاعل المتسلسل \leftarrow تتابع انشطار النوى الثقيلة مثل اليورانيوم (المعروف سابقاً) نتيجة قذفها بنيوترونات تنبعث من نوى يورانيوم انشطرت سابقاً.

* المفاعل النووي \leftarrow النظام الذي يعمل على توفير الظروف المناسبة باستمرار تفاعل الانشطار النووي والسيطرة عليه.

* الاندماج النووي \leftarrow عملية اتحاد نواتين خفيفتين لتكوين نواة جديدة كتلتها أقل من مجموع كتلتيهما.

* السؤال الثاني ٥٥٥٥

(أ) توفر الحد الأدنى من كتلة الوقود النووي اللازم لإدامة التفاعل المتسلسل (الكتلة الحرجية)، ومنع تسرب النيوترونات خارج كتلة اليورانيوم.

(ب) مادة الوقود النووي، قضبان التحكم، المواد المرهقة للنيوترونات، المبادل الحراري، الدرع الواقعي، المولدات الكهربائية، المكثف، أبراج التبريد.

* * الأستاذ (٥)

* * عمار السعود *

* * ماجستير فيزياء *

* مراجعة (٧-٨) ح ٢٥٦ تابع :-

* السؤال الثالث ٥٥٥٥

- ١- لإزاحتها ذات كفاءة عالية في امتصاص النيوترونات .
 ٢- لتضيق نداء المفاعلات وتشغيلها ، ولتأمين برفاقية سلامة تشغيلها
 فحايات المواد المتسعة عند استبدال وقود المفاعل .

* السؤال الرابع ٥٥٥٥

- أ) توفير الكتلة الحرجة عند الوقود النووي .
 ب) إدخال عدد مناسب من قضبان التحكم في قلب المفاعل .
 ج) عند حرق مواد ذات كتل صغيرة كالغرافيت والماء العادي (H_2O) والماء الثقيل (D_2O) .

* السؤال الخامس ٥٥٥٥

تفاعل الانماج	تفاعل الانشطار	
الهيدروجين في الشمس الديتريوم والتريوم على الأرض	يورانيوم $^{235}_{92}U$ أو بلوتونيوم $^{239}_{94}Pu$	الوقود النووي
أضعاف الطاقة الناتجة عند الانشطار	كبيرة جداً	الطاقة لكل نيوكليون الناتجة
١- توفر درجة الحرارة عالية ٢- ضغط هائل	وهو نيوترونات بطيئة	شروط حدوث التفاعل

** الأستاذ :- *

* عمار السعور *

الاستاذ: عمار السعور
ما حسيير فيزياء

0787255846

عمان - مادبا

« ورقة عمل "2" »

« الفيزياء النووية »

سأ:- عرف كل من الآتي :-

- 1- اضمحلال النواة
- 2- اشعه الفا
- 3- اشعه غاما
- 4- اشعه بيتا
- 5- البزترون
- 6- عداد غايغر
- 7- الانشطار الاستعالي
- 8- البيترينو
- 9- التفاعل النووي
- 10- الكتله المرحية
- 11- التفاعل المتسلسل
- 12- اضمحلال النواة
- 13- اشعه بيتا
- 14- اشعه غاما
- 15- اشعه بيتا
- 16- اشعه بيتا
- 17- اشعه بيتا
- 18- اشعه بيتا

فك على كل ما يلي :-

- 1- اشعه الفا اكبر قدرة على التأين
- 2- اشعه غاما اكبر على الاختراق
- 3- عند اضمحلال النواة تكون كتلة النواة الاصلية البر من مجموع كتلتي النواة الناتجة والجسم
- 4- عند اضمحلال النواة تكون سرعة الجسم الناتج البر من سرعة النواة الناتجة
- 5- انبعاث اشعه الفا وبيتا وغاما
- 6- تبعث النواة بجسم بيتا السالب
- 7- تبعث النواة بجسم بيتا الموجب
- 8- تبعث النواة باشعه غاما
- 9- طاقة التفاعل $Q = -2074 \text{ MeV}$
- 10- ليمس تفاعل الاندماج بالتفاعل الحراري

سؤال ١- قارن بين أشعة الفا وبيتا وغاما من حيث :-

- ٢- الماهية
٥- الشحنة
٣- القدرة على الاختراق
٤- القدرة على التأين

٥- ما هو الجهاز المستخدم في الكشف عن الأشعة النووية

٣- اذكر العوامل التي يعتمد عليها مقدار الضرر البيولوجي على جسم الإنسان

٤- ما هي شروط حدوث التفاعل المتسلسل

٥- اين يحدث الانشطار النووي

٦- ما هي شروط حدوث التفاعل الانشطار النووي

٧- ماهي العمليات التي تحدث في المفاعل النووي

٨- ماهي المواد المستخدمة كمهدئات في المفاعل النووي

٩- ماهي المواد المستخدمة لتحكم في سرعة التفاعل

١٠- اين يحدث تفاعل الانزماج النووي

سؤال نواة $Z^A X$ ماذا يحدث لمقدار كل من Z و A في الحالات التالية

١- اذا نعت جسم الفا

٢- اذا نعت جسمي الفا

٣- اذا نعت جسمي بيتا السالب

٤- اذا نعت جسم بيتا موجب

٥- اذا نعت أشعه غاما

الاستاذ: عمار لسعود

ماحسب قزياد

078 7255 846

عمان - مادبا

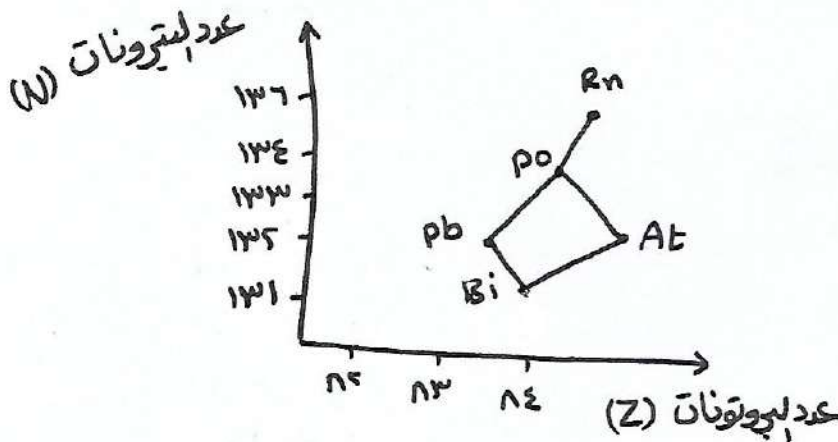
حـ تضمحل نواة يورانيوم $^{232}_{92}\text{U}$ الى نواة $^{228}_{90}\text{Th}$ طابغة جسم الفا اذا علمت ان :-

ك $\mu = 3.32 \text{ و } 3.0 \text{ و } 3.0 \text{ و } 3.0$ ، ك $\text{Th} = 228.0 \text{ و } 228.0 \text{ و } 228.0$ ذ
 ك $\text{He} = 4.0 \text{ و } 4.0 \text{ و } 4.0$ ذ

- ١- اكتب معادله موزونه تقر عن هذا التفاعل
- ٢- احسب الطاقه المكافئه لفرق الطاقه
- ٣- النسبه بين سرعه الفا وسرعه الثريوم

س٤ :- (٢) تمثل الشكل المجاور جزء من سلسله الاضمحلال الاشعاعي لنواة اليورانيوم (٢٣٨) معقدا على الشكل :-

- ١- ما عدد جسيمات الفا وبيتا المنبعثه من اضمحلال Rn الى Bi
- ٢- مثل اضمحلال Pb الى Bi بمعادله موزونه
- ٣- ما المادى التي يخضع لها هذا الاضمحلال
- ٤- اذكر سلاسل الاضمحلال الاشعاعي الطبيعي

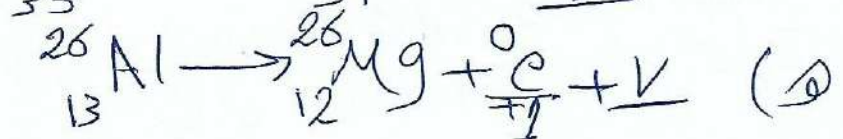
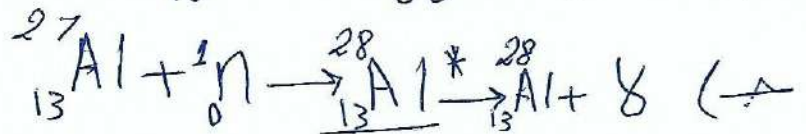
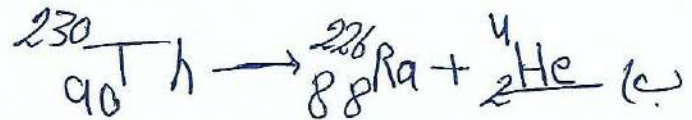
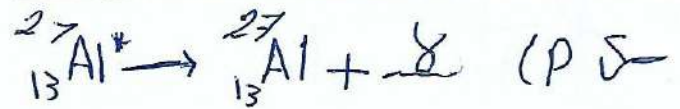


الاستاذ: عمار لسفور
 ماجستير فيزياء
 0787255846
 عمان - مادبا

أسئلة الفصل السابع (الفيزياء النووية)

حل

رقم الفقرة	الجواب
1	ب
2	د
3	ج
4	د
5	ب
6	د
7	د



الأستاذ: عمار السحود
ماجستير فيزياء

٣ (٥) لفصل أحد النيوكليونات عن النواة.

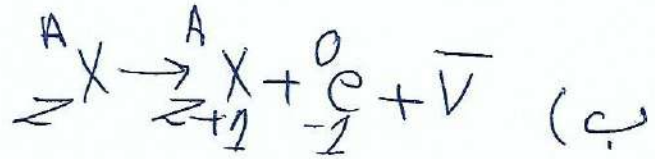
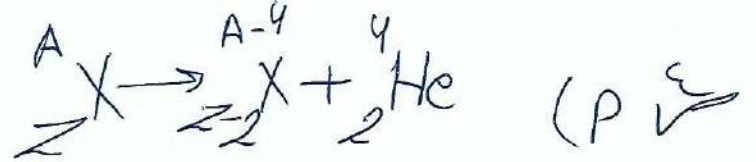
باللتصم في سرعة التفاعل المتسلسل.

ج) لمنع تسرب النيوترونات الناتجة من الانشطار (>

هـ) حلول عمرة و ييشع أشعة غاما.

و) لمعرفة أماكن أنسداد الشريكة

الاستاذة عمار السلي
ما جيب سير فيزياء
0787255846
عمان - ماديب



٥ (٥) ذرة ${}^4_2 \text{He}$

ب) ذرة ${}^{18}_9 \text{F}^*$

ج) ${}^1_1 \text{H}$ حسب قانون حفظ الكتلة كما قلت الكتلة
زادت السرعة تيار زيادة الطاقة الحركية.

(> ١- قانون حفظ الشحنة ٢- قانون حفظ الكتلة الطاقة
٣- قانون حفظ الزخم ٤- قانون حفظ الهمودالدي

$$\Delta K = \frac{h}{\lambda} = 93105 \text{ eV}$$

$$\Delta K = \frac{h}{\lambda} = 93105 \text{ eV}$$

$$\Delta K = 0.9 \text{ MeV}$$

$$\Delta K = (K_N + K_e) - K_{\text{نواة}}$$

$$\Delta K = (1.007 \times 2 + 1.008 \times 3) - 0.9$$

$$\Delta K = (2.014 + 3.024) - 0.9$$

$$\Delta K = 4.038 - 0.9$$

$$\Delta K = \frac{h}{\lambda} = 93105 \text{ eV}$$

$$\frac{93105 \times 0.6}{\lambda} = \frac{h}{\lambda}$$

$$\frac{93105 \times 0.6}{\lambda} = \frac{h}{\lambda} = 0.9 \text{ MeV} / \text{نيوكلينوت}$$

الأستاذة عمار السطود
ماجستير فيزياء
0787255846

الطبيعة	الشحنة	الكتلة	القدرة على النفاذ	السرعة	القدرة على التأثير
إلfa	جسيمات موجبة	He	قليلة	قليلة	كبيرة
بيتا	جسيمات موجبة أو سالبة	تساوي كتلة إلكترونات وبتا	أكثر	كبيرة	متوسطة

الأستاذة عمارة السجود
ماجستير فيزياء
0787255846

$$\frac{9310 \Delta \text{ك}}{A} = \frac{Ag \text{ ح}}{A}$$

$$\Delta \text{ك} = (W \text{ك} + Z \text{ك}) - \text{ك} \text{نواة}$$

$$\Delta \text{ك} = (1.007 + 1.008) - (1.007 + 1.008)$$

$$\Delta \text{ك} = 0.000 \text{ ك. د.}$$

$$\frac{9310 \Delta \text{ك}}{1.007} = \frac{Ag \text{ ح}}{A}$$

$$1.007 \Delta \text{ك} / \text{MeV} = \frac{Ag \text{ ح}}{A}$$

$$\frac{9310 \Delta \text{ك}}{A} = \frac{0 \text{ ح}}{A}$$

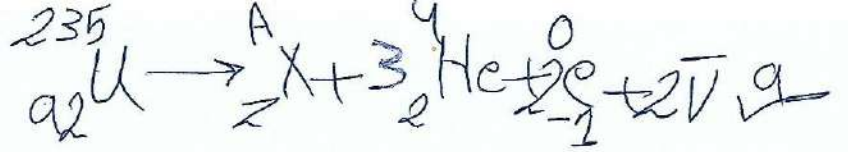
$$\Delta \text{ك} = (1.007 + 1.008) - (1.007 + 1.008)$$

$$\Delta \text{ك} = 0.000 \text{ ك. د.}$$

$$\frac{9310 \Delta \text{ك}}{17} = \frac{0 \text{ ح}}{A}$$

$$17 \Delta \text{ك} / \text{MeV} = \frac{0 \text{ ح}}{A}$$

إذا نواة كتلة الأ كسجين هي الأكثر



$$\cancel{92} + A = \cancel{230} + \cancel{12}$$

$$A = 12$$

$$\cancel{92} - \cancel{12} + Z = 92$$

$$\cancel{80} + Z = 92$$

$$Z = 12$$

الاستاذ: عمار السكور
ماجستير فيزياء

0787255846

كمات - مادبا