

# عزائي الطلبة

لقد أرسلت هذه جرداً وموقفاً وساملاً

ومكتفه لمادة الكيمياء العلمي  
المستوى الثالث . (للحصول على المنهاج)  
أخرون على جملها . عبيدك

وإنكم من أهل الإصبات  
بالتوقف والنجاح

فحسبكم الأستاذ  
محمد علي السدياتي  
0786976492  
، ٧٨٦٩٧٦٤٩٢

\* أسئلة متوقعة على وحدة سرعة التفاعلات الكيميائية \*

الأستاذ محمد بن سنيان

٧٨٦٩٧٦٤٩٢

السؤال الأول :- في التفاعل الآتي :-



أذا علمت أنه عند مضاعفة  $[A]$  ٣ مرات و  $[B]$  ٣ مرات  
تضاعفت السرعة ٩ مرات، وعند مضاعفة  $[A]$  ٣ مرات  
و  $[B]$  ٩ مرات تضاعفت السرعة ٧ ٢ مرة.

أوجوب ما يلي :-

١ رتبة A ورتبة B ٢ اكتب قانون السرعة للتفاعل.

٣ العلاقة بين معدل سرعة استهلاك A ومعدل سرعة استهلاك B بدلالة التركيز.

السؤال الثاني :- عند تفاعل A مع B وهو أن عند مضاعفة

تركيز A ٤ مرات و B ثابت تضاعفت السرعة ١٦ مرة  
أوجد رتبة A ورتبة B حيث  $k = C \text{ لتر}^2 / \text{مول}^2 \cdot \text{ث}$

السؤال الثالث :- في التفاعل  $3A + B \rightarrow 2C$  إذا كان عدد مولات A = ٣ مول

وعدد مولات B = ١ مول فإزا أضيف إلى وعاء التفاعل ٩ مول  
من A تضاعفت السرعة ١٦ مرة (أهل الدرس في الحجم) وفي تجربة أخرى  
عند إضافة ٩ مول A و ٣ مول B إلى وعاء التفاعل مع إضافة  
كمية من الماء زادت من حجم المحلول للمصنف تضاعفت السرعة ١٦ مرة

أوجوب ما يلي :- ١ رتبة A ورتبة B

٢ وحدة K

٣ معدل إنتاج C حيث معدل استهلاك A =  $\frac{3}{2} \text{ مول} / \text{ث}$

١

السؤال الرابع: اعتماداً على البيانات في الجدول المبين للتفاعل



- 1] إذا كان  $[A] = [B] = 1$  مول/لتر و  $k = 1$  ث<sup>-1</sup> أو سرعة التفاعل
- 2] أو درجة حرارة وقيمة  $k$
- 3] إذا نقص حجم وعاء التفاعل إلى النصف في تجربة 2 أو سرعة التفاعل
- 4] إذا زاد الضغط بقرار  $k$  أضعاف على وعاء التفاعل أو بقرار تضاعف السرعة.
- 5] ما عدد مولات C الناتجة من تفاعل 8 مول من A.

رقم التجربة	[A]	[B]	سرعة التفاعل مول/لتر.ث
1	1	1	1
2	1	2	2
3	3	1	3
4	4	1	4

6] ما معدل استهلاك A في التجربة رقم 1.

السؤال الخامس: اعتماداً على البيانات في الجدول المبين للتفاعل

$$2A + 2B \rightarrow C$$

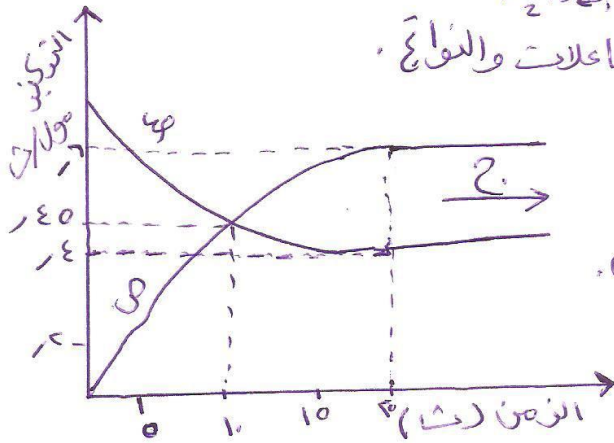
رقم التجربة	[A]	[B]	سرعة التفاعل A
1	4	8	1
2	8	8	2
3	4	4	3

- 1] رتبة A ورتبة B
- 2] معدل سرعة تكون C في تجربة رقم واحد
- 3] إذا كان معدل سرعة تكون C = 4 مول/لتر.ث خلال 2 ث أو هو مقدار النقص في [B] خلال نفس الفترة.
- 4] أو درجة حرارة K ومع الوجود.

أعمل التحيات والسلام  
الأستاذ  
محمد بن  
محمد بن

**السؤال السادس** :- يمثل الشكل المحاور تخمين تر اكير المتفاعلة والناتجة

مع الزمن للتفاعل  $A_2 + B_2 \rightarrow 2AB$  ارضه جيداً وأجب عما يلي :-



١ ما رمز المحتوى الذي يمثل التغير في تركيز  $A_2 + B_2$

٢ ما هو الزمن الذي تتساوى عنده تركيز المتفاعلات والنواتج

٣ ما قيمة زمن الإلتزان

٤ ما هو زمن تساوي السرعات للتفاعل

٥ ماذا يحدث لسرعة التفاعل إذا مضى قبل الإلتزان

٦ ما قيمة  $[AB]$  عند الإلتزان

٧ ماذا يحدث لتركيز  $A_2 + B_2$  في الفترة

من صفر ← ١٠ (تقل / تزداد / ثابتة)

٨ ماذا يحدث لسرعة تكون  $AB$  قبل الوصول لزمن الإلتزان

٩ ماذا يمثل الزمن ح

١٠ ما أثر إضافة العامل المساعد على وضع الإلتزان

٧٨٦٩٧٦٤٩٢

**السؤال السابع** :- في التفاعل الإلتزالي  $X \rightleftharpoons Y$  و  $K = 0.5$

- لطاقة وضع المواد الناتجة = ١٠٠

- التغير في المحتوى الحراري = ١٢٠

- طاقة تنشيط التفاعل الأمامي بدون عامل مساعد = ١٦٥

- مقدار الانخفاض في طاقة تنشيط التفاعل العكسي عند استخدام عامل مساعد = ٢٥  
أجب عما يلي :-

١ ما مقدار طاقة تنشيط التفاعل العكسي عند استخدام عامل مساعد

٢ ما مقدار طاقة وضع المواد المتفاعلة

٣ ارضه رسمه توضحه لسير التفاعل

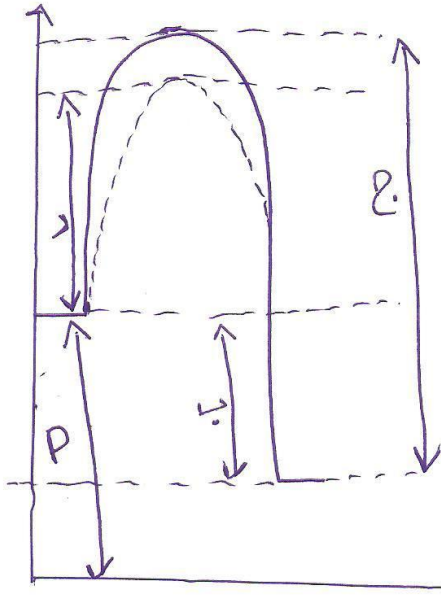
٤ ما قيمة طاقة التنشيط بدون استخدام عامل مساعد

٥ ما أثر الحرارة على طاقة التنشيط

٦ وضع كيف يعمل العامل المساعد على زيادة سرعة التفاعل

وقفتهم بكل خير  
الأستاذة هبة هادي

السؤال الثاني :- يمثل الشكل المجاور مخطى طاقة الوضع خلال سير تفاعل ارس لسلك  
 واجاب عليه :-



- ١ ما قيمة طاقة وضع المواد الناتجة ؟
- ٢ ما قيمة  $\Delta H$  للتفاعل وضع الإشارة ؟
- ٣ ما قيمة طاقة تنشيط التفاعل الأمامي دون عامل مساعد ؟
- ٤ ما قيمة طاقة تنشيط التفاعل العكسي مع عامل مساعد ؟
- ٥ ما قيمة طاقة التنشيط مع عامل مساعد ؟
- ٦ أليها أسرع التفاعل الأمامي أم العكسي ؟
- ٧ ما مقدار الانخفاض في طاقة تنشيط التفاعل العكسي عند استخدام عامل مساعد ؟
- ٨ ارسم المخطط المنسبط للتفاعل



من طيات الغلا سحر الليالي

\* أسئلة متوقعة على وحدة الحموض والقواعد \*

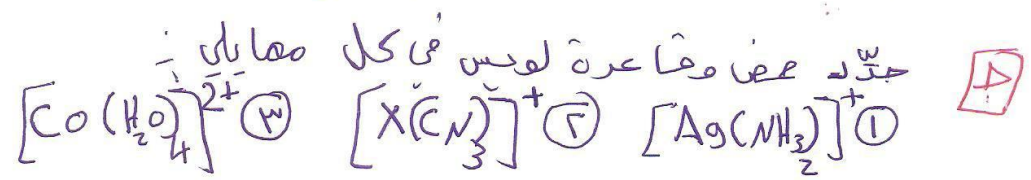
مطهر زكريا  
٧٨٦٩٧٦٤٩٢

السؤال الأول: ادر من الجدول الآتي جيداً الذي يمثل تفاعلات لمحاليل الحموض  
المصنفة الآتية: HA / HB / HC / HD / HE / HR و يجب عليك:

المعادلات	الجهة التي يوجهها التوازن
$HA + R^- \rightleftharpoons HR + A^-$	التفاعل المتساوي
$HD + E^- \rightleftharpoons HE + D^-$	$\longleftrightarrow$
$HB + HC^- \rightleftharpoons H_2C + B^-$	جهة المتفاعلات
$HD + HC^- \rightleftharpoons H_2C + D^-$	جهة اليمين
$HA + E^- \rightleftharpoons HE + A^-$	جهة التفاعل

- ١ ما صيغة الحمض الأضعف؟
- ٢ ما صيغة القاعدة المترافقة التي تمتلك صحتها أقل pH؟
- ٣ ما صيغة الحمض الذي له قدرة عالية على إيصال التيار الكهربائي؟
- ٤ ما صيغة الحمض الأضعف تماماً في الماء؟
- ٥ أي الأيونات لها أعلى [OH<sup>-</sup>] أم HC<sup>-</sup>؟
- ٦ أيهما أقوى كقاعدة D<sup>-</sup> أم R<sup>-</sup>؟
- ٧ أيهما أقل pH الملح KB أم الملح KE؟

احس عدد صالات هيدروكسيد الكالسيوم Ca(OH)<sub>2</sub> اللازم لإزالتها في الماء لتكوين محلول حمض [التر حسب pH للمحلول = 12]



لا بأس مع إجابتي

السؤال الثاني :- بين الجدول التالي محاليل مائية لتخوض وتفاعلات مع عند نفس التركيز المولاري  
ومعلومات عنها ارسس الجدول واجب عن الأسئلة :-

المعلومات	المحلول
$7 \times 10^{-5} = [NO_2^-]$	$HNO_2$
$3 \times 10^{-4} = [H_3O^+]$	$HCN$
$3 \times 10^{-4} = [OH^-]$	$N_2H_4$
$1 \times 10^{-8} = K_a$	$CH_3COOH$
$1 \times 10^{-8} = K_b$	$NH_3$
$\Lambda = PH$	$KX$
$1 \times 10^{-3} = [OH^-]$	$KY$

- 1 ما قيمة الحمض المرافق الأقوى ؟
- 2 احسب pH لمحلول الحمض  $H_2CN$  (لوع = 6)
- 3 ما قيمة الحمض الأضعف ؟
- 4 أي المالحين له حلولة أعلى  $[H_3O^+]$  أم  $KX$  ؟
- 5 احسب  $K_b$  للقاعدة  $N_2H_4$
- 6 اكتب معادله تفاعل المالح  $KY$  مع الحمض  $CH_3COOH$
- 7 عند تفاعل الحمض  $HNO_2$  والقاعدة  $NaCN$  (P حدد الأزواج المترافقة من الحمض والقاعدة ب) حدد اجهه التي يوجهها البرتون

ما المقصود بها يلي :-  
1 التآين الذاتي للماء 2 قاعرة أرهينوس 3 التآينه

رتب المواد الآتية حسب تزايد pH لمحاليلها :-  
 $NaNO_3$  /  $KOH$  /  $N_2H_5Cl$  /  $HCl$  /  $CH_3COOK$   
د ما طبيعة تأثير المالح  $NaH_2PO_4$  عند إذابته في الماء .

السؤال الثالث :- P أوجد صيغة الأيون المشترك في الأزواج الآتية :-  
( $HCOOK$  /  $HCOOH$ ) ، ( $H_2CO_3$  /  $KHCO_3$ ) ، ( $CaCl_2$  /  $Ca$ ) ، ( $KOCl$  /  $HCl$ )

أيا من الأزواج الآتية يصنع كمحلول متعادل :-

( $NaCN$  /  $HCl$ ) ، ( $MgSO_4$  /  $H_2SO_4$ ) ، ( $KCl$  /  $HCl$ )

اكتب معادله تحمض  $N_2H_5Cl$  مستخدماً  $N_2H_4$  وماء بوزم  
من مواد غير عضوية .

أي المواد الآتية تعتبر حمض لويس فقط :-  
 $NH_3$  /  $B(OH)_3$  /  $HCl$  /  $HCO_3^-$

7

السؤال الثالث  
P مطلق البرتون

السؤال الرابع: محلول منظم يتكون من الكيف  $H_2$  و الملح  $KHS$  اذ اعلنت  
 أن تركيز الملح أربعة أضعاف تركيز الكيف وفيه  $pH$  للمحلول = 0  
 أجب عما يلي:

1) صيغة الأيون المشترك .

2) احسب  $K_a$  للكيف .

3) احسب تركيز الملح الابتدائي بعد إضافة 0.5 مول من  $Be(OH)_2$  إلى

الترصن المحلول لتصبح فيه  $pH = 4$  ، ( لو  $4 = 7$  )

السؤال الخامس: محلول منظم من القاعدة  $N_2H_4$  والملح  $N_2H_5Br$   
 حيث تركيز القاعدة = 0.4 مول/لتر وتركيز الملح = 0.2  
 ( لو  $7 = 11$  ) ( لو  $9 = 7$  )

1) صيغة الأيون المشترك

2) احسب  $pH$  للمحلول

3) احسب كتلة  $HCl$  الواجب إضافتها للمحلول لتتغير فيه  $pH$  بمقدار

يساوي 3. حيث ( كتلة = لتر × م. ك. م )  
 $HCl$  م. ك. م = 36.5 جم/مول

السؤال السادس: محلول صفيف  $HX$  تركيزه 0.2 مول/لتر وحجمه 0.1 لتر  
 تم إضافة كمية من محلول الملح  $NaX$  الذي تركيزه 0.4 مول/لتر  
 إليه فأصبح حجم المحلول 0.4 لتر .

أ) احسب  $K_a$  للكيف حيث  $[OH^-] = 2 \times 10^{-6}$  مول/لتر .

ب) احسب  $[H_3O^+]$  بعد إضافة 0.1 مول/لتر من الكيف  $HCl$   
 للمحلول .

ج) ما أثر إضافة الملح  $NaX$  على فيه  $[H_3O^+]$  .





١٥ أسئلة صيغة على وجه الأكسدة والاختزال (١٥)   
 P-مجموعتي سن ١٤١٤ هـ  
 ١٧٦٩٧-٦٩٢

السؤال الأول :- عند تكوين خلية غلفانية من القطب R وحللول أملاح مركزية أملاح والقطب الآخر يتكون من واحد من العناصر الآتية مع محاليل أملاحها بتركيز ١ مولا/لتر (A / B / C / D / E) تم الحصول على المعلومات الموضحة في الجدول. أجب عن الأسئلة التي تليه :- (حجته العنصر = ٢ + )

٢٦٩٧٦٩٢  
 ٠٧٨٦٩٧٦٩٢  
 ٠٧٨٦٩٧٦٩٢

عدد الخلية الكهروكيميائية	معلومات	أقطاب الخلية الغلفانية
١ / ٦٨	تزداد كتلة القطب A	R / A
١ / ٤٢	يقول تركيز الأيونات الموجبة في R	R / B
١ / ٢	ينتقل من القطب الموجبة أيون $Cl^-$ لواء R	R / C
١ / ٨	يستطيع d استخلاص العنصر R من مركباته	R / d
١ / ٨	لا يمكن حفظ أيونات $R^{2+}$ في محلول E	R / E

- ١ هل يستطيع العنصر E تزيح ذرات العنصر A من محاليله؟
- ٢ ما صيغة أضعف عامل مؤكسد
- ٣ ما صيغة أقوى عامل مختزل
- ٤ حدد المحصر في خلية غلفانية تتكون من القطب C والقطب A.
- ٥ هل يمكن حفظ أيونات D في محلول E.
- ٦ هل يستطيع B اختزال E؟
- ٧ اكتب المعادلة الكلية في خلية غلفانية تتكون من C و D.
- ٨ حدد فلزتين يتكون خلية غلفانية لها أقل قوة جهد.
- ٩ حدد اتجاه مؤشر الفولتميتر في خلية غلفانية تتكون من C / E.

٩

السؤال الثاني : ادرس المعلومات فيما كبرول الأتي جيداً وأجب عن الأسئلة التي يليه

أنصاف تفاعل	قيم جهد القطب
$A_2 + 2e^- \rightarrow 2A^-$	1,36
$B^{2+} + 2e^- \rightarrow B$	1,34
$C^{2+} + 2e^- \rightarrow C$	1,76
$D^{2+} + 2e^- \rightarrow D$	1,33
$E^{+3} + 3e^- \rightarrow E$	1,77

- ملاحظات :-
- 1 لا يذوب العنصر B في الكحول HCl
  - 2 يتأكسد العنصر E عند وضعه في الكحول HCl
  - 3 عياله غلغايه تتكون من D و H مثل كغله D
  - 4  $A_2$  عامل مؤكسد أقوى من  $B^{2+}$
  - 5 هل يمكن حفظ  $C^{2+}$  في وعاء من B

- 1 رتب الكوار حسب قوتها كعوامل مختزلة
- 2 اكتب هك غلغله لغلغايه تتكون من القطين C / D
- 3 حدد الهبط في غلغله تتكون من B / E
- 4 ما زا جدت لتراكيز  $C^{2+}$  في غلغله من القطين B / C
- 5 هل يستطيع  $D^{2+}$  أكسدة E ؟
- 6 هل يمكن حفظ العنصر B في وعاء بيوتري المحلول  $DSO_4$  ؟
- 7 هل يستطيع العنصر B تحمير العنصر C من خاصاته ؟
- 8 في غلغله كليل كهرباي لهلول  $MgA_2$  اكتب معادله التفاعل كامل عنرا كصحة
- 9 حدد قلندي لغلغله غلغايه لها أعله قرة كهدر
- 10 اكتب المعادله الكليه في غلغله غلغايه تتكون من قطب C وقطب الألفار فيما كبرول

ب) اكتب معادله الهبط في غلغله طلاة قطعة حديد بطلقة من الذهب  $Au$  (  $Au$  يكون أوفن شائفاً )

4) اكتب معادله التفاعل عند وضعه في غلغله كليل لهلول  $MgCl_2$

1.

السؤال الثالث: من خلال المعلومات الإفتراضية (A, B, C, R) للفلزات  
 أجب عما يليها من أسئلة: (تكون الفلزات أيونات ثنائية موجبة).

\* في خلية غلفانية تتكون من القطب A والقطب B فإن B يتأكسد

\* الفلز A يستطيع خفض العنصر C من مركباته

\* في خلية غلفانية تتكون من R و B فإن B يزداد كتلته

\* عند وضع الفلز C في المحلول فإن الفلز يتأكسد كل

P

1 حديد أضعف حاصل مؤكسد.

2 حديدان لعل خلية غلفانية لها أقطاب Fe و Cu

3 هل يستطيع R إظهار غاز الهيدروجين من مركباته

4 هل يحدث التفاعل الآتي تلقائياً:  $A^{2+} + B \rightarrow A + B^{2+}$

5 وضع اتجاه حركة الإلكترونات في خلية غلفانية تتكون من الأقطاب B, R

6 بين حركة الأيون السالب في القطر الكهربائي كخلية غلفانية قطباها B, C

7 ماذا يحدث لكتلة القطب C في خلية غلفانية قطباها C

وقطب الهيدروجين المعيارى

8 اكتب معادلة التفاعل في خلية غلفانية قطباها A, R

9 هل يذوب الفلز B في المحلول HCl

10 ما إشارة قيمة  $E^{\circ}$  لتصف التفاعل الآتي  $B^{2+} + 2e \rightarrow B$

11 اكتب معادلة التفاعل في خلية كلفن كهربايى لإنتاج  $H_2$  من الألكتروليت

12 ارسم خلية غلفانية تتكون من قطب الهيدروجين المعيارى

وقطب الخاس A وبين على الرسم جميع المعلومات الممكنة  
 (  $E^{\circ}_{Cu} = 0.34$  فولت )

13 عدل: لا يمكن استخلاص الألمنيوم من محلوله بالتحليل الكهربائى

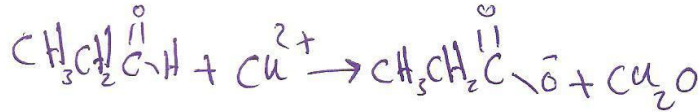
السؤال الرابع: وازن المعادلات الآتية في وسط ما عدى حدد العامل المختزل.



Ⓟ



Ⓛ



Ⓡ



Ⓣ

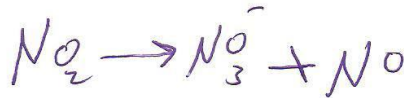
السؤال الخامس: وازن المعادلات الآتية في وسط ما عدى حدد العامل المؤكسد.



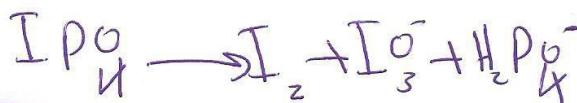
Ⓟ



Ⓛ



Ⓡ



Ⓣ

السؤال السادس: وضع المقصود بهما :-

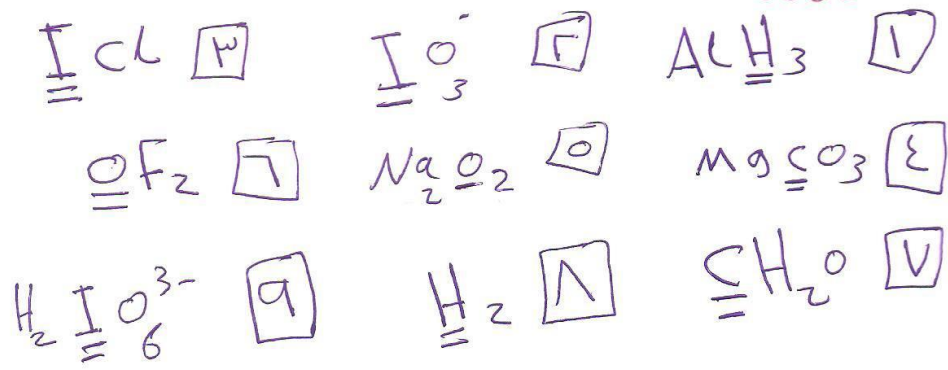
Ⓟ عامل مؤكسد

Ⓛ تفاعل تأكسد واختزال زائدي.

Ⓡ التأكسد

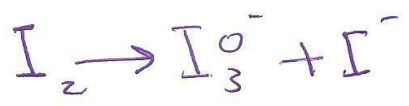
بالهدية والأهدى والتوكيل  
بأبني النضاح

السؤال السابع :- أوجد عدد تأكسد العنصر الذي تحته خط في



السؤال الثامن :-

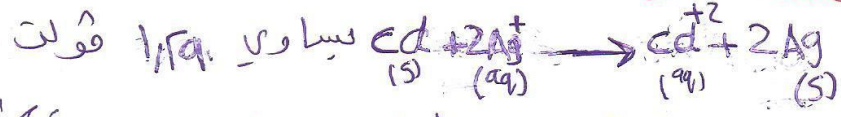
[P] صاعد الإلكترونات المستقلة في التفاعل التالي :-



[ج] وفي لهما التفاعل في فرع تفاعل تأكسد واختزال لاري :-  
(P)

[د] عدد تبادل التراكيب دورياً في خلية استخلاص الزئبق :-

السؤال التاسع :- اذ اعلمت ان قيمه جهد اكلية للتفاعل التالي :-



حيث تركيز أيونات  $\text{Ag}^+$  = ٨ م. فولت  $E^\circ$  ،  $E^\circ$  = -٤ م. فولت (مفوت)  
 $\text{Cd}^{2+}$  (مفوت)  $E^\circ$  = ٨ م. فولت  $E^\circ$  ،  $E^\circ$  = -٤ م. فولت (مفوت)

(اعتبر  $0.092 \text{ ر} = 0.7 \text{ ر}$ )

[١٣]

١- مصطفى سنياني  
0786976492

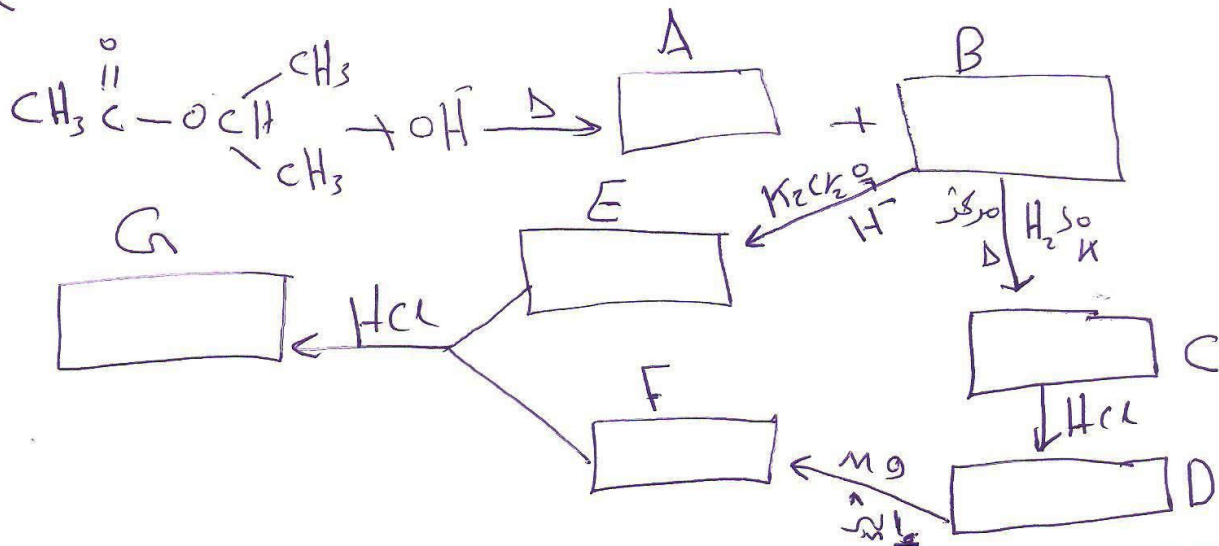
أسئلة متنوعة على وحدة الكيمياء العضوية \*

السؤال الأول: أكمل المعادلات الآتية بتباين الناتج المطلوب فقط


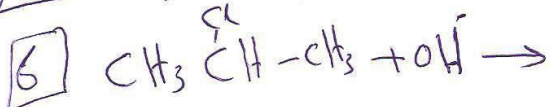
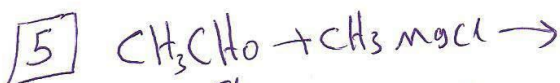
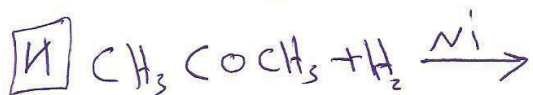
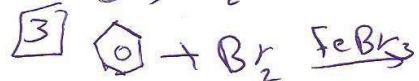
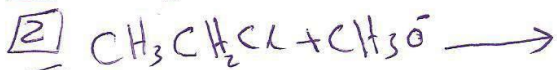
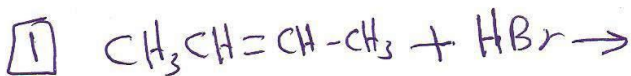
- 1  $CH_3CH_2CHCH_2 + HCl \rightarrow$
- 2  $CH_3CH_2CH_2Br + KOH \rightarrow$
- 3  $CH_3 - \overset{Cl}{\underset{H}{|}{C}} - CH_3 + OH^- \xrightarrow{\Delta}$
- 4  $CH_3CH_3 + Br_2 \xrightarrow{ضوء}$
- 5  $CH_3CH_2OH \xrightarrow[\Delta/مرکز]{H_2SO_4}$
- 6  $C_6H_6 + Cl_2 \xrightarrow{FeCl_3}$
- 7  $\text{بنزين} + Cl_2 \xrightarrow{FeCl_3}$
- 8  $CH_3CH_2 - \overset{OH}{|}{CH} - CH_3 \xrightarrow[\Delta/مرکز]{H_2SO_4}$
- 9  $CH_3CH_2 - \overset{OH}{|}{CH} - CH_3 + HBr \rightarrow$
- 10  $CH_3CH_2Br + CH_3 - \overset{CH_3}{\underset{CH_3}{|}{C}} - O^- \rightarrow$
- 11  $CH_3 - \overset{O}{||}{C} - OH + CH_3CH_2OH \xrightarrow{H^+}$
- 12  $CH_3COOH + CH_3 - \overset{OH}{|}{CH} - CH_3 \xrightarrow{H^+}$
- 13  $CH_3 - \overset{O}{||}{C} - O - \overset{CH_3}{|}{CH} - CH_3 + NaOH \xrightarrow{\Delta}$
- 14  $CH_2=O \xrightarrow{K_2Cr_2O_7} \xrightarrow{H^+}$
- 15  $CH_3CHO \xrightarrow{K_2Cr_2O_7} \xrightarrow{H^+}$
- 16  $CH_3CH_2OH \xrightarrow{K_2Cr_2O_7} \xrightarrow{H^+}$
- 17  $CH_3 - \overset{O}{||}{C} - CH_3 \xrightarrow{LiAlH_4}$
- 18  $CH_3COOH + NaOH \rightarrow$
- 19  $CH_3COOH + NaHCO_3 \rightarrow$
- 20  $CH_3COOH + NH_3 \xrightarrow{\Delta}$
- 21  $CH_3CHO + CH_3 - \overset{CH_3}{|}{CH} - MgCl \xrightarrow{HCl}$
- 22  $CH_3CHO + CH_3 - \overset{CH_3}{|}{CH} - MgCl \xrightarrow{HCl}$

الاستاذ: محمد بن مسعود العتيبي  
0786976492

السؤال الثاني :- لديك المخطط الآتي الذي يمثل سلسلة من تفاعلات مركبات عضوية أو جزيئات المركبات (G, F, D, C, B, A)



السؤال الثالث :- حدد نوع التفاعلات الآتية بعد تحليلها :-  
 1) استبدال الكرومات / استبدال نيوكليوفيل / إضافة الكرومات  
 2) إضافة نيوكليوفيل / حذف / تأكسد / اختزال



8) في تفاعل الآتي :-



حدد :- \* مصدر الهيدروجين في  $\text{H}_2\text{O}$  الناتج.



السؤال الرابع - ارسم الجداول التي الذي يمثل سبع ريفن المركبات المسار  
 في الجواب الأرقام من ١ إلى ١٣ وأجب عن الأسئلة التي تليها:

① $\text{CH}_3\text{COOCH}_3$	⑤ $\text{CH}_2=\text{CH}_2$	③ $\text{CH}_3\text{OH}$
④ $\text{CH}_3\text{COOH}$	⑥ $\text{CH}_3\text{CHO}$	⑦ $\text{C}_2\text{H}_4$
⑦ $\text{CH}_3\text{CH}_2\text{Cl}$	⑧ $\text{CH}_3\text{COCH}_3$	⑨ $\text{CH}_3\text{CH}_2\text{OCH}_3$
⑩ $\text{CH}_3\text{C}(=\text{O})\text{NH}_2$	⑪ $\text{CH}_3\text{NH}_2$	⑬ $\text{CH}_3\text{O}^-$

اختر من الجدول ما يلي:

١. يذبل لوليترا الكذاب في  $\text{CCl}_4$
٢. ينتج من تفاعل مركب رقم ١٣ مع مركب رقم ٧.
٣. لا يوجد جبهة أقل من ٣ ذرات كربون.
٤. يفر جناحياً بدرجة  $\text{C}=\text{O}$  يوجد عامل مساعد وحرارة وضغط.
٥. ينتج من تفاعل المركب رقم ٤ مع  $\text{NH}_3$  وتسخين الناتج.
٦. يكون مرآة فضية عند تفاعله مع محلول تولنز.
٧. يتفاعل مع  $\text{H}^+$  لتستخدم الناتج في صناعة البهاون.
٨. يتفاعل مع فلز الصوديوم لينتج المركب رقم ١٣.
٩. يطلق غاز  $\text{CO}_2$  عند تفاعله مع كربونات الصوديوم الهيدروجينية.
١٠. عند تفاعله مع المركب رقم ٤ ينتج المركب رقم ٨.

عوض المقهور بما يلي:

١. إضافة النترو فيلدة ② تفاعل الأستره.
٣. تفاعل التخبين.

السؤال الخامس P مركب عضوي يتكون من خمس ذرات كربون [A]

عند مفاعله مع فاعلة قوية ينتج المركبات المصنفة

B و C وعند مفاعلة C مع  $H_2O$  مع تسخين ينتج

المركب F وعند مفاعلة المركب C مع  $K_2Cr_2O_7$  بواسطة

مطي ينتج المركب E الذي يوجد بصورة لا تقل عن 3 ذرات كربون

أوجد صيغ المركبات A / B / C / F / E

ب) مركب عضوي صلب الكبريتيك  $C_3H_6O$  يتأكسد ليحول

تولتر عند مفاعله مع  $H_2$  بوجود النيكل ينتج المركب B الذي

يتفاعل مع HCl لينتج المركب C الذي يتفاعل مع  $CH_3O^-$

لينتج المركب D أوجد صيغ المركبات A / B / C / D

ج) مركب عضوي يتكون من ذرتي كربون عند مفاعله

مع Na ينتج المركب B وعند مفاعلة المركب A مع  $K_2Cr_2O_7$

لوسمطيها قد ينتج المركب C الذي يتفاعل مع التحوّل



لينتج مركب زورانيه عطرية صلبة

أو قد ينتج المركب D الذي يتفاعل مع  $CH_3NO_2$

لوجود مطي HCl لينتج المركب E

أوجد صيغ المركبات A / B / C / D / E

السؤال السادس: بين بالهجا ثلاث كيف تميز بين كل هاتين:



السؤال السابع: حضر صناعيا ما يلي:

الميثانول [P]

الميثانال [L]

الإيثانوليك [A]

الحياة تحتاج التحدي

## السؤال الثامن :-

١] صيداً بالمركب  $C_4H_8$  والمركب  $CH_3CH_3$  حضر محبباً  
 المركب  $CH_3CH_2-C(=O)NH_2$  مستخدماً ما يلزم من مواد غير عضوية

٢] حضر المركب  $C_3H_7-O-CH(CH_3)_2$  مستخدماً المركب  $CH_3CH_2CH_3$   
 وما يلزم من مواد أخرى غير عضوية ،

٣] باسخدام المركب  $H-C(=O)-O-C_2H_5$  حضر المركب  $CH_3COCH_3$  محبباً  
 مستخدماً ما يلزم من مواد غير عضوية مناسبة ،

٤] حضر المركب  $CH_3CH=CH_2$  مستخدماً المركب  $CH_3CH_2CH_2-C(OH)(CH_3)-CH_3$   
 وما يلزم من مواد غير عضوية مناسبة ،

٥] حضر المركب  $CH_3CH_2-C(=O)OH$  صيداً بالمركب  $CH_3C(=O)Cl$   
 مستخدماً ما يلزم من مواد غير عضوية مناسبة .

## السؤال التاسع :-

أ] عارن بين الأصبوز والأصبوكين والغلاليكوجين  
 من حيث :- الترابط الغلاليكوسيدي ، ووجود تفرعات .

ب] عارن بين السليلوز والأصبوز من حيث :-  
 نوع الترابط الغلاليكوسيدي ، نوع الوحدة البنائية

ج] عارن بين اللاكتوز والستروز من حيث :-  
 نوع الوحدة البنائية ، نوع الترابط الغلاليكوسيدي .

د] عارن بين اللاي غليسريد والستروز من حيث وحدة البناء الأولية ،

### السؤال الخامس: أوجد عدد مايلي :-

P عدد مولات الكحوض الدهنية الناتجة من تحليل مول واحد من ثلاثي غليسرايد .

جـ عدد جزيئات الماء الناتجة من احتراق 5 مولات كحوض أصينية .

د عدد الكحوض الأصينية التي ترتبط مع روابط أصيدية .

### السؤال السادس عشر:

P ماذا ينتج من تحليل مول ثلاثي غليسرايد؟

جـ ماذا تسمى الرابطة بين الوحدات البنائية للبروتين؟

د ماهو المركب الذي يشكل رعمة الهيكل البنائي؟

### السؤال الثاني عشر: علل :-

P إرتفاع درجة انصهار الكحوض الأصينية مع إرتفاعها في مركبات الدهنية كيميائية الأخرى .

جـ لا تذوب الدهون في الماء .

د لا تؤثر الكمية الغذائية لحفص سريع لنسبة الكوليسترول في الدم .

هـ يشكل السليلوز رعمة الهيكل البنائي .

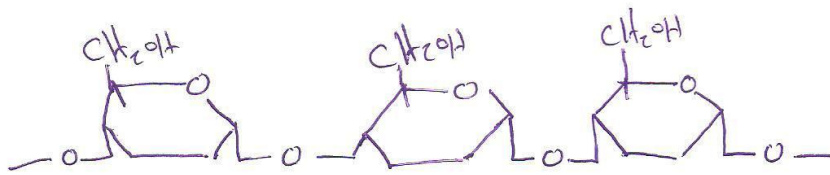
و تخزن الكوليسترول في الأنسجة الدهنية في الجسم .

ز يتأكسد الفركتوز لهحول تولتر

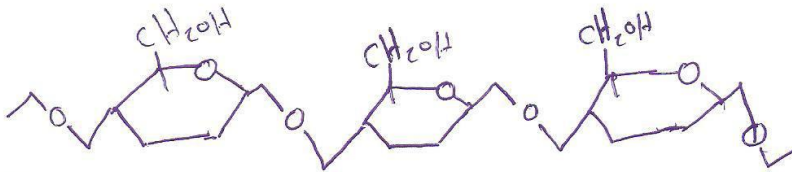
ح يعتبر جبر الجلوكوز سكر الخلد هايدري

ط على الرغم من قلته عدد الكحوض الأصينية إلا أنه يوجد أعداد كبيرة جداً من البروتينات .

السؤال الثالث عشر: سمي المركبات الأربعة وبين نوع الوحدة البنائية لكل منها.



P



Q

السؤال الرابع عشر: من خلال دراستك للصبغ الأزرق التي فصل صبغ مركبات عضوية هوية أجب عما يليها من أسئلة:

① $C_{18}H_{35}COOH$	② $CH_3-CH(NH_2)-C(=O)-OH$	③
④ $C_5(H_2O)_5$	⑤ $CH_2OH-CHOH-CH_2OH$	
⑥ $C_{18}H_{37}COOH$	⑦	⑧

P اختر:

- 1 يوجد على شكل أيون مزدوج [3] زيادة تؤدي إلى الجلطة الدهوية.
- 2 بعض دهني يشكل الزيت [8] بعض دهني مشبع
- 3 يتفاعل مع الكحول لكونه ثلاثي جلسريد [6] سكر الريبوز
- 4 عند ارتباط عدد منه يتكون سكر السيلوز [7]
- 5 يرتبط مع  $\alpha$ -غلوكوز ليكون سكر السكروز [8]
- 6 ترتبط هذه الوحدات مع بعضها بروابط بيبتيدية [9]

عند تفاعل مركب رقم 2 مع مركب رقم 7 ما هو المركب الناتج

21

السؤال الخامس عشر: بين الجدول الآتي عدداً من المواد كيميائية  
أخرى من الجدول صارة لها يلية .

غلوكوز	فركتوز	كوليسترول	حمض دهني	جليسريد	رايبوز
مالنوز	غلايكوجين	الأصلوبكتين	حمض أميني	سيليلوز	أصلوز

- 1 عدد المخزون الرئيسي للغلوكوز في جسم الإنسان
- 2 يعتبر سكر نحاسي
- 3 يوجد على شكل أيون منزعج
- 4 يتفاعل مع الكحول الدهنية مكوناً للاثي جليسريد
- 5 صليان يكونان النشا
- 6 يعتبر سكر كيتوني
- 7 يعتبر الوحدة البنائية للبروتينات
- 8 السكر الرئيسي في الدم
- 9 الترابط الغلايكوسيدي بين وحداته (B-1, E)
- 10 عدد من الأمثلة على البستريدات

انكم صبي الاماني الصارفة و الدعاء بالخير  
و اصياني لكم بالتمام والرفي و المعدا المرتفع  
ر و توكلوا و لا توالوا .

الاستاذ  
محمد علي سندياتي

٠٧٨٦٩٧٦٤٩٢