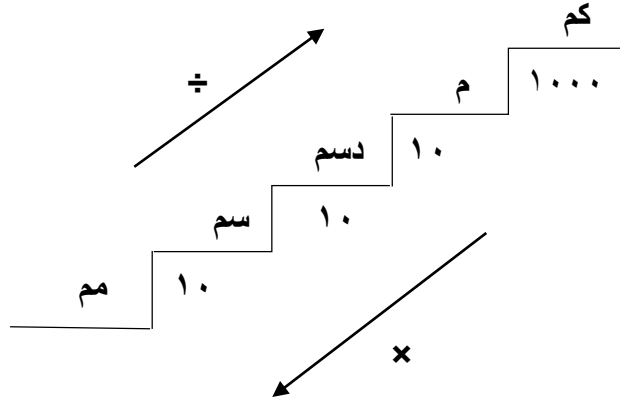


ورقة عمل توضيحية + تدريبيه

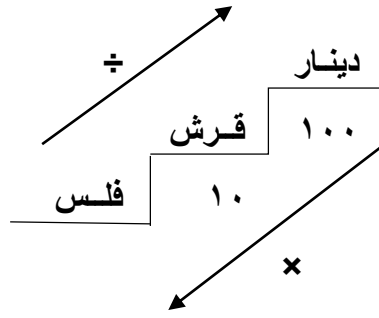
التحويلات



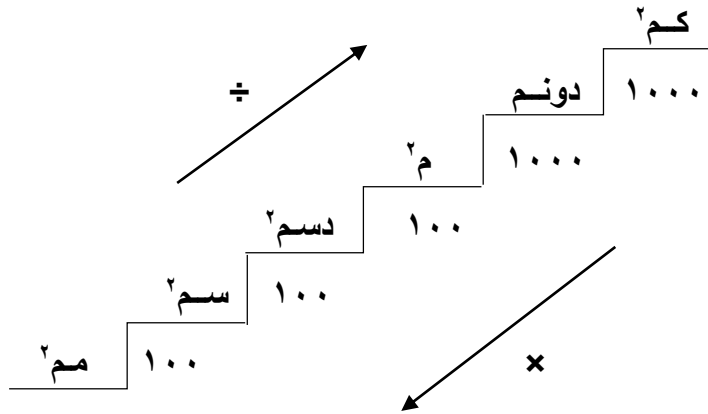
❖ أولاً :



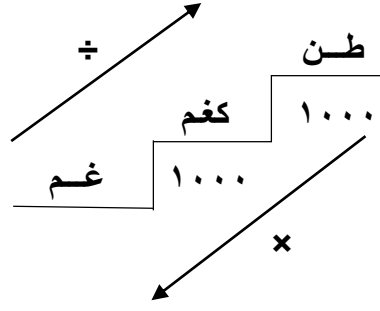
❖ ثانياً :



❖ ثالثاً :



❖ رابعاً :



سؤال : حول كل مما يلي الى الصوره المطلوبه :

١. ٤٥ م = كم

٢. ٧٦ مم = م

٣. ٥ كم = م

٤. ٢٧٥ قرش = دينار

٥. ٥٠٥ فلس = دينار

٦. ٢ طن = كغم

٧. ٣ كغم = غم

٨. ٥ كم^٢ = دونم

٩. ٤٥٠ م^٢ = دونم

إعداد المعلمه : ولاء الدويك .