

التاريخ : ٢٠١٨ / ١١ / ٢٠

مديرية التعليم الخاص
مدارس قرطبة الدولية



الزمن : ٢٥ دقيقة

الاسم : _____

الامتحان الشهري الثاني في مادة الحاسوب
للسف الثامن (أ ، ج ، د ، و)

** السؤال الأول: أذكر مزايا برنامج سكراتش؟ (٣ علامات)

١. _____ ٢. _____ ٣. _____

** السؤال الثاني: أكمل ما يلي وضع المصطلح المناسب؟ (١٣ علامات)

موقع الأوائل التعليمي

أضخم منصة عربية للتعليم الإلكتروني



١. هي عبارة عن مجموعة من الأوامر : _____

٢. هي عناصر قابلة للبرمجة : _____

٣. هناك اسم آخر للمقطع البرمجي يسمى _____

٤. هي الحيز الذي يدرج فيه الكائنات ويشاهد فيه المشروع _____

٥. هو التبويب الذي يتم من خلاله بناء اللبنة لعملية البرمجة _____

٦. تتكون منطقة الكائنات من جزأين هما أ. _____ ب. _____


٧. يظهر اسم التبويب في منطقة التحكم بإسم المظاهر عندما يكون _____


٨. يظهر اسم التبويب في منطقة التحكم بإسم الخلفيات عندما تكون _____


٩. تحتوي منطقة التحكم على جزء يسمى بيانات الكائن النشط وهي أ _____ ب _____ ج _____

١٠. ما اسم أو فائدة الخط الأزرق الذي يظهر على الكائن _____

** السؤال الثالث: أذكر اسم و وظيفة كل أداة مما يلي؟ (٤ علامات)

_____ : 

_____ : 

_____ : 

_____ : 

معلمة المادة : هبة الحلايقة

انتهت الأسئلة
مع تمنياتي لكم بالتوفيق