



الزمن : ٢٥ دقيقة

الاسم : _____

الامتحان الشهري الثاني في مادة الحاسوب
للسنة التاسعة (أ ، ج ، د ، و)

النموذج (١)

** السؤال الأول: أذكر فرقين بين الفلم والمشروع (بالنسبة للإمتداد ، وعملية التعديل) ؟ (٤ علامات)


- أ) الفلم : ١. _____ ٢. _____
ب) المشروع : ١. _____ ٢. _____

** السؤال الثاني: أكمل ما يلي ؟ (١٤ علامات)

١. أذكر أجزاء الشاشة الرئيسية لبرمجية Movie Maker ١. _____ ٢. _____ ٣. _____
٤. _____ ٥. _____ ٦. _____

موقع الأوائل التعليمي

أضخم منصة عربية للتعليم الإلكتروني





٢. هناك مسارات تظهر بالفترة الزمنية أذكرها ١. _____ ٢. _____ ٤. _____

٣. هناك امكانية اجراء عمليات تحرير مختلفة على مقطع الفيديو أ. _____
ب. _____
ج. _____

٤. يمكن الحصول على الوسائط للفلم بعدة طرق أ. _____ ب. _____
٥. ما اسم اللانحة لعمل ما يلي : أ. ويتم تقسيم الفيديو من لائحة : _____
ب. يتم دمج مقطعين من الفيديو: _____
ج. التقاط صور من لائحة : _____

٦. ما المقصود بكل مما يلي : أ) الفلم: _____
ب) الوسائط: _____

** السؤال الثاني: ما وظيفة كل اداة مما يلي في برنامج صانع الافلام ؟ (علامتان)

١. السهم الأحمر :  : _____ ٢.  : _____

انتهت الأسئلة

مع تمنياتي لكم بالتوفيق

معلمة المادة : هبة الحلايقة