

المراجعة المكثفة

النجوم فى الجغرافيا المنهاج الجديد

الفرع الادبي والفندقي

الدورة الشتوية ٢٠١٩

العلامة الكاملة ٧٥/٧٥

اعداد الاستاذ طارق القاسم

٠٧٩٦٠٩٠٥١٠

تدريبات على الاسئلة الموضوعية والخرائط

ترقبوا المتوقع الوزارى ليلة الامتحان

العلامة الكاملة ٧٥/٧٥

الوحدة الاولى (المناخ)الفصل الأول (الطقس والمناخ) :

- س ١: عرف ما يلي :
١. الطقس : حالة الجو بعناصر المختلفة خلال فترة زمنية قصيرة تبدأ بساعات وتنتهي في مدة أقصاها أسبوعان. (هام جدا جدا)
٢. المناخ : هو العلم الذي يدرس الظواهر الجوية لفترة زمنية طويلة بحسب موقع المكان على درجات العرض . هام جدا جدا
٣. درجة الحرارة : حالة تسخين المادة وشدتها، تؤدي زيادة الحرارة أو نقصانها الى رفع أو خفض درجة حرارة المادة .
٤. المدى الحراري اليومي : الفرق بين درجة الحرارة العظمى ودرجة الحرارة الصغرى خلال يوم واحد .
٥. المدى الحراري السنوي : الفرق بين درجة الحرارة اخر شهري تموز واب ، و اقل شهور حرارة كانون الاول وكانون الثاني .
٦. الضغط الجوي : وزن عمود الهواء الواقع على وحدة المساحة (١سم^٢) في أي منطقة على سطح الارض ، يمثل وزن عمود الهواء مجموع ضغط الغازات التي يتكون منها بنسب ثابتة .
٧. الرياح : حركة الهواء في الغلاف الجوي التي تندفع من مناطق الضغط الجوي المرتفع الى مناطق الضغط الجوي المنخفض ، نتيجة اختلاف قيم الضغط الجوي . (هام جدا جدا)
٨. التيارات البحرية : هي مسارات للمياه السطحية على شكل أنهار ضخمة تجري في البحار والمحيطات عرضها ما بين ٢٠٠ _ ٢٥٠ كم ، عندما تصل هذه التيارات الى سواحل القارات تؤثر في مناخ الجهات الساحلية . (هام جدا جدا)

س ٢: اذكر أوجه الاختلاف بين الطقس والمناخ ؟ (هام جدا جدا)

المناخ	الطقس
١. فترة زمنية <u>تطول</u> او <u>تقصر</u> حسب موقع المكان على درجات العرض	١. فترة <u>قصيرة</u> .
حالة عناصر المناخ أكثر <u>ثباتا</u> . فصول محدد في السنة	١. حالة عناصر الطقس <u>مؤقتة</u> تتغير باستمرار .
حالات المناخ أكثر <u>شمولية</u> للغلاف الجوي / مقياس <u>واسع</u> زماني ومكاني .	٣. حالات <u>تفصيلية</u> لعناصر الغلاف الجوي / مقياس <u>صغير</u> زماني ومكاني .

س ٣: اذكر تأثير الطقس والمناخ ؟

١. تؤثران في حياة الانسان الصحية وأنشطته وحياته / ٢. تؤثر على التوزيع الجغرافي للنباتات الطبيعية .
٣. تؤثر في تنوع أنماط استخدام الارض وكثافتها والتخطيط العمراني .

س ٤: اذكر عناصر المناخ الرئيسية ؟

١. درجة الحرارة / ٢. الضغط الجوي / ٣. الرياح / ٤. الامطار .

س ٥: اذكر أثر درجات الحرارة في المناخ ؟ (هام جدا جدا)

١. تؤثر في عناصر المناخ الاخرى مثل الضغط الجوي والرياح والتكاثف .
٢. تؤثر في نشاطات الانسان وخصائصه الفسيولوجية .
٣. تؤثر في الوظائف الحيوية للنبات (بناء الضوئي ، النتج ، نوع النبات توزعه كثافته) .
٤. تؤثر في عمليات التعرية المائية والريحية والجليدية في الغلاف الجوي .

س ٦: كيف تقاس درجة الحرارة ؟ ١. جهاز التيرمومتر / ٢. جهاز التيرموجراف . (هام جدا جدا)

*طريقة العمل : يوضع الجهاز في مكان محمي من تأثير أشعة الشمس مباشرة / يستخدم صندوق خشبي فيه فتحات من ثلاثة جهات تسمح بمرور الهواء ولا تسمح بدخول الاشعة الشمسية ، يوضع الصندوق بشكل مرتفع عن سطح الارض بنحو ٥، ١ حتى لا يتأثر بالإشعاع الارضي .

س ٧: أهم الانظمة لقياس درجة الحرارة ؟ (هام جدا جدا)

١. نظام الحرارة المنوي (سليسيوس) : نسبة لمخترعه السويدي سليسيوس جهاز يتكون من انبويه زجاجية مدرجة على الجانبين ، يوضع بداخلها سائل زئبق ، نظرا الى حساسيته عند ارتفاع درجات الحرارة او انخفاضها الصفر هو درجة التجمد / وتبلغ درجة الحرارة غليان الماء ١٠٠ درجة مئوية .

٢. نظام الحرارة الفهرنهايتي : اخترعه الالماني داييل فنهنايت / يقابل درجة الحرارة في الميزان المنوي صفر درجة ٣٢ في الميزان الفهرنهايت ، ودرجة الغليان ١٠٠ في الميزان المنوي يقابله ٢١٢ فهرنهايت .

س ٨: كيف يرتبط الضغط الجوي بدرجات الحرارة ؟

١. اذا كان الضغط الجوي منخفض تكون درجة الحرارة مرتفعة مثل المناطق الاستوائية .
٢. اذا كان الضغط الجوي مرتفع تكون درجة الحرارة منخفضة مثل المناطق القطبية .

س ٩: اذكر أهمية الضغط الجوي في الارصاد الجوية ؟

١. يوفر معلومات عن الهواء الموجود في الاعلى .
٢. انخفاض قيم الضغط في مكان ما دليل على ان الهواء يتوزع او يفقد من تلك المنطقة .
٣. ارتفاع قيم الضغط الجوي في منطقة اخرى دليل اضافة هواء من الاعلى .

* يقاس الضغط الجوي بوحدة مليبار: وهي الوحدة الديناميكية لقوة الضغط الواقعة على مساحة مقدارها ١ سم ٢ وتبلغ ١٠١٣ مليبار عند مستوى سطح البحر . (هام جدا جدا)

س ١٠: اذكر أهم أجهزة الضغط الجوي ؟ (هام جدا جدا)

١. جهاز البارومتر الزئبقي / ٢. البارومتر المعدني / ٣. جهاز البار وجراف .

س ١١: اذكر أشكال الضغط الجوي ؟

١. ضغط جوي مرتفع : هي كل منطقة من سطح الارض يتجاوز فيها الضغط الجوي أكثر من ١٠١٣ مليبار (H) مرتفع .
٢. ضغط جوي منخفض : هي كل منطقة من سطح الارض يقل فيها الضغط الجوي عن ١٠١٣ مليبار (L) منخفض .

س ١٢: اذكر توزيع نطاقات الضغط الجوي الرئيسية ؟ (هام جدا جدا)

الموقع	الضغط المنخفض الاستوائي	الضغط المرتفع المداري	الضغط المنخفض شبه القطبي	الضغط المرتفع القطبي
دائرتي عرض (٥) شمال وجنوب خط الاستواء	دائرتي عرض ٣٥_٢٥ شمال وجنوب خط الاستواء	دائرتي عرض ٤٥_٦٠ شمال وجنوب خط الاستواء	يقع بين القطبين الشمالي والجنوبي	
السبب	سبب الانخفاض الضغط الجوي : ١. ارتفاع درجة الحرارة . ٢. زيادة نسبة الرطوبة ٣. تتميز بهدوء الهواء لفترة طويلة يعيق حركة السفن .	سبب الارتفاع الضغط الجوي : * هبوط كتل هوائية قادمة من طبقات الجو العليا .	سبب الانخفاض الضغط الجوي *التقاء كتل هوائية مختلفة في خصائصها .	سبب الارتفاع الضغط الجوي : * انخفاض دائم في درجة الحرارة .

س ١٣: أجب عما يلي : (هام جدا جدا)

١. كون تعميم يوضح العلاقة بين الارتفاع عن سطح البحر ودرجة الحرارة ؟

*العلاقة عكسية : كلما زاد الارتفاع عن سطح البحر كلما انخفضت درجة الحرارة والعكس صحيح .

٢. كون تعميم يوضح العلاقة بين درجة الحرارة والضغط الجوي ؟

*العلاقة عكسية : كلما زادت درجة الحرارة قل الضغط الجوي ، اذا كان الجو حارا فان الضغط الجوي يقل نتيجة تباعد جزئيات الهواء مثل المناطق الاستوائية .

٣. كون تعميم يوضح العلاقة بين الضغط الجوي والارتفاع عن مستوى سطح البحر ؟

*العلاقة عكسية : كلما زاد الارتفاع عن مستوى سطح البحر قل الضغط ، وكلما قل الارتفاع عن مستوى البحر زاد الضغط الجوي .

س ١٤ : أعط أسباب ما يلي : (هام جدا جدا)

١. تعد الرياح أهم العناصر المناخية ؟
- أ.تقوم بنقل الطاقة من المناطق المدارية الى المناطق القطبية .
- ب.تقوم بنقل بخار الماء من المسطحات المائية الى اليابس تسقط الامطار والثلوج .
- ج.دورها في توزيع درجة الحرارة على سطح الارض .

٢.تستخدم الدرجات في تحديد اتجاه الرياح ؟

*لأنها تعطي صورة أدق على الاتجاهات الجغرافية حيث يمكن تحديد اتجاه الرياح على ٣٦٠ درجة .

س ١٥ : تكون حركة الرياح على شكلين اذكرهما ؟

- ١.راسية : رياح صاعدة في المنطقة الاستوائية الى طبقات الجو العليا ثم تهبط حول القطبين والمنطقة المدارية .
- ٢.افقية : في طبقات الجو العليا او على سطح الارض بسبب حركة الرياح من مناطق الضغط المرتفع الى مناطق الضغط المنخفض .

س ١٦ : اذكر اتجاهات الرياح الثمانية؟ هام جدا جدا

١.درجة الرياح ٩٠ رياح شرقية	١.درجة الرياح ٤٥ شمال شرق
٢.درجة الرياح ١٨٠ جنوبية	٢.درجة الرياح ١٣٥ جنوب شرق
٣.درجة الرياح ٢٧٠ غربية	٣.درجة الرياح ٢٢٥ جنوب غرب
٤.درجة الرياح ٣٦٠ شمالية	٤.درجة الرياح ٣١٥ شمال غرب

*معلومة هامة : تقاس سرعة الرياح بجهاز الانيموميتر ذو الفناجين / يقاس اتجاه الرياح دوارة الرياح .

س ١٧ : كون تعميم فيما يلي : (هام جدا جدا)

أ.بين سرعة الرياح واختلاف قيم الضغط الجوي بين منطقتين متجاورتين ؟
*العلاقة طردية : كلما زادت فوارق الاختلاف في قيم الضغط الجوي بين منطقتين متجاورتين زادت سرعة الرياح

ب.كون تعميم بين قوة الاحتكاك وخشونة سطح الارض ؟

*كلما زادت خشونة الارض زادت قوة الاحتكاك مثل التضاريس والاشجار مما يقلل سرعة الرياح .

ج. اختلاف الرياح من فصل لآخر ؟

*بسبب اختلاف في توزيع قيم الضغط الجوي .

س ١٨ : اذكر العوامل المؤثرة في الرياح ؟ (هام جدا جدا)

١. قوة تحدر الضغط : عندما تكون قيم الضغط الجوي غير متساوية بين منطقتين متجاورتين يصبح التحدر شديدا واذا كانت خطوط الضغط الجوي المتساوية متقاربة تزداد سرعة الرياح واذا كانت متباعدة تقل سرعة الرياح.

٢. القوة الكارولية (كور وليس) : القوة الناتجة عن اختلاف سرعة دوران الارض حول محورها ، تعمل هذه القوة على جعل الرياح تنحرف يمين اتجاهها في النصف الشمالي والى يسار اتجاهها في نصف الكرة الجنوبية . (هام جدا جدا)

٣. قوة الاحتكاك : اذا كان سطح الارض مستوي او ملساء تقل قوة الاحتكاك تزداد سرعة الرياح ، اذا كان سطح الارض خشن مثل التضاريس والاشجار تزداد قوة الاحتكاك تقل سرعة الرياح .

س ١٩ : اذكر انواع الرياح ؟ (هام جدا جدا)

نوع الرياح	مميزاتها	الامثلة
١.الرياح الدائمة	ترتبط بتوزيع مناطق الضغط الجوي الدائمة تؤدي الى تكون نطاق الدورة الهوائية العامة	الرياح القطبية الرياح التجارية الرياح الغربية العكسية
٢.الرياح الموسمية	تنشأ نتيجة اختلاف قيم الضغط الجوي بسبب وجود كتل يابسة بجوار كبيرة بجوار مسطحات مائية واسعة	جنوب شرق اسيا
٣.الرياح المحلية	تعمل على رفع درجة الحرارة تكون محملة بالأتربة والغبار / اضرار صحية للإنسان وتلف المحاصيل الزراعية.	الرياح الخماسين
٤.الرياح اليومية	١. نسيم البر والبحر بسبب اختلاف الحرارة بين اليابسة والماء ٢. نسيم الجبل والوادي بسبب اختلاف الحرارة بين الاودية والجبال	نسيم البر والبحر نسيم الجبل والوادي

س ٢٥: تقسم التيارات البحرية الى قسمين اذكرهما ؟ (هام جدا جدا)

تيار الخليج / تيار اليابان/تيار البرازيل تيار موزمبيق /تيار شرق استراليا/الاستوائي الغربي	السواحل الشرقية للقارات	١. التيارات البحرية الدافئة
تيار كناري / تيار البيرو/تيار غرب استراليا تيار كمشتكا /تيار بنجويلا	السواحل الغربية للقارات	٢. التيارات البحرية الباردة

س ٢٦: أذكر أهمية التيارات البحرية ؟ (هام جدا جدا)

١. زيادة بخار الماء وبالتالي زيادة الامطار .
٢. تشكل مناطق صيد للأسماك (فسر) بسبب التقاء التيارات البحرية الدافئة مع التيارات الباردة وذلك لغنى تلك المناطق بالعناصر الغذائية للأسماك مثل الطحالب والاعشاب البحرية وعوالق النبات والحيوان .

س ٢٧: كيف يؤثر الغطاء النباتي في المناخ ؟

- *المناطق التي يوجد فيها نباتات تكون درجة الحرارة معتدلة والمدى الحراري اليومي قليل .
- *المناطق الخالية من النبات مثل الصحاري يسخن سطح الارض بسرعة وعند حلول الليل يفقد حرارته بالإشعاع تنخفض درجة الحرارة بشكل كبير .

*معلومة : يتجه السكان للتنزه في غابات عجلون بسبب وجود الغطاء النباتي ودرجة الحرارة معتدلة .

س ٢٨: كيف تؤثر الكتل الهوائية على المناخ ؟

١. الكتل الهوائية الباردة تؤدي الى خفض درجة الحرارة مثل سواحل غرب كندا وامريكا وجنوب روسيا .
٢. الكتل الهوائية الدافئة تعمل على رفع درجة الحرارة .

الفصل الثاني : (نماذج الظواهر الجوية) :

س ١: عرف ما يلي :

١. التكاثف : تحول جزئيات بخار الماء في الهواء من الحالة الغازية الى الحالة السائلة ، او تحوله الى الحالة الصلبة ، نتيجة لانخفاض درجة حرارة الهواء الى ما دون درجة الندى .

٢. السحب : تجمع مرئي لبخار الماء على شكل قطرات مائية دقيقة في الغلاف الجوي ، تتكون السحب نتيجة وصول الهواء المحمل ببخار الماء الى درجة التشبع . (هام جدا جدا)

٣. الضباب : بخار ماء مرئي على شكل ذرات دقيقة من الماء ، يتكون نتيجة برودة الهواء وتكاثف بخار الماء على سطح الارض يؤدي الى تقليل مدى الرؤية . (هام جدا جدا)

٤. الندى : قطرات مائية تتكون أثناء الليل وفي ساعات صباح الباكر على أوراق الاشجار والحشائش عندما تنخفض درجة حرارتها أقل من درجة الندى وهي الدرجة التي يتم عندها تحول بخار الماء من الحالة الغازية الى الحالة السائلة فوق سطح الارض .

٥. الصقيع : تحول بخار الماء العالق بالهواء أثناء الليل الى بلورات صغيرة من الثلج فوق النباتات والاجسام الصلبة بسبب انخفاض درجة الحرارة الى ما دون درجة التجمد (الصفر المئوي) . (هام جدا جدا)

٦. البرد : كرات مستديرة الشكل من الماء المتجمدة بسبب التيارات الهوائية الصاعدة ، عندما يتكاثف بخار الماء يتحول الى بلورات صغيرة من الثلج في الطبقة العليا من السحابة عندما يزداد حجم البلورات الثلجية وتصبح التيارات الهوائية الصاعدة غير قادرة على حملها تسقط على الارض .

٧. الثلج : بلورات رقيقة مختلفة الشكل نتيجة تكاثف بخار وانخفاض درجة الحرارة الى ما دون الصفر ، يتكون الثلج عند تجمد بخار الماء في السحب على شكل بلورات جليدية سداسية وتكون القشور واهداب الريش الابيض.

٨. خط الثلج الدائم : الخط والارتفاع الذي يبقى عنده الثلج بصورة دائمة طوال السنة ، ارتفاعه من صفر على مستوى البحر في المناطق القطبية ، و ٥٠٠٠ م فوق سطح البحر في المنطفة الاستوائية .

٩. الجبهات الهوائية : منطقة تفصل بين الجبهتين الدافئة والباردة والتي تختلف في خصائصها من حيث درجة الحرارة ، نسبة الرطوبة ، الضغط الجوي . (هام جدا جدا)

١٠. المنخفض الجوي : منطقة مغلقة بخطوط ضغط متساوية ، تكون أقل قيمة للضغط الجوي في المركز وتزداد كلما ابتعدنا عن المركز يكون اتجاه الرياح حول المنخفض عكس عقارب الساعة في نصف الكرة الشمالي ، ومع عقارب الساعة في النصف الجنوبي يكون بين دائرتي ٣٥ _ ٦٥ شمال وجنوب في المناطق المعتدلة الدافئة الباردة . (هام جدا جدا)

١١. الاعاصير : عواصف هوائية حلزونية الشكل ، تنشأ فوق البحار الاستوائية في فصل الصيف والخريف تمتاز بعمقها وشدة اندحارها ، تدور الرياح بسرعة كبيرة ما بين ١٥٠ _ ٢٥٠ كلم في الساعة يطلق عليها العواصف الدوارة (فسر) لان الهواء يدور فيها بقوة كبيرة في منطقة ضيقة امطار غزيرة رعد والبرق . (هام جدا جدا)

س ٢ : اذكر اربع من نماذج الظواهر الجوية ؟

١. التكاثر ٢. التساقط ٣. الجبهات الهوائية ومنخفضات ٤. الاعاصير والظواهر المناخية المتطرفة .

س ٣ : شروط عملية التكاثر ؟

١. وجود هواء رطب مشبع ببخار الماء / ٢. أنوية يتجمع حولها البخار / ٣. انخفاض درجة الهواء الى ما دون درجة الندى .

س ٤ : أهمية التكاثر ؟

١. تكون ظواهر جوية (امطار ثلوج ، ضباب ندى صقيع) ٢. يعمل على رفع حرارة الغلاف الجوي .

س ٥ : اذكر أشكال التكاثر ؟ ١. السحب / ٢. الندى / ٣. الضباب / ٤. الصقيع .

س ٦ : اذكر أثر السحب على المناخ ؟

١. مصدر للأمطار والثلوج والبرد / ٢. يؤثر على الاشعاع الشمسي الارضي / ٣. يؤثر على حياة الانسان والحيوان والنبات .

س ٧ : مناطق انتشار السحب بالعالم ؟

١. المناطق الاستوائية بسبب التيارات الهوائية الصاعدة .
٢. شمال أوروبا وشمال المحيط الاطلسي (السحب متوسطة الارتفاع) .
*تقل السحب في المناطق الصحراوية / المناطق القطبية (فسر) قلة بخار الماء في الجو وانخفاض درجات الحرارة .

س ٨ : اذكر العوامل التي تساعد في تكون الضباب ؟ (هام جدا جدا)

١. صفاء الجو / ٢. توفر الرطوبة بالهواء / ٣. توفر كميات من أنوية التكاثر .

س ٩ : اذكر انواع الضباب ؟ (هام جدا جدا)

١. ضباب البر	قيعان الاودية وقم الجبال ، في فصل الخريف والشتاء عندما يكون سطح الارض باردا .
٢. ضباب البحر	عندما يمر هواء دافئ فوق سطح بارد (المناطق الساحلية) سواحل مراكش وتشيلي .
٣. ضباب الدخاني	المدن الصناعية ، نتيجة اتحاد الدخان مع الضباب ، لندن بيونس آيرس ، مكسيكو سيتي ، شنغهاي

س ١٠ : اذكر أهمية الندى ؟

١. مصدر لرطوبة التربة والنباتات في المناطق الجافة.
٢. يقلل من فقدان الماء للنبات والتربة (فسر) لأنه يبطن عملية التبخر والنتح لفترة من الوقت .

س ١١ : اذكر شروط تشكل الندى ؟ (هام جدا جدا)

١. صفاء الجو / ٢. سكون الهواء / ٣. انخفاض درجة الحرارة الاجسام الصلبة الى ما دون نقطة الندى .

س ١٢ : اذكر عوامل تشكل الصقيع ؟ (هام جدا جدا)

١. طبوغرافية الارض : تنخفض درجة الحرارة في المناطق الجبلية بسبب تعرضها للرياح الباردة ويتشكل في قيعان الاودية بسبب تراكم الهواء الباردة القادم من الجبال .

٢. صفاء السماء : تسمح بفقدان الاشعاع الارضي انخفاض الحرارة . ٣. هدوء الرياح

٤. طول ساعات الليل : في فصل الشتاء يسمح بفقدان الاشعاع الارضي .

س ١٣: اذكر الاضرار الناتجة عن الصقيع ؟

١. اضرار اقتصادية تدمير المحاصيل الزراعية / ٢. زيادة حوادث السير انزلاق المركبات .

*مناطق يحدث بها الصقيع : الاغوار الشمالية .

س ١٤: اذكر الاجراءات التي يمكن اتباعها لتجنب خطر الصقيع ؟ (هام جدا)

١. الاختيار السليم للمواقع الزراعية
٢. زراعة نباتات ومحاصيل زراعية أقل تأثراً في الصقيع .
٣. ري مزرعات خاصة في ايام متوقع فيه الصقيع
٤. تغطية المزرعات والتربة بمواد بلاستيكية .
٥. اشعال الحرائق : رفع درجة الحرارة الهواء المحلي يوفر دخان سحابة في الاعلى تقلل الصقيع .

س ١٥: اذكر أشكال التساقط ؟ ١. الامطار ٢. البرد ٣. الثلج .

س ١٦: الآثار السلبية للبرد ؟

١. تؤثر على الانسان والحيوان والنبات / ٢. تلف المزرعات والاشجار / ٣. تعتمد خطورتها حسب حجمها وصلابتها .

*اماكن تساقط الثلوج : العروض الوسطى والعليا / قمم الجبال العالية في فصل الشتاء .

س ١٧: تسبب الثلوج اضرار بالغة في حياة الانسان ؟ (هام جدا جدا)

١. تراكم الثلوج يعطل حركة النقل والملاحة الجوية والبرية كثرة حوادث السير ، قطع خطوط الكهرباء والهاتف.
٢. انصهار الثلوج والجليد في فصل الربيع الصيف يؤدي انهيارات جليدية وفيضان الانهار .

س ١٨: اذكر أنواع الجبهات الهوائية مع تعريف كل منها ؟

١. الجبهة الهوائية الباردة : مقدمة لكتلة هوائية باردة مصحوبة برياح شمالية وشمالية غربية تتكون عند اندفاع هواء بارد نحو هواء دافئ ليحل مكانه يرتفع الهواء الدافئ للأعلى ، يتشكل غيوم المزن الركامية تتطور تصبح عواصف رعدية وامطار .
٢. الجبهة الهوائية الدافئة : مقدمة لكتلة هوائية دافئة رياح جنوبية الى جنوبية غربية ، يندفع الهواء الدافئ باتجاه الهواء البارد يكون سحباً متقطعة تسبب سقوط امطار خفيفة .

س ١٩: اذكر الخصائص التي تتميز بها المنخفضات الجوية ؟

١. عمر المنخفض من ٣ الى ٤ ايام
٢. تساهم في وصول الرياح القطبية الى المناطق المناخية المدارية الحارة.
٣. من حيث المساحة بعضها يغطي منطقة جغرافية يزيد قطرها ١٠٠٠ كلم وبعضها لا يزيد قطرها عن ١٠٠ كلم .
٤. في فصل الشتاء والربيع يتركز في البحر المتوسط وفي الخريف والشتاء غرب أوروبا وشمال المحيط الاطلسي.

س ٢٠: اذكر أبرز مسارات منخفضات البحر المتوسط ؟

١. مسار شرقي بلاد الشام ووادي الرافدين
٢. مسار شمالي شرقي جنوب تركيا وشمال سوريا .

س ٢١: فسر(يصبح البحر المتوسط مركز رئيساً من مراكز الضغط الجوي المنخفض في فصل الشتاء)؟ (هام جدا جدا)

١. لانه يقع ضمن المنطقة المعتدلة الدافئة تشكل نطاقين من الضغط الجوي المرتفع شماله وجنوبه .
٢. يصبح البحر منطقة تتعرض لكتلة هوائية باردة تلتقي مع كتل هوائية دافئة .

س ٢٢: كيف تنشأ الاعاصير ؟ *ينشأ عند التقاء كتلة هوائية قارية بكتلة هوائية مدارية بحرية .

س ٢٣: اذكر أوجه الاختلاف بين الاعاصير المدارية والمنخفضات الجوية ؟ (هام جدا جدا)

الاعاصير المدارية	المنخفضات الجوية
١. ظهورها ضمن الرياح التجارية والموسمية	١. ظهورها ضمن الرياح الغربية العكسية .
٢. ينشأ في المحيطات	٢. ينشأ على اليابسة والماء .
٣. مساحة صغيرة أقل من ٢٥٠ كلم	٣. مساحة واسعة تزيد عن ١٠٠٠ كلم
٤. اضرار كبيرة تدمير المنشآت والبنى التحتية	٤. اضرار قليلة فيضانات وانهيارات أرضية .

س ٢٤: اذكر أشهر الاعاصير؟ (هام جدا جدا)

١. الهار يكين	ينشأ غرب المحيط الاطلسي يمتاز بغزارة الامطار وسرعة الرياح من ٣٠ الى ٣٠٠ كلم وسط الاعصار توجد عين الهار يكين قطرها من (٥_٨) كلم من الاثار الناتجة عنها خسائر بشرية واقتصادية وامطار غزيرة .
١. التيفون	الطوفان ، اعصار موسمي يحدث في المناطق المدارية قرب خط الاستواء غرب المحيط الهادي والمحيط الهندي وبحر الصين سرعة الرياح اكثر من ١٧٠ كلم اشهر اعاصير التيفون / غونو ٢٠٠٧ / هايان القلبين ٢٠١٣ دمر منازل والمحلات وموت ١٠ الالاف شخص
٣. التورنادو	العاصفة الرعدية ، عاصفة قصيرة المدة صغيرة المساحة تدور الرياح حول المركز حركة دورانية شديدة تصل سرعتها ما بين ٣٥٠ ٥٥٥ كلم في الساعة يقتصر تدمير على شريط ضيق لا تتجاوز قطرها ١٥٠٠ م ، أراضي امريكا الشمالية .

*أهم الظواهر المناخية المتطرفة : ١. ظاهرة النينو والنيو ٢. موجات الحر .

س ٢٥: عرف ما يلي : (هام جدا جدا)

١. النينو : ظاهرة محيطية تتمثل بالتسخين غير الاعتيادي للمياه السطحية في شرق المحيط الهادي مدة ثلاثة فصول أو أكثر .

٢. النينا: ظاهرة محيطية تتمثل بالتبريد الشديد غير الاعتيادي للمياه السطحية في شرق المحيط الهادي .

٣. موجات الحر : سيادة الهواء الساخن لمنطقة ما ترتفع درجة الحرارة العظمى الى خمس درجات مئوية فوق معدلها العام ولا تقل عن ٣٢ م وتستمر مدة ٣ أيام متواصلة .

س ٢٦: اذكر الاثار البيئية لظاهرتي النينو والنيو؟ (هام جدا جدا)

تأثيرات مناخية	تأثيرات مادية	تأثيرات صحية
١. تغير في درجة الحرارة والضغط الجوي والرياح . ٢. تغير في نسب غاز الاوزون وغاز ثاني اكسيد الكربون ٣. تغير في تكرار العواصف المدارية ٤. تفاوت في التساقط	١. كوارث مادية وبشرية جفاف وفيضانات ٢. هلاك الاسماك ٣. انخفاض المخصبات الحيوية	١. انتشار الميكروبات الضارة الفطريات والبكتيريا . ٢. انتشار الامراض التيفونيد والكوليرا والمالريا .

س ٢٧: اذكر أسباب حدوث موجات الحر؟ هام جدا جدا

١. ظاهرة الاحتباس الحراري والجزر الحرارية / ٢. سيادة تيارات هوائية هابطة مع تسخين شديد للسطح .
٣. أنظمة الضغط الجوي المرتفع في فصل الصيف .

س ٢٨: اذكر الاثار البيئية لموجات الحر؟ (هام جدا جدا)

١. خسائر بشرية : شعور بالضيق والانزعاج / ارتفاع معدل الوفيات ضربة الشمس / بعض الامراض النوبات القلبية .
٢. تلف المحاصيل الزراعية . / ٣. زيادة استهلاك المياه في الزراعة والمنزل .
٤. زيادة استهلاك الطاقة الكهربائية منازل ومصانع تكييف وتبريد ٥. سهولة انتشار الحرائق في الغابات بسبب جفاف الحشائش .

س ٢٩: فسر ما يلي : (هام جدا جدا)

أ. النينا والنيو ظاهرتان لا دخل للإنسان ونشاطاته بحدوثهما لكنه أكبر المتضررين من هذه الظواهر ؟
١. تهدد مصدر غذائه / ٢. خسائر مادية / ٣. كوارث طبيعية فيضانات والاعاصير والجفاف .

ب. تعرض الاردن لموجات الحر ؟

١. موقع الاردن في الجزء الشرقي للبحر المتوسط وعلى الطرف الشمالي لشبة الجزيرة العربية بين دائرتي عرض ٢٩ _ ٣٣ أدى الى وقوعه تحت أنظمة الضغط الجوي المداري وشبه المداري في فصل الصيف .
٢. تتبع هذه الانظمة حركة الشمس المدارية بين مداري السرطان والجدي يؤدي الى جفاف وارتفاع درجة الحرارة .

س ٣٠: اذكر العوامل المؤثرة في موجات الحر في الاردن ؟

١. التوزع الجغرافي للأنظمة الضغط الجوي السطحي / ٢. حالة طبقات الجو العليا .

س ٣١: اذكر خمس من أنظمة الضغط الجوي السطحي المؤثرة في موجات الحر في الاردن ؟ (هام جدا جدا)

١. امتداد المنخفض الموسمي : اختلاف الحرارة بين اليابس والماء ، تؤدي الى تباين في حرارة الهواء فوق كل منهما ، فيتشكل منطقة ضغط جوي منخفض في شبه القارة الهندية ، يؤدي انحساره وتراجعها الى تمركز فوق شبه الجزيرة العربية ، يتعرض الاردن الى هبوب رياح شرقية الى شمالية شرقية جافة في فصل الصيف نتيجة عبورها مساحات واسعة من الصحاري القاحلة يشكل هذا المنخفض ما نسبته ٤١% من موجات الحر في الاردن .

٢. امتداد المنخفض الحراري السعودي : يؤدي انسحاب المرتفع الأزوري وتراجعها غربا خلال فصل الصيف ليستقر فوق مياه المحيط الأطلسي الى ظهور منخفض جوي سطحي ، يعد امتداد للمنخفض الموسمي ، حيث يتحكم في المسار اليومي لدرجة الحرارة العظمى في الدول الواقعة تحت تأثيره يشكل هذا المنخفض ما نسبته ٣٣% من موجات الحر في الاردن .

٣. امتداد المرتفع الأزوري : يتأثر مناخ الاردن في اخر فصل الربيع وبداية فصل الصيف بامتداد المرتفع الجوي المداري الذي يسود شمال افريقيا تهب على الاردن رياح جنوبية الى جنوبية شرقية يشكل هذا المنخفض ما نسبته ١٣% من موجات الحر تؤثر على الاردن .

٤. امتداد منخفض البحر الأحمر : يظهر تأثيره هذا المنخفض مع بداية فصل الخريف ، حيث تؤدي الرياح الجنوبية او الجنوبية الشرقية الى تغذية هذا المنخفض وامتداده شمالا ، لتسيطر على الاردن رياح جنوبية الى جنوبية شرقية جافة وحارة ، تؤدي الى ارتفاع درجات الحرارة .

٥. امتداد المنخفض الخماسيني : موقع الاردن في الجزء الجنوبي الشرقي لحوض البحر المتوسط أدى الى تأثره بالعديد من المنخفضات الخمسينية التي تتكون في فصل الربيع .

س ٧: اذكر الحالات التي تتمثل بها حالة الطقس في طبقات الجو العليا ؟ (هام جدا جدا)

١. وجود مرتفع جوي في طبقات الجو العليا ، تؤدي الى هبوط الهواء الساخن من الارتفاعات المختلفة الى سطح الأرض مع تسخين شديد للسطح .
٢. وجود امتداد حوض علوي بارد .

س ٨: اذكر انواع السحب ؟

١. السحب العالية / ٢. السحب متوسطة الارتفاع / ٣. السحب المنخفضة / ٤. مجموعة السحب ذات النمو الرأسى.

الفصل الثالث: (التصنيفات المناخية) :

*التصنيف المناخي : تقسيم الكرة الارضية الى اقاليم مناخية ، يتسم كل منها بخصائص معينة تجعله يختلف عن غيره من الاقاليم .
مهم جدا

س ١: اذكر انواع التصنيفات المناخية في العالم ؟

١. الاصولية (اوليفر) / ٢. التجريبية (كوبن) / ٣. البشرية (تيرجنج) .

س ٢: اذكر أهم الاقاليم المناخية في العالم ؟ (هام جدا جدا)

الاقليم	مكان انتشاره	مميزاته
١. الاقليم الاستوائي	المناطق المحاذية لخط الاستواء	١. ارتفاع درجة الحرارة ٢. امطار غزيرة
٢. الاقليم المداري	يمتد بين مدار السرطان والجدي	موسم ممطر في فصل الصيف
٢. الاقليم المناخ المعتدل	مناخ البحر المتوسط واقليم غرب أوروبا	اعتدال حراري / اضطراب وعدم استقرار التقاء الكتل الهوائية
٤. اقليم المناخ القطبي	العروض العليا / قمم جبال	انخفاض بدرجات الحرارة وامطار قليلة ، وتجمد بخار الماء .

س ٣: أعط أسباب ما يلي : (هام جدا جدا)

أ.تم اعتماد عنصرَي الحرارة والأمطار أساسا في تقسيم العالم الى أقاليم مناخية ؟
*لأنهم مسؤولان عن توزيع الغطاء النباتي على سطح الأرض / *أهميتهم في التأثير على عناصر المناخ الأخرى .

ب. انخفاض الكثافة السكانية في اقليمي المناخ الاستوائي والقطبي ؟

أ.المناخ الاستوائي : ارتفاع درجة الحرارة / امطار غزيرة طوال العام .
ب.المناخ القطبي : انخفاض في درجات الحرارة / امطار قليلة على هيئة ثلوج .

س ٤: اذكر الامتاط الفرعية لإقليم المناخ المداري ؟ ١.البحري ٢.القاري ٣.الموسمي .

س ٥: اذكر العوامل التي تؤثر على مناخ الوطن العربي ؟ (هام جدا جدا)

١.الموقع الفلكي : دائرة عرض ٢ جنوبا ٣٧ شمالا / خط الطول ٦٠ شرقا _ ١٧ غربا .
٢.موقع اليابسة والماء .
٣.ارتفاع وامتداد التضاريس .

س ٦: اذكر الاقاليم المناخية في الوطن العربي ؟ (هام جدا جدا)

١.مناخ المداري ٢.المناخ الاستوائي ٣.المناخ الصحراوي ٤.المناخ البحر المتوسط .

*الموقع الجغرافي للأردن : جنوب غرب قارة اسيا ، نقطة اتصال بين الشرق والغرب والشمال والجنوب مساحته ٢٨٧،٢٨٩ كم^٢ .
*الموقع الفلكي للأردن : دائرة عرض ٢٩ _ ٣٣ شمالا / خط طول ٣٥ _ ٣٩ شرقا .

س ٧: اذكر الخصائص المناخية في الاردن ؟

١.درجة الحرارة ٢.الضغط الجوي والرياح ٣.الامطار .

س ٨: اذكر درجة الحرارة على مناخ الاردن ؟

١.ترتفع درجة الحرارة في الاردن نتيجة الاشعاع الشمسي تتفاوت من مكان لآخر حسب الموقع الفلكي للمكان ومقدار تعرضه للمؤثرات البحرية وارتفاعه وانخفاضه على سطح البحر .
٢.المتوسط السنوي للدرجات الحرارة وادي الاردن ٢٣ / ١٧ الاقليم الصحراوي / المرتفعات ١٦ / المتوسط السنوي ١٩ .
٣.تنخفض درجة الحرارة في شهري تشرين الثاني وكانون الاول / ترتفع بشهر اذار وتموز واب .
٤.المدى الحراري اليومي السنوي يتفاوت من اقليم لآخر حسب المؤثرات البحرية و صحراوية والمرتفعات الجبلية .

س ٩: اذكر أثر الضغط الجوي والرياح على مناخ الاردن ؟

١.صيفا يقع تحت تأثير الضغط الجوي المرتفع والرياح شمالية الى شمالية شرقية جافة ، الشتاء يتأثر بضغط الجوي المنخفض .
٢.المرتفعات الجبلية والبادية الرياح غربية / وادي الاردن الرياح شمالي وشمالي غربية .
٣.سرعة الرياح اليومية ٢,٤ عقدة ساعة على اليابس / ١١,٢ عقدة ساعة في العقبة . هام جدا

س ١٠: يقسم فصل الامطار في الاردن ثلاثة مواسم ؟

١.الامطار المكيرة (الخريف) ٢.الامطار الرئيسية (الشتاء) ٣.الامطار المتأخرة (الربيعية) .

س ١١: فسر ما يلي : (هام جدا جدا)

١.تتناقص الامطار السنوية في الاردن من الشمال الى الجنوب ؟
*لان الاجزاء الشمالية أكثر تعرضا للمرور المنخفضات الجوية مثل امطار عجلون اعلى من امطار السلط .

٢.تتناقص الامطار السنوية في الاردن من الغرب الى الشرق ؟ (من مدينة الزرقاء مقارنة بمدينة اربد) .
*بسبب البعد أو القرب من المؤثرات البحرية ومواجهة الرياح المطيرة او الوقوع في ظلها .

س ١٢: اذكر العوامل المؤثرة على مناخ الاردن ؟ (هام جدا جدا)

١.التضاريس ٢.درجة العرض ٢.الغطاء النباتي / البعد عن المؤثرات البحرية .

س ١٣: اذكر أثر التضاريس في مناخ الاردن ؟

*تعد المرتفعات الجبلية فاصل بين وادي الاردن والصحراء الشرقية ، تكون هضبة سلاسل وقمم جبال تمتد ما نهر اليرموك شمالا والحدود الاردنية جنوبا ، يبلغ متوسط ارتفاعها ١٢٠٠ متر على سطح البحر .
*الاغلب من هذه الهضبة ينحدر بشدة نحو وادي الاردن شرقا ، يمتد بشكل طولي من الشمال الى الجنوب هينة سلاسل جبلية من مرتفعات عجلون الى عمان والبلقاء وسلسلة الجبال الشراة في الكرك والطفيلة ومعان يبلغ متوسط ارتفاعها ٥٠٠ متر في جرش وتصل الى ١٨٥٤ فوق سطح البحر في جبل أم الدامي قرب مدينة العقبة .

س ١٤: اذكر أثر البعد عن المؤثرات البحرية على مناخ الاردن ؟

*بعد الاردن عن مؤثرات البحر المتوسط ساهم في تباين كميات الامطار بين الشمال والجنوب لقرب المناطق من البحر المتوسط .

س ١٥: اذكر أثر درجة العرض في مناخ الاردن ؟

*موقع الاردن بين دائرتي عرض ٢٩ - ٣٣ شمالا جعل تأثره بالمرتفع الجوي شبه المداري والمداري في فصل الصيف .
*في فصل الشتاء يقع ضمن المنخفضات الجوية في العروض الوسطى .

س ١٦: أثر الغطاء النباتي في مناخ الاردن ؟ (درجات الحرارة أكثر اعتدالا في مناطق الغابات عجلون والبلقاء والشوبك) .

س ١٧: اذكر الاقاليم المناخية في الاردن ؟ (هام جدا)

الاقليم	المكان	مميزاته
١. الاقليم البحر المتوسط	مناخ انتقالي المناخ المعتدل والمناخ شبه المداري (المرتفعات الجبلية)	١. فصل الصيف حرارة مرتفعة وطقس جاف والنهار طويل ٢. فصل الشتاء ساعات نهار قصيرة والغيوم تغطي السماء . ٣. فصل الربيع والخريف اعتدال حراري .
٢. الاقليم الصحراوي	ثلث مساحة الاردن (البادية)	ارتفاع الحرارة والتبخر ، الامطار ضعيفة
٣. الاقليم شبه الصحراوي	نطاق انتقالي بين مناخ البحر المتوسط والصحراوي من جهة ، والبحر المتوسط والسوداني من جهة اخرى
الاقليم السوداني (الغوري)	الاغوار	مناخ حار صيفا ، ودافئ شتاء .

س ١٨: فسر ما يلي : (هام جدا)

١. يعد المناخ أحد المقومات الطبيعية المهمة للدولة ؟

١. يؤثر في الانشطة الاقتصادية للسكان / ٢. يؤثر في كثافة السكان / ٣. يؤثر في الغطاء النباتي وانتاج المحاصيل الزراعية .

٢. يعد المناخ موردا اقتصاديا يمكن استثماره في النشاط السياحي ؟

*بعض الدول تبرز أهمية مناخها وتعمل على تسويقه وتوظف الخصائص المناخية للمكان في الترويج السياحي .

٣. ساهم التنوع المناخي في تطوير السياحة الاردنية ؟

*المشاتي الاغوار والبحر الميت والعقبة مناطق جذب للسياح في فصل الشتاء .

*المصايف : المرتفعات اعتدال الحرارة مناطق جذب للسياح في فصل الصيف .

س ١٩: قارن بين مناخ الاقليم البحر المتوسط والاقليم المداري في الوطن العربي ؟

مناخ الاقليم البحر المتوسط	مناخ الاقليم المداري	
١. موسم سقوط المطر	في فصل الشتاء	في فصل الصيف
٢. المناطق التي يمثلها	سواحل الدول العربية المحيطة بالبحر المتوسط ، السفوح الغربية لمرتفعات بلاد الشام ، اقليم اطلس التل في المغرب العربي	يسود في جنوب السودان والصومال ومرتفعات اليمن

الوحدة الثانية (قضايا بيئية)

س ١: عرف ما يلي :

١. البيئة : الوسط الذي تعيش فيه الكائنات الحية والعناصر الغير حية ، بما يحدث فيها من تفاعل ضمن مكان محدد .

٢. النظام البيئي : مجموعة من العلاقات المتبادلة والتفاعل المنظم والمستمر بين الكائنات الحية والعناصر الغير الحية وما ينتج عن هذا التفاعل من توازن بين تلك المكونات . (هام جدا جدا)

٣. المنتجات : كائنات حية تصنع غذائها بنفسها دون الاعتماد على غيرها مثل النباتات (عملية البناء الضوئي) .

٤. المتسهلكات : كائنات تعتمد في غذائها على غيرها مثل الانسان والحيوان .

٥. المحللات : كائنات حية دقيقة لا ترى بالعين المجردة ، تقوم بتحليل المواد العضوية اعادةها الى نظام البيئي .

٦. التوازن البيئي : قدرة المكونات على استمرار الحياة على سطح الارض دون مخاطر او مشكلات تؤثر على الحياة البشرية .

٧. الاخلال في التوازن البيئي : الحاق الضرر بعناصر البيئة عن طريق الزيادة او النقصان في نسبتها بفعل الانسان الذي يمارس أنشطة اقتصادية غير عقلانية مثل الصناعة ، الوقود الاحفوري ، قطع الغابات .

س ٢: اذكر مكونات النظام البيئي ؟ (هام جدا جدا)

١. كائنات حية (مكونات النظام الحيوي) :
٢. عناصر غير حية : (مكونات النظام غير حيوي) :
١. هواء ٢. ماء ٣. تربة
٢. منتجات ٣. مستهلكات ٣. محللات .

س ٣: كيف يسهم الانسان في تحقيق التوازن البيئي ، والاخلال في التوازن البيئي ؟

١. تحقيق التوازن البيئي : عندما تتحدد العلاقة بين الانسان وبيئته بمقدار استثمارها لعناصرها المختلفة بشكل عقلائي .
٢. الاخلال بالتوازن البيئي : عندما يلحق الضرر بعناصر البيئة الرئيسية ويمارس أنشطة غير عقلانية مثل الصناعة .

س ٤: فسر ما يلي : (هام جدا جدا)

١. يعد الانسان أحد أهم مكونات النظام البيئي ؟
١. يرتبط بعلاقة متميزة مع البيئة بتأثيره فيها وعلاقة متبادلة / يسعى الى استثمار موارد بيئته بهدف اشباع حاجاته المتعددة .

٢. كون تعميم بين المفاهيم التالية : (الاخلال ، التلوث ، التوازن البيئي) ؟
*كلما زاد التلوث زاد الاخلال بالبيئة ، نفقد التوازن البيئي .

س ٥: ماهي النظريات التي تفسر علاقة الانسان بالبيئية ؟ (هام جدا جدا)

*فان بين الاسس الفكرية التي تقوم عليها نظريات تفسر العلاقة بين الانسان والبيئة ؟
*ما لانتقادات التي وجهت للنظريات التي تفسر العلاقة بين الانسان والبيئة ؟

النظرية	الاسس الفكرية	الانتقادات التي وجهت اليها
١. النظرية الحتمية	البيئة تسيطر على الانسان ويخضع لها هي التي تسيره وتقرر مصيره وتجعله غنيا او فقيرا	لا يمكن ان نفر بتأثير البيئة في الانسان وانشطته المختلفة ، استطاع الانسان من خلال تطوره التكنولوجي التغلب على قسوة بعض الظروف الطبيعية
٢. النظرية الامكانية	ان الانسان له دور ايجابي وفاعل في تغيير البيئة واستغلالها وفقا لاحتياجاته ومتطلباته فقد تمكن بما يملك من قدرات ان يحول الظواهر البيئية لصالحه مثل زراعة الاراضي الصحراوية في الاردن	*تعظم دور الانسان وقدرته على السيطرة والتحكم فيها مما نتج عنها مشكلات سببت اخلاله بالتوازن البيئي .
٣. النظرية التوافقية	ضرورة التوفيق بين الآراء المختلفة ، وجود علاقة متبادلة بين الانسان وبيئته وقدرته على تغيير البيئة الطبيعية الى حضارية ، وهناك تأثير للبيئة على الانسان وانشطته

س ٥: أعط أدلة على مظاهر بيئية من فعل الانسان تؤكد فكرة النظرية الامكانية؟ (هام جدا جدا)
١. زراعة القمح الربيعي في كندا وروسيا / ٢. استغلال النفط والمعادن مثل الخليج العربي / ٣. حفر الابار وزراعة الاراضي الصحراوية في الأردن.

س ٦: اذكر أنواع البيئة كما تراها النظرية الاحتمالية (التوافقية)؟ (هام جدا جدا)
١. بيئة صعبة (جليدية صحراوية) ٢. بيئة سهلة السهول الفيضية ٣. بيئة متفاوتة في سهولتها وصعوبتها مثل الجبال.

س ٧: وضح اشكال مستوى تدخل الانسان في البيئة؟
١. ايجابي: يتفاعل مع البيئة ويحقق رغباته وحاجاته، دون احداث تأثير سلبي على مكونات البيئة مثل الطاقة الشمسية.
٢. سلبي: ادخال مواد ضارة في الهواء من خلال نشاطاته المختلفة.

س ٨: بين مراحل تطور العلاقة بين الانسان والبيئة وما تأثير كل مرحلة؟ هام جدا جدا

مرحلة الجمع والصيد	مرحلة الزراعة	مرحلة الثورة الصناعية	مرحلة ثورة المعلومات والاتصالات
١. جماعات صغيرة، تنتقل من مكان لآخر ٢. تعتمد على الصيد وجمع الثمار ٣. لم يكن للإنسان تأثير على البيئة	*استقر الانسان في مكان معين . *بدأ يعتمد على الزراعة . *تأثير محدود بالبيئة	*استخدم الانسان الوقود نتج عنه مواد ضارة زيادة ثاني اكسيد الكربون *زاد تأثير على البيئة من خلال التقدم التكنولوجي . *تلوث الهواء وتلوث البحار وتعرض بعض الكائنات للانقراض	*ظهرت الحاسبات الالكترونية وتطورت وسائل النقل وزيادة المعرفة . *مارس الانسان نشاطات غير عقلانية استعمل الاسمدة الكيميائية والمبيدات الحشرية في الزراعة . *استنزاف مصادر الثرة الطبيعية وتلوث البيئة .

الفصل الثاني (التغير المناخي):

س ١: عرف ما يلي :

١. التغير المناخي: تغير في قيم عناصر المناخ بفعل غازات الاحتباس الحراري في الغلاف الجوي منها غاز ثاني اكسيد الكربون والميثان والاكسيد . (هام جدا جدا)

٢. التلوث الجوي: دخول مواد غريبة صلبة او سائلة في الغلاف الجوي تلحق الضرر بصحة الانسان والبيئة .

٣. التلوث المائي: احداث تغير في الخصائص الطبيعية للمياه بطريقة مباشرة او غير مباشرة يؤثر سلبا على الانسان والبيئة .

٤. تلوث التربة: دخول مواد ضارة وغريبة في التربة بكميات تؤدي الى تغير في خصائصها الطبيعية والكيميائية والحيوية .

٥. النزوح البيئي: هجرة السكان الذين اجبروا على مغادرة مساكنهم مؤقتا او دائم خوفا على حياتهم بفعل الاخطار البيئية .

س ٢: يتم التعرف على التغير المناخي بعدة طرائق اذكرها؟ (هام جدا جدا)

١. الطرائق الجيولوجية: مثل أ.الصخور الرسوبية والركام الجليدي والمتحجرات / ب. النشاط البركاني .
٢. دراسة المناخ القديم: معرفة رواسب البحيرات وعينات الجليد وحلقات سيقان الاشجار .

س ٣: اذكر أسباب التغير المناخي؟ (هام جدا جدا)

العوامل الطبيعية	العوامل البشرية
١. التغير في كمية الاشعاع الشمسي . ٢. الانفجارات البركانية: غاز ثاني اكسيد الكربون ، واكاسيد الحديد ٣. التغير في مكونات الغلاف الجوي .	١. تلوث التربة / ٢. تلوث جوي / ٣. تلوث مائي ٤. قطع الغابات / ٥. التجارب النووية .

س ٤: كيف يسهم التلوث الجوي في ظاهرة التغير المناخي؟

*زيادة النشاط الصناعي ونتاج وحرق الوقود ساهم في زيادة ثاني اكسيد الكربون في الغلاف الجوي، أدى الى رفع درجة الحرارة بمعدل ٠،٥ درجة مئوية وتدمير طبقة الاوزون تهديد للنظام البيئي .

س٥: عدد اربع من مصادر تلوث المياه بفعل الانشطة البشرية ؟ (مشتقات النفط ، مخلفات المصانع / نفايات المدن) .

س٦: ماهي الاثار الناتجة عن تلوث مياه الانهار والبحار والمحيطات ورفع درجة حرارتها ؟ (هام جدا جدا)
١.زيادة سرعة التيارات البحرية ب.زيادة تبخر المياه وسقوط الامطار .

س٧: اذكر مصادر تلوث التربة ؟
١.استخدام الانسان للمبيدات الحشرية والاسمدة الكيميائية / ٢.المخلفات السائلة من الانشطة الصناعية غازات سامة الميثان.

*فسر (بعد عام ٢٠٠٠ تناقص قطع الغابات في العالم) : لان برامج محاسبية قطع الغابات بدأت في تحقيق اهدافها .

س٨: اذكر قطع الغابات في زيادة ثاني اكسيد الكربون في الغلاف الجوي ؟
١.تأثير في مناخ الارض ٢.احتباس حراري ٣.الاخلال في دورة الكربون الطبيعية
*قامت الحكومة الاردنية في زراعة الاشجار : للمحافظة على هذا المورد لانه يساهم في تحقيق التوازن البيئي .

س٩: كيف تساهم التجارب النووية في ظاهرة التغير المناخي ؟
*عند حدوث تفجيرات نووية ترتفع درجة حرارة الارض ،تشكل تيارات هوائية صاعدة نتيجة ارتفاع درجة حرارة الهواء ، تحمل معه غبار ذري واكاسيد النيتروجين التي تدخل في نطاق الاوزون في طبقة الستراتوسفير مما يؤثر في طبقة الاوزون .

س١٠: اذكر اهم الاثار البيئية الناتجة عن التغير المناخي ؟ (هام جدا جدا)
١.تغير مستوى سطح البحر ٢.تغير في النمط المطري ٣. اثار اقتصادية وصحية .
٤.تدهور الموارد المائية ٥.تدهور التنوع الحيوي ٦.النزوح البيئي .

س١١: كيف يؤثر التغير المناخي على ارتفاع منسوب سطح البحر والمحيطات ؟
*ارتفاع درجة الحرارة في الارض بفعل الغازات الدفينة يؤدي الى زيادة ذوبان الجليد في المناطق الجليدية يرتفع منسوب البحر وغمر المناطق الساحلية .

س١٢: كيف يؤثر التغير المناخي في النمط المطري ؟
*ارتفاع درجة حرارة سطح الارض زيادة كمية التبخر وزيادة التساقط ، مثال ارتفاع درجة الحرارة من ٢_ ٤ يؤدي الى زيادة كمية التساقط يصل ما بين ٣٠_ ١٠٠ ملم في السنة ، خاصة المناطق الشمالية من الكرة الارضية يؤدي فيضانات مدمرة .

س١٣: كيف يؤدي التغير المناخي الى تدهور الموارد المائية ؟
*ارتفاع درجة الحرارة تعمل على زيادة التساقط المطري ، يؤدي هذا زيادة تدفق المياه في الاودية والانهار وحدوث فيضانات في جنوب شرق اسيا والمناطق الشمالية .
*بسبب التغير المناخي يؤدي الى تدهور نوعية المياه بفعل ارتفاع درجة الحرارة وزيادة التلوث وزيادة ملوحة المياه الجوفية .

س١٤: كيف يؤدي التغير المناخي الى تدهور التنوع الحيوي ؟
١.انتقال النباتات الى ارتفاع اعلى من سطح الارض بفعل التسخين يؤدي الى فقدان الانواع النباتية .
٢.هجرة الطيور من قارة اوربا الى قارة افريقيا في فصل الخريف تعود مرة اخرى من افريقيا اوربا في الربيع لتلافي الحر الشديد وبحثا عن الغذاء يؤدي الى انقراض بعضها .

س١٥: اذكر الاثار الاقتصادية المتوقعة بفعل التغير المناخي ؟
*تأثير على المناطق الزراعية والعمراية / * المنشآت السياحية الموانئ القريبة من الساحل .

*اختفاء الجزر والمدن الساحلية بسبب ارتفاع مستوى سطح البحر مثل جزر المالديف .
س١٦: اذكر أسباب النزوح البيئي ؟ بسبب الاخطار البيئية الجفاف والفيضانات .

س١٧: اذكر الاثار الصحية الناتجة عن التغير المناخي ؟ (هام جدا جدا)
١.وفيات ضربات الشمس / ٢.امراض حساسية الربو والامراض التنفسية / ٣.امراض كوليرا ملاريا بينة جاذبة للبعوض والحشرات

س١٨: اذكر اهم الحلول المقترحة للحد من مشكلة التغير المناخي ؟ (هام جدا جدا)
١.استخدام مصادر الطاقة المتجددة / ٢.حماية الغابات والنبات من القطع / ٣.خفض انبعاث الكربون في الهواء .

الفصل الثالث (حماية البيئة) :

عرف ما يلي :

١. حماية البيئة : حماية الكائنات الحية البرية والمانية النظام الطبيعي واستغلالها بشكل يضمن عملها واستمرارها وفق نظام طبيعي متوازن . (هام جدا جدا)

٢. قانون حماية البيئة : عام ١٩٩٥ م بتعاون مع هيئات عامة وخاصة مهتمة بشؤون البيئة ركز القانون على الجانب التنظيمي والعملية (حماية البيئة) والجزائي (عقوبات مترتبة على من يخالف البيئة) . (هام جدا جدا)

٣. الوعي البيئي : ادراك الفرد لمتطلبات البيئة عن طريق شعوره بمكوناتها وما بينها من علاقات وكيفية التعامل معها يتكون الوعي البيئي من التربية البيئية ، الثقافة البيئية ، الاعلام البيئي . (هام جدا جدا)

٤. التوعية البيئية : برامج وانشطه توجه للأفراد بهدف تعريفهم بالمشكلة البيئية ، ومسؤولية نحوها والمشاركة في الحلول .

٥. الثقافة البيئية : اعداد فرد مثقف بيئيا يكون مفاهيم ومعلومات عن القضايا والمشكلات البيئية وينكسب اتجاهات ايجابية للبيئة .

٦. التربية البيئية : تنمية وعي الافراد بالبيئة ومشكلاتها ، تزود بالمعرفة والمهارات والاتجاهات وتحمل المسؤولية في مشكلة البيئة

٧. المحميات الطبيعية : مساحات واسعة من الاراضي الطبيعية تخصصها الدولة بقانون حماية المصادر المتوفرة وتشمل اراضي طبيعية ومصادر بيئية تاريخية اثرية ثقافية ترويحية .

س ٢ : اذكر طرائق حماية البيئة ؟ (هام جدا جدا)

١. نشر الوعي البيئي في المجتمع / ٢. سن قوانين / ٣. اعداد العاملين اكفاء في البيئة .

س ٣ : اذكر الجهود الدولية للحماية البيئة ؟

١. منظمات وبرامج للبيئة ٢. مؤتمرات واتفاقيات دولية البيئة وتغير مناخي ٣. جهود الاردن في حماية البيئة .

س ٤ : اذكر أهم المنظمات البيئية لحماية البيئة مع توضيح دورها ؟ (هام جدا جدا)

١. برنامج الامم المتحدة للبيئة ٢. الوكالة الاوروبية للبيئة ٣. اللجنة الدولية للتغيرات المناخية .
*دورهم : مواجهة الاخطار البيئية على مستوى العالم عن طريق سياسيات بيئية مناسبة .

س ٥ : اذكر أهم المنظمات الغير حكومية لحماية البيئة ؟ (هام جدا جدا)

١. منظمة السلام الاخضر ٢. الاتحاد العالمي للبيئة ٣. الصندوق العالمي للطبيعية .
*دورهم : أ. جمع معلومات البيئة ب. الكشف عن الممارسات الضارة للبيئة ج. توعية الرأي العام .

س ٦ : اذكر أهم المؤتمرات والاتفاقيات الدولية حول التغير المناخي ؟ (هام جدا جدا)

١. مؤتمر ستوكهولم ١٩٧٢ (السويد) ٢. اتفاقية فينا ١٩٨٥ حماية طبقة الاوزون (النمسا)
٣. قمة الارض ١٩٩٢ (البرازيل) ٤. اتفاقية كيوتو ١٩٩٧ (اليابان)
٥. مؤتمر باريس ٢٠١٥ (فرنسا)

س ٧ : فسر ما يلي :

أ. تعدد قضايا البيئة من أخطر مشكلات العصر التي تحتاج الى اهتمام خاص ؟
*بسبب التطور الكبير في الصناعة وزيادة استخدام الطاقة وتعدد الاثار السلبية التي تلحق الضرر بعناصر البيئة .

ب. انعقاد العديد من المؤتمرات والاتفاقيات بشأن التغير المناخي ؟ (هام جدا جدا)

١. توفير معلومات للحماية البيئة ٢. تنظيم أنشطة الانسان ٣. الحد من انبعاث غازات الاحتباس الحراري .

س ٨ : اذكر جهود الاردن في حماية البيئة ؟

١. مشاركة الاردن في العديد من الاتفاقيات والمؤتمرات الدولية الخاصة بحماية البيئة مثل ريودي جانيرو بالبرازيل ، واتفاقية فينا وبرتوكول كيوتو واتفاقية باريس .
٢. بدأت الحكومة الاردنية بالاهتمام بالبيئة عن طريق حملات توعية وسائل الاعلام والتربية وتشريعات جميعا خاصة بالبيئة .

س ٩: اذكر انجازات الحكومة الاردنية في حماية البيئة ؟ (هام جدا جدا)
 ١. قانون حماية البيئة ١٩٩٥ ٢. الاستراتيجية الوطنية لحماية البيئة ٣. اخلاقيات التعامل مع البيئة .

س ١٠: ركز قانون حماية البيئة على ثلاثة جوانب اذكرها ؟ هام جدا جدا
 ١. جانب مؤسسي : مؤسسة عامة للبيئة تهدف الى اعداد سياسة وطنية لحماية البيئة .
 ٢. جانب العملي : حماية البيئة هواء ماء تربة احياء برية .
 ٣. جانب جزائي : عقوبات لمن يخالف البيئة غرامات مالية واغلاق محلات .

س ١١: اذكر اهداف الاستراتيجية الوطنية لحماية البيئة في الاردن ؟ (هام جدا جدا)
 ١. المحافظة على التوازن البيئي ٢. وضع خطة عملية لتحقيق التنمية المستدامة (تخطيط عملي واقتصادي) .
 *تضمنت الاستراتيجية الوطنية : اسس ومعايير في الخطة البيئة / تحديث المعلومات المتعلقة بالموارد الطبيعية والحدود التي يصل اليها التلوث الهواء والماء في الاردن .

س ١٢: اذكر الجوانب التي عالجتها الاستراتيجية الوطنية لحماية البيئة في الاردن ؟
 ١. مياه سطحية وجوفية ٢. زراعة وحياة برية نباتية وحيوانية ٣. المناطق الساحلية والثروة البحرية
 ٤. الاثار والثقافة والطاقة ٥. الاستيطان البشري .

س ١٣: اذكر اخلاقيات التعامل مع البيئة ؟ (هام جدا جدا)
 ١. الوعي البيئي ٢. التوعية البيئية ٣. الثقافة البيئية ٤. التربية البيئية .

س ١٤: اذكر اهداف التوعية البيئية ؟ (هام جدا جدا)
 ١. اكساب الفرد المعرفة والمهارة في البيئة ٢. تطوير اخلاقيات البيئية للفرد ٣. مشاركة الافراد في اتخاذ قرارات .

س ١٥: اذكر طرائق تحقيق التوعية البيئية ؟ (هام جدا جدا)
 ١. وسائل اعلام ٢. مناهج تعليمية ٣. ندوات ومؤتمرات ٤. برامج تدريبية .

س ١٦: وضح دور التوعية البيئية في حل المشكلات البيئية ؟
 ١. تقليل من نفقات الدولة في المحافظة على البيئة
 ٢. تنمية السلوك الايجابي تجاه البيئة .
 ٣. تشريعات وبحوث علمية متعلقة بالمشكلات البيئية
 ٤. تنفيذ برامج توطين الحيوانات المهتدة بالانقراض .

س ١٧: اذكر عناصر الثقافة البيئية ؟ (هام جدا جدا)
 ١. المعرفة البيئية ٢. الوعي البيئي ٣. السلوك الايجابي نحو البيئة .

س ١٨: اذكر أهمية التربية البيئية ؟
 ١. يدرك الانسان الوضع البيئي ويتخذ التدابير اللازمة لتنمية العلاقات الايجابية بين الانسان وبيئته .
 ٢. حاجة الانسان لموارد البيئة والمحافظة عليها .
 ٣. تعتمد التربية البيئية على تخطيط المسبق في التعامل البيئة لتقليل المخاطر .

الفصل الرابع (التخطيط البيئي) :

س ١: عرف ما يلي :

١. التخطيط البيئي : اسلوب علمي منظم يهدف الى ايجاد أفضل الوسائل المناسبة في استثمار موارد البيئة الطبيعية ، عن طريق تنفيذ الانسان مجموعة من المشروعات الاقتصادية تحافظ على البيئة وفق جدول زمني . (هام جدا جدا)

٢. التقييم البيئي : مجموعة من الاجراءات التي تقدر الحمولة البيئية وتحدد نمط الاستخدام المناسب في المشروعات التنموية .

٣. الحمولة البيئية : القدرة او الطاقة القصوى لإمكانات البيئة على تحمل النشاط البشري دون استنزاف .

٤. الاقتصاد البيئي : العلم الذي يستخدم معايير بيئية في الجوانب الاقتصادية ، بهدف المحافظة على توازن بيئي واقتصاد مستدام .

٥. السياحية البيئية : زيارات تتم الى المناطق الطبيعية الاستمتاع بسحرها والتعرف على النبات والحيوان والتضاريس وتشجع النشاطات السياحية الصديقة للبيئة .

٦. اتفاقية كيوتو : عام ١٩٩٧ مجموعة من الدول اتفقت على القيام بإجراءات مشتركة في يتعلق بانبعاثات الكربون وتحمل المسؤولية اتجاه البيئة وافرت ان الدول الصناعية اكثر زيادة للانبعاثات الكربون من الدول النامية واتفقوا على سياسية بيئية نظيفة

٧. التنمية النظيفة : مشروعات اقتصادية تسهم في الحد من انبعاث غازات الاحتباس الحراري باستثمار مصادر الطاقة المتجددة والتقليل من الوقود الاحفوري .

٨. الطاقة النووية : طاقة متولدة عن طريق انشطار عنصر اليورانيوم لاستخدامها في ادارة المولدات الكهربائية والمصانع .

٩. الوقود الحيوي : طاقة ناتجة من تحلل المواد العضوية من بقايا الكائنات الحية النباتية والحيوانية .

١٠. طاقة الرياح : هي تحويل حركة الرياح من الطاقة الحركية الى الطاقة الكهربائية تكون سهلة الاستخدام .

١١. طاقة الشمسية : تحويل الاشعاع الشمسي (الطاقة الحرارية) الى طاقة كهربائية بواسطة الخلايا الشمسية .

١٢. الطاقة الكهرومائية : طاقة متولدة من الطاقة الكامنة في المياه من الشلالات والسدود تحول من طاقة حركية ينهمر الماء من مكان عال توربينات ويدار بدوره مولدا كهربائية ينتج عنه طاقة كهربائية .

س ٢: اذكر ممارسات الانسان الخاطئة في البيئة ؟

١. عدم الاستثمار الرشيد للموارد الطبيعية / ٢. تلويث البيئة / ٣. توسع الانسان بالعمران بشكل عشوائي .

س ٣: اذكر فوائد التخطيط البيئي ؟ (هام جدا جدا)

١. فوائد بيئية / ٢. فوائد صحية / ٣. فوائد اجتماعية / ٤. فوائد اقتصادية .

س ٤: للتخطيط البيئي فوائد عدة في مجال حماية البيئة اذكرها ؟

١. ادارة البيئة وحمايتها بشكل منظم ومخطط يسهم في حل مختلف القضايا البيئية .
٢. يدعم التخطيط البيئي وسائل حماية البيئة عن طريق التوعية البيئية ودمج التربية البيئية في مناهج التعليم .
٣. يمكن صانع القرار من التأكد من أن التنمية تتحقق دون أن يترك اثار ضارة للبيئة .

س ٥: اذكر الفوائد الصحية للتخطيط البيئي ؟ (هام جدا جدا)

١. ايجاد بيئة صحية للأفراد عن طريق التخطيط لحركة المرور والطرق .
٢. زيادة المساحات الخضراء والتشجير في المناطق الحضرية .
٣. استخدام تكنولوجيا الصديقة والانتاج الانظف .
٤. التخطيط لإقامة المناطق الصناعية بعيدا عن المناطق السكنية .
٥. التخلص الآمن من المخلفات واعادة استخدامها لحماية السكان من الأمراض .

س٦: اذكر الفوائد الاجتماعية للتخطيط البيئي؟ (هام جدا جدا)

١. استخدام الموارد الطبيعية استخداما رشيدا لتلبية احتياجات الجيل الحالي والاجيال القادمة .
٢. مشاركة الافراد في المشروعات التنموية .
٣. الحد من الفقر عن طريق الموازنة بين النمو السكاني والموارد .
٤. يهتم بالتخطيط السليم للمدن .

س٧: اذكر الفوائد الاقتصادية للتخطيط البيئي؟ (هام جدا جدا)

١. ايجاد بيئة صحية تساعد الافراد على العمل والانتاج .
٢. الاعتماد على الخبرات والتقنيات الحديثة .
٣. وقف استنزاف الموارد الطبيعية .
٤. الاهتمام بمصادر الطاقة المتجددة ومشروعات اعادة تدوير المخلفات .

س٨: اذكر أسس ومقومات التخطيط البيئي؟ (هام جدا جدا)

١. التقييم البيئي / ٢. تقييم المردود البيئي للمشروعات / ٣. التنمية المتوازنة .

س٩: وضح دور المخطط البيئي في تقييم المشروعات الاقتصادية؟

*تقوم نظرة المخطط على تقييم المشروعات الاقتصادية ومن ثم تقييم النتائج البيئية باستمرار حتى يتجنب النتائج الضارة في البيئة لذا يقوم بتعديل او الغاء المشروع اذا كان تنفيذه سيضر البيئة في المستقبل .

س١٠: وضح دور التنمية المتوازنة في التخطيط البيئي؟

*تقوم على تحقيق التوازن بين خطط التنمية الريفية والحضرية في البيئة، بتناسق وتوازن شاملين وعدم اهمال احدهم للآخر لان ذلك يسبب مشكلات كثيرة .

معلومة: ما التكاليف الاجتماعية الناتجة عن الاضرار البيئية؟ الافراد المصابين نتيجة انبعاث الغازات والغيار في الهواء .

س١١: فسر العلاقة بين الاقتصاد والبيئة؟

*ترتبط البيئة بالاقتصاد ، وذلك كون الاقتصاد يدرس مشكلة الحاجات الانسانية المختلفة والمتزايدة ،ليجد لها حلا توفره البيئة الطبيعية من موارد عدة ، والذي يعتمد استثمارها على الادوات والاساليب التي يقدمها علم الاقتصاد والتي تسهم في حل المشكلات البيئية .

*العلاقة بين الاقتصاد والبيئة هي علاقة تبادلية، فالبيئة تؤثر في الاقتصاد حيث تزوده بالمواد الاولية اللازمة لعملية الانتاج ، والاقتصاد يؤثر بالحاق الضرر بها واستنزاف مواردها وتعود في صورة مخلفات غير مرغوبة في البيئة .

س١٢: فسر ما يلي (تمثل قضية تدهور البيئة تحديا للاقتصاديين)؟ (هام جدا جدا)

*لأنها تلقي الضوء على أهمية الحفاظ على الموارد الطبيعية والتي تحقق النمو الاقتصادي للمجتمع مثال: الغابة الطبيعية لا تدخل ضمن حسابات الدخل القومي للدولة الا حين ازلتها والتجارة بأخشابها في السوق، ويتم تجاهل المنافع البيئية التي توفرها الغابة بامتصاص ثاني اكسيد الكربون واطلاق الاكسجين وتلطيف درجات الحرارة، وتعد موقعا للعديد من الكائنات الحية .

س١٣: اذكر خصائص الاقتصاد البيئي؟ (هام جدا جدا)

١. تحقيق التنمية المستدامة / ٢. تطبيق مبدأ المسؤولية المشتركة / ٣. يهتم بكفاءة الموارد والانتاج والاستهلاك.

س١٤: اذكر أهمية السياحة البيئية؟

١. نموذج للتكامل بين عناصر التنمية المستدامة والاقتصاد والمجتمع والبيئة .
٢. نشاط اقتصادي يوفر الوظائف ويزيد الدخل ويرفد الدولة بالعملة الصعبة .
٣. ينعكس ايجابيا على المجتمعات المحلية .
٤. تساهم في المحافظة على عناصر البيئة الرئيسية وعدم الاخلال بالتوازن البيئي .
٥. تعد من أهم انواع السياحة في العالم والاكثر نموا جاءت لتجعل من السائح صديقا للبيئة .

س ١٥: اذكر مقومات السياحة البيئية ؟ (هام جدا جدا)

١. التنوع البيئي للمناطق السياحية من حيث الحياة البرية ، التضاريس ، المناخات للمناطق السياحية .
٢. امكانية اجتياز هذه المناطق والتجول فيها دون الحاجة الى استخدام وسائل نقل ملوثة للبيئة .
٣. القدرة على تقديم الخدمات للساكنين مع الحفاظ على التوازن البيئي .
٤. رفع الوعي البيئي للساكن .
٥. احترام الثقافة المحلية للمناطق التي تزار .

س ١٦: اذكر أهم النشاطات السياحية البيئية ؟

١. تسلق الجبال : يتم الوصول الى تلك القمم بواسطة الطاقة الذاتية للمتسلق ، مما يعني عدم تلوثها .
٢. الرحلات داخل الغابات : مراقبة الانواع الفريدة من الكائنات الحية .
٣. رحلات مراقبة الحياة البرية والحيوانات المهددة بالانقراض : وزيادة الوعي البيئي .
٤. الرحلات الصحراوية : هدفها الخروج الى الطبيعة دون قيود حضارية واقامة الحفلات القائمة على وسائل بدائية لتقديم تجربة صفاء ذهني وروحي للساكن .
٥. رحلات الصيد البري او البحري : ضمن شروط قانونية وبيئية دون الاخلال بالتوازن البيئي وعدم المساس بالأصناف المهددة بالانقراض .
٦. رحلات تصوير الطبيعة : تقوم بها الجمعيات البيئية لتنظيم رحلات لهواة التصوير لمنحهم فرصة للاقترب من الطبيعة .
٧. المشاركة في الفعاليات الدولية البيئية : هدفها تسليط الضوء على بعض القضايا البيئية مثل المشاركة في يوم الارض العالمي أو ساعة الارض .

س ١٧: اذكر فوائد السياحة البيئية ؟ (هام جدا جدا)

١. تخفيف الضغط على الانظمة البيئية في الاماكن السياحية بما يضمن استدامة الموارد الطبيعية .
٢. الحفاظ على الموروث الثقافي والحضارية للسكان المحليين .
٣. زيادة فرص العمل لسكان المناطق الريفية خاصة العمالة الغير مدربة .
٤. تشجيع على تطوير تلك المناطق بطريقة تحافظ على مقوماتها الريفية وتمنع الشركات السياحية من اقامة منشآت سياحية ضخمة

س ١٨: فسر ما يلي : (تساهم السياحة البيئية في تطوير الاقتصاد الأخضر) ؟

١. هو الذي يقوم على حماية البيئة واستدامة الموارد .
٢. يزيد من فرص نمو التعليم البيئي في الدول النامية التي تعاني من معدلات عالية التلوث بسبب غياب تقنيات معالجة النفايات الصلبة والسائلة وعدم تطبيق قوانين صارمة للحفاظ على البيئة والموارد الطبيعية .

س ١٩: فسر ما يلي (تعتبر المحميات الطبيعية الوجهة الرئيسية للسياحة البيئية) ؟ (هام جدا جدا)

١. نشاط تنموي متعدد الفوائد يساهم في حماية الطبيعة .
٢. توفر مجال عمل للسكان المحليين .
٣. ترفع من درجة الوعي في أهمية حماية الطبيعة .

س ٢٠: فسر ما يلي (تأسيس المحميات الطبيعية في الاردن) ؟

- * للحفاظ على الانواع النادرة من الحيوانات والنباتات البرية وحمايتها من الانقراض .
- * معلومة : بلغ عدد المحميات في الاردن سبع محميات تشرف عليها الجمعية الملكية لحماية الطبيعة وهناك توجه لإنشاء ست محميات وسوف يصبح الاردن نظاما متكاملًا من المحميات الطبيعية .

س ٢١: اذكر أهم مواقع السياحة البيئية في الاردن ؟

١. محمية ضانا / ٢. محمية الموجب / ٣. محمية الأزرق / ٤. محمية الشومري الطبيعية
٥. محمية وادي رم / ٦. محمية عجلون / ٧. محمية ديبين .

*محمية ضانا :

١. تقع في الطفيلة من أكبر المحميات من حيث المساحة ٣٢٠ كلم تضم انواع من النباتات السرو والبلوط والعرعر
٢. فيها تضاريس جبلية رائعة وقرية قديمة مبنية على هضبة تطل على وادي ضانا .
٣. تتميز المحمية بغناها بالتنوع الحيوي وخاصة مشاهدة الطيور خلال الهجرة الربيعية والخريفية
٤. وجود العديد من المسارات المشي والتسلق بعضها يمر بمواقع أثرية مثل مناجم النحاس في وادي فينان .
٥. يقيم الساكن في ضانا في مركز الزوار او في مخيم الرمانة او مخيم فينان .
٦. فيها مكان لصنع الحلبي المحلية والمنتجات الزراعية العضوية ويتوفر فيها الادلاء المدربون .

***محمية الموجب :**

١. من أكثر المحميات الأكثر انخفاضاً على سطح البحر في العالم .
٢. تتكون من سلاسل جبلية صخرية وعرة وأودية ذات مياه نقية دائمة الجريان في الأنهر .
٣. تتميز المحمية برحلات المغامرات تتضمن السباحة والتسلق ومشاهدة المناظر الطبيعية .
٤. هناك مسارات تتضمن الهبوط من مساقط المياه ،جولات الحياة البرية ،مراقبة حيوان البدن والطيور والتخييم .

***محمية الأزرق المائية :**

١. تقع بالقرب من مدينة الأزرق مساحتها ١٢ كلم ٢ تغطيها البرك والمستنقعات وتنمو فيها النباتات المائية .
٢. هي مأوى للطيور المستوطنة والمهاجرة .
٣. استعادت المحمية وضعها وخصائصها الطبيعية لأنها مرت قديماً بفترات الجفاف بسبب ضخ المياه بشكل جانر لأغراض الشرب
٤. يوجد فيها غطاء نباتي كاف لتوفير مساحات واسعة من الظل والرطوبة وهي من المناطق المهمة لهجرة الطيور .
٥. توفر المحمية الكثير من الخدمات وموقع لمراقبة الطيور وتنتشر فيها المواقع اثرية مثل سد أموي صغير لحجز المياه وفيها مركز للزوار يوفر وسائل إيضاحية وتعليمية حديثة .

***محمية الشومري الطبيعية :**

١. أول محمية انشئت في الاردن عام ١٩٧٥م مساحتها ٢٢ كلم .
٢. هدفها حماية الحيوانات والنباتات البرية والثدييات والطيور المهاجرة .
٣. موطن المها العربي الذي تعرض للانقراض محليا قبل أن يبدأ برنامج اعادة توطين في الثمانينات .
٤. في المحمية يمكن للزائر مشاهدة حيوان المها ومشاهدة النعام .
٥. في مركز الزوار مواد تعليمية وإيضاحية تشرح قصة المها العربي وصراعه للبقاء .
٦. رحلة السفاري داخل المحمية لمشاهدة القطيع في الطبيعية وهناك مناطق للعب للأطفال وجلس العائلات.

***محمية وادي رم :**

١. أكثر صحاري العالم تميزاً من خلال التشكيلات الجبلية والصخرية ومن أكثر المناطق جذبا للسياح .
٢. أعلنت محمية عام ١٩٩٨م وهي ذات ادارة مشتركة بين سلطة العقبة الاقتصادية ووزارة السياحة والجمعية الملكية لحماية الطبيعة بهدف تحقيق ادارة متكاملة للمنطقة تحميها من التأثيرات السياحي وتضمن دورها السياحي .
٣. من اهم نشاطات محمية وادي رم تسلق الجبال والتخييم والسير الليلي وسباقات التحمل والجري .

***محمية عجلون :**

١. تتميز بهضاب وجبال متعرجة مغطاة بتجمعات كثيفة من غابات البلوط الدائم الخضرة وأشجار السرو .
٢. تمثل البقية الاخيرة من الغابات الطبيعية التي تغطي شمال الاردن .
٣. يوجد فيها العديد من الحيوانات مثل الغرير والثعلب والخنازير البرية وانواع الطيور .
٤. في الربيع منطقة طبيعية جذابة .

***محمية ديبين :**

١. تقع في محافظة جرش مساحتها ٨,٥ كم ٢ .
٢. تتميز بتنوعها الحيوي الكبير وجود غابات الصنوبر الحلبي ونباتات نادرة الاوركيد والحياة البرية والثدييات وانواع الطيور المستوطنة والمهاجرة .

***القطاعات المستهدفة لإيجاد تنمية نظيفة :** ١. الصناعة / ٢. ادارة المخلفات والنفايات الصلبة .

س ٢٢: كيف يمكن تحقيق التنمية النظيفة ؟

١. الحد من الانبعاثات الكربونية
٢. استثمار الطاقة المتجددة :

س ٢٣: اذكر مصادر الطاقة المتجددة ؟ (هام جدا)

١. الطاقة النووية / ٢. الوقود الحيوي / ٣. طاقة الرياح / ٤. الطاقة الشمسية / ٥. الطاقة الكهرومائية .

***مميزات الطاقة النووية : (هام جدا)**

١. طاقة نظيفة لا تشتمل على عملية الاحتراق ولا ينتج عنها غازات ضارة للبيئة .
٢. يمكن التخلص من المخلفات النووية بوسائل علمية وتكنولوجية للمحافظة على سلامة البيئة .

*سلبية الطاقة النووية : تعتمد على الاشعاعات الصادرة عن الطاقة النووية والتي تسبب امراضا عديدة للإنسان مثل سرطان الجلد والدم وأمراض العيون ، مثل اليابان بعد القاء القنبلة النووية على هيروشيما ونجازاكي .

س٢٤ اذكر انواع الوقود الحيوي ؟ (هام جدا جدا)

- ١.الوقود الصلب : ينتج عن استخدام بقايا المخلفات الصلبة وتحرق مباشرة لتوليد الطاقة الكهربائية والتدفئة .
- ٢.الغاز الحيوي : يعتمد على انتاج كميات كبيرة من غاز الميثان بفعل تحلل المخلفات العضوية بعد حرقها .
- ٣.الوقود السائل : يستخرج من المحاصيل الزراعية مثل فول الصويا ،وعباد الشمس وبذور اللفت ،اضافة الى المحاصيل التي تحتوي على نسب من السكريات والنشويات مثل الشمندر وقصب السكر والقمح والذرة تعالج بالتخمير .

*الدول المنتجة للوقود الحيوي : الولايات المتحدة الامريكية / الصين / البرازيل . (هام جدا جدا)

- *مميزات طاقة الرياح : من مصادر الطاقة المتجددة اقلها كلفة وليست لها آثار سلبية على البيئة . (هام جدا جدا)
- *أهم الدول التي تستخدم طاقة الرياح : الاتحاد الاوروبي / الصين / الولايات المتحدة الامريكية . (هام جدا جدا)
- *وانشئ الاردن اول مشروع في محافظة الطفيلة لتوليد الطاقة الكهربائية من طاقة الرياح .

*استخدامات الطاقة الشمسية :

- ١ استخدامة لتوليد الطاقة الكهربائية لتزويد الشبكات الارضية والمناطق النائية .
- ٢.التدفئة وتسخين المياه في المنازل والمصانع .

- *مميزات الطاقة الشمسية : مصدر مجاني للطاقة ونظيفة لا ينتج عنها اي مخلفات او اثار سلبية . (هام جدا جدا)
- *اتجهت الكثير من الدول لاستخدام الطاقة الشمسية في الاردن،حيث اقيم اكبر مشروع للطاقة الشمسية في محافظة معان على مستوى الشرق الاوسط لتوليد الطاقة الكهربائية باستخدام الخلايا الشمسية .

*تقنيات تستخدم في توليد الطاقة الكهرومائية : السدود والشلالات /استخدام طاقة المياه الحركية في الامواج او طاقة المد والجزر

*مميزاتها الطاقة الكهرومائية : من مصادر الطاقة المتجددة ،الأقل خطرا على البيئة مقارنة بمعامل الكهرباء الحرارية التي تعمل بالوقود العضوي او النووي . (هام جدا جدا)

س٢٥ : لماذا تلجأ الدول الى استخدام طاقة الرياح والطاقة الكهرومائية ؟ (هام جدا جدا)

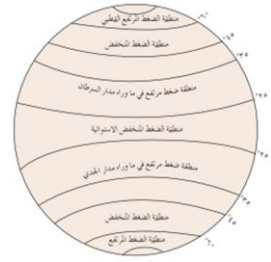
*كونها من مصادر الطاقة المتجددة واقلها كلفة وليست لها آثار سلبية على البيئة .

امنياتى لكم بالنجاح والتوفيق

اعداد الاستاذ طارق القاسم

٠٧٩٦٠٩٠٥١٠

***الإشكال والخرائط المطلوبة : (١) توزيع نطاقات الضغط الجوي :**



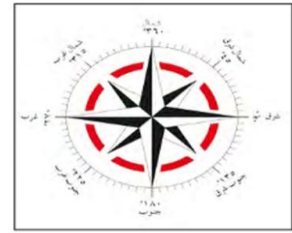
١. حدد نطاقات الضغط الجوي المرتفع فوق الكرة الأرضية بحسب دوائر العرض :

٢. لماذا ينخفض الضغط الجوي في المنطقة الاستوائية :

٣. ما سبب وجود ضغط جوي مرتفع فوق القطبين :

٤. حدد دائرتي عرض اللتين يسود فيها الضغط الجوي المرتفع

٢. تحديد اتجاه الرياح :



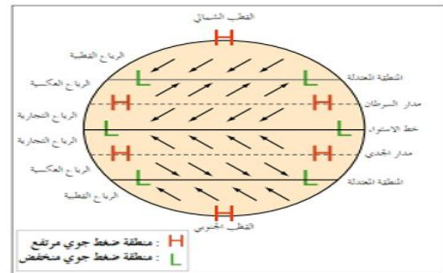
١. تحديد درجة الرياح _ ٩٠ رياح شرقية .

٢. تحديد درجة الرياح _ ٢٢٥ رياح جنوبية غربية .

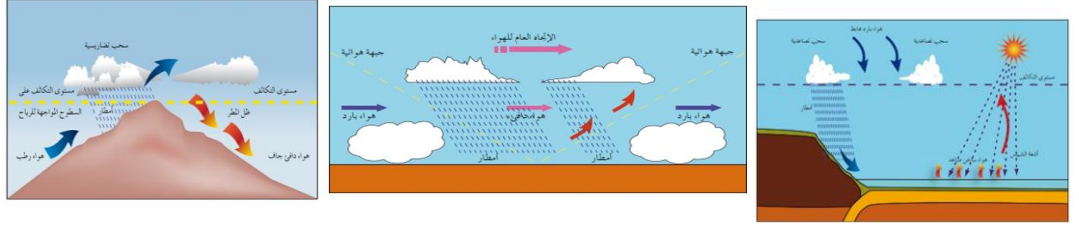
٣. تحديد درجة الرياح _ ٣١٥ رياح شمالية غربية .

٤. تحديد درجة الرياح _ ١٨٠ رياح جنوبية / ٥. تحديد درجة الرياح ٤٥ شمالي شرقي .

٣. أنواع الرياح الدائمة :



٤. أنواع الامطار : (الامطار التصاعدية / الامطار الاعصارية ، الامطار التضاريسية)

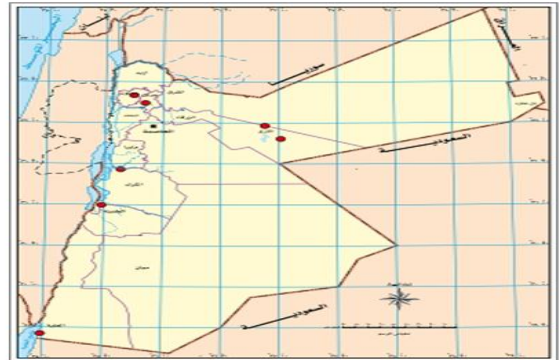


٥. تحديد خريطة الوطن العربي المفردات التالية :



١. تحديد المسطحات المائية : المحيط الاطلسي ، المحيط الهندي ، البحر الاحمر .
٢. تحديد الاقاليم المناخية للوطن العربي : الاقليم الصحراوي ، الاقليم المداري ، الاقليم الاستوائي ، اقليم البحر المتوسط.
٣. تحديد دوائر العرض : خط الاستواء ، مدار السرطان .

٦. خريطة الاردن :



١. تحديد الموقع الفلكي للاردن :
٢. تحديد المحميات الموجودة في الاردن :

- * عين على خريطة العالم التالي :
- * مسطحات المانية : المحيط الاطلسي ، المحيط الهندي ، المحيط الهادي ، البحر المتوسط ، البحر الاحمر .
- * المضائق : مضيق جبل طارق ، مضيق هرمز ، مضيق باب المندب ، قناة السويس .
- * دوائر العرض : مدار السرطان ، خط الاستواء ، مدار الجدي .
- * خط الطول : خط غرينتش
- * دول تعرضت لإعصار التيفون : الفلبين ، سلطنة عمان .
- * دول وقعت على اتفاقيات بينية : النمسا ، اليابان .
- * دولة انعقدت فيها مؤتمر القمة الارض : البرازيل (ريو جانيرو) .
- * دول عقدت فيها مؤتمرات للبيئة : السويد ، فرنسا .
- * دول ستغمرها المياه بسبب ارتفاع مستوى البحر : مصر ، هولندا ، امريكا الشمالية ، بنغلادش .
- * جزيرة معرضة للاختفاء بسبب ارتفاع مستوى سطح البحر : جزر المالديف .
- * دول يتشكل على سواحلها الضباب : المغرب (مراكش) ، تشيلي .
- * دول تنتج الوقود الحيوي : امريكا ، البرازيل ، الصين .
- * دول تنتج القمح الربيعي : روسيا ، كندا .
- * دول تعتمد على طاقة الرياح : امريكا ، الصين ، الهند .
- * دول تعتمد على الطاقة النووية : فرنسا .
- * تيارات بحرية دافئة : البرازيل ، موزمبيق ، شرق استراليا .
- * تيارات بحرية باردة : البيرو ، كاليفورنيا ، غرب استراليا .



* المعادلات الحسابية : (هام جدا جدا)

١. للتحويل من الدرجة المنوية الى الفهرنهايتي $م = \frac{٣٢+٩}{٥} \times$

*مثال (١): حول درجة حرارة ١٠م الى فهرنهايت :

$$٥٠ ف = ٣٢ + \frac{٩ \times ١٠}{٥} = ٣٢ + ١٨ = ٥٠$$

٢. للتحويل من الفهرنهايتي الى الدرجة المنوية = $(ف - ٣٢) \times \frac{٥}{٩}$

* مثال (٢) حول درجة حرارة (٧٧ف) الى درجة منوية :

$$م = \frac{٧٧ - ٣٢}{٩} \times ٥ = \frac{٤٥}{٩} \times ٥ = \frac{٢٢٥}{٩} = ٢٥ م$$

*تدريب على الاسئلة الموضوعية :

١. يقاس الضغط الجوي من خلال وحدة :
أ.مليبار ب.الثيرموميتر ج.الثيرموجراف د. جميع ما ذكر .

٢. يمتد بين دائرتي عرض (٤٥ _ ٦٠) شمال وجنوب خط الاستواء يسمى :
أ.الضغط المنخفض الاستوائي ب.الضغط المرتفع المداري ج.الضغط المنخفض شبه قطبي د.ضغط مرتفع قطبي

٣. درجة ٩٠ تكون الرياح فيها :
أ.رياح شرقية ب.رياح جنوبية ج.رياح غربية د.رياح شمالية .

٤. تعد رياح الخماسيين من أنواع الرياح :
أ.الدائمة ب.الموسمية ج.المحلية د.اليومية .

٥. من التيارات البحرية الباردة :
أ.تيار شرق استراليا ب.تيار البرازيل ج.تيار موزمبيق د.تيار غرب استراليا .

٦. بخار ماء مرئي على شكل ذرات دقيقة من الماء تتكون نتيجة برودة الهواء وتكاثف بخار على سطح الارض يؤدي الى تقليل مدى الرؤية :
أ.السحب ب.الضباب ج.الندى د.الصقيع

٧. ينشأ غرب المحيط الاطلسي يمتاز بغزارة الامطار وسرعة الرياح ٣٠ _ ٣٠٠ كلم في الساعة :
أ.الهاريكين ب.التيفون ج.التورنادو د.منخفض جوي

٨. ينتشر في الاغوار على أطراف وادي الاردن يتصف بالمناخ الحار صيفيا والداقي شتاء :
أ.الاقليم السوداني ب.الاقليم الصحراوي ج.الاقليم شبه الصحراوي د.مناخ البحر المتوسط

٩. ترى بان الانسان له دور ايجابي وفاعل في تغير بينته واستغلالها وفقا لاحتياجاته ومتطلباته :
أ.النظرية الامكانية ب.النظرية الحتمية ج.النظرية التوافقية د.لاشي مما ذكر .

١٠. أهم المؤتمرات لحماية طبقة الاوزون هو :
أ. مؤتمر فيينا ب. مؤتمر كيوتو ج. مؤتمر باريس د. مؤتمر ستوكهولم

١١. تقع في الطفيلة من اكبر المحميات من حيث المساحة ٣٢٠ كلم تضم مناجم النحاس في وادي فينان :
أ.ضانا ب.الازرق ج.عجلون د.الموجب

١٢. اكثر المحميات انخفاضا على سطح البحر في العالم :
أ.ضانا ب.الازرق ج.عجلون د.الموجب

١٣. أول مشروع لتوليد الطاقة الكهربائية من طاقة الرياح :
أ.محافظة الطفيلة ب.محافظة معان ج.محافظة الكرك د.محافظة عجلون .

١٤. أول مشروع لطاقة الشمسية كان :
أ.محافظة معان ب.محافظة عجلون ج.محافظة الكرك د.محافظة جرش .

١٥. دول تنتج الوقود الحيوي :
أ.امريكا المتحدة الامريكية ب.الصين ج.البرازيل د. جميع ما ذكر .

١٦. ظاهرة تتمثل ب التبريد الغير اعتيادي للمياه السطحية شرق المحيط الهادي :
أ.النينو ب. النينا ج. موجات الحر د. الاعاصير .

١٧. يتشكل فوق غرب المحيط الهندي والهادي وبحر الصين وسرعته ١٧٠ كلم في ساعة :
أ.الهاريكين ب.التيفون ج. التورنادو د. النينا .

١٨. يشكل ثلث مساحة الاردن ويتصف بالامطار القليلة هو :
أ.الاقليم الصحراوي ب.الاقليم شبه الصحراوي ج.الاقليم السوداني د.الاقليم البحر المتوسط .

١٩. تبلغ مساحة الاردن :
أ. ٨٩،٢٨٧ ب. ٩٠،٢٨٧ ج. ٩١،٢٨٧ د. ٨٨،٢٧٨

مع امنياتي لكم بالنجاح والتوفيق