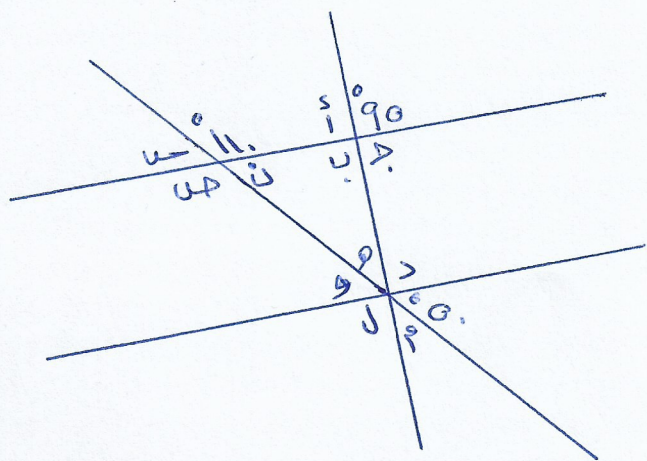


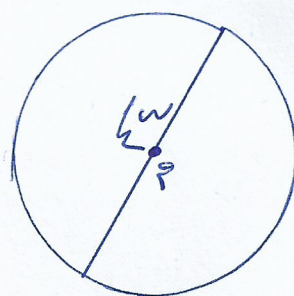
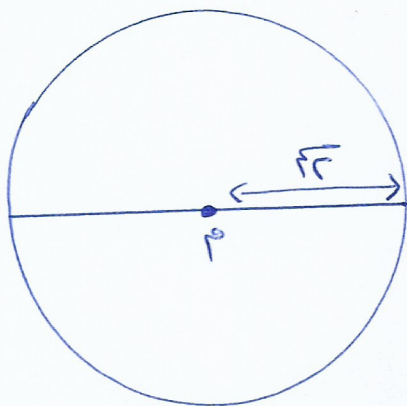
ورقة عمل للوحدة الثانية
 لمادة الرياضيات
 للصف السابع

1) اكتب قيمة كل من زوايا الجذوة في الشكل التالي :- (مع ذكر السبب)



2) أي من الأزواج الزوايا تشكل زوايا متتامه وزوايا متكامله؟

3) اكتب مساحة ومحيط كل من الأشكال الآتية؟



4) صف المثلثات الآتية : حسب الزوايا ، وأطوال الأضلاع

