


ورقة عمل للصف السادس
مادة الرياضيات
(الوحدة الثانية)

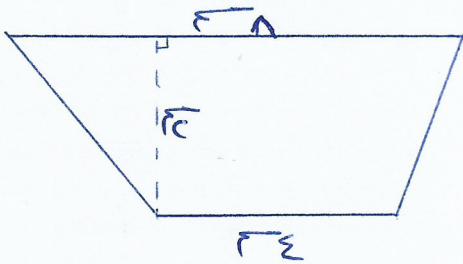
س١٢ ما لعب على شكل مثلع سداحي منتظم، طول ضلعه ٤ سم، جد محيط الملعب؟

س١٣ مربع محيطه (٤٤ سم)، ما طول ضلعه؟



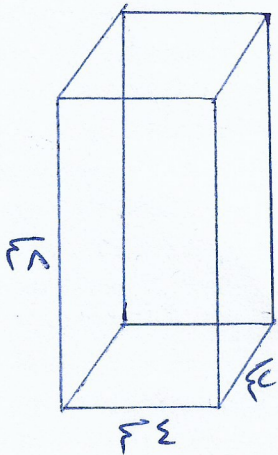
س١٤ في الشكل المجاور متوازي أضلاع طول قاعدته ٦ سم وارتفاعه ٤ سم، ما مساحته؟

س١٥ لوحة رسم على شكل متوازي أضلاع، مساحتها ٥٠ سم^٢، ارتفاعها ٤ سم، جد طول قاعدتها؟



س١٦ في الشكل المجاور شبه منحرف، جد مساحته؟

س١٧ شبه منحرف مساحته ٢٨٠٠ سم^٢، ارتفاعه ٤ سم، جد مجموع طول قاعدتيه؟



س١٨ تأمل الشكل المجاور فم جد ما يلي:

(أ) المساحة الكلية؟

(ب) حجم؟