
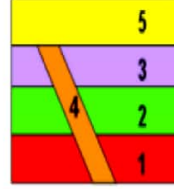


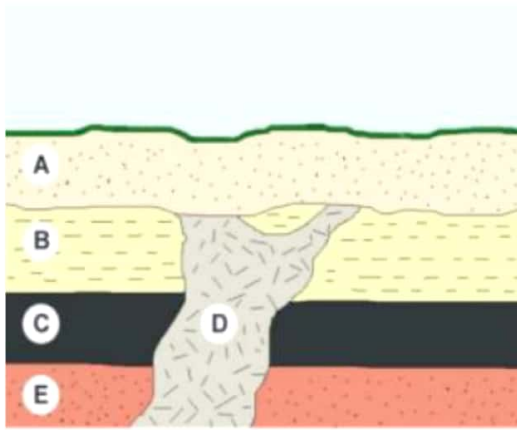
السؤال الأول : حدد مبدأ العمر النسبي المستخدم أسفل كل شكل من الأشكال التالية

"التعاقب الطبقي
القاطع والمقطوع"





السؤال الثاني : وفقاً للصورة المرفقة في الأسفل رتب الطبقات الصخرية من الأقدم إلى الأحدث (حيث ١ للطبقة الأقدم و ٥ للطبقة الأحدث) :



- ١
- ٢
- ٣
- ٤
- ٥

السؤال الثالث : اختر الإجابة الصحيحة :

١ - هو عمر الصخور والخصائص الجيولوجية مقارنة بالصخور والملاح الطبيعية المجاورة :

العمر المطلق العمر النسبي العمر الأصلي

٢ - تسمى عملية ربط الصخور والاحافير المتطابقة في مواقع متفرقة :

سطح عدم التوافق التراكيب المضاهاة