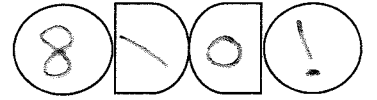


طلبة الدراسة الخاصة



إدارة الامتحانات والاختبارات

قسم الامتحانات العامة

امتحان شهادة الدراسة الثانوية العامة لعام ٢٠٢٠

(وثيقة محمية/محدود)

المبحث: الجغرافيا / (ف٢+م٤) // إضافية
 الفرع: الأدبي + الفندقي
 اسم الطالب:
 رمز المبحث: ٢٢٥ مدة الامتحان: ٤٥ د ٠٠
 اليوم والتاريخ: الثلاثاء ١٤/٧/٢٠٢٠
 رقم الجلوس:

اختر رمز الإجابة الصحيحة في كل فقرة مما يأتي، ثم ظلل بشكل غامق الدائرة التي تشير إلى رمز الإجابة الصحيحة في نموذج الإجابة (ورقة القارئ الضوئي) فهو النموذج المعتمد (فقط) لاحتساب علامتك، علماً بأن عدد الفقرات (٢٠)، وعدد الصفحات (٢).

١- نشأت اخفض نقطة على اليابس (البحر الميت) نتيجة:

- (أ) نشاطات بركانية
 (ب) حركات صدعية باطنية
 (ج) حركات إلتوائية
 (د) عوامل جيومرفولوجية

٢- عندما تأخذ خطوط الكنتور شكل الرقمين (٧ و ٨) وتتناقص قيمها نحو الخارج، فإنها تدل على:

- (أ) مرتفع أرضي (ب) منخفض أرضي (ج) مناطق ما بين الأودية (د) وادي

٣- إذا علمت أن الفرق بين خطي كنتور رئيسين يبلغ (١٠٠ م) وعدد الخطوط الفرعية بينهما (٤) خطوط فإن قيمة الفاصل الكنتوري يبلغ:

- (أ) ٢٠ (ب) ٢٥ (ج) ٥٠ (د) ١٠٠

٤- تنشط التجوية الكيميائية في المناطق:

- (أ) القطبية الباردة (ب) المعتدلة (ج) الرطبة الدافئة (د) الحارة الجافة

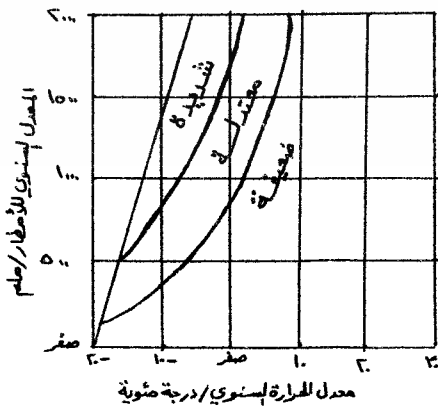
٥- الأشكال الأرضية التي تنتشر فوق السطوح الصخرية المكشوفة قليلة الانحدار نتيجة للتفاوت في تآكل الصخر هي:

- (أ) الحطام الصخري (ب) حفر التجوية (ج) قباب التقشر (د) حفر التذرية

٦- في الشكل المجاور عندما تكون درجة الحرارة (-١٠) درجة مئوية

ومعدلات الإمطار (١٠٠٠) ملم فإن التجوية الميكانيكية تكون:

- (أ) ضعيفة جداً
 (ب) ضعيفة
 (ج) معتدلة
 (د) شديدة



٧- الكثبان الرملية التي تنشأ في المناطق التي تهب عليها الرياح باتجاه واحد، هي الكثبان:

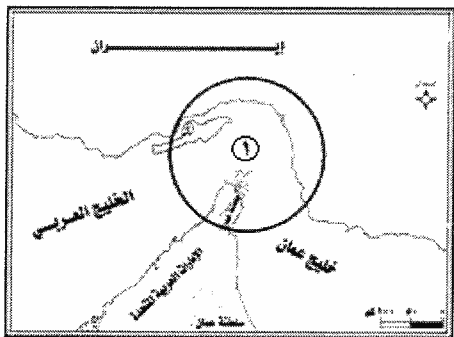
- (أ) الهلالية (ب) الطولية (ج) النجمية (د) السيف

يتبع الصفحة الثانية....

٨- الأشكال الأرضية التي تحدث نتيجة حتّ الرياح المحملة بالرمال للطبقات الصخرية اللينة الموجودة عند قواعد هذه الصخور هي:

- (أ) الشواهد الصخرية (ب) الموائد الصخرية (ج) حفر التذرية (د) الصحاري الحجرية
- ٩- أخفض نقطة في أجزاء الحوض النهري التي تتجمع فيها المياه، هي:
- (أ) سرير النهر (ب) المجرى النهري (ج) المصب (د) خط تقسيم المياه
- ١٠- تقع شلالات نياجارا على نهر:
- (أ) الزمبيزي (ب) سان لورانس (ج) المسيسيبي (د) ريوجراند
- ١١- المرحلة النهريّة التي يبدأ فيها تشكل البحيرات الكوعية على جوانب المجري النهري، هي مرحلة:
- (أ) النشأة (ب) الشباب (ج) النضج (د) الشيخوخة
- ١٢- العالم الذي شبه الدولة بكائن حي يمر بمراحل الميلاد والنمو والوفاة، هو:
- (أ) أرسطو (ب) ابن خلدون (ج) راتزل (د) ديفز
- ١٣- يسود التوتر في منطقة القنال الانجليزي؛ لتداخل المياه الإقليمية والمنطقة الاقتصادية الخاصة بين:
- (أ) بريطانيا وفرنسا (ب) فرنسا واسبانيا (ج) فرنسا والبرتغال (د) بريطانيا واسبانيا
- ١٤- الحدود التي أوجدها الإنسان وتتميز باستقامتها ووضوحها وسهولة تخطيطها، هي الحدود:
- (أ) الطبيعية (ب) النهريّة (ج) البحرية (د) الهندسيّة
- ١٥- رُسمت الحدود بين الهند وباكستان على أساس:
- (أ) لغوي (ب) ديني (ج) عرقي (د) تاريخي
- ١٦- صدر قرار محكمة العدل العليا عام (٢٠٠١م) بسيادة مملكة البحرين على جزر حوار؛ لحل الخلاف الحدودي بينها وبين دولة:

(أ) الكويت (ب) الإمارات العربية المتحدة (ج) قطر (د) إيران



١٧- المضيق المائي المشار إليه بالرقم (١) في الخريطة المجاورة، مضيق:

(أ) جبل طارق (ب) باب المندب

(ج) هرمز (د) قناة السويس

١٨- تشكل جبال الأنديز حداً طبيعياً فاصلاً بين:

(أ) الأرجنتين والبرازيل (ب) تشيلي والأرجنتين

(ج) فرنسا وإسبانيا (د) إسبانيا وإيطاليا

١٩- تعد الصحراء الغربية أرضاً متنازعةً عليها بين جبهة البوليساريو ودولة:

(أ) الجزائر (ب) المغرب (ج) موريتانيا (د) ليبيا

٢٠- مجموعة من الأفراد تنتمي إلى سلالة تختلف عن سلالة أكثرية أفراد المجتمع الذي تعيش فيه، هي الأقليات:

(أ) القومية (ب) الدينية (ج) اللغوية (د) العرقية

﴿ انتهت الأسئلة ﴾