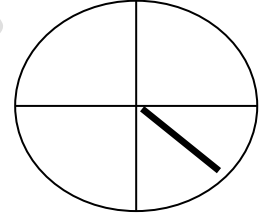
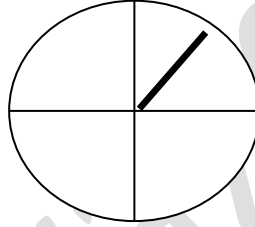
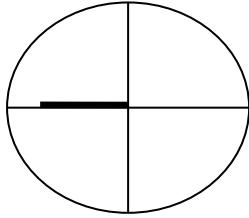


إمتحان الشهر الثاني لمادة علوم الأرض / الصف العاشر الأساسي

اليوم و التاريخ : 2016/--/-- مدرسة -----
الإسم : -----

س1 : وضح مفهوم الرياح ؟ و تحدثي عن مبدأ عمل جهاز الرياح ؟ (4علامات)

س2 : حددي اتجاه و سرعة الرياح في كل مما يلي : (6 علامات)



س3 : تحدثي عن القوى المؤثرة على الرياح من مبدأ عمل كل منها ؟ (4علامات)

س4 : عرفي ما يلي : (علامتان)

1- خط تساوي الضغط الجوي :

2- خريطة الضغط الجوي :

س5) ماذا تتوقع أن يحدث لخصائص كتلة هوائية قطبية قارية عند تحركها باتجاه المناطق المدارية البحرية ؟
(علامتان)

س6) : تحركت كتلة هوائية قطبية بحرية لتستقر فوق منطقة شرقي البحر الأبيض المتوسط، استنتج التغيرات التي ستطرأ على الأحوال الجوية في هذه المنطقة ؟
(علامتان)

أنتهت الأسئلة مع خالص تمنياتي للجميع بالنجاح

www.ama2el.net