

اختبار الشهر الثاني لمبحث العلوم لصف الثاني

المعلمة:

الاسم:

س1: ضع إشارة ✓ أمام العبارة الصحيحة وإشارة x أمام العبارة الخاطئة فيما

يلي: 12 علامات

1-) (يعتبر الشبر من الوحدات الثابتة في قياس الطول.

2-) (تستخدم الرز لمقارنة كتل الأشياء.

3-) (نقيس الأطوال بدقة باستخدام المسطرة ووحدة السنتيمتر.

4-) (تتغير كتلة الشيء بتغير شكله.

5-) (يستخدم الميزان لقياس طول الأشياء بدقة.

6-) (تتشابه الأوعية في سعتها.

7-) (يختلف قياس الطول والكتلة من شخص لآخر.

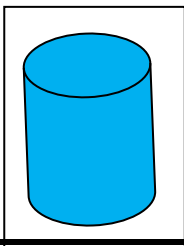
8-) (يستخدم الفنجان في قياس طول الأشياء بدقة.

س2: إذا أرادت أمل قياس سعة الوعاء المجاور فأبي هذا الأدوات تستخدم: 3 علامات





3: إذا علمت أن الإناء الذي سعته 1 لتر يتسع 6 أكواب من الماء فكم يتسع الإناء

الذي سعته 2 لتر: 2 علامات



بالتوفيق أحبتي

س4: أقرأ قياس البروز وأكتبها 5 علامات



*قياس طول البروازسم

*قياس عرض البروازسم

إناء

س5: أقرأ قياس البروز وأكتبها 3 علامات

لقياس الكتلة

لقياس الطول

لقياس سعة الأوعية



بالتوفيق أحبتي