
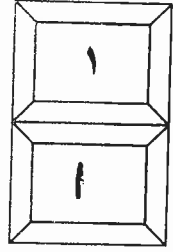


بسم الله الرحمن الرحيم



المملكة الأردنية الهاشمية
وزارة التربية والتعليم
إدارة الامتحانات والاختبارات
قسم الامتحانات العامة



امتحان شهادة الدراسات الثانوية العامة لعام ٢٠١٨ / الدورة الشتوية

(وثيقة محمية/محدود)

س د

مدة الامتحان : ٣٠ : ١

اليوم والتاريخ: الأحد ٢٠١٨/١/٧

المبحث : الجغرافيا الأساسية / المستوى الثاني

الفرع : الفندقية والسياحي

ملحوظة : أجب عن الأسئلة الآتية جميعها وعددها (٥) ، علماً بأن عدد الصفحات (٣) .

السؤال الأول : (١٤ علامة)

عرّف ما يأتي:

- ١- التركيب الإثني (العرقي) .
- ٢- البطالة.
- ٣- الهاريكين.
- ٤- الأراضي الرطبة.
- ٥- جهاز التوقيع العالمي (GPS).
- ٦- المواد القابلة للتدوير.
- ٧- المحميات.

السؤال الثاني : (١٦ علامة)

فسّر ما يأتي:

- ١- يتركز نصف سكان العالم تقريباً في جنوب شرق وشرق آسيا وخمسهم في قارة أوروبا. (٣ علامات)
- ٢- تُعد الولايات المتحدة الأمريكية الدولة العظمى الأولى في العالم وفي السياسة الدولية. (٤ علامات)
- ٣- تزايد الإنتاج الزراعي بعد الحرب العالمية الثانية. (٣ علامات)
- ٤- تُسبب الزراعة الحديثة أضراراً للبيئة. (٤ علامات)
- ٥- جفاف واحة الأزرق وتملح تربتها. (علامة)

السؤال الثالث : (١٦ علامة)

اذكر:

- ١- أربعاً من المشكلات الناتجة عن الهجرة من الريف إلى المدينة. (٤ علامات)
- ٢- العوامل المؤثرة في التركيب الاقتصادي للسكان. (٣ علامات)
- ٣- خمسة من مظاهر مرحلة الثورة الصناعية الثانية (ثورة الحاسبات). (٥ علامات)
- ٤- أربعة من المشاريع الاقتصادية المُدرّة للدخل ولا تتعارض مع متطلبات البيئة. (٤ علامات)

يتبع الصفحة الثانية/،،،،

الصفحة الثانيةالسؤال الرابع : (١٤ علامة)

يتكوّن هذا السؤال من (٧) فقرات، لكل فقرة أربعة بدائل، واحد منها فقط صحيح. انقل إلى دفتر إجابتك رقم الفقرة ورمز الإجابة الصحيحة لها :

١- واحدة من بين الآتية تُعدّ من سلبيات الحجم الكبير للسكان:

- (أ) إعداد جيوش عسكرية
(ب) توفير قوى بشرية عاملة
(ج) توفير سوق استهلاكي
(د) توفير فرص عمل

٢- تتراوح نسبة النوع عند الولادة في معظم دول العالم كما يأتي:

- (أ) ٥٢٪ ذكور، ٤٨٪ إناث
(ب) ٥١٪ ذكور، ٤٩٪ إناث
(ج) ٥٤٪ ذكور، ٤٦٪ إناث
(د) ٥٠٪ ذكور، ٥٠٪ إناث

٣- الدولة التي يوجد فيها (٢٨٣) لغة من بين الآتية هي:

- (أ) سويسرا (ب) الولايات المتحدة الأمريكية (ج) الهند (د) فرنسا

٤- الدولة التي يعتنق أكثر من (٩٠٪) من سكانها دينًا واحدًا من بين الآتية هي:

- (أ) كندا (ب) أندونيسيا (ج) إيطاليا (د) الولايات المتحدة الأمريكية

٥- عُقد مؤتمر القمة العالمي الثاني للأرض في مدينة:

- (أ) باريس (ب) طوكيو (ج) جوهانسبرغ (د) لندن

٦- المُنتج الرئيس للوقود الأحفوري في العالم هي منطقة:

- (أ) غرب أوروبا (ب) أمريكا الجنوبية (ج) غرب إفريقيا (د) الشرق الأوسط

٧- الخطر الطبيعي الأكثر تزايدًا في تأثيره على الإنسان ما بين الستينات والسبعينات هو:

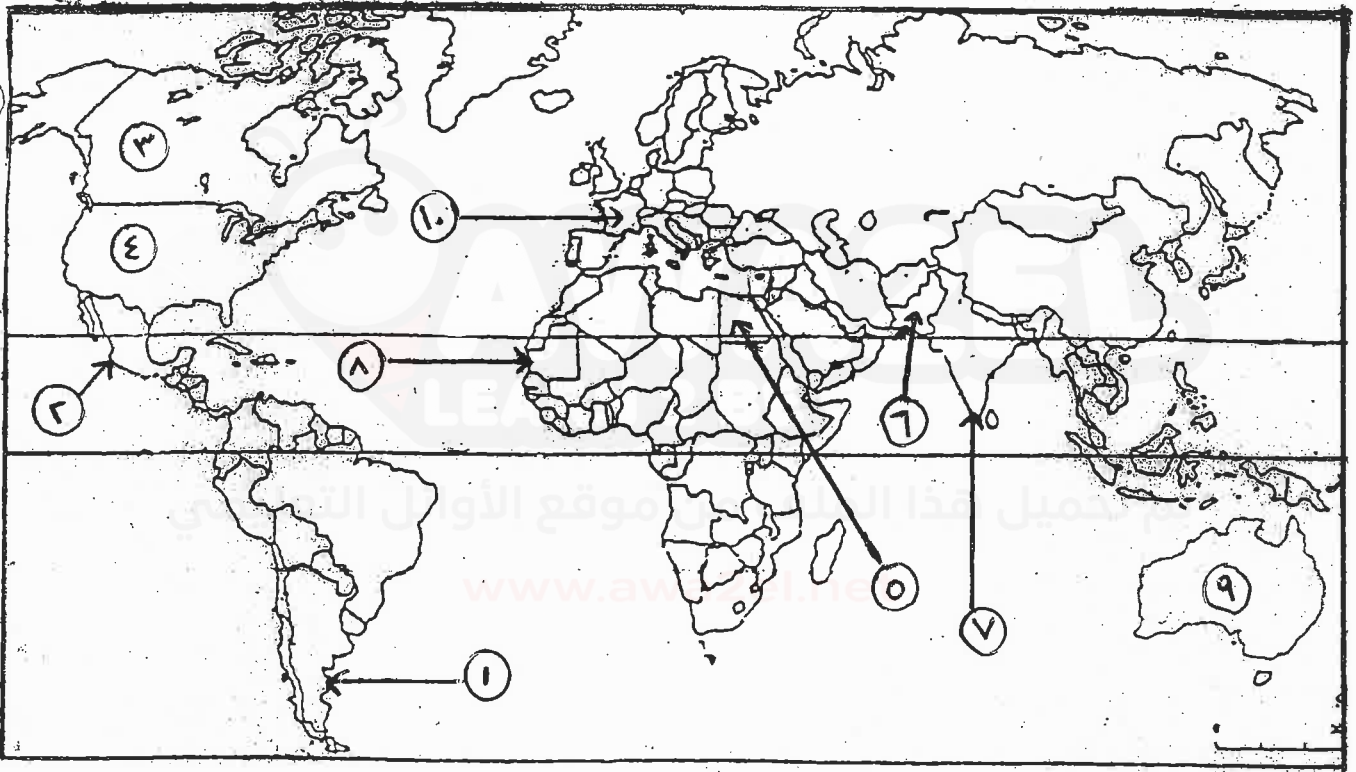
- (أ) الفيضانات (ب) الجفاف (ج) تلوث الهواء (د) حرائق الغابات

يتبع الصفحة الثالثة / ،،،،

الصفحة الثالثة**السؤال الخامس: (١٠ علامات)**

انظر خريطة العالم أمامك، ثم اكتب في دفتر إجابتك ما تُشير إليه الأرقام المُبيّنة على الخريطة كما يأتي:

- دول توجّهت لزراعة المنتجات العضوية (١ ، ٢).
- دول مُصدّرة ومستوردة رئيسة لمنتجات الغابات في العالم (٣ ، ٤).
- دول تصل نسبة القوى العاملة بالقطاع الزراعي فيها إلى النصف (٥ ، ٦).
- دول ذات نسبة أمية مرتفعة. (٧ ، ٨).
- دول ذات زيادة سكانية طبيعية منخفضة (٩ ، ١٠).



﴿ انتهت الأسئلة ﴾



الإجابة النموذجية

وزارة التربية والتعليم
 إدارة الامتحانات والاختبارات
 قسم الامتحانات العامة

صفحة رقم (١)

مدة الامتحان : ٣٠
 التاريخ : ١٧/١/٢٠١٨

المبحث : الحضارة الإسلامية (٢)
 الفرع : الفرضي

رقم الصفحة في الكتاب	الإجابة النموذجية:
	السؤال الأول : عرّف
	(١٤ علامة)
٤١٥	- البركبة بلا شئ (العرفي) : توزيع السكان حسب أهمهم (المراسن) القومية أو العرقية ① ، أو اللغة الأم ①
٤٤٢	- البطالة : من شخص قادر على العمل ورغب فيه ① ويبحث عن مستوى الأجر ولم يجد ① (علامتان)
٤٩٣	- الهاريكين : إعصار استوائي يصحون بظروفه ① ويسمى بذلك عندما يتكون فوق المحيط الأطلسي أو الهاري ①
٣٠٨	- المراسن - الأراضن الرطبة : نظام بيئي خاص ① يوجد منه على اليابسة ① دوراً في الحياة البيولوجية .
٣١٨	- جهاز التتبع العالمي (GPS) : جهاز يستخدم (علامتان) لتتبع موقع الفلكي ① في المنطقة بين تقصيرها ① (جذب) يمكن من تحديد الأحداث الفلكية ① للموقع ① .
٣٦٧	- المواد القابلة للتدوير : مواد ما تزال محتفظه (علامتان) بمصاهاً يزيائياً وكميائياً مناسباً للاستخدام واستهلاك الفرز طاساً منها ① (ويمكن لذلك أن يعاد تصنيعها ①) أي منتجات جديدة صالحة للاستخدام ① بدلاً
٣٧٧	- المخيمات : أماكن لراحة من الأرقاب ① التي تحفظها الدولة بقانون لحماية المصادر الطبيعية وتضاريفها (موارد الحسنة والبيئية والموارد البروكية

رقم الصفحة في الكتاب	
	السؤال الثاني : فسر ١٦ كلمة .
١٩١	١ - مركز صنع سكان العالم سبب توافر المواد الخام ① / والتمدد المناخي ② (٣ علامات) و خصوبة التربة ③
١٨٦	٢ - قد يولاه اهتمام أكبر سبب زيادة الكثرة ① / والتقدم الصناعي ② / (٤ علامات) و التطور العلمي والتكنولوجي ③ / بالإضافة إلى تطور السكاني الكبير الذي بلغ (٢٩٤) مليون سنة ④
٢٠٥	٣ - تزايد الإنتاج الزراعي سبب تطور التكنولوجيا ① مثل الآلات والمواد الكيميائية والقوة (٣ علامات) كما كان للتخصصية في العمل ② وكذلك السياسات الحكومية تأثير كبير في ذلك .
٥٨١	٤ - تسيير الزراعة الحديثة أفراداً للبيئة الطلب على الأراضى الزراعية ① / ومصادر المياه ② / (٤ علامات) والأفران في استخدام ③ للمواد الزراعية الحديثة والبيانات والبرمجيات / وكذلك التطبيقات الحديثة للهندسة الوراثية ④
٢٧٥	٥ - ضمان واحة الأرز وتخليق كربها سبب إفتح البحار من الجوف ① حيث استخرج المياه (٣ علامات) لجعل هضبة ② مصدر للتودد الطبيعي لسفري .

رقم الصفحة في الكتاب

السؤال الثالث : اذكر (٤ علامات)

- ١ - أربعاً من العلامات الناتجة عن الهجرة من الريف إلى المدينة
- ازدياد حجم السكان في المدن الكبرى - عدم توفر مساكن مناسبة
 - البطالة في حالة عدم توفر فرص العمل
 - الضغط على الخدمات والبنية التحتية في المدن - ضلوع في التوزيع السكاني داخل المدينة
- « يمكن ذكر ٤ علامات فقط »

- ٢ - لعوامل المؤثرة في تحديد الاتجاه الاقتصادي للسكان
- البطالة - حجم القوى العاملة
 - توزيع القوى العاملة على الأنشطة الاقتصادية

- ٣ - مظاهر مرحلة التورم الصناعي الثانية / ثورات ٢٥٩
- الحاسبات
 - التقدم العلمي والتكنولوجي في مجالات الخدم
 - تطور التكنولوجيا في قطاعي تجاري - تحسين نوعية الاتصالات وتكنولوجيا المعلومات
 - تحسين كفاءة واستخدام سعة مورد إلكتروني ولطاقة لتوفير
 - تسوية في استخدام الطاقة المتجددة - تطور عمليات الإنتاج
 - تطور تكنولوجيا طائرات الركاب - ظهور نوعين رئيسيين للحوامين والحوالين
- « يمكن ذكر أربعة مظاهر فقط مما سبقه »

- ٤ - أربع مظاهر للاقتصادية المدعم للدخل والاستثمار في
- ١ - إنتاج المواد القابلة
 - ٢ - زيادة الاعتماد على تصدير البترول كسلعة
 - ٣ - صناعة الخدم الفضية التي تنقل صوره تجارياً لتبنيها وطورها
 - ٤ - المحطات السياحية
 - ٥ - مراكز السياحة والسوق والتجارية
- « يمكن ذكر ثلاث مظاهر »

رقم الصفحة
في الكتاب

السؤال الرابع : (١٤ علامة)

مفرد هذا السؤال من (٧) فقرات ---

رقم السؤال	الإجابة الصحيحة	محل الإجابة	العلامة
١	د	توفير مزايا عمل	١٨٧
٢	أ	١.٥٤ / ذكور ، ١.٤٨ / إناث	٥٠٣
٣	ب	المحدد	٥٥٥
٤	ب	اندونيسيا	٥٢٤
٥	ب	جوهانسبرغ	٣٤٥
٦	د	إسرة الأورب	٥٥٦
٧	أ	العضيات	٥٩٥

رقم الصفحة
في الكتاب

(١. علامات)

السؤال الخامس
انظر خريطة العالم أعالن

٢١١

- دول مؤهبة لزيارة كنجيات بعصوية

علامة

(١) لا ريبين

علامة

(٢) المكسيك

٢٢٠

- دول مصدرة مستورد ريب كنجيات كنجيات

علامة

(٣) كندا

علامة

(٤) الولايات المتحدة

- دول تصير ريب لغوي العاملة بالقضاء الزراعي ريبا الى ريب

٢٤١

علامة

(٥) مصر

علامة

(٦) باكستان

٢٤٨

- دول ذات نسبة امية مرتفعة

علامة

(٧) الهند

علامة

(٨) موريشيا

١٩٦

- دول ذات زيادتهم صيدية موقوفة

(٩) استراليا

(١٠) فرنسا