

روضة ومدارس تقارب

الفصل الدراسي الأول

لعام 2021/2020

ورقة عمل



الإسم	
الصف	الأول الأساسي
التاريخ	12 \ 2021
المادة	رياضيات

السؤال الأول : أكتب مكونات العدد عشرة باستخدام خاصية التبديل

<input type="text"/>	و	<input type="text"/>	<input type="text"/>	و	<input type="text"/>	<input type="text"/>	و	<input type="text"/>	<input type="text"/>
<input type="text"/>	و	<input type="text"/>	<input type="text"/>	و	<input type="text"/>	<input type="text"/>	و	<input type="text"/>	<input type="text"/>

السؤال الثاني : أجمع ما يلي

$$7 + 7 = \boxed{}$$
$$4 + 8 = \boxed{}$$
$$1 + 0 + 9 = \boxed{}$$

$$6 + 0 = \boxed{}$$
$$4 + 9 = \boxed{}$$
$$2 + 3 + 5 = \boxed{}$$

10
8

<input type="text"/>

6
0

<input type="text"/>

4
4

<input type="text"/>

السؤال الثالث: أجمع على خط الأعداد

$3 + 6$

0 1 2 3 4 5 6 7 8 9 10 11 12

السؤال الرابع :

قرأت سلمى من القرآن الكريم , 5 آيات في اليوم الأول و 8 آيات في اليوم الثاني
كم آية قرأت سلمى في اليومين ؟



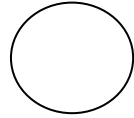
السؤال الخامس :

أرتب الأعداد التالية تصاعديا

----- ----- ----- 44 89 90

أرتب الأعداد التالية تازليا

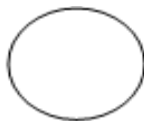
----- ----- ----- 32 51 98

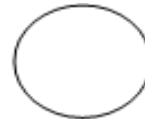


السؤال السادس : أكتب اشارة > أو < أو = في

21  21

35  36

46  49

18  88

أكتب العدد التالي السابق للأعداد التالية :

العدد التالي	العدد	العدد السابق
	89	
	70	
	66	

