



دوسية الرياضيات الصف الأول الأساسي الفصل الثاني



إعداد: رهام أبو عروق

اليوم:


التاريخ:

جمع الأعداد مع العدد عشرة 10

جد ناتج الجمع:

آحاد

عشرات



+

=

$1 + 10 = \square$

$5 + \square = 15$

$4 + 10 = \square$

$2 + \square = 12$

$7 + 10 = \square$

$\square + 10 = 14$

$3 + 10 = \square$

$\square + 10 = 18$

$9 + 10 = \square$

$\square + 10 = 10$

$5 + 10 = \square$

$8 + 10 = \square$

$6 + 10 = \square$

اليوم

التاريخ

جمع الأعداد من منزلتين عمودياً

أجمع :



$$\begin{array}{r} 17 \\ 82+ \\ \hline \end{array}$$

$$\begin{array}{r} 20 \\ 20+ \\ \hline \end{array}$$

$$\begin{array}{r} 90 \\ \quad 2+ \\ \hline \end{array}$$

$$\begin{array}{r} 14 \\ 73+ \\ \hline \end{array}$$

$$\begin{array}{r} 23 \\ 35+ \\ \hline \end{array}$$



$$\begin{array}{r} 75 \\ 12+ \\ \hline \end{array}$$

$$\begin{array}{r} 12 \\ 16+ \\ \hline \end{array}$$

$$\begin{array}{r} 20 \\ 70+ \\ \hline \end{array}$$

$$\begin{array}{r} 56 \\ 31+ \\ \hline \end{array}$$

$$\begin{array}{r} 77 \\ 11+ \\ \hline \end{array}$$



$$\begin{array}{r} 96 \\ \quad 2+ \\ \hline \end{array}$$

$$\begin{array}{r} 84 \\ 13+ \\ \hline \end{array}$$

$$\begin{array}{r} 62 \\ 10+ \\ \hline \end{array}$$


$$\begin{array}{r} 40 \\ 40+ \\ \hline \end{array}$$

$$\begin{array}{r} 35 \\ 53+ \\ \hline \end{array}$$



مكونات العدد 10

زَرَعَ عَامِرٌ 5 وَرَدَاتٍ، وَزَرَعَتْ رِيمٌ 5 وَرَدَاتٍ، كَمْ زَرَعَا مَعًا؟



$$5 + 5 = \square$$

جد ناتج ما يلي ثم لون الناتج 10 باللون الأحمر:

$$6 + 4 =$$

$$8 + 2 =$$

$$5 + 3 =$$

$$9 + 1 =$$

$$7 + 3 =$$

$$10 + 0 =$$

$$7 + \square = 10$$

$$6 + \square = 10$$



$$5 + \square = 10$$

$$9 + \square = 10$$

$$8 + \square = 10$$

الجمع ضمن 18

رَسَمَ فِرَاسٌ 8 تُفَاحَاتٍ ، وَرَسَمَتِ عَبِيرٌ 3 تُفَاحَاتٍ ، كَمَ رَسَمَا مَعًا ؟



$$8 + 3 = \square$$

جد ناتج ما يلي:

$$6 + 5 =$$

$$7 + 7 =$$

$$8 + 4 =$$

$$9 + 6 =$$

$$7 + 5 =$$

$$8 + 7 =$$

$$6 + 6 =$$

$$9 + 7 =$$

$$\begin{array}{r} 9 \\ \square + \\ \hline 13 \end{array}$$

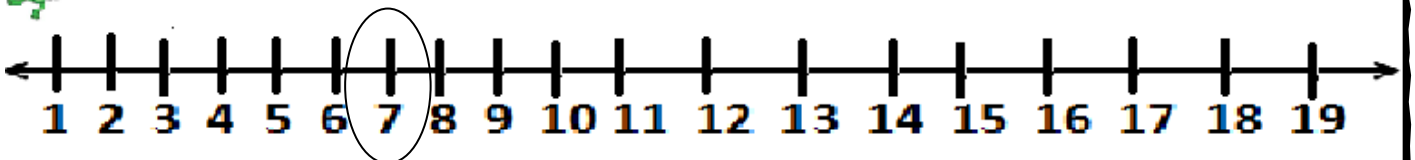
$$\begin{array}{r} 7 \\ \square + \\ \hline 12 \end{array}$$

$$\begin{array}{r} 7 \\ 4 + \\ \hline \end{array}$$

$$\begin{array}{r} 8 \\ 6 + \\ \hline \end{array}$$

$$7 + 5 = \square$$

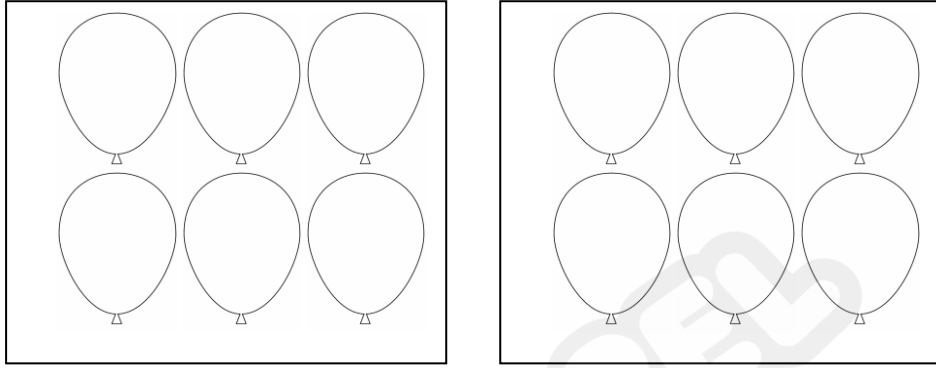
احمعه على خط الأعداد:



المضاعفة

المضاعفة: وتعني جمع العدد مع نفسه.

نَفِّحْ سَمِيرًا 6 بالونات حمراء , و 6 بالونات صفراء , كم بالونات نَفِّحْ ؟

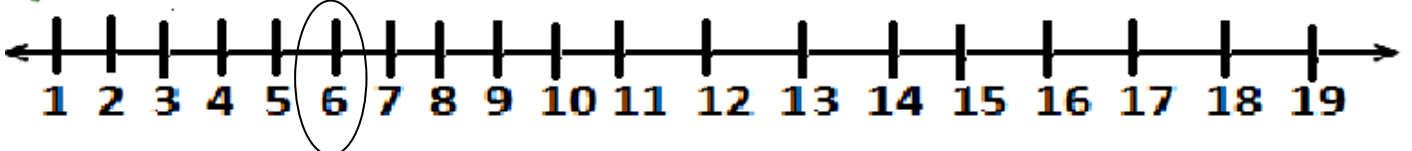


$$6 + 6 = \square$$

$2 + 2 =$	<input type="text"/>	$7 + 7 =$	<input type="text"/>
$3 + 3 =$	<input type="text"/>	$8 + 8 =$	<input type="text"/>
$1 + 1 =$	<input type="text"/>	$9 + 9 =$	<input type="text"/>
$5 + 5 =$	<input type="text"/>	$6 + 6 =$	<input type="text"/>
$4 + 4 =$	<input type="text"/>		


اجمع على خط الأعداد:

$$6 + 6 =$$

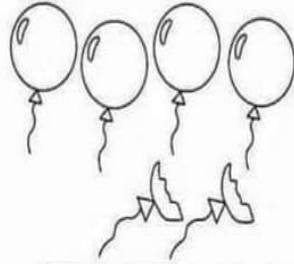


الطرح ضمن 10


انجز العمليات الاتية



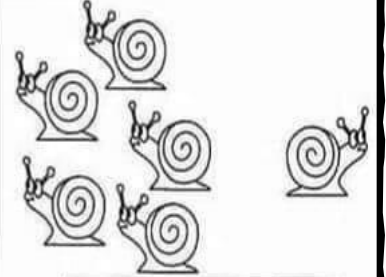
$$3 - 1 = \square$$



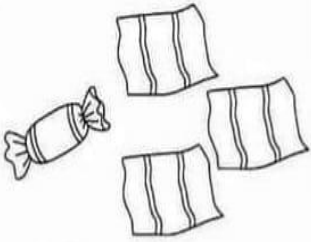
$$4 - 2 = \square$$



$$7 - 3 = \square$$



$$6 - 1 = \square$$



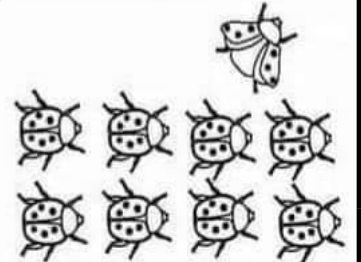
$$4 + 3 = \square$$




$$5 - 2 = \square$$




$$8 - 2 = \square$$




$$9 - 1 = \square$$



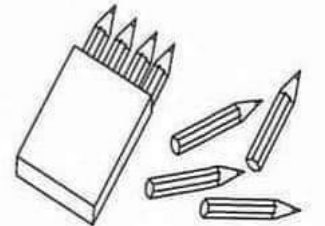
$$5 - 1 = \square$$



$$6 - 3 = \square$$



$$6 - 2 = \square$$




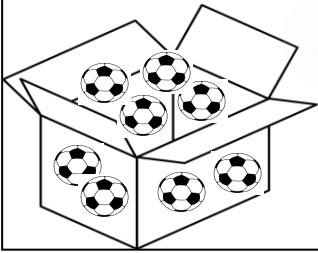
$$8 - 4 = \square$$



الطرح ضمن 10

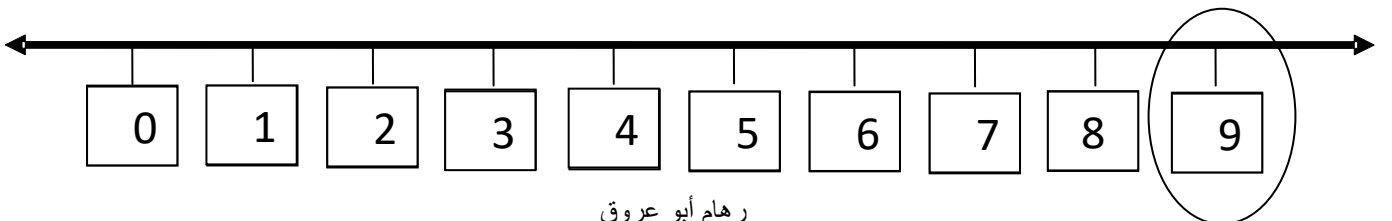
$5 - 2 =$ <input type="text"/>	$1 - 1 =$ <input type="text"/>
$6 - 3 =$ <input type="text"/>	$4 - 4 =$ <input type="text"/>
$9 - 5 =$ <input type="text"/>	$9 - 0 =$ <input type="text"/>
$8 - 7 =$ <input type="text"/>	$7 - 3 =$ <input type="text"/>
$8 - 3 =$ <input type="text"/>	$6 - 4 =$ <input type="text"/>

صندوق فيه 8  4 لونها أحمر والبقيّة لونها أصفر
ما عدد الكرات الصفراء؟



أطرح مُستخدِمًا خَطَّ الأعداد:


$$9 - 5 = \text{ }$$



الطرح ضمن 18

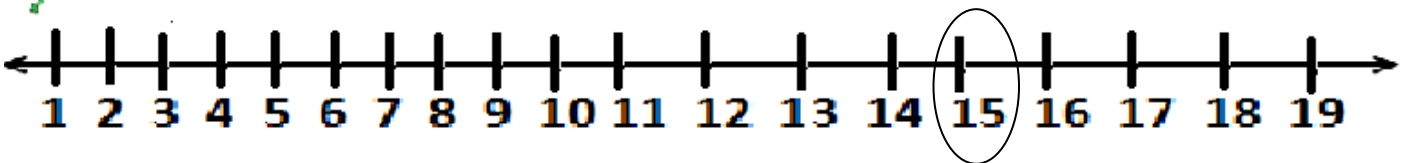
$15 - 7 =$ <input type="text"/>	$16 - 8 =$ <input type="text"/>
$11 - 5 =$ <input type="text"/>	$14 - 4 =$ <input type="text"/>
$18 - 5 =$ <input type="text"/>	$13 - 6 =$ <input type="text"/>
$17 - 7 =$ <input type="text"/>	$15 - 8 =$ <input type="text"/>
$12 - 5 =$ <input type="text"/>	$10 - 4 =$ <input type="text"/>

في المزرعة 19 بيضة، فقس منها 9، كم عدد الباقي؟



أطرح على خط الأعداد

$$15 - 5 = \text{ }$$





جمع منزلة مع منزلتين

الجمع بالعد تصاعديًا:

$35 + 3 = \square$

$49 + 2 = \square$



اجمع بالعد تصاعديًا:

$31 + 5 = \square$	$17 + 5 = \square$
$52 + 7 = \square$	$14 + 3 = \square$
$69 + 2 = \square$	$38 + 2 = \square$
$36 + 6 = \square$	$54 + 4 = \square$
$22 + 5 = \square$	$30 + 2 = \square$



التاريخ.....

اليوم.....

الطرح ضمن منزلتين

اطرح :

$$\begin{array}{r} 67 \\ 22 - \\ \hline \end{array}$$

$$\begin{array}{r} 50 \\ 40 - \\ \hline \end{array}$$

$$\begin{array}{r} 60 \\ 30 - \\ \hline \end{array}$$

$$\begin{array}{r} 88 \\ 42 - \\ \hline \end{array}$$

$$\begin{array}{r} 47 \\ 13 - \\ \hline \end{array}$$

$$\begin{array}{r} 75 \\ 42 - \\ \hline \end{array}$$

$$\begin{array}{r} 12 \\ 1 - \\ \hline \end{array}$$

$$\begin{array}{r} 77 \\ 75 - \\ \hline \end{array}$$

$$\begin{array}{r} 86 \\ 31 - \\ \hline \end{array}$$

$$\begin{array}{r} 39 \\ 18 - \\ \hline \end{array}$$

$$\begin{array}{r} 96 \\ 2 - \\ \hline \end{array}$$

$$\begin{array}{r} 84 \\ 13 - \\ \hline \end{array}$$

$$\begin{array}{r} 62 \\ 10 - \\ \hline \end{array}$$

$$\begin{array}{r} 40 \\ 40 - \\ \hline \end{array}$$

$$\begin{array}{r} 35 \\ 23 - \\ \hline \end{array}$$

اليوم

التاريخ

الجمل المفتوحة

قريبين جمع

$$\begin{array}{r} + \\ \square - 8 = 7 \\ \square - 4 = 9 \\ \square - 6 = 6 \end{array}$$

بعيدين طرح

$$14 - \square = 9$$

$$17 - \square = 7$$

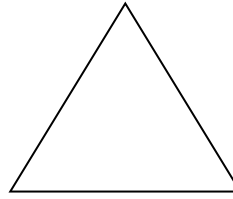


$$13 - \square = 6$$

الكسور

أرادت الأم أن تُقسم حبة شوكولاته بين مروان و ريان بالتساوي،
كم حصة كل منهما؟



قسم الأشكال التالية إلى النصف ثم لونه:



اكتب أنصاف الأعداد التالية:

	4
	6
	8
	2
	10

السؤال الأول : ارسم مؤشر الساعات والدقائق :




الثالثة



الثامنة



الخامسة



السابعة والنصف



الرابعة والنصف



الواحدة والنصف

