

التاريخ : 7 / 2 / 2021 م .

زمن الامتحان : 45 دقيقة .

25	علامة الاختبار

مدارس الجامعة الثانية



اختبار تشخيصي في مبحث
الرياضيات الفصل الدراسي الثاني

العام الدراسي 2021/ 2020

اسم الطالب:.....

الصف: الاول .

الشعبة: (.....) .




تعليمات ورقة الامتحان: تتكون ورقة الاختبار من (25) أسئلة مطبوعة في (4) صفحات، أجب عنها جميعاً

السؤال الأول : املاء الفراغ بالعدد المناسب :

				50			20		0
--	--	--	--	----	--	--	----	--	---

السؤال الثاني : أكتب بالأرقام الأعداد التي تعبر عن النماذج :



السؤال الثالث : استمع إلى معلمتي وهو يقرأ بالأعداد الآتية المكتوبة بالكلمات ثم أكتبها بالأرقام :

ثلاثة وتسعون

خمس وخمسون

ثمانية وسبعون

أربعة وثلاثون

تم التحميل من موقع الأوائل www.awa2el.net

السؤال الرابع: أ - حدد العدد الزوجي والعدد الفردي فيما يلي :



ب - رتب الاعداد تصاعديا :

17 ، 58 ، 34

رتب الأعداد تنازليا :

32 ، 20 ، 19

ج - أكتب العدد التالي للأعداد :




أكتب العدد السابق للأعداد :




تم التحميل من موقع الأوائل www.awa2el.net

السؤال الخامس: تأمل الشكل الآتي ثم ضع خطأ تحت البطة الأولى ، دائرة حول البطة الثالثة ، إشارة (×) على

البطة الأخيرة .



السؤال السادس: أحوظ الأشياء بحسب اللون والشكل :



السؤال السابع: أجد ناتج مايلي :

$$10 - 1 =$$

$$5 + 2 =$$

$$12 - 3 =$$

$$15 + 5 =$$

تم التحميل من موقع الأوائل www.awa2el.net

السؤال الثامن : أكتب > ، أو < ، أو =

1-

2-

3-

انتهت الأسئلة .

دعاؤنا لكم جميعا بالنجاح والتوفيق .

اعداد قسم الاساسي

توقيع المديرية :

توقيع المنسقة: