

الصفحة: الثاني

التقويم الأول لمادة الرياضيات

25

العلامة النهائية

اسم الطالب: .....

ملاحظة: أجب عن جميع الأسئلة وعددها ( 7 ) على نفس ورقة الامتحان علماً بأن عدد الصفحات ( 4 ) .

( 4 علامات )

السؤال الأول: أملأ الفراغ بما يناسبه :



كم عدد المجموعات ؟ ..... كم عدد العناصر في كل مجموعة ؟ .....

جملة الجمع المتكرر هي : .....

جملة الضرب هي : .....

السؤال الثاني: أرسم 5 مجموعات , في كل مجموعة 3 نجومات ؟ ( 3 علامات )

( علامتين )

السؤال الثالث : اختار الإجابة الصحيحة :

( أ ) أحوط جملة الضرب التي تمثل :  $5+5+5+5 =$

$6 \times 5$

$4 \times 5$

$5 \times 5$

( ب ) أحوط جملة الجمع المناسبة :  $4 \times 2$

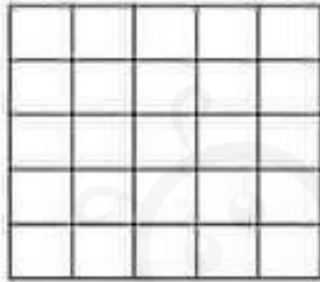
$4+4$

$2+2+2+2$

$4+2$


( 4 علامات )

السؤال الرابع : ألون الشبكة و أكتب جملة الضرب :



5 صفوف في كل منها 4

.....



3 صفوف في كل منها 2


.....

السؤال الخامس : اكتب جملة الضرب التي تدل على الصور الآتية : ( 6 علامات )

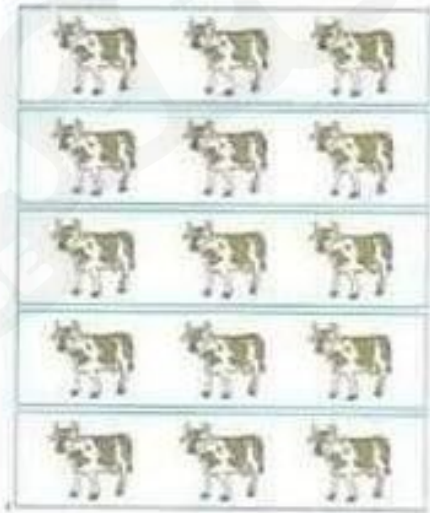
.....



.....



.....



.....



( 3 علامات )

السؤال السادس : أكمل الفراغ :

$9 \times 3 = \dots\dots$

$8 \times 2 = \dots\dots$

$1 \times 4 = \dots\dots$

$6 \times 5 = \dots\dots$

$3 \times 5 = \dots\dots$

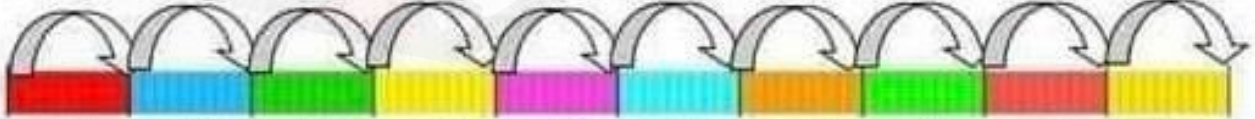
$7 \times 4 = \dots\dots$

( 3 علامات )

السؤال السابع : أكمل خط الأعداد :



+4 +4 +4 +4



0	4	8							
---	---	---	--	--	--	--	--	--	--